



Copia

47802-4  
65310

SERIE DE COMPENDIOS SCHAUM

TEORIA Y PROBLEMAS

DE

TRIGONOMETRIA

Plana y Esférica

FRANK AYRES, JR., Ph. D.  
Profesor y Jefe del Departamento  
de Matemática del  
*BWCE* Dickinson College

UP THE IRONS!!

TRADUCCION Y ADAPTACION  
ANTONIO LINARES

Profesor de Matemáticas de la Universidad del Valle  
Cali

McGRAW-HILL

Bogotá, Buenos Aires, Caracas, Guatemala, Lisboa, Madrid, México,  
Nueva York, Panamá, San Juan, Sao Paulo,  
Auckland, Hamburgo, Londres, Montreal, Nueva Delhi, París,  
San Francisco, San Luis, Sidney, Tokio, Toronto.

RESERVADOS TODOS LOS DERECHOS (D. R.)

Copyright © 1970, por EDITORIAL McGRAW-HILL LATINOAMERICANA, S.A.  
Bogotá, Colombia

Ni este libro ni parte de él puede ser reproducido o transmitido de alguna forma o por algún medio electrónico o mecánico, incluyendo fotocopia o grabación, o por cualquier otro sistema de memoria o archivo, sin el permiso escrito del editor.

Traducido de la primera edición de TRIGONOMETRY  
Theory and Problems

Copyright © 1954, by Mc GRAW-HILL BOOK COMPANY, INC., U.S.A.  
ISBN 968-451-176-0

1234567890

9123456780

*Impreso en Colombia*

*Printed in Colombia*

Se imprimieron 5.000 Ejemplares en el mes de Julio de 1990.

Impresor: FORMAS e IMPRESOS PANAMERICANA, Bogotá, Colombia

10167

514  
Ay 74T  
(BC)

Tabla de materias

CAPÍTULO	PÁGINA
1. Definiciones y notaciones de base	1
2. Relaciones trigonométricas de un triángulo	2
3. Funciones trigonométricas de los ángulos agudos	3

### Prólogo

El propósito fundamental de este libro es servir de ayuda a los que se inician en el estudio de la trigonometría y para ello les presenta una colección de **problemas** representativos, completamente resueltos. Al mismo tiempo, el arreglo del material que contiene es tal que servirá como un manual práctico para quienes deseen repasar los principios fundamentales y sus aplicaciones.

El libro, aunque completo, no se ha escrito en el estilo formal de los libros de texto. Cada capítulo contiene un compendio de las definiciones y teoremas necesarios, seguido de un conjunto de ejercicios cuya dificultad se ha graduado debidamente. Las demostraciones de los teoremas y las deducciones de las fórmulas se incluyen entre los problemas resueltos. Estos, a su vez, van seguidos por un conjunto de problemas propuestos con sus respuestas.

Los aspectos numéricos de la trigonometría plana se han tratado ampliamente. Igual atención se ha prestado a las soluciones logarítmicas y no-logarítmicas de los triángulos rectángulos y oblicuángulos. Las aplicaciones son muchas y diversas. Las figuras se han trazado y rotulado cuidadosamente para mayor utilidad; las respuestas se han redondeado de acuerdo con los datos.

Las más sencillas identidades y ecuaciones requieren un conocimiento de álgebra elemental. Los problemas se han seleccionado cuidadosamente, se han explicado con todo detalle las soluciones, y todo el material se ha dispuesto de modo que ilustre claramente tanto los procesos algebraicos como el uso de las relaciones trigonométricas básicas.

Los capítulos dedicados a la trigonometría esférica están precedidos de un capítulo sobre geometría del espacio. La teoría y las fórmulas necesarias para resolver triángulos esféricos rectángulos y oblicuángulos se han explanado suficientemente e incluyen el uso del semisenoverso y de los métodos del triángulo rectángulo para resolver triángulos oblicuángulos. Las aplicaciones consisten en problemas relacionados con rumbo y distancia sobre la superficie de la Tierra y en algunos problemas relativos a la esfera celeste.

Frank Ayres, Jr.

Biblio 5-8-94

222728

## Tabla de materias

CAPITULO	PAGINA
1. Angulos y longitudes de arco .....	1
2. Funciones trigonométricas de un ángulo cualquiera .....	8
3. Funciones trigonométricas de un ángulo agudo .....	19
4. Tablas de funciones trigonométricas — Resolución de triángulos rectángulos .....	25
5. Aplicaciones prácticas .....	32
6. Logaritmos .....	41
7. Resolución logarítmica de triángulos rectángulos .....	49
8. Reducciones a funciones de ángulos agudos positivos .....	54
9. Variaciones y gráficas de las funciones trigonométricas .....	61
10. Relaciones fundamentales e identidades .....	67
11. Funciones trigonométricas de dos ángulos .....	73
12. Fórmulas para sumas, diferencias y productos .....	83
13. Triángulos oblicuángulos. Resolución no-logarítmica .....	87
14. Resolución logarítmica de triángulos oblicuángulos .....	100
15. Areas. Radios de las circunferencias inscrita y circunscrita .....	108
16. Funciones trigonométricas inversas .....	117
17. Ecuaciones trigonométricas .....	124
18. Números complejos .....	133
19. Conceptos sobre geometría del espacio .....	144
20. Triángulos esféricos rectángulos .....	152
21. Triángulos esféricos oblicuángulos .....	164
22. Triángulos esféricos oblicuángulos — Soluciones alternas .....	176
23. Rumbo y distancia .....	184
24. La esfera celeste .....	194
INDICE .....	201

## CAPITULO 1

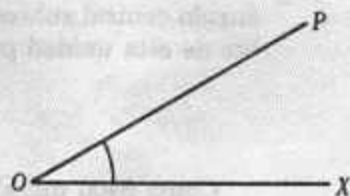
### Angulos y longitudes de arco

LA TRIGONOMETRIA, como lo sugiere la misma palabra, trata de las mediciones de las partes o elementos de un triángulo. La trigonometría plana, que se estudiará en varios de los capítulos siguientes, se limita a los triángulos contenidos en los planos. La trigonometría esférica estudia ciertos ángulos trazados sobre esferas.

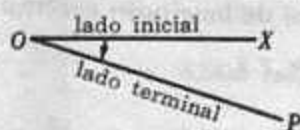
La trigonometría se basa en algunas relaciones, llamadas funciones trigonométricas, que se definirán en el capítulo siguiente. Las primeras aplicaciones de la trigonometría se hicieron en la agrimensura, la navegación y la ingeniería. Estas funciones también desempeñan un papel importante en toda clase de fenómenos vibratorios (sonido, luz, electricidad, etc.). En consecuencia, una gran parte de esta materia se dedica al estudio de las propiedades de las funciones trigonométricas y de las relaciones entre ellas.

EL ANGULO PLANO  $XOP$  está formado por las dos semi-rectas secantes  $OX$  y  $OP$ . El punto  $O$  es el *vértice* del ángulo, y las semi-rectas son los lados del ángulo.

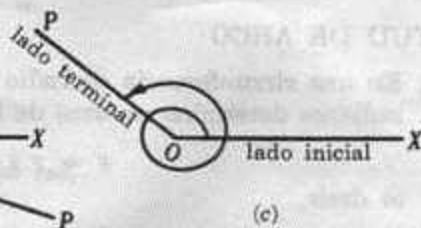
Más aún, se puede suponer que un ángulo plano se genera mediante un giro (en un plano) de una semi-recta desde una posición inicial  $OX$  hasta una posición terminal  $OP$ . Así, el punto  $O$  sigue siendo el vértice,  $OX$  es el *lado inicial* y  $OP$  el *lado terminal*.



(a)



(b)



(c)

Un ángulo así generado es *positivo* si el sentido del giro (indicado por una flecha curvilínea) es contrario al de las agujas de un reloj, y *negativo* si el sentido del giro es el mismo de las agujas de un reloj. Los ángulos de las figuras (a) y (c) son positivos; el de la figura (b) es negativo.

#### MEDIDAS DE ANGULOS

A. Se define un *grado* ( $^{\circ}$ ) como la medida del ángulo central subtendido por un arco igual a  $1/360$  de la circunferencia.

Un *minuto* ( $'$ ) es  $1/60$  de un grado; un *segundo* ( $''$ ) es  $1/60$  de un minuto.

EJEMPLO 1. a)  $\frac{1}{4}(36^{\circ}24') = 9^{\circ}6'$       b)  $\frac{1}{2}(127^{\circ}24') = \frac{1}{2}(126^{\circ}84') = 63^{\circ}42'$

c)  $\frac{1}{2}(81^{\circ}15') = \frac{1}{2}(80^{\circ}75') = 40^{\circ}37,5'$  o  $40^{\circ}37'30''$

d)  $\frac{1}{4}(74^{\circ}29'20'') = \frac{1}{4}(72^{\circ}149'20'') = \frac{1}{4}(72^{\circ}148'80'') = 18^{\circ}37'20''$

- B. Se define un *radián* (rad) como la medida del ángulo central subtendido por un arco cuya longitud es igual a la del radio de la circunferencia.

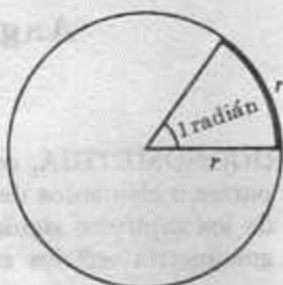
La longitud de la circunferencia =  $2\pi$  (radios) y subtendiendo un ángulo de  $360^\circ$ . Entonces,  $2\pi$  radianes =  $360^\circ$ , de donde,

$$1 \text{ radián} = \frac{180^\circ}{\pi} = 57,296^\circ = 57^\circ 17' 45'' \quad \text{y}$$

$$1 \text{ grado} = \frac{\pi}{180} \text{ radián} = 0,017453 \text{ rad, aprox.,}$$

donde  $\pi = 3,14159$ .

EJEMPLO 2. a)  $\frac{7}{12} \pi \text{ rad} = \frac{7\pi}{12} \cdot \frac{180^\circ}{\pi} = 105^\circ$       b)  $50^\circ = 50 \cdot \frac{\pi}{180} \text{ rad} = \frac{5\pi}{18} \text{ rad.}$



(Véanse los problemas 1-3.)

- C. Se define un *mil*, unidad utilizada en los estudios militares, como la medida del ángulo central subtendido por un arco igual a  $1/6400$  de la circunferencia. El nombre de esta unidad proviene de que, aproximadamente,

$$1 \text{ mil} = \frac{1}{1000} \text{ radián.}$$

$$\text{Como } 6400 \text{ miles} = 360^\circ, 1 \text{ mil} = \frac{360^\circ}{6400} = \frac{9^\circ}{160} \text{ y } 1^\circ = \frac{160}{9} \text{ miles.}$$

(Véanse los problemas 14-16.)

## LONGITUD DE ARCO

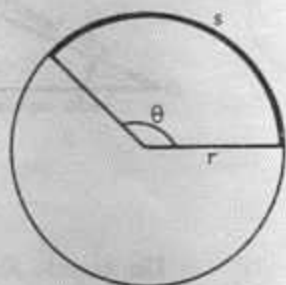
- A. En una circunferencia de radio  $r$ , un ángulo central de  $\theta$  radianes determina un arco de longitud

$$s = r\theta,$$

es decir,

longitud de arco = radio  $\times$  ángulo central en radianes.

(Nota.  $s$  y  $r$  pueden medirse en cualquier unidad conveniente, pero deben expresarse en la misma unidad.)



- EJEMPLO 3. a) La longitud del arco determinado por un ángulo central de  $1/3$  radianes en una circunferencia de 30 pulgadas de radio es

$$s = r\theta = 30 \left(\frac{1}{3}\right) = 10 \text{ pulgadas.}$$

- b) En la misma circunferencia un ángulo central de  $50^\circ$  determina un arco cuya longitud es

$$s = r\theta = 30 \left(\frac{5\pi}{18}\right) = \frac{25\pi}{3} \text{ pulgadas.}$$

- c) En la misma circunferencia un arco cuya longitud es de  $1\frac{1}{2}$  pies subtendiendo un ángulo central.

$$\theta = \frac{s}{r} = \frac{18}{30} = \frac{3}{5} \text{ rad, cuando } s \text{ y } r \text{ se expresan en pulgadas,}$$

$$\theta = \frac{s}{r} = \frac{3/2}{5/2} = \frac{3}{5} \text{ rad, cuando } s \text{ y } r \text{ se expresan en pies.}$$

(Véanse los problemas 4-13.)

- B. Si el ángulo central es relativamente pequeño, se puede tomar la longitud del arco como un valor aproximado de la longitud de la cuerda correspondiente.



Ahora, puesto que  $\theta$  rad = 1000  $\theta$  miles y  $s = r \theta = \frac{r}{1000} (1000 \theta)$ , se sigue que

longitud de la cuerda =  $\frac{r}{1000}$  (ángulo central en miles), aproximadamente.

En los estudios militares, la igualdad anterior se expresa mediante la fórmula  $W = Rm$ , donde  $m$  es el ángulo central expresado en miles,  $R$  es el radio (alcance) expresado en miles de yardas, y  $W$  es la cuerda (abertura) expresada en yardas.

(Véanse los problemas 17-19.)

## PROBLEMAS RESUELTOS

1. Expresar en radianes cada uno de los ángulos siguientes:

a)  $30^\circ$ , b)  $135^\circ$ , c)  $25^\circ 30'$ , d)  $42^\circ 24' 35''$ .

Como  $1^\circ = \frac{\pi}{180}$  radián = 0,017453 rad,

$$a) \quad 30^\circ = 30 \times \frac{\pi}{180} \text{ rad} = \frac{\pi}{6} \text{ rad} \text{ o } 0,5236 \text{ rad,}$$

$$b) \quad 135^\circ = 135 \times \frac{\pi}{180} \text{ rad} = \frac{3\pi}{4} \text{ rad} \text{ o } 2,3562 \text{ rad,}$$

$$c) \quad 25^\circ 30' = 25,5^\circ = 25,5 \times \frac{\pi}{180} \text{ rad} = 0,4451 \text{ rad,}$$

$$d) \quad 42^\circ 24' 35'' = 42^\circ + \left(\frac{24 \times 60 + 35}{3600}\right)^\circ = 42,41^\circ = 42,41 \times \frac{\pi}{180} \text{ rad} = 0,7402 \text{ rad.}$$

2. Expresar en grados, minutos y segundos cada uno de los ángulos siguientes:

a)  $\pi/3$  rad, b)  $5\pi/9$  rad, c)  $2/5$  rad, d)  $4/3$  rad.

Puesto que  $1 \text{ rad} = \frac{180^\circ}{\pi} = 57^\circ 17' 45''$ ,

$$a) \quad \frac{\pi}{3} \text{ rad} = \frac{\pi}{3} \times \frac{180^\circ}{\pi} = 60^\circ, \quad b) \quad \frac{5\pi}{9} \text{ rad} = \frac{5\pi}{9} \times \frac{180^\circ}{\pi} = 100^\circ,$$

$$c) \quad \frac{2}{5} \text{ rad} = \frac{2}{5} \times \frac{180^\circ}{\pi} = \frac{72^\circ}{\pi} \text{ o } \frac{2}{5} (57^\circ 17' 45'') = 22^\circ 55' 6'',$$

$$d) \quad \frac{4}{3} \text{ rad} = \frac{4}{3} \times \frac{180^\circ}{\pi} = \frac{240^\circ}{\pi} \text{ o } \frac{4}{3} (57^\circ 17' 45'') = 76^\circ 23' 40''.$$

3. Una rueda gira a razón de 48 rpm (revoluciones por minuto o rev/min). Expresar esta velocidad angular en a) rev/seg, b) rad/min, c) rad/seg.



$$a) 48 \text{ rev/min} = \frac{48}{60} \text{ rev/seg} = \frac{4}{5} \text{ rev/seg}$$

$$b) \text{ Como } 1 \text{ rev} = 2\pi \text{ rad, } 48 \text{ rev/min} = 48(2\pi) \text{ rad/min} = 301,6 \text{ rad/min}$$

$$c) 48 \text{ rev/min} = \frac{4}{5} \text{ rev/seg} = \frac{4}{5} (2\pi) \text{ rad/seg} = 5,03 \text{ rad/seg}$$

$$o \quad 48 \text{ rev/min} = 96\pi \text{ rad/min} = \frac{96\pi}{60} \text{ rad/seg} = 5,03 \text{ rad/seg.}$$

4. El minutero de un reloj mide 12 cm. ¿Qué distancia recorre la punta del minutero durante 20 minutos?

En 20 minutos la aguja describe un ángulo de  $\theta = 120^\circ = 2\pi/3$  rad y la punta de la aguja recorre una distancia de  $s = r\theta = 12(2\pi/3) = 8\pi$  cm = 25,1 cm.

5. Un ángulo central determina un arco de 6 cm en una circunferencia de 30 cm de radio. Expresar el ángulo central  $\theta$  en radianes y en grados.

$$\theta = \frac{s}{r} = \frac{6}{30} = \frac{1}{5} \text{ rad} = 11^\circ 27' 33''$$

6. Una vía férrea ha de describir un arco de circunferencia. ¿Qué radio hay que utilizar si la vía tiene que cambiar su dirección en  $25^\circ$  en un recorrido de 120 m?

Se pide encontrar el radio de una circunferencia tal que un ángulo central  $\theta = 25^\circ = 5\pi/36$  rad determine un arco de 120 m. Entonces

$$r = \frac{s}{\theta} = \frac{120}{5\pi/36} = \frac{864}{\pi} \text{ m} = 275 \text{ m.}$$

7. Un tren se mueve a razón de 8 millas por hora (mi/hr) sobre una vía circular cuyo radio mide 2500 pies. ¿Qué ángulo describe en un minuto? (1 milla = 5280 pies).

Puesto que  $8 \text{ mi/hr} = \frac{8(5280)}{60} \text{ pies/min} = 704 \text{ pies/min}$ , recorre un arco de longitud  $s = 704$  pies

en un minuto. Entonces  $\theta = \frac{s}{r} = \frac{704}{2500} = 0,2816 \text{ rad}$  o  $16^\circ 8'$ .

8. Supóngase que la Tierra es una esfera de 3960 millas de radio. Encontrar la distancia que hay desde el ecuador hasta un punto situado a  $36^\circ\text{N}$  de latitud.

Puesto que  $36^\circ = \frac{\pi}{5}$  radián,  $s = r\theta = 3960(\frac{\pi}{5}) = 2488$  millas.

9. La distancia entre dos ciudades situadas en un mismo meridiano es de 270 kilómetros. Encontrar su diferencia de latitud.

$$\theta = \frac{s}{r} = \frac{270}{3960} = \frac{3}{44} \text{ rad} \text{ o } 3^\circ 54,4'.$$

10. Una rueda de 4 pies de diámetro gira a razón de 80 rpm. Encontrar (en pies) la distancia que recorre en un segundo un punto de borde de la rueda; esto es, la velocidad lineal del punto (en pies/seg).

$$80 \text{ rpm} = 80 \left(\frac{2\pi}{60}\right) \text{ rad/seg} = \frac{8\pi}{3} \text{ rad/seg.}$$

Entonces, en un segundo la rueda describe un ángulo  $\theta = 8\pi/3$  rad y un punto del borde recorre una distancia  $s = r\theta = 2(8\pi/3)$  pies = 16,8 pies. La velocidad lineal es de 16,8 pies/seg.

11. Encontrar el diámetro de una polea que gira a razón de 360 rpm movida por una correa de 40 pies/seg.

$$360 \text{ rev/min} = 360 \left(\frac{2\pi}{60}\right) \text{ rad/seg} = 12\pi \text{ rad/seg.}$$

Entonces, en un segundo la polea describe un ángulo  $\theta = 12\pi$  rad y un punto del borde recorre una distancia  $s = 40$  pies.

$$d = 2r = 2\left(\frac{s}{\theta}\right) = 2\left(\frac{40}{12\pi}\right) \text{ pies} = \frac{20}{3\pi} \text{ pies} = 2,12 \text{ pies.}$$

12. Un punto del borde de una rueda hidráulica de 10 pies de diámetro se mueve con una velocidad lineal de 45 pies/seg. Encontrar la velocidad angular de la rueda en rad/seg y en rev/seg.

En un segundo un punto del borde recorre una distancia  $s = 45$  pies. Entonces, en un segundo la rueda describe un ángulo  $\theta = s/r = 45/5 = 9$  radianes, y su velocidad angular es 9 rad/seg.

$$\text{Puesto que } 1 \text{ rev} = 2\pi \text{ rad o } 1 \text{ rad} = \frac{1}{2\pi} \text{ rev, } 9 \text{ rad/seg} = 9\left(\frac{1}{2\pi}\right) \text{ rev/seg} = 1,43 \text{ rev/seg.}$$

13. Determinar la velocidad de la Tierra (en mi/seg) en su recorrido alrededor del Sol. Supóngase que la órbita terrestre es una circunferencia de 93.000.000 millas de radio, y que un año = 365 días.

En 365 días la Tierra recorre una distancia de  $2\pi r = 2(3,14)(93.000.000)$  millas.

En un segundo recorrerá una distancia de  $s = \frac{2(3,14)(93.000.000)}{365(24)(60)(60)}$  millas = 18,5 millas. Su velocidad es de 18,5 mi/seg.

14. Expresar cada uno de los siguientes ángulos en miles: a)  $18^\circ$ , b)  $16^\circ 20'$ , c) 0,22 rad, d) 1,6 rad.

Puesto que  $1^\circ = \frac{160}{9}$  miles y 1 rad = 1000 miles,

$$a) 18^\circ = 18\left(\frac{160}{9}\right) \text{ miles} = 320 \text{ miles,}$$

$$b) 16^\circ 20' = \frac{49}{3}\left(\frac{160}{9}\right) \text{ miles} = 290 \text{ miles}$$

$$c) 0,22 \text{ rad} = 0,22(1000) \text{ miles} = 220 \text{ miles}$$

$$d) 1,6 \text{ rad} = 1,6(1000) \text{ miles} = 1600 \text{ miles.}$$

15. Expresar en grados y radianes cada uno de los ángulos siguientes: a) 40 miles, b) 100 miles.

Puesto que  $1 \text{ mil} = \frac{9^\circ}{160} = 0,001 \text{ rad,}$

$$a) 40 \text{ miles} = 40\left(\frac{9^\circ}{160}\right) = 2^\circ 15' \text{ y } 40 \text{ miles} = 40(0,001) \text{ rad} = 0,04 \text{ rad,}$$

$$b) 100 \text{ miles} = 100\left(\frac{9^\circ}{160}\right) = 5^\circ 37,5' \text{ y } 100 \text{ miles} = 100(0,001) \text{ rad} = 0,1 \text{ rad.}$$

16. Demostrar que un mil = 0,001 radián, aproximadamente.

$$1 \text{ mil} = \frac{2\pi}{6400} \text{ rad} = \frac{3,14159}{3200} \text{ rad} = 0,00098175 \text{ rad o, aproximadamente, } 0,001 \text{ rad.}$$

17. A una distancia de 5000 yardas una batería cubre un ángulo de 15 miles. Encontrar el campo de abertura de la batería.

$$R = \frac{5000}{1000} = 5, \quad m = 15, \quad \text{y} \quad W = Rm = 5(15) = 75 \text{ yardas.}$$

18. Desde un punto de observación en la costa, un barco de 360 pies de longitud subtende un ángulo de 40 miles. Encontrar la distancia entre la costa y el barco.

$$W = 360 \text{ pies} = 120 \text{ yardas}, m = 40, \text{ y } R = W/m = 120/40 = 3.$$

La distancia buscada es de 3000 yardas.

19. Se observa que una granada explota a 200 yardas a la izquierda del blanco. ¿Qué corrección angular debe hacerse si el blanco se encuentra a una distancia de a) 5000 yardas y b) 7500 yardas?

a) La corrección es  $m = W/R = 200/5 = 40$  miles, a la derecha.

b) La corrección es  $m = W/R = 200/7,5 = 27$  miles, a la derecha.

### PROBLEMAS PROPUESTOS

20. Expresar en radianes cada uno de los ángulos siguientes:

a)  $25^\circ$ , b)  $160^\circ$ , c)  $75^\circ 30'$ , d)  $112^\circ 40'$ , e)  $12^\circ 12' 20''$ .

Resp. a)  $5\pi/36$  rad o  $0,4363$  rad      c)  $151\pi/360$  rad o  $1,3177$  rad      e)  $0,2130$  rad

b)  $8\pi/9$  rad o  $2,7925$  rad      d)  $169\pi/270$  rad o  $1,9664$  rad

21. Expresar en grados cada uno de los ángulos siguientes:

a)  $\pi/4$  rad,      b)  $7\pi/10$  rad,      c)  $5\pi/6$  rad,      d)  $1/4$  rad,      e)  $7/5$  rad.

Resp. a)  $45^\circ$ ,      b)  $126^\circ$ ,      c)  $150^\circ$ ,      d)  $14^\circ 19' 26''$ ,      e)  $80^\circ 12' 51''$

22. Dada la circunferencia de 24 pulgadas de radio encontrar la longitud del arco subtendido por un ángulo central a) de  $2/3$  rad, b) de  $3\pi/5$  rad c) de  $75^\circ$ , d) de  $130^\circ$ .

Resp. a) 16 pul,      b)  $14,4\pi$  ó 45,2 pul,      c)  $10\pi$  ó 31,4 pul,      d)  $52\pi/3$  ó 54,5 pul

23. Una circunferencia tiene un radio de 30 pulgadas. ¿Cuántos radianes mide un ángulo central subtendido por un arco a) de 30 pul, b) de 20 pul, c) de 50 pul?

Resp. a) 1 rad,      b)  $2/3$  rad,      c)  $5/3$  rad

24. Encontrar el radio de una circunferencia tal que un arco de 15 cm de longitud subtende un ángulo central a) de 1 rad, b) de  $2/3$  rad, c) de 3 rad, d) de  $20^\circ$ , e) de  $50^\circ$ .

Resp. a) 15 cm,      b) 22,5 cm,      c) 5 cm,      d) 43,0 cm,      e) 17,2 cm

25. El extremo de un péndulo de 40 cm de longitud describe un arco de 5 cm. ¿Cuál es el ángulo de oscilación del péndulo? Resp.  $1/8$  rad ó  $7^\circ 9' 43''$

26. Un tren se mueve a razón de 12 mi/hr por una vía curvilínea de 3000 pies de radio. ¿Qué ángulo recorre en un minuto? Resp.  $0,352$  rad ó  $20^\circ 10'$

27. Un tramo de una vía férrea curvilínea está formado por dos arcos sucesivos. El primer arco corresponde a un ángulo central de  $20^\circ$  con un radio de 2500 pies, y el segundo corresponde a un ángulo central de  $25^\circ$  con un radio de 3000 pies. Encontrar la longitud total de los dos arcos.

Resp.  $6250\pi/9$  pies ó 2182 pies

28. Un volante de 10 pulgadas de radio gira a razón de 900 rpm. ¿A qué velocidad, en pies/seg. se mueve un punto del borde del volante? *Resp.* 78,5 pies/seg
29. La rueda de un automóvil tiene 30 pul de diámetro. ¿Con qué rapidez (rpm) gira la rueda alrededor de su eje cuando el automóvil mantiene una velocidad de 45 mi/hr? *Resp.* 504 rpm
30. Al amolar ciertas herramientas, la velocidad lineal de la muela no debe exceder de 6000 pies/seg. Encontrar el máximo número de revoluciones por segundo a) de una muela de 12 pulgadas de diámetro, b) de una muela de 8 pulgadas de diámetro.  
*Resp.* a)  $6000/\pi$  rev/seg o 1910 rev/seg, b) 2865 rev/seg
31. Si la rueda de un automóvil, de 32 pulgadas de diámetro, gira a razón de 800 rpm, ¿cuál es, en mi/hr, la velocidad del automóvil? *Resp.* 76,2 mph
32. Expresar en miles cada uno de los ángulos siguientes: a)  $45^\circ$ , b)  $10^\circ 15'$ , c) 0,4 rad, d) 0,06 rad.  
*Resp.* a) 800 miles, b) 182 miles, c) 400 miles, d) 60 miles
33. Expresar en grados y en radianes cada uno de los ángulos siguientes: a) 25 miles, b) 60 miles, c) 110 miles.  
*Resp.* a)  $1^\circ 24'$  y 0,025 rad, b)  $3^\circ 22'$  y 0,06 rad, c)  $6^\circ 11'$  y 0,11 rad
34. La pared lateral de un hangar situado a 1750 yardas subtiende un ángulo de 40 miles. ¿Cuál es la longitud de la pared? *Resp.* 70 yardas
35. Un globo aerostático de 120 pies de largo está suspendido directamente sobre un punto de observación. Si el ángulo subtendido por el globo es de 50 miles, ¿a qué altura se encuentra? *Resp.* 800 yardas
36. Desde un bote que se encuentra en el mar, se observa que el ángulo de elevación de un risco es de 12 miles. Si se sabe que la altura del risco es de 90 pies, ¿a qué distancia del risco está situado el bote?  
*Resp.* 2500 yardas
37. Una colina, cuya altura es de 180 pies, subtiende un ángulo de 30 miles al ser observada desde un punto situado en el terreno llano. Desde el mismo punto de observación, se divisa, en la falda de la colina, una trinchera de artillería con un ángulo de elevación de 12 miles. ¿A qué altura, sobre la base de la colina, se encuentra la trinchera? *Resp.* 72 pies

## CAPITULO 2

### Funciones trigonométricas de un ángulo cualquiera

**ESCALA NUMERICA.** Una *recta dirigida* es una recta en la que se han señalado dos sentidos: uno positivo y otro negativo. El sentido positivo se indica con una flecha.

Se determina una *escala numérica* cuando se escogen un punto  $O$  (véase la Fig. 2-A), llamado *origen*, y una unidad de medida  $OA = 1$ , en una recta dirigida. En esta escala,  $B$  está situado a 4 unidades a la derecha de  $O$  (esto es, en el sentido positivo a partir de  $O$ ) y  $C$  está a dos unidades a la izquierda de  $O$  (esto es, en el sentido negativo a partir de  $O$ ).

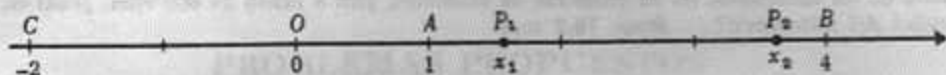


FIG. 2-A

La distancia dirigida  $OB = +4$  y la distancia dirigida  $OC = -2$ . Es importante observar que, puesto que la recta está dirigida,  $OB \neq BO$  y  $OC \neq CO$ . La distancia dirigida  $BO = -4$ , porque se mide en sentido contrario al que se ha tomado como positivo, y la distancia dirigida  $CO = +2$ . Entonces  $CB = CO + OB = 2 + 4 = 6$  y  $BC = BO + OC = -4 + (-2) = -6$ .

**UN SISTEMA DE COORDENADAS RECTANGULARES** en un plano consiste en dos escalas numéricas (llamadas *ejes*), una horizontal y otra vertical, cuyo punto de intersección (origen) es el origen de cada escala. Es costumbre escoger el sentido positivo de cada eje tal como se indica en la figura, esto es, positivo hacia la derecha en el eje horizontal o eje de las  $x$ , y positivo hacia arriba en el eje vertical o eje de las  $y$ . Por conveniencia se toma la misma unidad de medida en ambos ejes.

En un sistema de esta clase, la posición de un punto cualquiera  $P$  en el plano queda determinado por sus distancias dirigidas, llamadas *coordenadas*, a los ejes. La coordenada  $x$  o *abscisa* de un punto  $P$  (véase la Fig. 2-B) es la distancia dirigida  $BP = OA$  y la coordenada  $y$  u *ordenada* es la distancia dirigida  $AP = OB$ . Un punto  $P$ , de abscisa  $x$  y ordenada  $y$ , se denota  $P(x, y)$ .

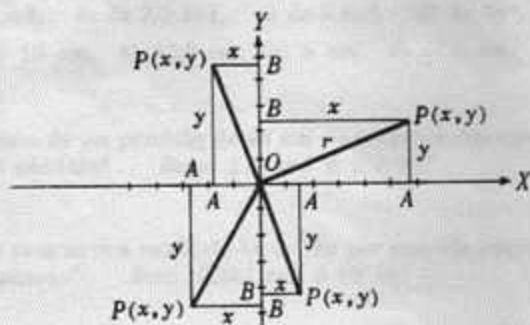


Fig. 2-B

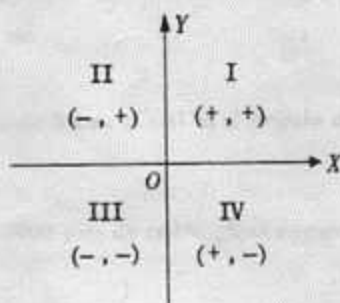


Fig. 2-C

Los ejes dividen el plano en cuatro partes, llamadas *cuadrantes*, que se numeran I, II, III, IV. En la Fig. 2-C se muestran los cuadrantes numerados y los signos correspondientes a las coordenadas de un punto en cada uno de los cuadrantes.

La distancia no dirigida  $r$  de un punto  $P(x, y)$  al origen, llamada *distancia de P* o radio vector de  $P$ , está dada por

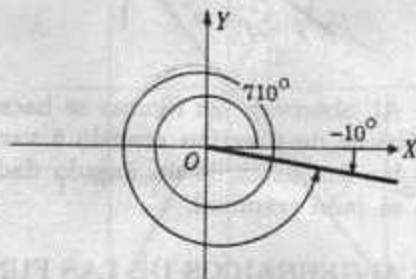
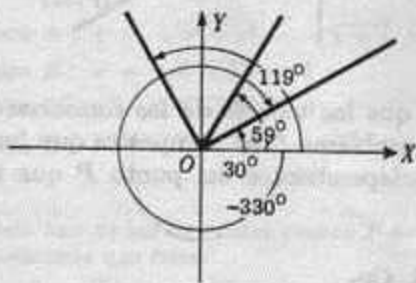
$$r = \sqrt{x^2 + y^2}.$$

Así, a cada punto del plano están asociados tres números:  $x$ ,  $y$ ,  $r$ .

(Véanse los problemas 1-3.)

**ANGULOS EN POSICION NORMAL.** Un ángulo está en *posición normal*, respecto a un sistema de coordenadas rectangulares, cuando su vértice coincide con el origen y su lado inicial con el semi-eje positivo de las  $x$ .

Un ángulo pertenece al primer cuadrante o es un *ángulo del primer cuadrante* cuando, colocado en posición normal, su lado terminal cae en dicho cuadrante. Definiciones semejantes se aplican a los otros cuadrantes. Por ejemplo, los ángulos  $30^\circ$ ,  $59^\circ$ , y  $-330^\circ$  son ángulos del primer cuadrante;  $119^\circ$  es un ángulo del segundo cuadrante;  $-119^\circ$  es un ángulo del tercer cuadrante;  $-10^\circ$  y  $710^\circ$  son ángulos del cuarto cuadrante.



Son *ángulos coterminales* los que, colocados en posición normal, tienen lados terminales coincidentes. Por ejemplo,  $30^\circ$  y  $-330^\circ$ ,  $-10^\circ$  y  $710^\circ$  son pares de ángulos coterminales. Dado un ángulo cualquiera, existe un conjunto infinito de ángulos coterminales con él. (Véase el problema 4.)

Los ángulos  $0^\circ$ ,  $90^\circ$ ,  $180^\circ$ ,  $270^\circ$ , y todos sus ángulos coterminales reciben el nombre de *ángulos cuadrangulares*.

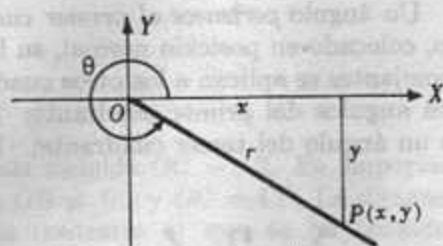
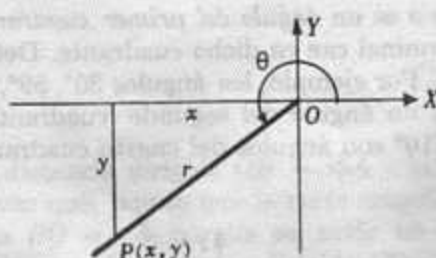
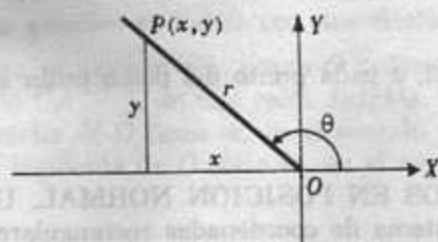
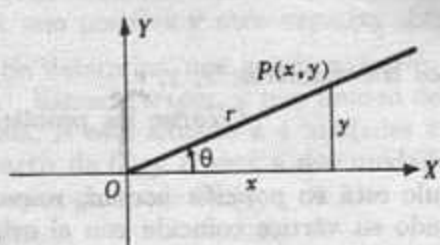
**FUNCIONES TRIGONOMETRICAS DE UN ANGULO CUALQUIERA.** Sea  $\theta$  un ángulo, (no cuadrangular) colocado en posición normal, y sea  $P(x, y)$  un punto cualquiera, distinto del origen, perteneciente al lado terminal del ángulo. Las seis funciones trigonométricas de  $\theta$  se definen, en términos de la abscisa, la ordenada y la distancia de  $P$  como sigue:

$$\begin{aligned} \text{seno } \theta &= \sin \theta = \frac{\text{ordenada}}{\text{distancia}} = \frac{y}{r} & \text{cotangente } \theta &= \cot \theta = \frac{\text{abscisa}}{\text{ordenada}} = \frac{x}{y} \\ \text{coseno } \theta &= \cos \theta = \frac{\text{abscisa}}{\text{distancia}} = \frac{x}{r} & \text{secante } \theta &= \sec \theta = \frac{\text{distancia}}{\text{abscisa}} = \frac{r}{x} \\ \text{tangente } \theta &= \tan \theta = \frac{\text{ordenada}}{\text{abscisa}} = \frac{y}{x} & \text{cosecante } \theta &= \csc \theta = \frac{\text{distancia}}{\text{ordenada}} = \frac{r}{y} \end{aligned}$$



Como consecuencia inmediata de estas definiciones se obtienen las llamadas *relaciones inversas*:

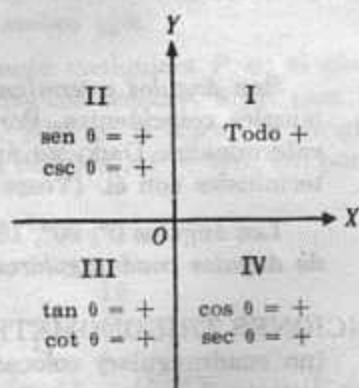
$$\begin{array}{lll} \operatorname{sen} \theta = 1/\operatorname{csc} \theta & \tan \theta = 1/\cot \theta & \sec \theta = 1/\cos \theta \\ \cos \theta = 1/\sec \theta & \cot \theta = 1/\tan \theta & \operatorname{csc} \theta = 1/\operatorname{sen} \theta \end{array}$$



Al observar las figuras se hace evidente que los valores de las funciones trigonométricas de  $\theta$  varían cuando  $\theta$  varía. En el problema 5 se demuestra que los valores de las funciones de un ángulo dado  $\theta$  son independientes del punto  $P$  que se escoja en el lado terminal.

**SIGNOS ALGEBRAICOS DE LAS FUNCIONES.** Como  $r$  es siempre positiva, los signos de las funciones en los distintos cuadrantes dependen de los signos de  $x$  y de  $y$ . Para determinar estos signos se puede colocar (mentalmente) el ángulo en posición normal, o se puede utilizar algún otro recurso, como el que aparece en la figura adjunta donde únicamente se han registrado las funciones cuyo signo es positivo. (Véase el problema 6.)

Las funciones de un ángulo dado están definidas unívocamente. Sin embargo, cuando se conoce el valor de la función de un ángulo, el ángulo no queda definido unívocamente. Por ejemplo, si  $\operatorname{sen} \theta = \frac{1}{2}$  entonces  $\theta = 30^\circ, 150^\circ, 390^\circ, 510^\circ, \dots$ . En general existen dos posiciones posibles del lado terminal; por ejemplo, los lados terminales de  $30^\circ$  y  $150^\circ$  del ejemplo anterior. Las excepciones a esta regla ocurren cuando el ángulo es cuadrangular. (Véanse los problemas 7-15.)



**FUNCIONES TRIGONOMETRICAS DE LOS ANGULOS CUADRANGULARES.** El lado terminal de un ángulo cuadrangular coincide con uno de los ejes. Un punto  $P$  (distinto del origen) del lado terminal tiene por coordenadas  $x = 0, y \neq 0$  ó  $x \neq 0, y = 0$ . En ambos casos sucede que dos de las seis funciones no están definidas. Por

ejemplo, el lado terminal del ángulo  $0^\circ$  coincide con el semi-eje positivo de las  $x$ , y la ordenada de  $P$  es 0. Como el denominador de las relaciones que definen la cotangente y la cosecante es la ordenada, estas funciones no están definidas. Para indicar estas conclusiones algunos autores utilizan la notación  $\cot 0^\circ = \infty$  y otros utilizan  $\cot 0^\circ = \pm \infty$ . En el problema 16 se obtienen los siguientes resultados:

ángulo $\theta$	sen $\theta$	cos $\theta$	tan $\theta$	cot $\theta$	sec $\theta$	csc $\theta$
$0^\circ$	0	1	0	$\pm \infty$	1	$\pm \infty$
$90^\circ$	1	0	$\pm \infty$	0	$\pm \infty$	1
$180^\circ$	0	-1	0	$\pm \infty$	-1	$\pm \infty$
$270^\circ$	-1	0	$\pm \infty$	0	$\pm \infty$	-1

### PROBLEMAS RESUELTOS

1. Localizar los siguientes puntos en un sistema de coordenadas rectangulares y encontrar el valor de  $r$  correspondiente a cada uno de ellos:

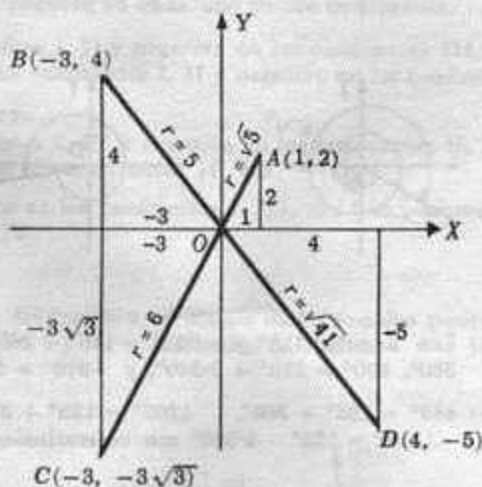
$A(1, 2)$ ,  $B(-3, 4)$ ,  $C(-3, -3\sqrt{3})$ ,  $D(4, -5)$ .

Para  $A$ :  $r = \sqrt{x^2 + y^2} = \sqrt{1 + 4} = \sqrt{5}$

Para  $B$ :  $r = \sqrt{9 + 16} = 5$

Para  $C$ :  $r = \sqrt{9 + 27} = 6$

Para  $D$ :  $r = \sqrt{16 + 25} = \sqrt{41}$



2. En cada uno de los siguientes puntos  $P$  encontrar la coordenada que falta:

- a)  $x = 2$ ,  $r = 3$ ,  $P$  en el primer cuadrante
- b)  $x = -3$ ,  $r = 5$ ,  $P$  en el segundo cuadrante
- c)  $y = -1$ ,  $r = 3$ ,  $P$  en el tercer cuadrante
- d)  $x = 2$ ,  $r = \sqrt{5}$ ,  $P$  en el cuarto cuadrante
- e)  $x = 3$ ,  $r = 3$ ;
- f)  $y = -2$ ,  $r = 2$ ; g)  $x = 0$ ,  $r = 2$ ,  $y$  positiva; h)  $y = 0$ ,  $r = 1$ ,  $x$  negativa.

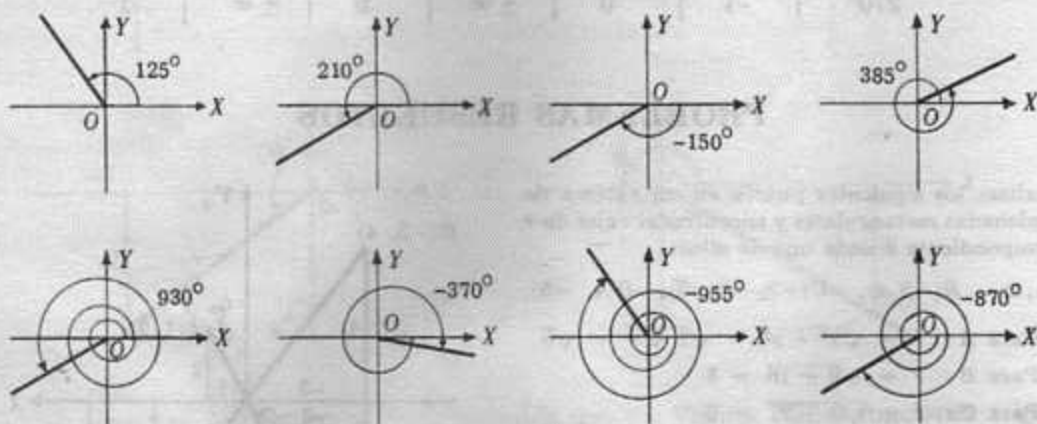
- a) De la relación  $x^2 + y^2 = r^2$ , se obtiene  $4 + y^2 = 9$ ; entonces  $y^2 = 5$  y  $y = \pm \sqrt{5}$ . Puesto que  $P$  está en el primer cuadrante, la coordenada que falta es  $y = \sqrt{5}$ .
- b) Aquí  $9 + y^2 = 25$ ,  $y^2 = 16$ , y  $y = \pm 4$ . Puesto que  $P$  está en el segundo cuadrante, la coordenada que falta es  $y = 4$ .
- c) Se tiene que  $x^2 + 1 = 9$ ,  $x^2 = 8$ , y  $x = \pm 2\sqrt{2}$ . Como  $P$  está en el tercer cuadrante, la coordenada que falta es  $x = -2\sqrt{2}$ .
- d)  $y^2 = 5 - 4$  y  $y = \pm 1$ . Puesto que  $P$  está en el cuarto cuadrante, la coordenada que falta es  $y = -1$ .
- e) Aquí,  $y^2 = r^2 - x^2 = 9 - 9 = 0$  y la coordenada que falta es  $y = 0$ .
- f)  $x^2 = r^2 - y^2 = 0$  y  $x = 0$  g)  $y^2 = r^2 - x^2 = 4$  y  $y = 2$  es la coordenada que falta.
- h)  $x^2 = r^2 - y^2 = 1$  y  $x = -1$  es la coordenada que falta.

3. ¿En qué cuadrante se puede localizar  $P(x, y)$  si

- a)  $x$  es positiva y  $y \neq 0$ ?
- b)  $y$  es negativa y  $x \neq 0$ ?
- c)  $y/r$  es positiva?
- d)  $r/x$  es negativa?
- e)  $y/x$  es positiva?

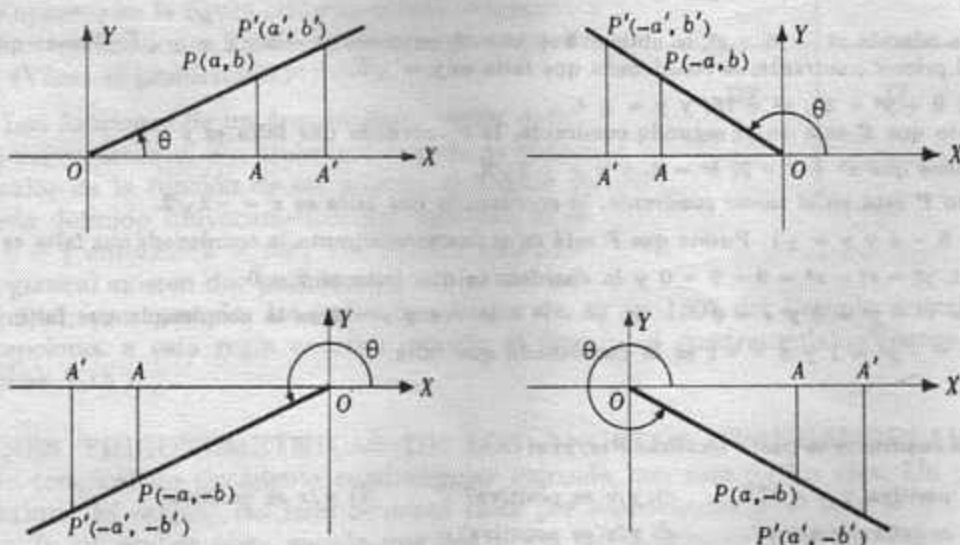


- a) En el primer cuadrante cuando  $y$  es positiva y en el cuarto cuadrante cuando  $y$  es negativa.  
 b) En el cuarto cuadrante cuando  $x$  es positiva y en el tercer cuadrante cuando  $x$  es negativa.  
 c) En los cuadrantes primero y segundo. d) En los cuadrantes segundo y tercero.  
 e) En el primer cuadrante cuando tanto  $x$  como  $y$  son positivas, y en el tercer cuadrante cuando tanto  $x$  como  $y$  son negativas.
4. a) Construir los siguientes ángulos en posición normal y determinar cuáles son coterminales:  
 $125^\circ$ ,  $210^\circ$ ,  $-150^\circ$ ,  $385^\circ$ ,  $930^\circ$ ,  $-370^\circ$ ,  $-955^\circ$ ,  $-870^\circ$ .
- b) Encontrar otros cinco ángulos coterminales con  $125^\circ$ .



- a) Los ángulos  $125^\circ$  y  $-955^\circ = 125^\circ - 3 \cdot 360^\circ$  son coterminales. Los ángulos  $210^\circ$ ,  $-150^\circ = 210^\circ - 360^\circ$ ,  $930^\circ = 210^\circ + 2 \cdot 360^\circ$ , y  $-870^\circ = 210^\circ - 3 \cdot 360^\circ$  son coterminales.  
 b)  $485^\circ = 125^\circ + 360^\circ$ ,  $1205^\circ = 125^\circ + 3 \cdot 360^\circ$ ,  $1925^\circ = 125^\circ + 5 \cdot 360^\circ$ ,  $-235^\circ = 125^\circ - 360^\circ$ ,  $-1315^\circ = 125^\circ - 4 \cdot 360^\circ$  son coterminales con  $125^\circ$ .

5. Demostrar que las funciones trigonométricas de un ángulo  $\theta$  no dependen del punto  $P$  que se escoja en el lado terminal del ángulo.



Supóngase que los puntos  $P$  y  $P'$  de los lados terminales de cada uno de los ángulos de las figuras anteriores tienen las coordenadas que se les han señalado. Denótese las distancias  $OP$  y  $OP'$  por  $r$  y  $r'$  respectivamente. Trácese las perpendiculares  $AP$  y  $A'P'$  al eje de las  $x$ . En cada figura, el triángulo  $OAP$  y  $OA'P'$ , cuyos lados  $a, b, r$  y  $a', b', r'$  respectivamente son similares; así,

$$1) \quad b/r = b'/r', \quad a/r = a'/r', \quad b/a = b'/a', \quad a/b = a'/b', \quad r/a = r'/a', \quad r/b = r'/b'.$$

Puesto que las razones obtenidas corresponden a las funciones trigonométricas de un ángulo del primer cuadrante, los valores de las funciones de un ángulo cualquiera del primer cuadrante son independientes del punto  $P$  escogido.

De 1) se sigue que

$$b/r = b'/r', \quad -a/r = -a'/r', \quad b/-a = b'/-a', \quad -a/b = -a'/b', \quad r/-a = r'/-a', \quad r/b = r'/b'.$$

Como éstas son las relaciones correspondientes a las funciones de un ángulo del segundo cuadrante, los valores de las funciones de un ángulo cualquiera del segundo cuadrante son independientes del punto  $P$  escogido.

Se deja al lector la consideración de los casos

$$-b/r = -b'/r', \quad -a/r = -a'/r', \text{ etc., y } -b/r = -b'/r', \quad a/r = a'/r', \text{ etc.}$$

6. Determinar los signos de las funciones seno, coseno y tangente en cada uno de los cuadrantes.

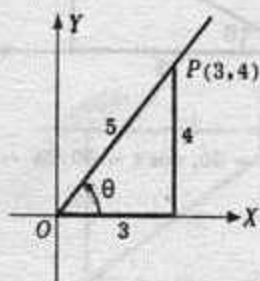
$\text{sen } \theta = y/r$ . Puesto que  $y$  es positiva en los cuadrantes I, II y negativa en los cuadrantes III, IV, mientras que  $r$  es siempre positiva,  $\text{sen } \theta$  es positivo en los cuadrantes I, II y negativo en los cuadrantes III, IV.

$\text{cos } \theta = x/r$ . Puesto que  $x$  es positiva en los cuadrantes I, IV y negativa en los cuadrantes II, III,  $\text{cos } \theta$  es positivo en los cuadrantes I, IV y negativo en los cuadrantes II, III.

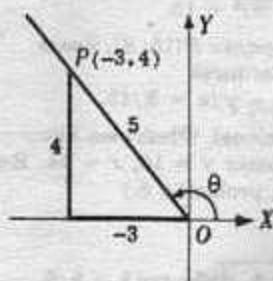
$\text{tan } \theta = y/x$ . Puesto que  $x$  y  $y$  tienen el mismo signo en los cuadrantes I, III,  $\text{tan } \theta$  es positiva en los cuadrantes I, III y negativa en los cuadrantes II, IV.

✱ Determinar los valores de las funciones trigonométricas del ángulo  $\theta$  (el menor de los ángulos positivos en posición normal) si  $P$  es un punto del lado terminal de  $\theta$  y las coordenadas de  $P$  son:

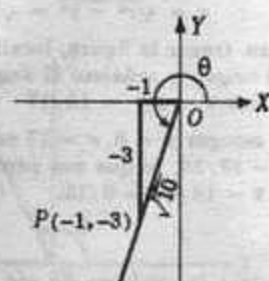
- a)  $P(3, 4)$ , b)  $P(-3, 4)$ , c)  $P(-1, -3)$ .



(a)



(b)



(c)

a)  $r = \sqrt{3^2 + 4^2} = 5$

$\text{sen } \theta = y/r = 4/5$

$\text{cos } \theta = x/r = 3/5$

$\text{tan } \theta = y/x = 4/3$

$\text{cot } \theta = x/y = 3/4$

$\text{sec } \theta = r/x = 5/3$

$\text{csc } \theta = r/y = 5/4$

b)  $r = \sqrt{(-3)^2 + 4^2} = 5$

$\text{sen } \theta = 4/5$

$\text{cos } \theta = -3/5$

$\text{tan } \theta = 4/-3 = -4/3$

$\text{cot } \theta = -3/4$

$\text{sec } \theta = 5/-3 = -5/3$

$\text{csc } \theta = 5/4$

c)  $r = \sqrt{(-1)^2 + (-3)^2} = \sqrt{10}$

$\text{sen } \theta = -3/\sqrt{10} = -3\sqrt{10}/10$

$\text{cos } \theta = -1/\sqrt{10} = -\sqrt{10}/10$

$\text{tan } \theta = -3/-1 = 3$

$\text{cot } \theta = -1/-3 = 1/3$

$\text{sec } \theta = \sqrt{10}/-1 = -\sqrt{10}$

$\text{csc } \theta = \sqrt{10}/-3 = -\sqrt{10}/3$

Obsérvense las relaciones inversas. Por ejemplo, en b)  $\text{sen } \theta = 1/\text{csc } \theta = 4/5$ ,  $\text{cos } \theta = 1/\text{sec } \theta = -3/5$ ,  $\text{tan } \theta = 1/\text{cot } \theta = -4/3$ , etc.

8. ¿En qué cuadrante cae el lado terminal de  $\theta$ , si

- a)  $\sin \theta$  y  $\cos \theta$  son ambos negativos?      c)  $\sin \theta$  es positivo y secante  $\theta$  es negativa?  
 b)  $\sin \theta$  y  $\tan \theta$  son ambos positivos?      d)  $\sec \theta$  es negativa y  $\tan \theta$  es negativa?
- a) Puesto que  $\sin \theta = y/r$  y  $\cos \theta = x/r$ , ambos,  $x$  y  $y$  son negativas. (Recuérdese que  $r$  es siempre positiva.) Así,  $\theta$  es un ángulo del tercer cuadrante.  
 b) Puesto que  $\sin \theta$  es positivo,  $y$  es positiva. Como  $\tan \theta = y/x$  es positiva,  $x$  es también positiva. Así,  $\theta$  es un ángulo del primer cuadrante.  
 c) Como  $\sin \theta$  es positivo,  $y$  es positiva; como  $\sec \theta$  es negativa,  $x$  es negativa. Así,  $\theta$  es un ángulo del segundo cuadrante.  
 d) Como  $\sec \theta$  es negativa,  $x$  es negativa; como  $\tan \theta$  es negativa,  $y$  es positiva. Así,  $\theta$  es un ángulo del segundo cuadrante.

9. ¿En qué cuadrante puede terminar  $\theta$ , si

- a)  $\sin \theta$  es positivo?    b)  $\cos \theta$  es negativo?    c)  $\tan \theta$  es negativa?    d)  $\sec \theta$  es positiva?
- a) Puesto que  $\sin \theta$  es positivo,  $y$  es positiva. Entonces,  $x$  puede ser positiva o negativa, con lo que  $\theta$  es un ángulo del primer cuadrante o del segundo.  
 b) Puesto que  $\cos \theta$  es negativo,  $x$  es negativa. Entonces,  $y$  puede ser positiva o negativa, con lo que  $\theta$  es un ángulo del segundo cuadrante o del tercero.  
 c) Puesto que  $\tan \theta$  es negativa, puede suceder que  $y$  sea positiva y  $x$  negativa, o que  $y$  sea negativa y  $x$  positiva. Así,  $\theta$  puede ser un ángulo del segundo cuadrante o del cuarto.  
 d) Puesto que  $\sec \theta$  es positiva,  $x$  es positiva. Así  $\theta$  puede ser un ángulo del primer cuadrante o del cuarto.

10. Encontrar los valores de  $\cos \theta$  y  $\tan \theta$ , si  $\sin \theta = 8/17$  y  $\theta$  pertenece al cuadrante I.

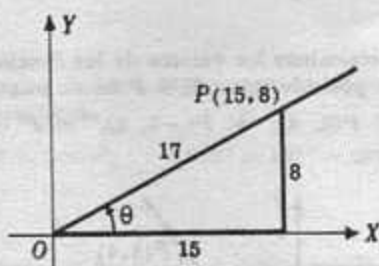
Sea  $P$  un punto del lado terminal de  $\theta$ . Puesto que  $\sin \theta = y/r = 8/17$ , se toma  $y = 8$  y  $r = 17$ . Puesto que  $\theta$  pertenece al cuadrante I,  $x$  es positiva; entonces,

$$x = \sqrt{r^2 - y^2} = \sqrt{(17)^2 - (8)^2} = 15.$$

Para trazar la figura, localícese el punto  $P(15, 8)$ , únase con el origen y señálase el ángulo  $\theta$ . Entonces

$$\cos \theta = x/r = 15/17 \quad \text{y} \quad \tan \theta = y/x = 8/15.$$

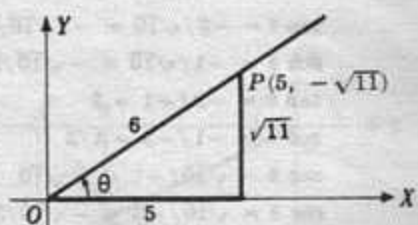
El escoger  $y = 8$ ,  $r = 17$  es convencional. Obsérvese que  $8/17 = 16/34$ , lo que nos permitiría tomar  $y = 16$ ,  $r = 34$ . Entonces,  $x = 30$ ,  $\cos \theta = 30/34 = 15/17$  y  $\tan \theta = 16/30 = 8/15$ . (Véase el problema 5.)



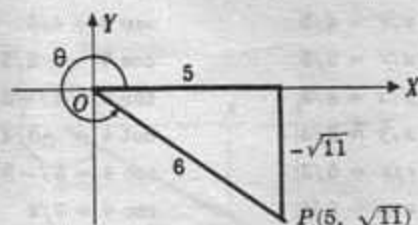
11. Encontrar los valores de  $\sin \theta$  y  $\tan \theta$ , dado  $\cos \theta = 5/6$ .

Como  $\cos \theta$  es positivo,  $\theta$  pertenece al primer cuadrante o al cuarto.

Puesto que  $\cos \theta = x/r = 5/6$ , se toma  $x = 5$ ,  $r = 6$ ;  $y = \pm \sqrt{(6)^2 - (5)^2} = \pm \sqrt{11}$ .



(a)

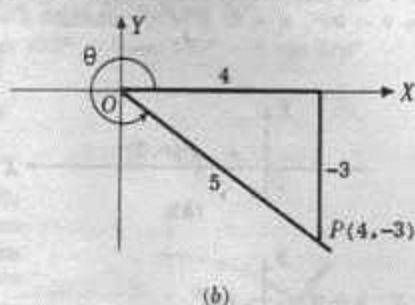
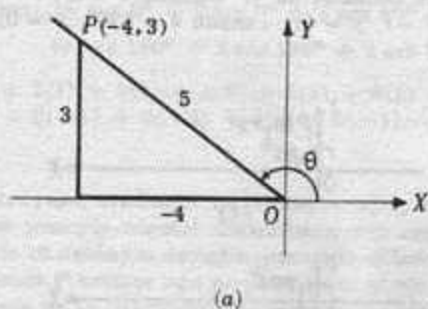


(b)

- a) Si  $\theta$  está en el cuadrante I (figura a), se tiene  $x = 5$ ,  $y = \sqrt{11}$ ,  $r = 6$ ; entonces  
 $\text{sen } \theta = y/r = \sqrt{11}/6$  y  $\text{tan } \theta = y/x = \sqrt{11}/5$ .
- b) Si  $\theta$  está en el cuadrante IV (figura b), se tiene  $x = 5$ ,  $y = -\sqrt{11}$ ,  $r = 6$ ; entonces  
 $\text{sen } \theta = y/r = -\sqrt{11}/6$  y  $\text{tan } \theta = y/x = -\sqrt{11}/5$ .

12. Encontrar los valores de  $\text{sen } \theta$  y  $\text{cos } \theta$ , dada  $\text{tan } \theta = -3/4$ .

Puesto que  $\text{tan } \theta = y/r$  es negativa,  $\theta$  está en el cuadrante II (si  $x = -4$ ,  $y = 3$ ) o en el cuadrante IV (si  $x = 4$ ,  $y = -3$ ). En ambos casos,  $r = \sqrt{16 + 9} = 5$ .



- a) Si  $\theta$  está en el cuadrante II (figura a),  $\text{sen } \theta = y/r = 3/5$  y  $\text{cos } \theta = x/r = -4/5$ .
- b) Si  $\theta$  está en el cuadrante IV (figura b),  $\text{sen } \theta = y/r = -3/5$  y  $\text{cos } \theta = x/r = 4/5$ .

13. Encontrar  $\text{sen } \theta$ , si  $\text{cos } \theta = -4/5$  y  $\text{tan } \theta$  es positiva.

Puesto que  $\text{cos } \theta = x/r$  es negativo,  $x$  es negativa. Como  $\text{tan } \theta = y/x$  es positiva,  $y$  tiene que ser negativa. Entonces  $\theta$  está en el cuadrante III. (Véase la figura c.)

Tómese  $x = -4$ ,  $r = 5$ ; entonces  $y = -\sqrt{5^2 - (-4)^2} = -3$ . Así,  $\text{sen } \theta = y/r = -3/5$ .

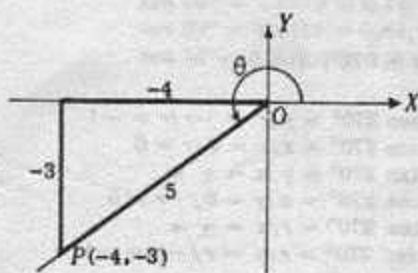


Fig. (c) Prob. 13

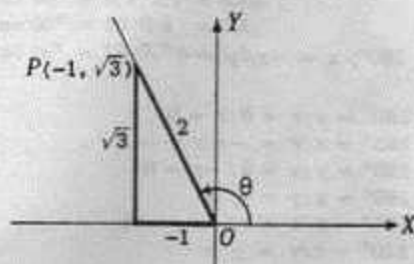


Fig. (d) Prob. 14

14. Encontrar los valores de las otras funciones de  $\theta$ , dados  $\text{sen } \theta = \sqrt{3}/2$  y  $\text{cos } \theta = -1/2$ .

Como  $\text{sen } \theta = y/r$  es positivo,  $y$  es positiva. Dado que  $\text{cos } \theta = x/r$  es negativo,  $x$  es negativa. Así,  $\theta$  pertenece al cuadrante II. (Véase la figura d.)

Tomando  $x = -1$ ,  $y = \sqrt{3}$ ,  $r = \sqrt{(-1)^2 + (\sqrt{3})^2} = 2$ , tenemos

$$\text{tan } \theta = y/x = \sqrt{3}/-1 = -\sqrt{3}$$

$$\text{sec } \theta = 1/\text{cos } \theta = -2$$

$$\text{cot } \theta = 1/\text{tan } \theta = -1/\sqrt{3} = -\sqrt{3}/3$$

$$\text{csc } \theta = 1/\text{sen } \theta = 2/\sqrt{3} = 2\sqrt{3}/3$$

15. Determinar los valores de  $\cos \theta$  y  $\tan \theta$  si  $\sin \theta = m/n$ , es una fracción negativa.

Puesto que  $\sin \theta$  es negativo,  $\theta$  está en el cuadrante III o en el cuadrante IV.

a) En un cuadrante III: Tómese  $y = m$ ,  $r = n$ ,  $x = -\sqrt{n^2 - m^2}$ ; entonces

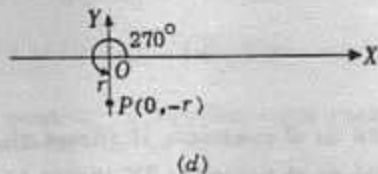
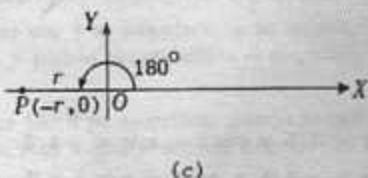

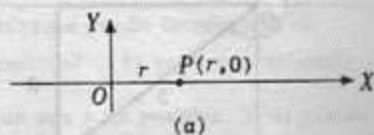
$$\cos \theta = x/r = -\sqrt{n^2 - m^2}/n \quad \text{y} \quad \tan \theta = y/x = -m/\sqrt{n^2 - m^2}.$$

b) En el cuadrante IV: Tómese  $y = m$ ,  $r = n$ ,  $x = +\sqrt{n^2 - m^2}$ ; entonces

$$\cos \theta = x/r = \sqrt{n^2 - m^2}/n \quad \text{y} \quad \tan \theta = y/x = m/\sqrt{n^2 - m^2}.$$

16. Determinar los valores de las funciones trigonométricas de a)  $0^\circ$ , b)  $90^\circ$ , c)  $180^\circ$ , d)  $270^\circ$ .

Sea  $P$  un punto cualquiera (diferente de 0) del lado terminal de  $\theta$ . Cuando  $\theta = 0^\circ$ ,  $x = r$ ,  $y = 0$ ; cuando  $\theta = 90^\circ$ ,  $x = 0$ ,  $y = r$ ; cuando  $\theta = 180^\circ$ ,  $x = -r$ ,  $y = 0$ ; cuando  $\theta = 270^\circ$ ,  $x = 0$ ,  $y = -r$ .



a)  $\theta = 0^\circ$ ;  $x = r$ ,  $y = 0$

$$\sin 0^\circ = y/r = 0/r = 0$$

$$\cos 0^\circ = x/r = r/r = 1$$

$$\tan 0^\circ = y/x = 0/r = 0$$

$$\cot 0^\circ = x/y = \pm \infty$$

$$\sec 0^\circ = r/x = r/r = 1$$

$$\csc 0^\circ = r/y = \pm \infty$$

b)  $\theta = 90^\circ$ ;  $x = 0$ ,  $y = r$

$$\sin 90^\circ = y/r = r/r = 1$$

$$\cos 90^\circ = x/r = 0/r = 0$$

$$\tan 90^\circ = y/x = \pm \infty$$

$$\cot 90^\circ = x/y = 0/r = 0$$

$$\sec 90^\circ = r/x = \pm \infty$$

$$\csc 90^\circ = r/y = r/r = 1$$

c)  $\theta = 180^\circ$ ;  $x = -r$ ,  $y = 0$

$$\sin 180^\circ = y/r = 0/r = 0$$

$$\cos 180^\circ = x/r = -r/r = -1$$

$$\tan 180^\circ = y/x = 0/-r = 0$$

$$\cot 180^\circ = x/y = \pm \infty$$

$$\sec 180^\circ = r/x = r/-r = -1$$

$$\csc 180^\circ = r/y = \pm \infty$$

d)  $\theta = 270^\circ$ ;  $x = 0$ ,  $y = -r$

$$\sin 270^\circ = y/r = -r/r = -1$$

$$\cos 270^\circ = x/r = 0/r = 0$$

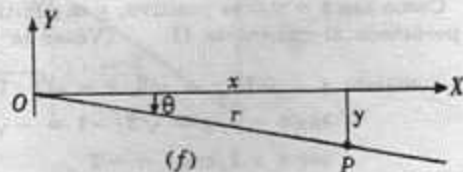
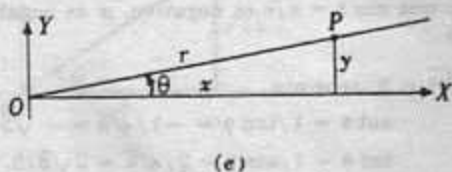
$$\tan 270^\circ = y/x = \pm \infty$$

$$\cot 270^\circ = x/y = 0/-r = 0$$

$$\sec 270^\circ = r/x = \pm \infty$$

$$\csc 270^\circ = r/y = r/-r = -1$$

Se habrá observado que  $\cot 0^\circ$  y  $\csc 0^\circ$  no están definidas porque la división por cero no está permitida. En la figura (e), se ha tomado  $\theta$  como un ángulo muy pequeño en posición normal y se ha señalado en su lado terminal un punto  $P(x, y)$  a una distancia  $r$  del origen. En estas condiciones,  $x$  es poco menor que  $r$ , además,  $y$  es muy pequeña y positiva. Entonces,  $\cot \theta = x/y$  y  $\csc \theta = r/y$  son positivas y muy grandes. Si ahora  $\theta$  decrece hacia  $0^\circ$  (es decir,  $OP$  se acerca a  $OX$ ) y  $P$  permanece a una distancia  $r$  del origen, se observa que  $x$  crece pero se mantiene siempre menor que  $r$ , mientras que  $y$  decrece pero se mantiene mayor que 0. Así,  $\cot \theta$  y  $\csc \theta$  crecen cada vez más. (Para una comprobación, tómese  $r = 1$  y calcú-



lese  $\csc \theta$  cuando  $y = 0,1, 0,01, 0,001, \dots$ ) Para indicar estas conclusiones se suele escribir  $\cot 0^\circ = \pm \infty$  y  $\cos 0^\circ = +\infty$ . Nótese que, aunque se utiliza el signo  $=$ , no se quiere significar que "cot  $0^\circ$  sea igual a"; sino que, cuando un ángulo positivo pequeño se hace cada vez menor, la cotangente del ángulo toma valores positivos cada vez mayores.

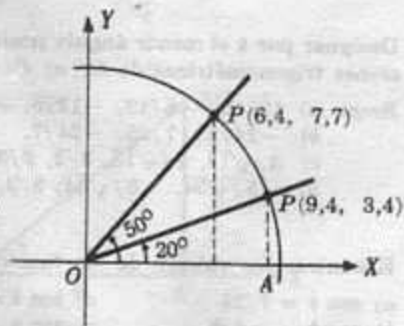
Supóngase ahora que, como aparece en la figura (f), que  $\theta$  es un ángulo pequeño y negativo, y señálese en su lado terminal un punto  $P(x, y)$  a una distancia  $r$  del origen. En estas condiciones,  $x$  es positiva y poco menor que  $r$ , mientras que  $y$  es negativa y numéricamente pequeña. Entonces  $\cot \theta$  y  $\csc \theta$  son negativas y numéricamente grandes. Cuando  $\theta$  crece hacia  $0^\circ$ ,  $\cot \theta$  y  $\csc \theta$  permanecen negativas y son, numéricamente, cada vez mayores. Para indicar estas conclusiones, se indica  $\cot 0^\circ = -\infty$  y  $\csc 0^\circ = -\infty$ .

17. Evaluar: a)  $\sin 0^\circ + 2 \cos 0^\circ + 3 \sin 90^\circ + 4 \cos 90^\circ + 5 \sec 0^\circ + 6 \csc 90^\circ$   
 b)  $\sin 180^\circ + 2 \cos 180^\circ + 3 \sin 270^\circ + 4 \cos 270^\circ - 5 \sec 180^\circ - 6 \csc 270^\circ$

a)  $0 + 2(1) + 3(1) + 4(0) + 5(1) + 6(1) = 16$   
 b)  $0 + 2(-1) + 3(-1) + 4(0) - 5(-1) - 6(-1) = 6$

18. Constrúyase, mediante un transportador, un ángulo de  $20^\circ$  en posición normal. Descríbase, con centro en  $O$ , un arco de 10 unidades de radio que corte el lado terminal en  $P$ . Desde  $P$  trácese una perpendicular al eje de las  $x$ . Sea  $A$  el pie de la perpendicular trazada. Al efectuar las mediciones convenientes se obtiene que  $OA = 9,4$  y  $AP = 3,4$  de modo que las coordenadas de  $P$  son  $(9,4, 3,4)$ . Entonces,

$\sin 20^\circ = 3,4/10 = 0,34,$        $\cot 20^\circ = 9,4/3,4 = 2,8,$   
 $\cos 20^\circ = 9,4/10 = 0,94,$        $\sec 20^\circ = 10/9,4 = 1,1,$   
 $\tan 20^\circ = 3,4/9,4 = 0,36,$        $\csc 20^\circ = 10/3,4 = 2,9.$



(g)

19. Obtener las funciones trigonométricas de  $50^\circ$ , como en el problema 18. Considérese la figura (g).

Al efectuar las mediciones convenientes, se obtiene que las coordenadas de  $P$ , situado a 10 unidades del origen, son  $(6,4, 7,7)$ . Entonces,

$\sin 50^\circ = 7,7/10 = 0,77,$        $\cot 50^\circ = 6,4/7,7 = 0,83,$   
 $\cos 50^\circ = 6,4/10 = 0,64,$        $\sec 50^\circ = 10/6,4 = 1,6,$   
 $\tan 50^\circ = 7,7/6,4 = 1,2,$        $\csc 50^\circ = 10/7,7 = 1,3.$

## PROBLEMAS PROPUESTOS

20. Establecer el cuadrante en que termina cada ángulo y el signo del seno, coseno y tangente.

a)  $125^\circ$ , b)  $75^\circ$ , c)  $320^\circ$ , d)  $212^\circ$ , e)  $460^\circ$ , f)  $750^\circ$ , g)  $-250^\circ$ , h)  $-1000^\circ$ .

Resp. a) II; +, -, - b) I; +, +, + c) IV; -, +, - d) III; -, -, + e) II f) I g) II h) I

21. ¿En qué cuadrante termina  $\theta$  si

a)  $\sin \theta$  y  $\cos \theta$  son positivos?

b)  $\cos \theta$  y  $\tan \theta$  son positivos?

c)  $\sin \theta$  y  $\sec \theta$  son negativos?

d)  $\cos \theta$  y  $\cot \theta$  son negativos?

e)  $\tan \theta$  es positiva y  $\sec \theta$  es negativa?

f)  $\tan \theta$  es negativa y  $\sec \theta$  es positiva?

g)  $\sin \theta$  es positivo y  $\cos \theta$  es negativo?

h)  $\sec \theta$  es positiva y  $\csc \theta$  es negativa?

Resp. a) I, b) I, c) III, d) II, e) III, f) IV, g) II, h) IV

22. Designar por  $\theta$  el menor ángulo positivo cuyo lado terminal pasa por el punto dado y encontrar las funciones trigonométricas de  $\theta$ : a)  $P(-5, 12)$ , b)  $P(7, -24)$ , c)  $P(2, 3)$ ,  $P(-3, -5)$ .

Resp. a)  $12/13$ ,  $-5/13$ ,  $-12/5$ ,  $-5/12$ ,  $-13/5$ ,  $13/12$

b)  $-24/25$ ,  $7/25$ ,  $-24/7$ ,  $-7/24$ ,  $25/7$ ,  $-25/24$

c)  $3/\sqrt{13}$ ,  $2/\sqrt{13}$ ,  $3/2$ ,  $2/3$ ,  $\sqrt{13}/2$ ,  $\sqrt{13}/3$

d)  $-5/\sqrt{34}$ ,  $-3/\sqrt{34}$ ,  $5/3$ ,  $3/5$ ,  $-\sqrt{34}/3$ ,  $-\sqrt{34}/5$

23. Encontrar los valores de las funciones trigonométricas de  $\theta$ , dados:

a)  $\sin \theta = 7/25$

d)  $\cot \theta = 24/7$

g)  $\tan \theta = 3/5$

j)  $\csc \theta = -2/\sqrt{3}$

b)  $\cos \theta = -4/5$

e)  $\sin \theta = -2/3$

h)  $\cot \theta = \sqrt{6}/2$

c)  $\tan \theta = -5/12$

f)  $\cos \theta = 5/6$

i)  $\sec \theta = -\sqrt{5}$

Resp. a) I:  $7/25$ ,  $24/25$ ,  $7/24$ ,  $24/7$ ,  $25/24$ ,  $25/7$

II:  $7/25$ ,  $-24/25$ ,  $-7/24$ ,  $-24/7$ ,  $-25/24$ ,  $25/7$

b) II:  $3/5$ ,  $-4/5$ ,  $-3/4$ ,  $-4/3$ ,  $-5/4$ ,  $5/3$ ; III:  $-3/5$ ,  $-4/5$ ,  $3/4$ ,  $4/3$ ,  $-5/4$ ,  $-5/3$

c) II:  $5/13$ ,  $-12/13$ ,  $-5/12$ ,  $-12/5$ ,  $-13/12$ ,  $13/5$

IV:  $-5/13$ ,  $12/13$ ,  $-5/12$ ,  $-12/5$ ,  $13/12$ ,  $-13/5$

d) I:  $7/25$ ,  $24/25$ ,  $7/24$ ,  $24/7$ ,  $25/24$ ,  $25/7$

III:  $-7/25$ ,  $-24/25$ ,  $7/24$ ,  $24/7$ ,  $-25/24$ ,  $-25/7$

e) III:  $-2/3$ ,  $-\sqrt{5}/3$ ,  $2/\sqrt{5}$ ,  $\sqrt{5}/2$ ,  $-3/\sqrt{5}$ ,  $-3/2$

IV:  $-2/3$ ,  $\sqrt{5}/3$ ,  $-2/\sqrt{5}$ ,  $-\sqrt{5}/2$ ,  $3/\sqrt{5}$ ,  $-3/2$

f) I:  $\sqrt{11}/6$ ,  $5/6$ ,  $\sqrt{11}/5$ ,  $5/\sqrt{11}$ ,  $6/5$ ,  $6/\sqrt{11}$

IV:  $-\sqrt{11}/6$ ,  $5/6$ ,  $-\sqrt{11}/5$ ,  $-5/\sqrt{11}$ ,  $6/5$ ,  $-6/\sqrt{11}$

g) I:  $3/\sqrt{34}$ ,  $5/\sqrt{34}$ ,  $3/5$ ,  $5/3$ ,  $\sqrt{34}/5$ ,  $\sqrt{34}/3$

III:  $-3/\sqrt{34}$ ,  $-5/\sqrt{34}$ ,  $3/5$ ,  $5/3$ ,  $-\sqrt{34}/5$ ,  $-\sqrt{34}/3$

h) I:  $2/\sqrt{10}$ ,  $\sqrt{3}/\sqrt{5}$ ,  $2/\sqrt{6}$ ,  $\sqrt{6}/2$ ,  $\sqrt{5}/\sqrt{3}$ ,  $\sqrt{10}/2$

III:  $-2/\sqrt{10}$ ,  $-\sqrt{3}/\sqrt{5}$ ,  $2/\sqrt{6}$ ,  $\sqrt{6}/2$ ,  $-\sqrt{5}/\sqrt{3}$ ,  $-\sqrt{10}/2$

i) II:  $2/\sqrt{5}$ ,  $-1/\sqrt{5}$ ,  $-2$ ,  $-1/2$ ,  $-\sqrt{5}$ ,  $\sqrt{5}/2$ ; III:  $-2/\sqrt{5}$ ,  $-1/\sqrt{5}$ ,  $2$ ,  $1/2$ ,  $-\sqrt{5}$ ,  $-\sqrt{5}/2$

j) III:  $-\sqrt{3}/2$ ,  $-1/2$ ,  $\sqrt{3}$ ,  $1/\sqrt{3}$ ,  $-2$ ,  $-2/\sqrt{3}$ ; IV:  $-\sqrt{3}/2$ ,  $1/2$ ,  $-\sqrt{3}$ ,  $-1/\sqrt{3}$ ,  $2$ ,  $-2/\sqrt{3}$

24. Calcular cada una de las siguientes expresiones:

a)  $\tan 180^\circ - 2 \cos 180^\circ + 3 \csc 270^\circ + \sin 90^\circ = 0$ .

b)  $\sin 0^\circ + 3 \cot 90^\circ + 5 \sec 180^\circ - 4 \cos 270^\circ = -5$ .

## CAPITULO 3

### Funciones trigonométricas de un ángulo agudo

**FUNCIONES TRIGONOMETRICAS DE UN ANGULO AGUDO.** Al trabajar con un triángulo rectángulo cualquiera, es conveniente (véase Fig. 3-A) designar los vértices de los ángulos como  $A, B, C$ , los ángulos de los triángulos como  $A, B, C = 90^\circ$  y los lados opuestos a los ángulos,  $a, b, c$ , respectivamente. Con relación al ángulo  $A$ , el lado  $a$  recibe el nombre de *cateto opuesto* y  $b$  el de *cateto adyacente*; con relación al ángulo  $B$ , el *cateto adyacente* es  $a$ , y el *cateto opuesto* es  $b$ . Al lado  $c$  se llama siempre *hipotenusa*.

Si ahora se coloca el triángulo en un sistema de coordenadas (véase la Fig. 3-B) de tal manera que el ángulo  $A$  quede en posición normal, las coordenadas del punto  $B$ , en el lado terminal del ángulo  $A$ , son  $(b, a)$  y su distancia es  $c = \sqrt{a^2 + b^2}$ . En estas condiciones, las funciones trigonométricas del ángulo  $A$ , pueden definirse en términos de los lados del triángulo rectángulo, como sigue:

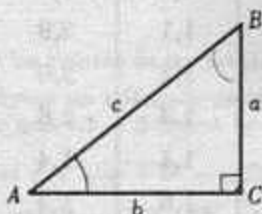


Fig. 3-A

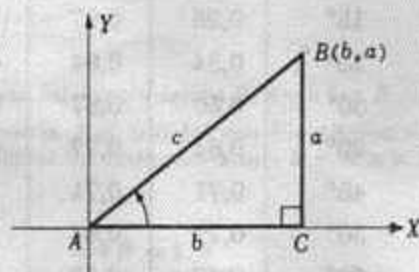


Fig. 3-B

$$\operatorname{sen} A = \frac{a}{c} = \frac{\text{cateto opuesto}}{\text{hipotenusa}}$$

$$\operatorname{cos} A = \frac{b}{c} = \frac{\text{cateto adyacente}}{\text{hipotenusa}}$$

$$\operatorname{tan} A = \frac{a}{b} = \frac{\text{cateto opuesto}}{\text{cateto adyacente}}$$

$$\operatorname{cot} A = \frac{b}{a} = \frac{\text{cateto adyacente}}{\text{cateto opuesto}}$$

$$\operatorname{sec} A = \frac{c}{b} = \frac{\text{hipotenusa}}{\text{cateto adyacente}}$$

$$\operatorname{csc} A = \frac{c}{a} = \frac{\text{hipotenusa}}{\text{cateto opuesto}}$$

**FUNCIONES TRIGONOMETRICAS DE ANGULOS COMPLEMENTARIOS.** Los ángulos agudos  $A$  y  $B$  del triángulo rectángulo  $ABC$  son complementarios, es decir,  $A + B = 90^\circ$ . En la Fig. 3-A se tiene que

$$\operatorname{sen} B = b/c = \operatorname{cos} A$$

$$\operatorname{cos} B = a/c = \operatorname{sen} A$$

$$\operatorname{tan} B = b/a = \operatorname{cot} A$$

$$\operatorname{cot} B = a/b = \operatorname{tan} A$$

$$\operatorname{sec} B = c/a = \operatorname{csc} A$$

$$\operatorname{csc} B = c/b = \operatorname{sec} A$$

Estas relaciones asocian las funciones en pares-seno y coseno, tangente y cotangente, secante y cosecante, de modo que cada una de las funciones de un par es la *cofunción* de la otra. Así, cualquier función de un ángulo agudo es igual a la correspondiente cofunción de un ángulo complementario.



FUNCIONES TRIGONOMETRICAS DE 30°, 45° y 60°. En los problemas 8-9 se obtienen los resultados siguientes:

Angulo $\theta$	sen $\theta$	cos $\theta$	tan $\theta$	cot $\theta$	sec $\theta$	csc $\theta$
30°	$\frac{1}{2}$	$\frac{\sqrt{3}}{2}$	$\frac{1}{\sqrt{3}}$	$\sqrt{3}$	$\frac{2}{\sqrt{3}}$	2
45°	$\frac{1}{\sqrt{2}}$	$\frac{1}{\sqrt{2}}$	1	1	$\sqrt{2}$	$\sqrt{2}$
60°	$\frac{\sqrt{3}}{2}$	$\frac{1}{2}$	$\sqrt{3}$	$\frac{1}{\sqrt{3}}$	2	$\frac{2}{\sqrt{3}}$

EN LOS PROBLEMAS 10-16 se presentan algunas aplicaciones sencillas de las funciones trigonométricas; en ellas se utilizará la siguiente tabla:

Angulo $\theta$	sen $\theta$	cos $\theta$	tan $\theta$	cot $\theta$	sec $\theta$	csc $\theta$
15°	0,26	0,97	0,27	3,7	1,0	3,9
20°	0,34	0,94	0,36	2,7	1,1	2,9
30°	0,50	0,87	0,58	1,7	1,2	2,0
40°	0,64	0,77	0,84	1,2	1,3	1,6
45°	0,71	0,71	1,0	1,0	1,4	1,4
50°	0,77	0,64	1,2	0,84	1,6	1,3
60°	0,87	0,50	1,7	0,58	2,0	1,2
70°	0,94	0,34	2,7	0,36	2,9	1,1
75°	0,97	0,26	3,7	0,27	3,9	1,0

## PROBLEMAS RESUELTOS

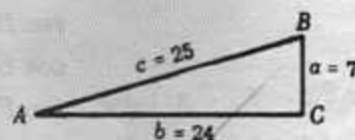
1. Encontrar los valores de las funciones trigonométricas de los ángulos agudos del triángulo rectángulo ABC, dados  $b = 24$  y  $c = 25$ .

Puesto que  $a^2 = c^2 - b^2 = (25)^2 - (24)^2 = 49$ ,  $a = 7$ . Entonces

$$\text{sen } A = \frac{\text{cateto opuesto}}{\text{hipotenusa}} = \frac{7}{25} \quad \text{cot } A = \frac{\text{cateto adyacente}}{\text{cateto opuesto}} = \frac{24}{7}$$

$$\text{cos } A = \frac{\text{cateto adyacente}}{\text{hipotenusa}} = \frac{24}{25} \quad \text{sec } A = \frac{\text{hipotenusa}}{\text{cateto adyacente}} = \frac{25}{24}$$

$$\text{tan } A = \frac{\text{cateto opuesto}}{\text{cateto adyacente}} = \frac{7}{24} \quad \text{csc } A = \frac{\text{hipotenusa}}{\text{cateto opuesto}} = \frac{25}{7}$$



$$\text{sen } B = 24/25$$

$$\text{cos } B = 7/25$$

$$\text{tan } B = 24/7$$

$$\text{cot } B = 7/24$$

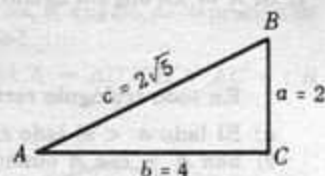
$$\text{sec } B = 25/7$$

$$\text{csc } B = 25/24$$

2. Encontrar los valores de las funciones trigonométricas de los ángulos agudos del triángulo rectángulo  $ABC$ , dados  $a = 2$ ,  $c = 2\sqrt{5}$ .

Puesto que  $b^2 = c^2 - a^2 = (2\sqrt{5})^2 - (2)^2 = 20 - 4 = 16$ ,  
 $b = 4$ . Entonces

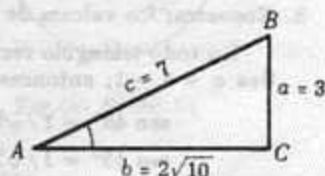
$$\begin{aligned} \text{sen } A &= 2/2\sqrt{5} = \sqrt{5}/5 = \cos B & \cot A &= 4/2 = 2 = \tan B \\ \cos A &= 4/2\sqrt{5} = 2\sqrt{5}/5 = \text{sen } B & \sec A &= 2\sqrt{5}/4 = \sqrt{5}/2 = \csc B \\ \tan A &= 2/4 = 1/2 = \cot B & \csc A &= 2\sqrt{5}/2 = \sqrt{5} = \sec B \end{aligned}$$



3. Encontrar los valores de las funciones trigonométricas del ángulo agudo  $A$ , dado  $\text{sen } A = 3/7$ .

Constrúyase un triángulo rectángulo  $ABC$ , tal que  $a = 3$ ,  
 $c = 7$  y  $b = \sqrt{7^2 - 3^2} = 2\sqrt{10}$ . Entonces

$$\begin{aligned} \text{sen } A &= 3/7 & \cot A &= 2\sqrt{10}/3 \\ \cos A &= 2\sqrt{10}/7 & \sec A &= 7/2\sqrt{10} = 7\sqrt{10}/20 \\ \tan A &= 3/2\sqrt{10} = 3\sqrt{10}/20 & \csc A &= 7/3 \end{aligned}$$



4. Encontrar los valores de las funciones trigonométricas del ángulo agudo  $B$ , dada  $\tan B = 1,5$ .

Constrúyase un triángulo rectángulo  $ABC$  (véase la Fig. (a)) tal que  $b = 15$  y  $a = 10$  unidades.  
 (Obsérvese que  $1,5 = 3/2$  con lo que podríamos utilizar un triángulo donde  $b = 3$ ,  $a = 2$ ).

Entonces  $c = \sqrt{a^2 + b^2} = \sqrt{10^2 + 15^2} = 5\sqrt{13}$  y

$$\begin{aligned} \text{sen } B &= 15/5\sqrt{13} = 3\sqrt{13}/13 & \cot B &= 2/3 \\ \cos B &= 10/5\sqrt{13} = 2\sqrt{13}/13 & \sec B &= 5\sqrt{13}/10 = \sqrt{13}/2 \\ \tan B &= 15/10 = 3/2 & \csc B &= 5\sqrt{13}/15 = \sqrt{13}/3. \end{aligned}$$

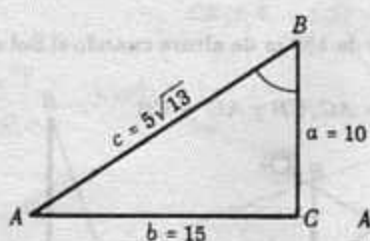


Fig.(a) Prob. 4

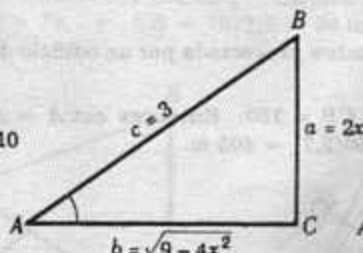


Fig.(b) Prob. 5

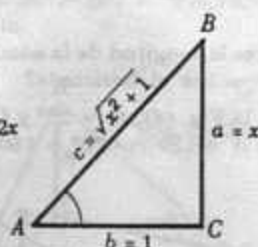


Fig.(c) Prob. 6

5. Si  $A$  es agudo y  $\text{sen } A = 2x/3$ , determínense los valores de las otras funciones.

Constrúyase un triángulo rectángulo  $ABC$  tal que  $a = 2x < 3$  y  $c = 3$ , como en la Fig. (b).

Entonces  $b = \sqrt{c^2 - a^2} = \sqrt{9 - 4x^2}$  y

$$\begin{aligned} \text{sen } A &= \frac{2x}{3}, \cos A = \frac{\sqrt{9 - 4x^2}}{3}, \tan A = \frac{2x}{\sqrt{9 - 4x^2}}, \cot A = \frac{\sqrt{9 - 4x^2}}{2x}, \sec A = \frac{3}{\sqrt{9 - 4x^2}}, \\ \csc A &= \frac{3}{2x} \end{aligned}$$

6. Si  $A$  es agudo y  $\tan A = x = x/1$ , determínense los valores de las otras funciones.

Constrúyase un triángulo rectángulo  $ABC$  tal que  $a = x$  y  $b = 1$ , como en la Fig. (c).

Entonces,  $c = \sqrt{x^2 + 1}$  y

$$\text{sen } A = \frac{x}{\sqrt{x^2 + 1}}, \cos A = \frac{1}{\sqrt{x^2 + 1}}, \tan A = x, \cot A = \frac{1}{x}, \sec A = \sqrt{x^2 + 1}, \csc A = \frac{\sqrt{x^2 + 1}}{x}.$$

7. Si  $A$  es un ángulo agudo: a) ¿Por qué  $\text{sen } A < 1$ ? d) ¿Por qué  $\text{sen } A < \text{tan } A$ ?  
 b) ¿Cuándo  $\text{sen } A = \cos A$ ? e) ¿Cuándo  $\text{sen } A < \cos A$ ?  
 c) ¿Por qué  $\text{sen } A < \csc A$ ? f) ¿Cuándo  $\text{tan } A > 1$ ?

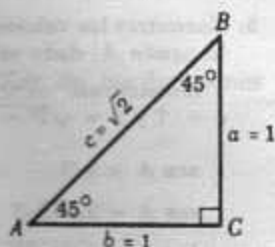
En todo triángulo rectángulo  $ABC$ :

- a) El lado  $a <$  el lado  $c$ ; por tanto,  $\text{sen } A = a/c < 1$ .  
 b)  $\text{Sen } A = \cos A$  cuando  $a/c = b/c$ ; entonces  $a = b$ ,  $A = B$  y  $A = 45^\circ$ .  
 c)  $\text{Sen } A < 1$  (según a) y  $\csc A = 1/\text{sen } A > 1$ .  
 d)  $\text{Sen } A = a/c$ ,  $\text{tan } A = a/b$ , y  $b < c$ ; por tanto  $a/c < a/b$  o  $\text{sen } A < \text{tan } A$ .  
 e)  $\text{Sen } A < \cos A$  cuando  $a < b$ ; entonces  $A < B$  o  $A < 90^\circ - A$ , y  $A < 45^\circ$ .  
 f)  $\text{Tan } A = a/b > 1$  cuando  $a > b$ ; entonces,  $A > B$  y  $A > 45^\circ$ .

8. Encontrar los valores de las funciones trigonométricas de  $45^\circ$ .

En todo triángulo rectángulo isósceles  $ABC$ ,  $A = B = 45^\circ$  y  $a = b$ .  
 Sea  $a = b = 1$ ; entonces  $c = \sqrt{1+1} = \sqrt{2}$  y

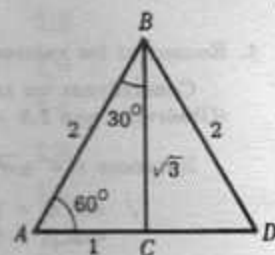
$$\begin{aligned} \text{sen } 45^\circ &= 1/\sqrt{2} = \frac{1}{\sqrt{2}} & \cot 45^\circ &= 1 \\ \cos 45^\circ &= 1/\sqrt{2} = \frac{1}{\sqrt{2}} & \sec 45^\circ &= \sqrt{2} \\ \tan 45^\circ &= 1/1 = 1 & \csc 45^\circ &= \sqrt{2}. \end{aligned}$$



9. Encontrar los valores de las funciones trigonométricas de  $30^\circ$  y  $60^\circ$ .

En todo triángulo equilátero  $ABD$ , cada ángulo mide  $60^\circ$ . La bisectriz de un ángulo cualquiera, (por ejemplo, de  $B$ ) es la mediatriz del lado opuesto. Supóngase que la longitud de los lados del triángulo equilátero es de dos unidades. Entonces en el triángulo rectángulo  $ABC$ ,  $AB = 2$ ,  $AC = 1$ , y  $BC = \sqrt{2^2 - 1^2} = \sqrt{3}$ .

$$\begin{aligned} \text{sen } 30^\circ &= 1/2 = \cos 60^\circ & \cot 30^\circ &= \sqrt{3} = \tan 60^\circ \\ \cos 30^\circ &= \sqrt{3}/2 = \text{sen } 60^\circ & \sec 30^\circ &= 2/\sqrt{3} = 2\sqrt{3}/3 = \csc 60^\circ \\ \tan 30^\circ &= 1/\sqrt{3} = \sqrt{3}/3 = \cot 60^\circ & \csc 30^\circ &= 2 = \sec 60^\circ. \end{aligned}$$



10. ¿Cuál es la longitud de la sombra proyectada por un edificio de 150 m de altura cuando el Sol se ha elevado  $20^\circ$  sobre el horizonte?

En la Fig. (d),  $A = 20^\circ$  y  $CB = 150$ . Entonces  $\cot A = AC/CB$  y  $AC = CB \cot A = 150 \cot 20^\circ = 150(2,7) = 405$  m.

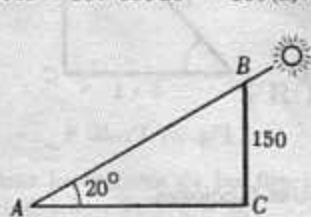


Fig.(d) Prob. 10

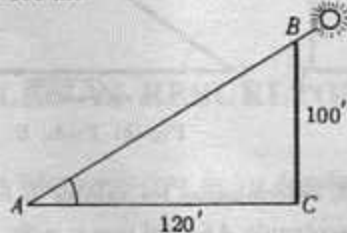


Fig.(e) Prob. 11



Fig.(f) Prob. 12

11. Un edificio de 100 m de altura proyecta una sombra de 120 m de longitud. Encontrar el ángulo de elevación del Sol.

En la Fig. (e),  $CB = 100$  y  $AC = 120$ . Entonces  $\tan A = CB/AC = 100/120 = 0,83$  y  $A = 40^\circ$ .

12. Una escalera de mano está apoyada contra la pared de un edificio, de modo que del pie de la escalera al edificio hay doce unidades. ¿A qué altura del suelo se encuentra el extremo superior de la escalera, y cuál es la longitud de la misma, si forma un ángulo de  $70^\circ$  con el suelo?

Según la Fig. (f),  $\tan A = CB/AC$ ; entonces  $CB = AC \tan A = 12 \tan 70^\circ = 12(2,7) = 32,4$ . El extremo superior de la escalera está a 32 unidades del suelo.

$\text{Sec } A = AB/AC$ ; entonces  $AB = AC \sec A = 12 \sec 70^\circ = 12(2,9) = 34,8$ .

La longitud de la escalera es de 35 unidades.

13. Desde lo alto de un faro, cuya altura sobre el nivel del mar es de 120 pies, el ángulo de depresión de una embarcación es de  $15^\circ$ . ¿A qué distancia del faro está la embarcación?

En el triángulo  $ABC$  de la Fig. (g),  $A = 15^\circ$  y  $CB = 120$ ; entonces  $\cot A = AC/CB$  y  $AC = CB \cot A = 120 \cot 15^\circ = 120(3,7) = 444$  pies.




Fig. (g) Prob. 13

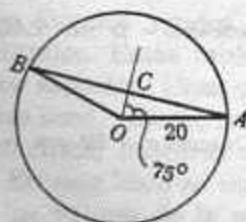


Fig. (h) Prob. 14

14. Encontrar la longitud de la cuerda subtendida por un ángulo central de  $150^\circ$  en una circunferencia de 20 cm de radio.

En la Fig. (h),  $OC$  es bisectriz del  $\angle AOB$ . Entonces  $BC = AC$  y  $OAC$  es un triángulo rectángulo. En  $\triangle OAC$ ,  $\text{sen } \angle COA = AC/OA$  y  $AC = OA \text{ sen } \angle COA = 20 \text{ sen } 75^\circ = 20(0,97) = 19,4$ .

Por tanto  $BA = 38,8$  y la longitud de la cuerda es de 39 cm.

15. Encontrar la altura de un árbol si el ángulo de elevación de su extremo superior crece desde  $20^\circ$  hasta  $40^\circ$  cuando un observador avanza 75 m hacia el pie del árbol. Véase la Fig. (i).

En el triángulo rectángulo  $ABC$ ,  $\cot A = AC/CB$ ; entonces  $AC = CB \cot A$  o  $DC + 75 = CB \cot 20^\circ$ .

En el triángulo rectángulo  $DBC$ ,  $\cot D = DC/CB$ ; entonces  $DC = CB \cot 40^\circ$ .

Por consiguiente:  $DC = CB \cot 20^\circ - 75 = CB \cot 40^\circ$ ,  $CB(\cot 20^\circ - \cot 40^\circ) = 75$ ,  $CB(2,7 - 1,2) = 75$ , y  $CB = 75/1,5 = 50$  m.

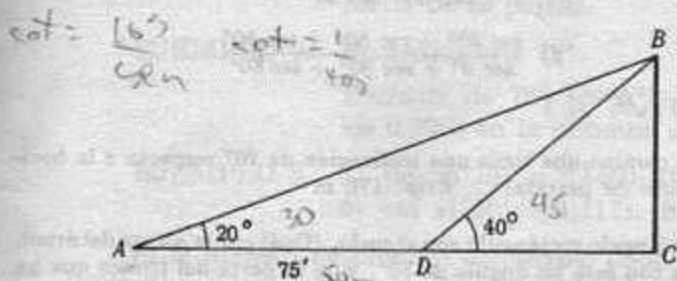


Fig. (i) Prob. 15

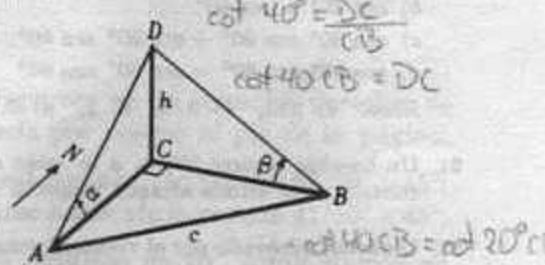


Fig. (j) Prob. 16

16. Una torre está situada en un terreno llano directamente al norte del punto  $A$  y al oeste de un punto  $B$ . La distancia entre los puntos  $A$  y  $B$  es de  $c$  metros. Si los ángulos de elevación del extremo superior de la torre medidos desde  $A$  y  $B$ , son  $\alpha$  y  $\beta$  respectivamente, encontrar la altura  $h$  de la torre.

En el triángulo rectángulo  $ACD$  de la Fig. (j)  $\cot \alpha = AC/h$ ; y en el triángulo rectángulo  $BCD$ ,  $\cot \beta = BC/h$ . Entonces,  $AC = h \cot \alpha$  y  $BC = h \cot \beta$ .

Como  $ABC$  es un triángulo rectángulo,  $(AC)^2 + (BC)^2 = c^2 = h^2(\cot \alpha)^2 + h^2(\cot \beta)^2$  y

$$h = \frac{c}{\sqrt{(\cot \alpha)^2 + (\cot \beta)^2}}$$

17. Sobre una circunferencia se abren agujeros separados entre sí por arcos iguales. Demostrar que la distancia  $d$ , entre los centros de dos agujeros sucesivos, viene dada por  $d = 2r \text{ sen } 180^\circ/n$ , donde  $r$  = radio de la circunferencia y  $n$  = número de agujeros. Encontrar  $d$  cuando  $r = 20$  cm y  $n = 4$ .

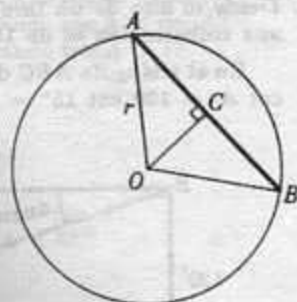
Sean  $A$  y  $B$  los centros de dos agujeros consecutivos en una circunferencia de radio  $r$  y centro  $O$ . Trácese la bisectriz del ángulo  $O$  del triángulo  $AOB$ , y sea  $C$  el punto de intersección de la bisectriz con la cuerda  $AB$ . En el triángulo rectángulo  $AOC$ ,

$$\text{sen } \angle AOC = AC/r = \frac{1}{2}d/r = d/2r.$$

$$\text{Entonces } d = 2r \text{ sen } \angle AOC = 2r \text{ sen } \frac{1}{2} \angle AOB$$

$$= 2r \text{ sen } \frac{1}{2}(360^\circ/n) = 2r \text{ sen } \frac{180^\circ}{n}.$$

$$\text{Cuando } r = 20 \text{ y } n = 4, d = 2 \cdot 20 \text{ sen } 45^\circ = 2 \cdot 20 \frac{\sqrt{2}}{2} = 20\sqrt{2} \text{ cm.}$$



### PROBLEMAS PROPUESTOS

18. Encontrar los valores de las funciones trigonométricas de los ángulos agudos del triángulo rectángulo  $ABC$ , dados a)  $a = 3, b = 1$ ; b)  $a = 2, c = 5$ ; c)  $b = \sqrt{7}, c = 4$ .

Resp. a) A:  $3/\sqrt{10}, 1/\sqrt{10}, 3, 1/3, \sqrt{10}, \sqrt{10}/3$ ; B:  $1/\sqrt{10}, 3/\sqrt{10}, 1/3, 3, \sqrt{10}/3, \sqrt{10}$

b) A:  $2/5, \sqrt{21}/5, 2/\sqrt{21}, \sqrt{21}/2, 5/\sqrt{21}, 5/2$ ; B:  $\sqrt{21}/5, 2/5, \sqrt{21}/2, 2/\sqrt{21}, 5/2, 5/\sqrt{21}$

c) A:  $3/4, \sqrt{7}/4, 3/\sqrt{7}, \sqrt{7}/3, 4/\sqrt{7}, 4/3$ ; B:  $\sqrt{7}/4, 3/4, \sqrt{7}/3, 3/\sqrt{7}, 4/3, 4/\sqrt{7}$

19. Cuál es el mayor y por qué: a) ¿sen  $55^\circ$  o cos  $55^\circ$ ? c) ¿tan  $15^\circ$  o cot  $15^\circ$ ?  
b) ¿sen  $40^\circ$  o cos  $40^\circ$ ? d) ¿sec  $55^\circ$  o csc  $55^\circ$ ?

Sugerencia: Considérese un triángulo rectángulo tal que uno de sus ángulos agudos sea igual al ángulo dado. Resp. a) sen  $55^\circ$ , b) cos  $40^\circ$ , c) cot  $15^\circ$ , d) sec  $55^\circ$

20. Encontrar el valor de cada una de las siguientes expresiones:

a)  $\text{sen } 30^\circ + \tan 45^\circ$

b)  $\text{cot } 45^\circ + \cos 60^\circ$

c)  $\text{sen } 30^\circ \cos 60^\circ + \cos 30^\circ \text{sen } 60^\circ$

d)  $\cos 30^\circ \cos 60^\circ - \text{sen } 30^\circ \text{sen } 60^\circ$

e)  $\frac{\tan 60^\circ - \tan 30^\circ}{1 + \tan 60^\circ \tan 30^\circ}$

f)  $\frac{\text{csc } 30^\circ + \text{csc } 60^\circ + \text{csc } 90^\circ}{\text{sec } 0^\circ + \text{sec } 30^\circ + \text{sec } 60^\circ}$

Resp. a)  $3/2$ , b)  $3/2$ , c)  $1$ , d)  $0$ , e)  $1/\sqrt{3}$ , f)  $1$

21. Un hombre recorre 500 m a lo largo de un camino que tiene una inclinación de  $20^\circ$  respecto a la horizontal. ¿Qué altura alcanza respecto al punto de partida? Resp. 170 m
22. Un árbol quebrado por el viento, forma un triángulo rectángulo con el suelo. ¿Cuál era la altura del árbol, si la parte que ha caído hacia el suelo forma con éste un ángulo de  $50^\circ$ , y si la parte del tronco que ha quedado en pie tiene una altura de 20 m? Resp. 56 m
23. Dos caminos rectos que se cortan, forman un ángulo de  $75^\circ$ . En uno de los caminos y a 1000 m del cruce, hay una estación de gasolina. Encontrar la menor distancia desde la estación hasta el otro camino. Resp. 970 m
24. La distancia entre 2 edificios de tejado plano es de 60 m. Desde la azotea del menor de los edificios, cuya altura es de 40 m se observa la azotea del otro con un ángulo de elevación de  $40^\circ$ . ¿Cuál es la altura del edificio más alto? Resp. 90 m
25. Una escalera de mano, cuyo pie está en la calle, forma un ángulo de  $30^\circ$  con el suelo cuando su extremo superior se apoya en un edificio situado en uno de los lados de la calle, y forma un ángulo de  $40^\circ$  cuando se apoya en un edificio situado en el otro lado de la calle. Si la longitud de la escalera es de 50 m, ¿cuál es el ancho de la calle? Resp. 82 m
26. Encontrar el perímetro de un triángulo isósceles cuya base mide 40 cm si los ángulos de la base miden  $70^\circ$ . Resp. 156 cm

## CAPITULO 4

### Tablas de funciones trigonométricas

#### RESOLUCION DE TRIANGULOS RECTANGULOS

LOS VALORES APROXIMADOS DE LAS FUNCIONES de los ángulos agudos se encuentran en las tablas de las funciones trigonométricas naturales. Estas tablas, tal como aparecen en los distintos textos, se diferencian en varios aspectos. Unas ofrecen los valores de las seis funciones, otras se limitan a las funciones seno, coseno, tangente y cotangente; en algunas aparecen los valores con sólo cuatro cifras, mientras que en otras los valores se extienden hasta la cuarta cifra decimal. En este libro se utilizará este último tipo de tablas. (Cuando las tablas no incluyen los valores de la secante y de la cosecante, debe evitarse toda referencia a estas funciones.)

#### TABLA DE FUNCIONES TRIGONOMETRICAS CON CUATRO CIFRAS DECIMALES

CUANDO EL ANGULO ES MENOR DE  $45^\circ$ , se busca el ángulo en la columna izquierda de la tabla, y la función en el primer renglón superior de la página. Cuando el ángulo es mayor de  $45^\circ$ , se busca el ángulo en la columna derecha de la tabla, y la función en el último renglón inferior de la página.

ENCONTRAR EL VALOR DE UNA FUNCION TRIGONOMETRICA de un ángulo agudo dado. Si el ángulo contiene únicamente un número exacto de grados, o si contiene, además, un número de minutos múltiplo de  $10'$ , el valor de la función se lee directamente en la tabla.

EJEMPLO 1. Encontrar  $\text{sen } 24^\circ 40'$ .

Enfrente de  $24^\circ 40'$  ( $< 45^\circ$ ), que aparece en la columna izquierda, se lee 0,4173 en la columna encabezada por seno en la parte superior de la página.

EJEMPLO 2. Encontrar  $\text{cos } 72^\circ$ .

Enfrente de  $72^\circ$  ( $> 45^\circ$ ), que aparece en la columna derecha, se lee 0,3090 en la columna señalada por coseno al pie de la página.

EJEMPLO 3. a)  $\tan 55^\circ 20' = 1,4460$ . Búsquese *hacia arriba* porque  $55^\circ 20' > 45^\circ$ .  
b)  $\cot 41^\circ 50' = 1,1171$ . Búsquese *hacia abajo* porque  $41^\circ 50' < 45^\circ$ .

Si el número de minutos del ángulo dado no es múltiplo de 10, como sucede en  $24^\circ 43'$ , se hace necesaria una interpolación entre los valores de las funciones de los dos ángulos próximos al ángulo dado ( $24^\circ 40'$  y  $24^\circ 50'$ ) mediante el método de partes proporcionales.

EJEMPLO 4. Encontrar  $\text{sen } 24^\circ 43'$ .

Se obtiene  $\text{sen } 24^\circ 40' = 0,4173$

$\text{sen } 24^\circ 50' = 0,4200$

Diferencia en  $10' = 0,0027 = \text{diferencia tabular}$

Corrección = diferencia de  $3' = 0,3(0,0027) = 0,00081$  o 0,0008 cuando se redondea en la cuarta cifra decimal.

Como el ángulo crece, el seno del ángulo crece; así,  
 $\text{sen } 24^\circ 43' = 0,4173 + 0,0008 = 0,4181$ .

Si se dispone de una tabla con cinco cifras decimales, se puede leer directamente en ella el valor 0,41813 y redondearlo en 0,4181.

**EJEMPLO 5.** Encontrar  $\cos 64^{\circ}26'$ .

Se obtiene  $\cos 64^{\circ}20' = 0,4331$

$\cos 64^{\circ}30' = 0,4305$

Diferencia tabular = 0,0026

Corrección =  $0,6(0,0026) = 0,00156$  o 0,0016 con cuatro cifras decimales.

Como el ángulo crece, el coseno decrece. Por tanto,

$$\cos 64^{\circ}26' = 0,4331 - 0,0016 = 0,4315.$$

Para ahorrar tiempo, en el ejemplo 4 se procederá de la siguiente manera:

- Localícese  $\sin 24^{\circ}40' = 0,4173$ . Por ahora, omítase la coma decimal y considérese únicamente el número 4173.
- Búsquese (mentalmente) la diferencia tabular 27, es decir, la diferencia entre el número 4173, correspondiente a  $24^{\circ}40'$  y el número 4200 correspondiente a  $24^{\circ}50'$ .
- Calcúlese  $0,3(27) = 8,1$  y redondéese en el entero más próximo. Esta es la corrección.
- Añádase (puesto que se trata de un seno) la corrección a 4173. Así se obtiene el número 4181. Entonces,  $\sin 24^{\circ}43' = 0,4181$ .

Cuando, como ocurre en el ejemplo anterior, la interpolación se efectúa del ángulo menor hacia el mayor: 1) Se añade la corrección para encontrar el seno, la tangente y la secante. 2) Se resta la corrección para encontrar el coseno, la cotangente y la cosecante.

(Véase también el problema 1.)

**ENCONTRAR EL ANGULO CUANDO SE CONOCE UNA DE SUS FUNCIONES.** El proceso es el inverso del que se expuso anteriormente.

**EJEMPLO 6.** De la lectura directamente de la tabla se obtiene  $0,2924 = \sin 17^{\circ}$ ,  $2,7725 = \tan 70^{\circ}10'$ .

**EJEMPLO 7.** Encontrar  $A$ , dado  $\sin A = 0,4234$ .

El valor dado no aparece en la tabla. Sin embargo se tiene que

$$0,4226 = \sin 25^{\circ} 0' \quad 0,4226 = \sin 25^{\circ}0'$$

$$0,4253 = \sin 25^{\circ}10' \quad 0,4234 = \sin A$$

Diferencia tabular =  $\frac{0,0027}{0,0027}$        $\frac{0,0008}{0,0008} =$  diferencia parcial

Corrección =  $\frac{0,0008}{0,0027} (10') = \frac{8}{27} (10') = 3'$ , aproximada al minuto más cercano.

Cuando se suma la corrección (ya que es un seno), se obtiene

$$25^{\circ}0' + 3' = 25^{\circ}3' = A.$$

**EJEMPLO 8.** Encontrar  $A$ , dada  $\cot A = 0,6345$ .

Se encuentra  $0,6330 = \cot 57^{\circ}40'$        $0,6330 = \cot 57^{\circ}40'$

$$0,6371 = \cot 57^{\circ}30' \quad 0,6345 = \cot A$$

Diferencia tabular =  $\frac{0,0041}{0,0041}$        $\frac{0,0015}{0,0015} =$  diferencia parcial

$$\text{Corrección} = \frac{0,0015}{0,0041} (10') = \frac{15}{41} (10') = 4', \text{ aproximada al minuto más cercano.}$$

Cuando se sustrae la corrección (ya que es una cotangente), se obtiene

$$57^{\circ}40' - 4' = 57^{\circ}36' = A.$$

Para ahorrar tiempo, en el ejemplo 7 se puede proceder de la siguiente manera:

- Localícese el valor más cercano,  $0,4226 = \text{sen } 25^{\circ}0'$ . Omítase la coma decimal y considérese únicamente el número 4226.
- Búsquese la diferencia tabular, 27.
- Búsquese la diferencia parcial, 8, entre 4226 y el número 4234 correspondiente al valor dado.
- Calcúlese  $\frac{8}{27} (10') = 3'$  y súmese a  $25^{\circ}0'$ .

(Véase el problema 3.)

**LOS ERRORES EN LOS RESULTADOS CALCULADOS** provienen de:

- Errores en los datos. Estos errores están siempre presentes en los datos que provienen de mediciones.
- El uso de las tablas de las funciones trigonométricas naturales. Los valores que aparecen en las tablas son generalmente aproximaciones de expresiones decimales infinitas.

Cuando en la medición se registran 35 m, se está indicando que el resultado es correcto en lo que se refiere al metro más cercano, es decir, que la verdadera longitud está comprendida entre 34,5 y 35,5 metros. Del mismo modo, al registrarse una longitud de 35,0 metros, se indica que la verdadera longitud está comprendida entre 34,95 y 35,05 metros; una anotación correspondiente a 35,8 metros significa que la verdadera longitud está entre 35,75 y 35,85 metros; una anotación de 35,80 metros significa que la verdadera longitud está entre 35,795 y 35,805 metros, y así sucesivamente.

**CIFRAS SIGNIFICATIVAS.** En el número 35 hay dos cifras significativas, 3 y 5. También hay dos cifras significativas en 3,5, 0,35, 0,035, 0,0035 pero no en 35,0, 3,50, 0,350, 0,0350. En los números 35,0, 3,50, 0,350, 0,0350 hay tres cifras significativas, 3, 5 y 0. Este es otro modo de decir que 35 y 35,0 no expresan la misma medición.

Es imposible determinar las cifras significativas en mediciones registradas como 350, 3500, 35000, ... Por ejemplo, 350 puede significar que el verdadero resultado está entre 345 y 355, o entre 349,5 y 350,5.

**EXACTITUD EN LOS RESULTADOS CALCULADOS.** Un resultado no debe tener más cifras decimales que las que tiene el menos exacto de los datos obtenidos en una medición. Es importante tener en cuenta aquí las siguientes relaciones entre el grado de exactitud de las longitudes y los ángulos:

- Distancias expresadas con dos cifras significativas y ángulos expresados con aproximación al grado más cercano.
- Distancias expresadas con 3 cifras significativas y ángulos expresados con aproximación al múltiplo más cercano de  $10'$ .
- Distancias expresadas con 4 cifras significativas y ángulos expresados con aproximación de  $1'$ .
- Distancias expresadas con 5 cifras significativas y ángulos expresados con aproximación de  $0,1'$ .



## PROBLEMAS RESUELTOS

1. a)  $\text{sen } 56^{\circ}34' = 0,8345$ ;  $8339 + 0,4(16) = 8339 + 6$   
 b)  $\text{cos } 19^{\circ}45' = 0,9412$ ;  $9417 - 0,5(10) = 9417 - 5$   
 c)  $\text{tan } 77^{\circ}12' = 4,4016$ ;  $43897 + 0,2(597) = 43897 + 119$   
 d)  $\text{cot } 40^{\circ}36' = 1,1667$ ;  $11708 - 0,6(68) = 11708 - 41$   
 e)  $\text{sec } 23^{\circ}47' = 1,0928$ ;  $10918 + 0,7(14) = 10918 + 10$   
 f)  $\text{csc } 60^{\circ}4' = 1,1539$ ;  $11547 - 0,4(19) = 11547 - 8$
2. Si la corrección es 6,5, 13,5, 10,5, etc., se debe redondear el resultado final de modo que termine en cifra par.
- a)  $\text{sen } 28^{\circ}37' = 0,4790$ ;  $4772 + 0,7(25) = 4772 + 17,5$   
 b)  $\text{cot } 65^{\circ}53' = 0,4476$ ;  $4487 - 0,3(35) = 4487 - 10,5$   
 c)  $\text{cos } 35^{\circ}25' = 0,8150$ ;  $8158 - 0,5(17) = 8158 - 8,5$   
 d)  $\text{sec } 39^{\circ}35' = 1,2976$ ;  $12960 + 0,5(31) = 12960 + 15,5$

3. a)  $\text{sen } A = 0,6826$ ,  $A = 43^{\circ}3'$ ;  $43^{\circ}0' + \frac{6}{21}(10') = 43^{\circ}0' + 3'$   
 b)  $\text{cos } A = 0,5957$ ,  $A = 53^{\circ}26'$ ;  $53^{\circ}30' - \frac{9}{24}(10') = 53^{\circ}30' - 4'$   
 c)  $\text{tan } A = 0,9470$ ,  $A = 43^{\circ}26'$ ;  $43^{\circ}20' + \frac{35}{55}(10') = 43^{\circ}20' + 6'$   
 d)  $\text{cot } A = 1,7580$ ,  $A = 29^{\circ}38'$ ;  $29^{\circ}40' - \frac{24}{119}(10') = 29^{\circ}40' - 2'$   
 e)  $\text{sec } A = 2,3198$ ,  $A = 64^{\circ}28'$ ;  $64^{\circ}20' + \frac{110}{140}(10') = 64^{\circ}20' + 8'$   
 f)  $\text{csc } A = 1,5651$ ,  $A = 39^{\circ}43'$ ;  $39^{\circ}50' - \frac{40}{55}(10') = 39^{\circ}50' - 7'$

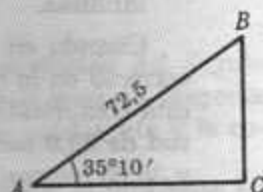
4. Resolver el triángulo rectángulo en el cual  $A = 35^{\circ}10'$  y  $c = 72,5$ .

Solución  $B = 90^{\circ} - 35^{\circ}10' = 54^{\circ}50'$ .

$$a/c = \text{sen } A, \quad a = c \text{ sen } A = 72,5(0,5760) = 41,8.$$

$$b/c = \text{cos } A, \quad b = c \text{ cos } A = 72,5(0,8175) = 59,3.$$

Comprobación:  $a/b = \text{tan } A$ ,  $a = b \text{ tan } A = 59,3(0,7046) = 41,8$ .



5. Resolver el triángulo rectángulo en el cual  $a = 24,36$ ,  $A = 58^{\circ}53'$ .

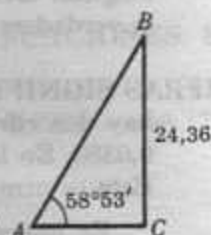
Solución  $B = 90^{\circ} - 58^{\circ}53' = 31^{\circ}7'$ .

$$b/a = \text{cot } A, \quad b = a \text{ cot } A = 24,36(0,6036) = 14,70.$$

$$c/a = \text{csc } A, \quad c = a \text{ csc } A = 24,36(1,1681) = 28,45, \text{ o}$$

$$a/c = \text{sen } A, \quad c = a/\text{sen } A = 24,36/0,8562 = 28,45.$$

Comprobación:  $b/c = \text{cos } A$ ,  $b = c \text{ cos } A = 28,45(0,5168) = 14,70$ .



6. Resolver el triángulo rectángulo ABC, donde  $a = 43,9$ ,  $b = 24,3$ .

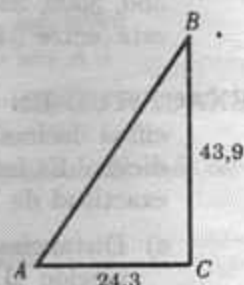
Solución:  $\text{tan } A = \frac{43,9}{24,3} = 1,8066$ ;  $A = 61^{\circ}2'$ ,  $B = 90^{\circ} - A = 28^{\circ}58'$ .

$$c/a = \text{csc } A, \quad c = a \text{ csc } A = 43,9(1,1430) = 50,2, \text{ o}$$

$$a/c = \text{sen } A, \quad c = a/\text{sen } A = 43,9/0,8749 = 50,2.$$

Comprobación:  $c/b = \text{sec } A$ ,  $c = b/\text{sec } A = 24,3(2,0649) = 50,2, \text{ o}$

$$b/c = \text{cos } A, \quad c = b/\text{cos } A = 24,3/0,4843 = 50,2.$$

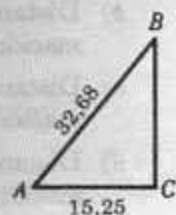


7. Resolver el triángulo rectángulo ABC, donde  $b = 15,25$ ,  $c = 32,68$ .

Solución:  $\text{sen } B = \frac{15,25}{32,68} = 0,4666$ ;  $B = 27^{\circ}49'$ ,  $A = 90^{\circ} - B = 62^{\circ}11'$ .

$$a/b = \text{cot } B, \quad a = b \text{ cot } B = 15,25(1,8953) = 28,90.$$

Comprobación:  $a/c = \text{cos } B$ ,  $a = c \text{ cos } B = 32,68(0,8844) = 28,90$ .



8. La base de un triángulo isósceles mide 20,4, y los ángulos de la base miden  $48^{\circ}40'$ . Encontrar los lados iguales y la altura del triángulo.

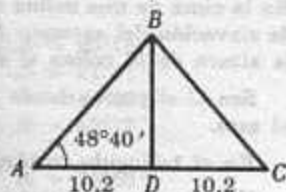
En la figura,  $BD$  es perpendicular a la base  $AC$  y la biseca.

En el triángulo rectángulo  $ABD$ ,

$$AB/AD = \sec A, \quad AB = 10,2(1,5141) = 15,4.$$

$$AD/AB = \cos A, \quad AB = 10,2/0,6604 = 15,4.$$

$$DB/AD = \tan A, \quad DB = 10,2(1,1369) = 11,6.$$



9. Considérese la Tierra como una esfera de 3960 millas de radio. Encontrar el radio  $r$  correspondiente al paralelo cuya latitud es de  $40^{\circ}$ . Véase la Fig. (a).

En el triángulo rectángulo  $OCB$ ,  $\angle OBC = 40^{\circ}$  y  $OB = 3960$ .

Entonces  $\cos \angle OBC = CB/OB$  y  $r = CB = 3960 \cos 40^{\circ} = 3960(0,7660) = 3030$  millas.

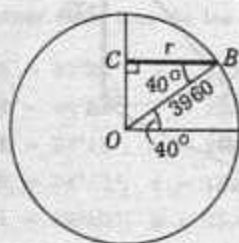


Fig.(a) Prob. 9

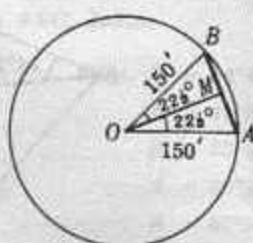


Fig.(b) Prob. 10

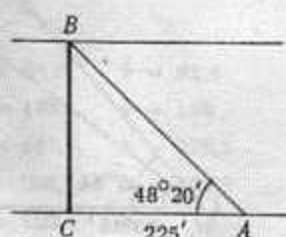


Fig.(c) Prob. 11

10. Encontrar el perímetro de un octógono regular inscrito en una circunferencia de 150 cm de radio.

En la figura (b), se han unido con el vértice  $O$  de la circunferencia dos vértices consecutivos,  $A$  y  $B$ , del octógono. El triángulo  $OAB$  es isósceles. Los lados iguales miden 150 y  $\angle AOB = 360^{\circ}/8 = 45^{\circ}$ .

Como en el problema 8, se biseca  $\angle AOB$  para formar el triángulo rectángulo  $MOB$ .

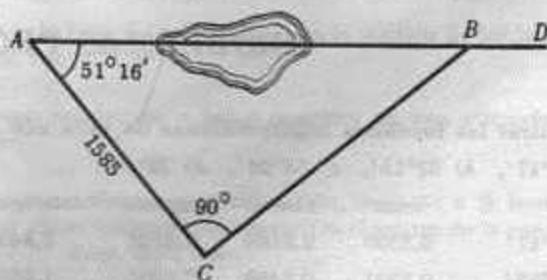
Entonces  $MB = OB \sin \angle MOB = 150 \sin 22^{\circ}30' = 150(0,3827) = 57,4$ , y el perímetro del octógono  $16 MB = 16(57,4) = 918$  cm.

11. Al calcular el ancho de un río, un topógrafo coloca su tránsito en un punto  $C$  de una de las orillas y localiza un punto  $B$  en la orilla opuesta. Después, gira un ángulo de  $90^{\circ}$  y determina una distancia  $CA = 225$  m. Por último, sitúa el tránsito en  $A$  y comprueba que  $\angle CAB$  mide  $48^{\circ}20'$ . Encontrar el ancho del río.

Véase la Fig.(c). En el triángulo rectángulo  $ACB$ ,

$$CB = AC \tan \angle CAB = 225 \tan 48^{\circ}20' = 225(1,1237) = 253 \text{ m.}$$

12. La recta  $AD$  de la figura adjunta atraviesa un pantano. Para localizar un punto de esta recta, al otro lado del pantano, un topógrafo se sitúa en el punto  $A$ , gira un ángulo de  $51^{\circ}16'$  y determina una distancia de 1585 m hasta un punto  $C$ . Por último, con el tránsito en  $C$ , gira un ángulo de  $90^{\circ}$  para determinar la recta  $CB$ . Si el punto  $B$  está situado en la recta  $AD$ , ¿qué distancia ha de recorrer el topógrafo para ir desde  $C$  hasta  $B$ ?



$$CB = AC \tan 51^{\circ}16' = 1585(1,2467) = 1976 \text{ m.}$$

13. En la cima de una colina hay un asta de bandera. Desde un punto  $A$ , en el terreno llano, los ángulos de elevación del extremo  $D$  y del pie  $B$  del asta miden, respectivamente,  $47^{\circ}54'$  y  $39^{\circ}45'$ . Encontrar la altura de la colina si el asta mide 115,5 dm. Véase la Fig. (d).

Sea  $C$  el punto donde la recta horizontal que pasa por  $A$  corta a la recta vertical que atraviesa el asta.

En el triángulo rectángulo  $ACD$ ,  $AC = DC \cot 47^{\circ}54' = (115,5 + BC)(0,9036)$ .

En el triángulo rectángulo  $ACB$ ,  $AC = BC \cot 39^{\circ}45' = BC(1,2024)$ .

Entonces  $(115,5 + BC)(0,9036) = BC(1,2024)$

$$\text{y } BC = \frac{115,5(0,9036)}{1,2024 - 0,9036} = 349,3$$

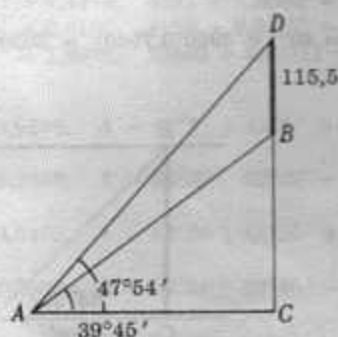


Fig. (d) Prob. 13

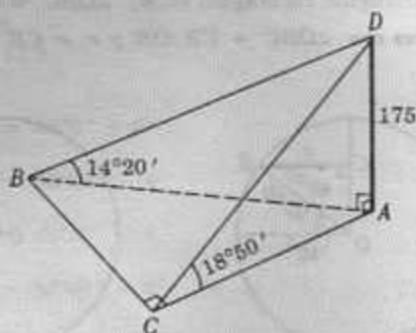


Fig. (e) Prob. 14

14. Desde lo alto de un faro, a 175 pies sobre el nivel del mar, el ángulo de depresión de un barco situado directamente al sur, es  $18^{\circ}50'$ . Dos minutos más tarde el ángulo de depresión es  $14^{\circ}20'$ . Calcular la velocidad del barco si se observa que navega directamente hacia el oeste.

En la Fig. (e),  $AD$  es el faro,  $C$  es el punto situado directamente al sur del faro donde se encontraba el barco cuando fue observado la primera vez, y  $B$  es la posición del barco dos minutos más tarde.

En el triángulo rectángulo  $CAD$ ,  $AC = AD \cot \angle ACD = 175 \cot 18^{\circ}50' = 175(2,9319) = 513$ .

En el triángulo rectángulo  $BAD$ ,  $AB = AD \cot \angle ABD = 175 \cot 14^{\circ}20' = 175(3,9136) = 685$ .

En el triángulo  $ABC$ ,  $BC = \sqrt{(AB)^2 - (AC)^2} = \sqrt{(685)^2 - (513)^2} = 454$ .

El barco recorre 454 pies en 2 minutos; su velocidad es 227 pies/min.

## PROBLEMAS PROPUESTOS

15. Encontrar las funciones trigonométricas de cada uno de los ángulos siguientes:

a)  $18^{\circ}47'$ , b)  $32^{\circ}13'$ , c)  $58^{\circ}24'$ , d)  $79^{\circ}45'$ .

Resp.	seno	coseno	tangente	cotangente	secante	cosecante
a) $18^{\circ}47'$	0,3220	0,9468	0,3401	2,9403	1,0563	3,1057
b) $32^{\circ}13'$	0,5331	0,8460	0,6301	1,5869	1,1820	1,8757
c) $58^{\circ}24'$	0,8517	0,5240	1,6255	0,6152	1,9084	1,1741
d) $79^{\circ}45'$	0,9840	0,1780	5,5304	0,1808	5,6201	1,0162

16. Encontrar el ángulo (agudo)  $A$ , dado:

a) $\operatorname{sen} A = 0,5741$	<i>Resp.</i> $A = 35^\circ 2'$	e) $\operatorname{cos} A = 0,9382$	<i>Resp.</i> $A = 20^\circ 15'$
b) $\operatorname{sen} A = 0,9468$	$A = 71^\circ 13'$	f) $\operatorname{cos} A = 0,6200$	$A = 51^\circ 41'$
c) $\operatorname{sen} A = 0,3510$	$A = 20^\circ 33'$	g) $\operatorname{cos} A = 0,7120$	$A = 44^\circ 36'$
d) $\operatorname{sen} A = 0,8900$	$A = 62^\circ 52'$	h) $\operatorname{cos} A = 0,4651$	$A = 62^\circ 17'$
i) $\tan A = 0,2725$	$A = 15^\circ 15'$	m) $\cot A = 0,2315$	$A = 76^\circ 58'$
j) $\tan A = 1,1652$	$A = 49^\circ 22'$	n) $\cot A = 2,9715$	$A = 18^\circ 36'$
k) $\tan A = 0,5200$	$A = 27^\circ 28'$	o) $\cot A = 0,7148$	$A = 54^\circ 27'$
l) $\tan A = 2,7775$	$A = 70^\circ 12'$	p) $\cot A = 1,7040$	$A = 30^\circ 24'$
q) $\operatorname{sec} A = 1,1161$	$A = 26^\circ 22'$	u) $\operatorname{csc} A = 3,6882$	$A = 15^\circ 4'$
r) $\operatorname{sec} A = 1,4382$	$A = 45^\circ 57'$	v) $\operatorname{csc} A = 1,0547$	$A = 71^\circ 28'$
s) $\operatorname{sec} A = 1,2618$	$A = 37^\circ 35'$	w) $\operatorname{csc} A = 1,7631$	$A = 3^\circ 33'$
t) $\operatorname{sec} A = 2,1584$	$A = 62^\circ 24'$	x) $\operatorname{csc} A = 1,3436$	$A = 48^\circ 6'$

17. Resolver cada uno de los triángulos  $ABC$ , dados:

a) $A = 35^\circ 20'$ , $c = 112$	<i>Resp.</i> $B = 54^\circ 40'$ , $a = 64,8$ , $b = 91,4$
b) $B = 48^\circ 40'$ , $c = 225$	$A = 41^\circ 20'$ , $a = 149$ , $b = 169$
c) $A = 23^\circ 18'$ , $c = 346,4$	$B = 66^\circ 42'$ , $a = 137,0$ , $b = 318,1$
d) $B = 54^\circ 12'$ , $c = 182,5$	$A = 35^\circ 48'$ , $a = 106,7$ , $b = 148,0$
e) $A = 32^\circ 10'$ , $a = 75,4$	$B = 57^\circ 50'$ , $b = 120$ , $c = 142$
f) $A = 58^\circ 40'$ , $b = 38,6$	$B = 31^\circ 20'$ , $a = 63,4$ , $c = 74,2$
g) $B = 49^\circ 14'$ , $b = 222,2$	$A = 40^\circ 46'$ , $a = 191,6$ , $c = 293,4$
h) $A = 66^\circ 36'$ , $a = 112,6$	$B = 23^\circ 24'$ , $b = 48,73$ , $c = 122,7$
i) $A = 29^\circ 48'$ , $b = 458,2$	$B = 60^\circ 12'$ , $a = 262,4$ , $c = 528,0$
j) $a = 25,4$ , $b = 38,2$	$A = 33^\circ 37'$ , $B = 56^\circ 23'$ , $c = 45,9$
k) $a = 45,6$ , $b = 84,8$	$A = 28^\circ 16'$ , $B = 61^\circ 44'$ , $c = 96,3$
l) $a = 38,64$ , $b = 48,74$	$A = 38^\circ 24'$ , $B = 51^\circ 36'$ , $c = 62,21$
m) $a = 506,2$ , $c = 984,8$	$A = 30^\circ 56'$ , $B = 59^\circ 4'$ , $b = 844,7$
n) $b = 672,9$ , $c = 888,1$	$A = 40^\circ 44'$ , $B = 49^\circ 16'$ , $a = 579,4$

18. Encontrar la base y la altura de un triángulo isósceles cuyo ángulo del vértice mide  $65^\circ$  y cuyos lados iguales miden 415 cm. *Resp.* Base = 446 cm, altura 350 cm

19. Un triángulo isósceles tiene una base de 15,90 cm, y los ángulos de su base miden  $54^\circ 28'$ . Encontrar los lados iguales y la altura. *Resp.* Lado = 13,68 cm, altura = 11,13 cm

20. El radio de una circunferencia mide 21,4 m. Encontrar a) la longitud de la cuerda subtendida por un ángulo central de  $110^\circ 40'$  y b) la distancia entre dos cuerdas paralelas, situadas a un mismo lado del centro, si están subtendidas por ángulos centrales de  $118^\circ 40'$  y  $52^\circ 20'$ .  
*Resp.* a) 35,2 m, b) 8,29 m

21. Demostrar que si, en un triángulo isósceles,  $b$  es la base del triángulo,  $a$  es la medida de los lados iguales y  $\theta$  es el ángulo del vértice, entonces  $b = 2a \operatorname{sen} \frac{\theta}{2}$ .

22. Demostrar que el perímetro  $P$  de un polígono regular de  $n$  lados inscritos en una circunferencia de radio  $r$  viene dado por  $P = 2nr \operatorname{sen} (180^\circ/n)$ .

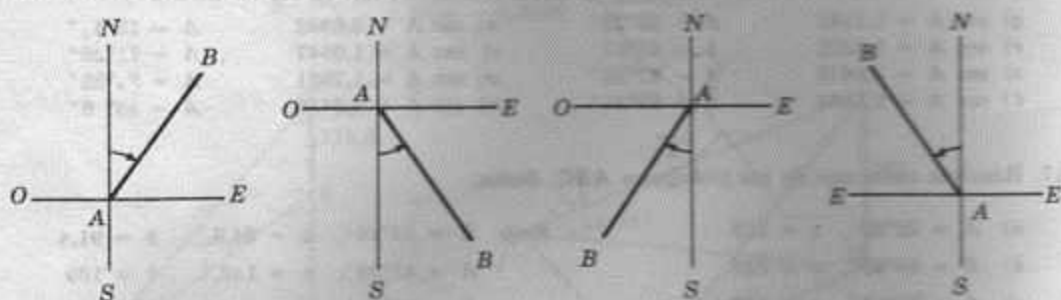
23. Una rueda de 5 dm de diámetro, asciende por un plano cuya inclinación, respecto a la horizontal, es de  $18^\circ 20'$ . ¿A qué altura, respecto a la base del plano inclinado, se encuentra el centro de la rueda cuando ésta ha recorrido 5 dm a lo largo del plano? *Resp.* 3,95 dm

24. La distancia entre una pared de 15 pies de altura y una casa es de 10 pies. ¿Cuál ha de ser la menor longitud de una escalera de mano que permita llegar al extremo superior de la pared y a una ventana de la casa situada a 20,5 pies de altura? *Resp.* 42,5 pies

## CAPITULO 5

### Aplicaciones prácticas

LA ORIENTACION DE UN PUNTO  $B$  RESPECTO A UN PUNTO  $A$ , en un plano horizontal, se define, generalmente, como el ángulo (siempre agudo) que forman la recta norte-sur que pasa por  $A$  y la semi-recta cuyo origen es  $A$  y que pasa por  $B$ . La orientación se lee, entonces, desde las semi-rectas norte o sur hacia el este o hacia el oeste.



Orientación:  $N 35^\circ E$

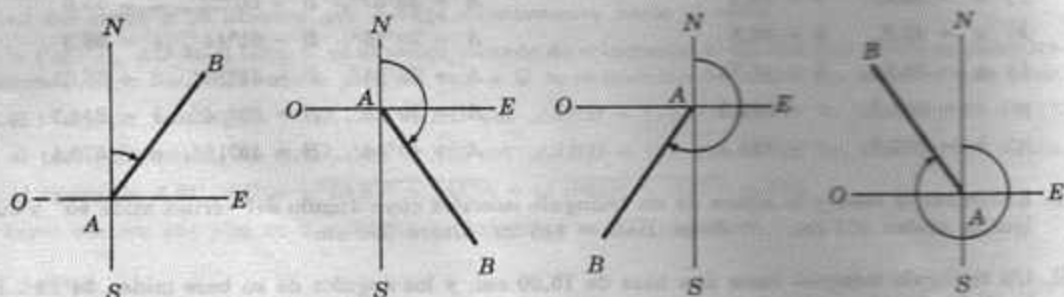
$S 35^\circ E$

$S 35^\circ O$

$N 35^\circ O$

Fig. 5-A

En aeronáutica, la orientación de  $B$  respecto de  $A$  suele expresarse como el ángulo formado por la semi-recta  $AB$  y la semi-recta que, orientada hacia el norte, tiene su origen en  $A$ . Este ángulo se mide, a partir del norte, en el mismo sentido que el del movimiento de las agujas del reloj (es decir, desde el norte hacia el este). Por ejemplo,



Orientación:  $35^\circ$

$145^\circ$

$215^\circ$

$325^\circ$

Fig. 5-B

**VECTORES.** Toda cantidad física, como la fuerza o la velocidad, que posee magnitud, dirección y sentido, recibe el nombre de *cantidad vectorial*. Una cantidad vectorial se puede representar mediante un segmento de recta dirigido (flecha) llamado *vector*. La *dirección* y *sentido* del vector son los de la cantidad dada, y la longitud del vector es proporcional a la magnitud de la cantidad.

**EJEMPLO 1.** La velocidad de un aeroplano es de 200 millas/hora  $N 40^\circ E$ . Su velocidad aparece representada por el vector  $AB$  de la Fig. 5-C.

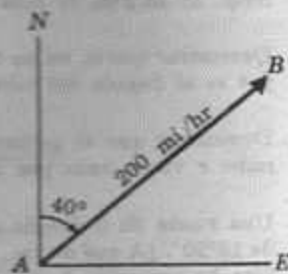


Fig. 5-C

**EJEMPLO 2.** Un bote de motor que en aguas tranquilas navega a razón de 12 kilómetros/hora, se dirige directamente a través de un río de una orilla a otra. La velocidad de las aguas del río es de 4 kilómetros/hora. En la Fig. 5-D, el vector  $CD$  representa la velocidad del río y el vector  $AB$  representa, en la misma escala, la velocidad del bote en aguas tranquilas. Así, la longitud del vector  $AB$  es tres veces la del vector  $CD$ .

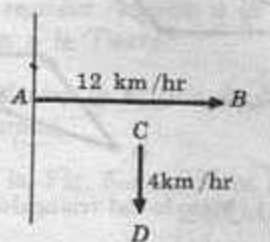


Fig. 5-D

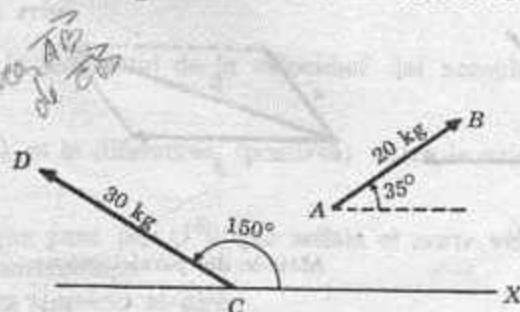


Fig. 5-E

**EJEMPLO 3.** En la Fig. 5-E, el vector  $AB$  representa una fuerza de 20 kg que forma un ángulo de  $35^\circ$  con el sentido positivo del eje de las  $X$ , y el vector  $CD$  representa una fuerza de 30 kg que forma un ángulo de  $150^\circ$  con el sentido positivo del eje de las  $X$ . Se ha utilizado la misma escala para ambos vectores.

Dos vectores son iguales si tienen la misma magnitud, la misma dirección y el mismo sentido. Un vector no tiene una posición fija en un plano; puede moverse en él, siempre que conserve su magnitud, dirección y sentido.

**ADICION DE VECTORES.** La *resultante* o *vector suma* de varios vectores, situados todos en un mismo plano, es el vector del plano que produce el mismo efecto que el producido por todos los vectores originales cuando actúan conjuntamente.

Si dos vectores  $\alpha$  y  $\beta$  son paralelos y del mismo sentido, su resultante es un vector  $R$  cuya magnitud es igual a la suma de las magnitudes de los dos vectores y cuyo sentido es el de los vectores dados. Véase la Fig. 5-F (a).

Si dos vectores paralelos tienen sentidos opuestos, su resultante es un vector  $R$  cuya magnitud es la diferencia (magnitud del mayor - magnitud del menor) de las magnitudes de los dos vectores y cuyo sentido es el del vector de mayor magnitud. Véase la Fig. 5-F (b).

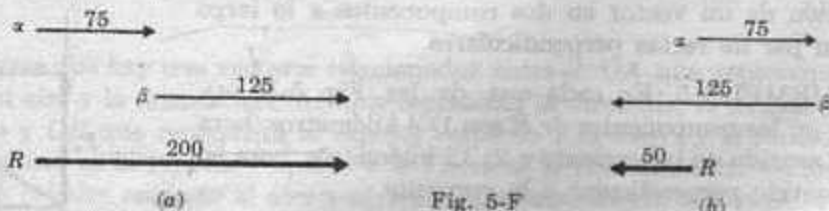


Fig. 5-F

En todos los otros casos, la magnitud, la dirección y el sentido de la resultante se obtienen mediante cualquiera de los dos métodos siguientes.

- 1) **METODO DEL PARALELOGRAMO.** Colóquense los orígenes de ambos vectores en un punto cualquiera  $O$  de su plano y complétese el paralelogramo que tiene a estos vectores por lados adyacentes. La diagonal dirigida cuyo origen es  $O$  es la resultante o vector suma de los vectores dados. Así, en la Fig. 5-G (b), el vector  $R$  es la resultante de los vectores  $\alpha$  y  $\beta$  de la Fig. 5-G (a).

2) METODO DEL TRIANGULO. Escójase uno de los vectores y désignese su origen por  $O$ . Colóquese el otro vector en el extremo del primero. La resultante es, entonces, el segmento de recta dirigido que completa el triángulo y cuyo origen es  $O$ . Así, en la Fig. 5-G (c) y Fig. 5-G (d),  $R$  es la resultante de los vectores  $\alpha$  y  $\beta$ .

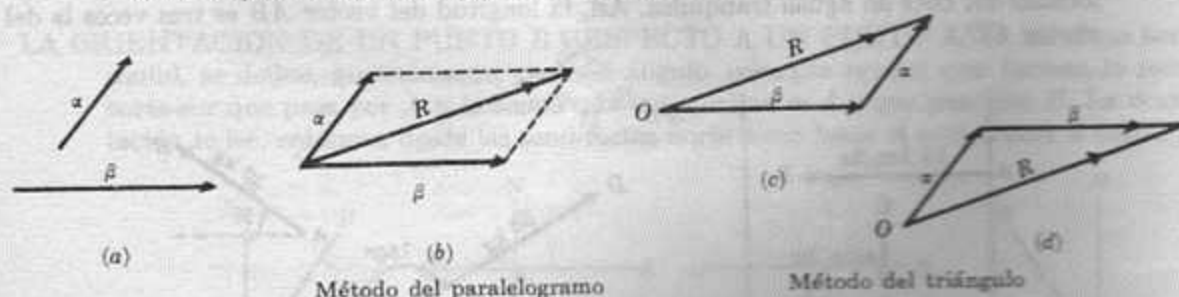


Fig. 5-G

EJEMPLO 4. La resultante  $R$  de los dos vectores del ejemplo 2 representa la rapidez, la dirección y el sentido del movimiento del bote. La Fig. 5-H (a) ilustra el método del paralelogramo; la Fig. 5-H (b) y la Fig. 5-H (c) ilustran el método del triángulo.

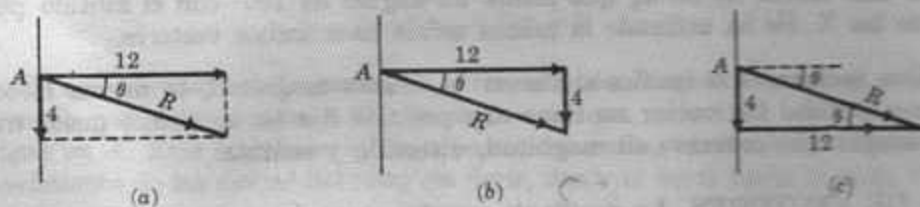


Fig. 5-H

La magnitud de  $R = \sqrt{(12)^2 + 4^2} = 12,6$  kilómetros/hora.

Entonces, el bote se mueve, a favor de la corriente, a lo largo de una recta que forma un ángulo  $\theta = 18^\circ 30'$  con la dirección original que había tomado, o un ángulo  $90^\circ - \theta = 71^\circ 30'$  con la orilla del río.

Según las Fig. 5-H (a) o 5-H (b),  $\tan \theta = 4/12 = 0,3333$  y  $\theta = 18^\circ 30'$ .

LA COMPONENTE DE UN VECTOR  $\alpha$  sobre una recta  $L$  es la proyección perpendicular del vector  $\alpha$  sobre  $L$ . Con frecuencia es útil la descomposición de un vector en dos componentes a lo largo de un par de rectas perpendiculares.

EJEMPLO 5. En cada una de las Fig. 5-H (a), (b) y (c) las componentes de  $R$  son 1) 4 kilómetros/hora en el sentido de la corriente y 2) 12 kilómetros/hora en un sentido perpendicular a la corriente.

EJEMPLO 6. En la Fig. 5-I, la fuerza  $F$  tiene por componente horizontal  $F_h = F \cos 30^\circ$  y por componente vertical  $F_v = F \sin 30^\circ$ . Obsérvese que  $F$  es el vector suma o resultante de  $F_h$  y  $F_v$ .

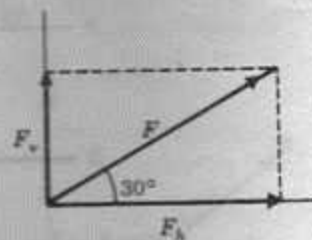


Fig. 5-I

NAVEGACION AEREA. La *orientación* de un aeroplano es la dirección (determinada por una lectura de la brújula) en la que está enfilado el aeroplano. La orientación se mide, a partir del norte, en el mismo sentido que el del movimiento de las agujas de un reloj.

La *rapidez respecto al aire* (determinada por una lectura del indicador de velocidad en el aire) es la magnitud de la velocidad del aeroplano en aire tranquilo.

La *derrota* (o rumbo) de un aeroplano es la dirección y sentido en que se mueve respecto a la Tierra. El rumbo se mide, a partir del norte, en el mismo sentido que el del movimiento de las agujas de un reloj.

La *rapidez respecto a la Tierra* es la magnitud de la velocidad del aeroplano con relación a la Tierra.

La *deriva* (o ángulo de desviación) es la diferencia (positiva) entre la orientación y el rumbo.

En la Fig. 5-J:  $ON$  es la recta que pasa por  $O$  y que señala el norte verdadero,  $\angle NOA$  es la orientación,  $OA$  = la rapidez respecto al aire,  $AN$  es la recta que pasa por  $A$  y que señala el norte verdadero,  $\angle NAO$  es la dirección del viento, medida a partir de la recta que señala el norte,  $AB$  = la rapidez del viento,  $\angle NOB$  es el rumbo,  $OB$  = la rapidez respecto a la Tierra,  $\angle AOB$  es el ángulo de desviación.

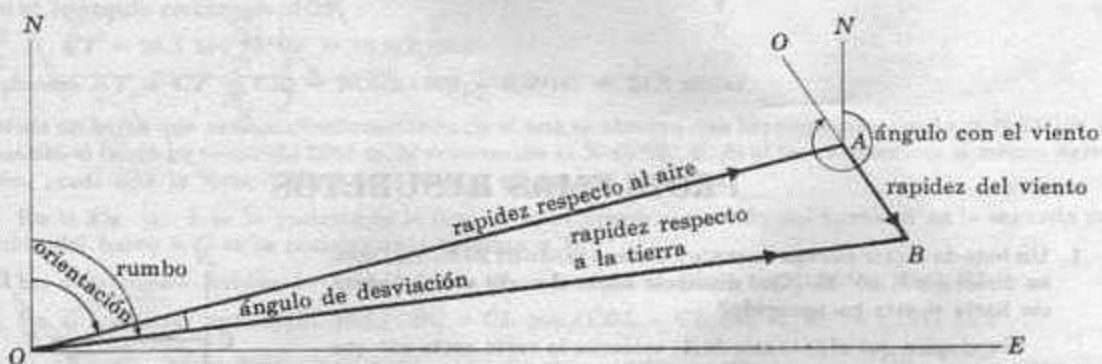


Fig. 5-J

Obsérvese que hay tres vectores relacionados entre sí:  $OA$  que representa la rapidez respecto al aire y la orientación,  $AB$  que representa la dirección, el sentido y la rapidez del viento y  $OB$  que representa la rapidez respecto a la Tierra y el rumbo. El vector cuya magnitud es la rapidez respecto a la Tierra es la resultante del vector correspondiente a la rapidez respecto al aire y el vector correspondiente a la rapidez del viento.

**EJEMPLO 7.** La Fig. 5-K ilustra el caso en que un aeroplano vuela a 240 millas/hora con una orientación de  $60^\circ$  cuando el viento sopla desde  $330^\circ$  a 30 millas/hora.

Para construir la figura, colóquese en  $O$  el vector correspondiente a la rapidez respecto al aire; trácese a continuación (obsérvense los sentidos de las flechas) el vector correspondiente a la rapidez del viento y, por último, ciérrase el triángulo. Obsérvese, además, que el vector correspondiente a la rapidez respecto a la Tierra no se ha trazado a partir del vector correspondiente a la rapidez del viento.



En el triángulo resultante:

$$\text{La rapidez respecto a la Tierra} = \sqrt{(240)^2 + (30)^2} = 242 \text{ mph.}$$

$$\tan \theta = 30/240 = 0,1250 \text{ y } \theta = 7^{\circ}10'.$$

$$\text{Rumbo} = 60^{\circ} + \theta = 67^{\circ}10'.$$




Fig. 5-K

## PROBLEMAS RESUELTOS

1. Un bote de motor navega durante 3 horas a razón de 20 millas/hora en dirección N 40° E. ¿Qué distancia hacia el norte y qué distancia hacia el este ha recorrido?

Supóngase que el bote sale de A; trácense la recta norte-sur que pasa por A y la semi-recta AD de modo que la orientación de D respecto al punto A sea N 40° E. Localícese sobre AD un punto B tal que  $AB = 3(20) = 60$  millas. Desde B trácense la perpendicular a la recta NAS; sea C el pie de la perpendicular. En el triángulo rectángulo ABC,

$$AC = AB \cos A = 60 \cos 40^{\circ} = 60(0,7660) = 45,96$$

y

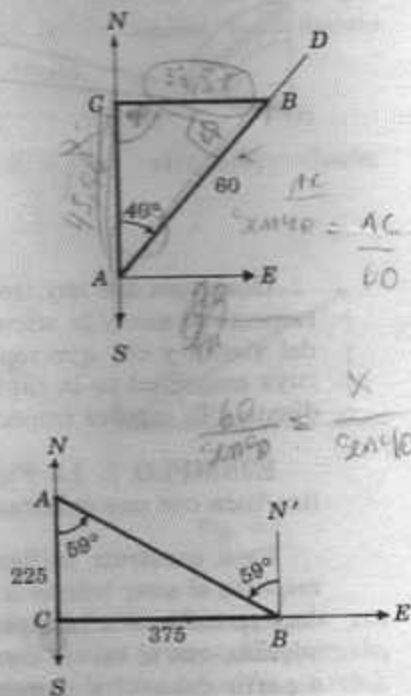
$$CB = AB \sin A = 60 \sin 40^{\circ} = 60(0,6428) = 38,57.$$

El bote ha recorrido 46 millas hacia el norte y 39 millas hacia el este.

2. Tres barcos están situados de tal manera que A se encuentra a 225 millas directamente al norte de C, y B a 375 millas directamente al este de C. ¿Cuál es la orientación a) de B respecto de A? b) de A respecto de B?

En el triángulo rectángulo ABC,  
 $\tan \angle CAB = 375/225 = 1,6667$  y  $\angle CAB = 59^{\circ}0'$ .

- a) La orientación de B respecto de A (ángulo SAB) es S 59°0' E.  
 b) La orientación de A respecto de B (ángulo N'BA) es N 59°0' O.



3. Tres barcos están situados de tal manera que A se encuentra a 225 millas al oeste de C, mientras que la orientación de B (situado directamente al sur de C) respecto de A es S 25°10' E. a) ¿Cuál es la distancia entre B y A? b) ¿Cuál es la distancia entre B y C? c) ¿Cuál es la orientación de A respecto de B?



Según la figura,  $\angle SAB = 25^\circ 10'$  y  $\angle BAC = 64^\circ 50'$ . Entonces

$$AB = AC \sec \angle BAC = 225 \sec 64^\circ 50' = 225(2,3515) = 529,1 \text{ o}$$

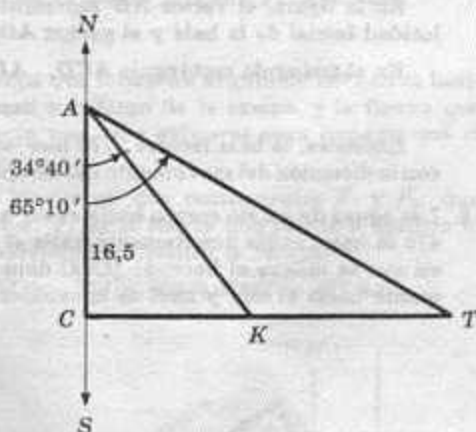
$$AB = AC / \cos \angle BAC = 225 / \cos 64^\circ 50' = 225 / 0,4253 = 529,0 \text{ y}$$

$$CB = AC \tan \angle BAC = 225 \tan 64^\circ 50' = 225(2,1283) = 478,9.$$

a) B se encuentra a 529 millas de A. b) B se encuentra a 479 millas de C.

c) Como  $\angle CBA = 25^\circ 10'$ , la orientación de A respecto de B es N 25°10' O.

4. Desde un barco que navega a 16,5 millas/hora hacia el norte, se observan directamente hacia el este los restos de un naufragio K y una torre de observación T. Una hora más tarde, la orientación del barco respecto a los restos del naufragio es S 34°40' E y respecto a la torre es S 65°10' E. Encontrar la distancia entre los restos del naufragio y la torre.



En la figura, C, K y T representan, respectivamente, el barco, los restos del naufragio y la torre cuando estaban alineados. Una hora más tarde, el barco se encuentra en el punto A, 16,5 millas al norte de C. En el triángulo rectángulo ACK,

$$CK = 16,5 \tan 34^\circ 40' = 16,5(0,6916).$$

En el triángulo rectángulo ACT,

$$CT' = 16,5 \tan 65^\circ 10' = 16,5(2,1609).$$

Entonces  $KT = CT - CK = 16,5(2,1609 - 0,6916) = 24,2$  millas.

5. Desde un barco que navega directamente hacia el este se observa una luz cuya orientación es N 62°10' E. Cuando el barco ha recorrido 2250 m, la orientación es N 48°25' E. Si el barco mantiene el mismo derrotero, ¿cuál será la menor distancia a que se encontrará la luz?

En la Fig. (a), L es la posición de la luz, A es la primera posición del barco, B es la segunda posición del barco y C es la posición más próxima a L.

En el triángulo rectángulo ACL,  $AC = CL \cot \angle CAL = CL \cot 27^\circ 50' = 1,8940 CL$ .

En el triángulo rectángulo BCL,  $BC = CL \cot \angle CBL = CL \cot 41^\circ 35' = 1,1270 CL$ .

Como  $AC = BC + 2250$ ,  $1,8940 CL = 1,1270 CL + 2250$ , y  $CL = \frac{2250}{1,8940 - 1,1270} = 2934 \text{ m}$ .

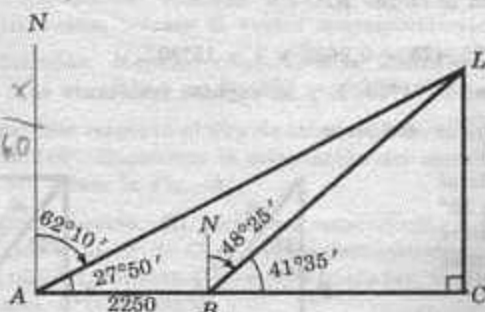


Fig. (a) Prob. 5

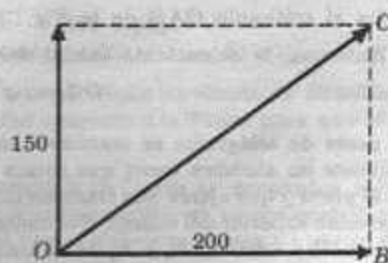


Fig. (b) Prob. 6


6. En el punto O de la Fig. (b), está situado un cuerpo sobre el que actúan dos fuerzas: una de 150 kg hacia el norte y otra de 200 kg hacia el este. Encontrar la magnitud, la dirección y el sentido de la resultante.

En el triángulo rectángulo OBC,  $OC = \sqrt{(OB)^2 + (BC)^2} = \sqrt{(200)^2 + (150)^2} = 250 \text{ kg}$

$$\tan \angle BOC = 150/200 = 0,7500 \text{ y } \angle BOC = 36^\circ 50'.$$

La magnitud de la fuerza resultante es 250 kg y su orientación es N 53°10' E.

7. Desde un aeroplano que vuela horizontalmente a 240 millas/hora se dispara una bala con una rapidez inicial de 2750 pies/seg y de tal manera que su trayectoria inicial forma un ángulo recto con la dirección del movimiento del aeroplano. Encontrar la rapidez resultante de la bala, su dirección y sentido.



La rapidez del aeroplano es  $240 \text{ mi/hr} = \frac{240(5280)}{60(60)} \text{ pies/seg} = 352 \text{ pies/seg}$ .

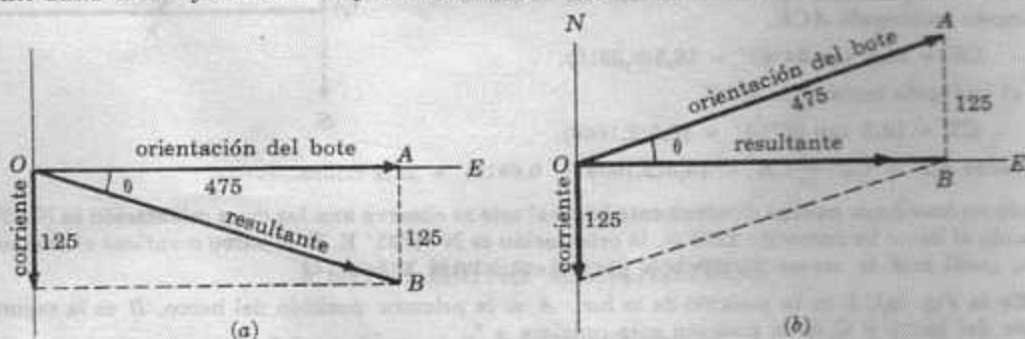
En la figura, el vector  $AB$  representa la velocidad del aeroplano, el vector  $AC$  representa la velocidad inicial de la bala y el vector  $AD$  representa la velocidad resultante de la bala.

En el triángulo rectángulo  $ACD$ ,  $AD = \sqrt{(352)^2 + (2750)^2} = 2770 \text{ pies/seg}$ .

$$\tan \angle CAD = 352/2750 = 0,1280 \text{ y } \angle CAD = 7^\circ 20'.$$

Entonces, la bala recorre 2770 pies/seg a lo largo de una trayectoria que forma un ángulo de  $82^\circ 40'$  con la dirección del movimiento del aeroplano.

8. Las aguas de un río corren hacia el sur a 125 m/min. Un bote de motor, que en aguas tranquilas recorre 475 m/min, enfila directamente hacia el este para atravesar el río. a) Encontrar la rapidez y la dirección en que se mueve el bote. b) ¿Cuál debe ser la orientación inicial del bote para atravesar el río directamente hacia el este y cuál es la rapidez resultante en este caso?



- a) En el triángulo rectángulo  $OAB$  de la Fig. (a)  $OB = \sqrt{(475)^2 + (125)^2} = 491$ .

$$\tan \theta = 125/475 = 0,2632 \text{ y } \theta = 14^\circ 40'.$$

Entonces, el bote recorre 491 m/min en dirección  $S 75^\circ 20' E$ .

- b) En el triángulo  $OAB$  de la Fig. (b),  $\sin \theta = 125/475 = 0,2632$  y  $\theta = 15^\circ 20'$ .

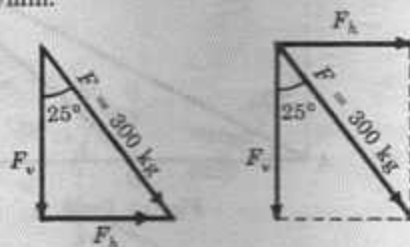
Entonces, la orientación inicial del bote ha de ser  $N 74^\circ 40' E$  y su rapidez resultante es

$$OB = \sqrt{(475)^2 - (125)^2} = 458 \text{ m/min}.$$

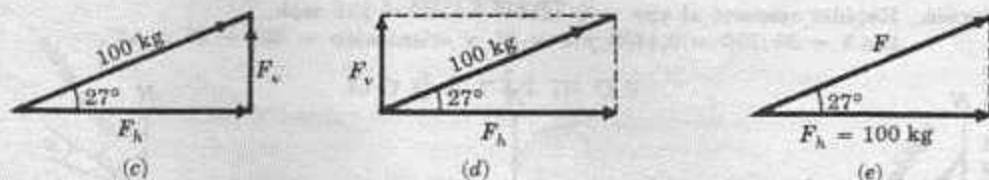
9. Un poste de telégrafos se mantiene en posición vertical mediante un alambre tenso que forma un ángulo de  $25^\circ$  con el poste y que ejerce una tracción de  $F = 300 \text{ kg}$  sobre el extremo superior del mismo. Encontrar las componentes horizontal y vertical  $F_h$  y  $F_v$  de la tracción  $F$ .

$$F_h = 300 \sin 25^\circ = 300(0,4226) = 127 \text{ kg}$$

$$F_v = 300 \cos 25^\circ = 300(0,9063) = 272 \text{ kg}$$



10. Un hombre tira de una cuerda que está atada a un trineo con una fuerza de 100 kg. La cuerda forma un ángulo de  $27^\circ$  con el suelo. a) Encontrar la tracción efectiva que obliga al trineo a deslizarse a lo largo del suelo y la tracción efectiva que tiende a levantar verticalmente el trineo. b) Encontrar la fuerza que el hombre debe ejercer para que la tracción efectiva que obliga al trineo a deslizarse horizontalmente sea de 100 kg.



a) En las Fig. (c) y (d), la tracción de 100 kg ejercida a lo largo de la cuerda, se ha descompuesto en sus componentes horizontal y vertical,  $F_h$  y  $F_v$  respectivamente. Entonces,  $F_h$  es la fuerza que mueve el trineo a lo largo del suelo y  $F_v$  es la fuerza que tiende a levantarlo perpendicularmente.

$$F_h = 100 \cos 27^\circ = 100(0,8910) = 89 \text{ kg}, \quad F_v = 100 \sin 27^\circ = 100(0,4540) = 45 \text{ kg}.$$

b) En la Fig. (e),  $F_h = 100 \text{ kg}$  es la componente horizontal de la fuerza buscada  $F$ . Entonces

$$F = 100 / \cos 27^\circ = 100 / 0,8910 = 112 \text{ kg}.$$

11. Un bloque, cuyo peso es  $W = 500 \text{ kg}$ , descansa sobre una rampa que forma un ángulo de  $29^\circ$  con la horizontal. a) Encontrar la fuerza que tiende a deslizar el bloque a lo largo de la rampa, y la fuerza que el bloque ejerce contra la rampa. b) ¿Cuál es la menor fuerza que debe aplicarse para impedir que el bloque se deslice a lo largo de la rampa? Despréciase la fricción.

a) Considérese la Fig. (f). Descompongase el peso  $W$  del bloque en dos componentes  $F_1$  y  $F_2$ , que sean, respectivamente, paralela y perpendicular a la rampa.  $F_1$  es la fuerza que tiende a deslizar el bloque a lo largo de la rampa y  $F_2$  es la fuerza que el bloque ejerce contra la rampa.

$$F_1 = W \sin 29^\circ = 500(0,4848) = 242 \text{ kg}, \quad F_2 = W \cos 29^\circ = 500(0,8746) = 437 \text{ kg}.$$

b) 242 kg a lo largo de la rampa pero hacia arriba.

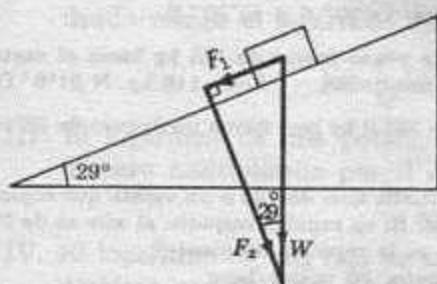


Fig. (f) Prob. 11

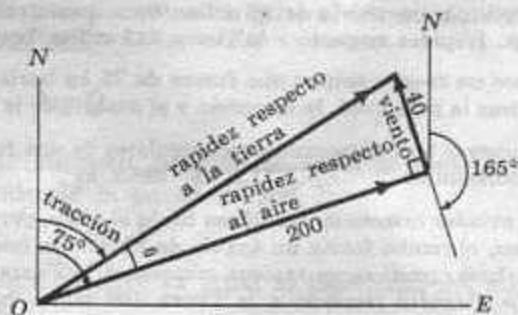


Fig. (g) Prob. 12

12. La orientación de un aeroplano es  $75^\circ$  y su rapidez respecto al aire es de 200 millas/hora. Encontrar la rapidez respecto a la Tierra y el rumbo si sopla un viento de 40 millas/hora desde  $165^\circ$ . Véase la Fig. (g).

Construcción. Trácese, a partir de  $O$ , el vector correspondiente a la rapidez respecto al aire y, a continuación, trácese el vector correspondiente al viento. Círrase el triángulo.

Solución. Rapidez respecto a la Tierra =  $\sqrt{(200)^2 + (40)^2} = 204 \text{ mph}$ ,  
 $\tan \theta = 40/200 = 0,2000$  y  $\theta = 11^\circ 20'$ , y rumbo =  $75^\circ - \theta = 63^\circ 40'$ .

13. La rapidez respecto al aire de un aeroplano es de 200 millas por hora. Sopla un viento de 30 millas/hora desde  $270^\circ$ . Encontrar la orientación del aeroplano y la rapidez respecto a la Tierra para que el rumbo sea  $0^\circ$ . Véase la Fig. (h).

Construcción. El vector correspondiente a la rapidez respecto a la Tierra se encuentra sobre  $ON$ . Trácese a partir de  $O$ , el vector correspondiente al viento y, a continuación, el vector correspondiente a la rapidez respecto al aire (200 unidades, desde el extremo del vector del viento hasta un punto de  $ON$ ); círrase el triángulo.

Solución. Rapidez respecto a la Tierra =  $\sqrt{(200)^2 - (30)^2} = 198 \text{ mph}$ ,  
 $\sin \theta = 30/200 = 0,1500$  y  $\theta = 8^\circ 40'$ , y orientación =  $360^\circ - \theta = 351^\circ 20'$ .

14. Desde  $320^\circ$  sopla un viento de 35 millas/hora. Encontrar la rapidez respecto al aire y la orientación para que la rapidez respecto a la Tierra y el rumbo sean, respectivamente, 250 millas por hora y  $50^\circ$ . Véase la Fig. (i).

Construcción. Trácese, con sus orígenes en  $O$ , los vectores correspondientes a la velocidad respecto a la Tierra y el viento. Círrase el triángulo.

Solución. Rapidez respecto al aire =  $\sqrt{(250)^2 + (35)^2} = 252$  mph,  
 $\tan \theta = 35/250 = 0,1400$  y  $\theta = 8^\circ$ , y orientación =  $50^\circ - 8^\circ = 42^\circ$ .

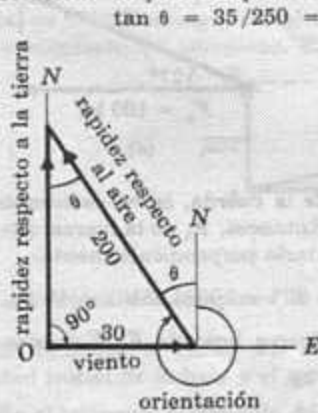


Fig.(h) Prob. 13

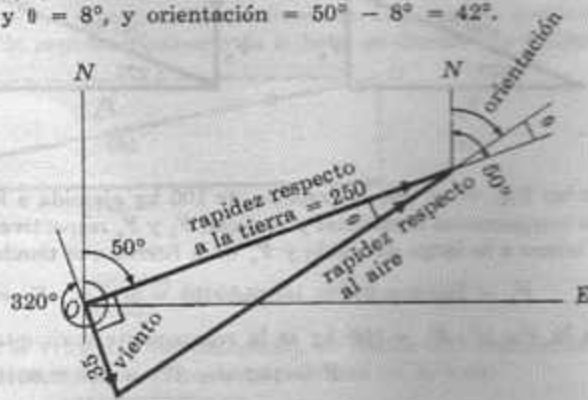


Fig.(i) Prob. 14

### PROBLEMAS PROPUESTOS

- Un aeroplano vuela 100 millas en dirección S  $38^\circ 10'$  E. ¿Qué distancia hacia el sur y qué distancia hacia el este ha recorrido? Resp. 78,6 millas hacia el sur; 61,8 millas hacia el este
- Un aeroplano se orienta hacia el este con una rapidez respecto al aire de 240 millas/hora. Si desde el norte sopla un viento de 40 millas/hora, encontrar la rapidez respecto a la Tierra y el rumbo. Resp. Rapidez respecto a la Tierra, 243 millas/hora; rumbo,  $99^\circ 30' 6$  S  $80^\circ 30'$  E
- Sobre un cuerpo actúan una fuerza de 75 kg hacia el oeste y una fuerza de 125 kg hacia el norte. Encontrar la magnitud, la dirección y el sentido de la fuerza resultante. Resp. 146 kg, N  $31^\circ 0'$  O
- Encontrar las componentes rectangulares de una fuerza de 525,0 kg que forma un ángulo de  $38^\circ 25'$  con la horizontal. Resp. 411,3 kg; 326,2 kg
- Un aviador orienta su aeroplano hacia el oeste, pero comprueba que, debido a un viento que sopla desde el sur, el rumbo forma un ángulo de  $20^\circ$  con la orientación. Si su rapidez respecto al aire es de 100 millas/hora, ¿cuál es su rapidez respecto a la Tierra y cuál es la rapidez del viento? Resp. Rapidez respecto a la Tierra, 106 millas/hora; viento, 36 millas/hora
- Se orienta un aeroplano hacia el oeste mientras sopla, desde el sur, un viento de 40 millas. ¿Cuál es la rapidez respecto al aire que se necesita para seguir un rumbo de N  $72^\circ$  O y cuál es la rapidez respecto a la Tierra? Resp. Rapidez respecto al aire, 123 millas/hora; rapidez respecto a la Tierra, 129 millas/hora
- Se remolca un lanchón, hacia el norte, a 18 millas/hora. Un hombre atraviesa la cubierta desde el oeste hacia el este a razón de 6 m/seg. Encontrar la magnitud y la dirección de la velocidad resultante. Resp. 27 m/seg, N  $12^\circ 50'$  E
- Un barco ha de navegar desde un punto A hasta un punto C situado a 56 millas al norte y 258 millas al este de A. Después de recorrer 120 millas en dirección N  $25^\circ 10'$  E hasta un punto P, el barco se orienta hacia C. Encontrar la distancia entre P y C, y el rumbo que ha de tomar para llegar a C. Resp. 214 millas, S  $75^\circ 40'$  E
- Un alambre tenso de 78 dm de largo se extiende desde el extremo superior de un poste de 56 dm de altura hasta el suelo, y ejerce sobre el poste una tracción de 290 kg. ¿Cuál es la tracción horizontal en el extremo superior del poste? Resp. 202 kg
- Un peso de 200 kg está colocado en un plano que carece de fricción y que forma un ángulo de  $38^\circ$  con la horizontal. Una cuerda, paralela a la superficie y asegurada por una clavija, mantiene el peso en su sitio. Encontrar la tracción ejercida sobre la cuerda. Resp. 123 kg
- Un hombre desea subir un peso de 300 libras hasta lo alto de una pared de 20 pies de altura. Para ello quiere empujar el peso a lo largo de un plano inclinado. ¿Cuál es la longitud del menor plano inclinado que puede utilizar si su fuerza de empuje es de 140 libras? Resp. 43 pies
- Por una pista, inclinada  $40^\circ$  respecto a la horizontal, se arrastra hacia arriba una bomba de 150 kg. Encontrar a) la fuerza que la bomba ejerce contra la pista y b) la fuerza necesaria para subir la bomba. Resp. a) 115 kg, b) 96 kg

## CAPITULO 6

### Logaritmos

EL LOGARITMO COMUN O VULGAR de un número dado  $N$  (se expresa,  $\log N$ ), es el exponente correspondiente a la potencia de 10 que equivale al número dado. Por ejemplo,

$$\begin{aligned} \log 1 &= 0 \text{ puesto que } 10^0 = 1, & \log 100 &= 2 \text{ puesto que } 10^2 = 100, \\ \log 10 &= 1 \text{ puesto que } 10^1 = 10, & \log 0,001 &= -3 \text{ puesto que } 10^{-3} = 0,001 \\ \text{mientras que} & & \log P &= p \text{ si } 10^p = P. \end{aligned}$$

#### LEYES FUNDAMENTALES DE LOS LOGARITMOS

I. El logaritmo del producto de dos o más números positivos es igual a la suma de los logaritmos de cada uno de dichos números. Así,

$$\begin{aligned} \log P \cdot Q &= \log P + \log Q, \\ \log P \cdot Q \cdot R &= \log P + \log Q + \log R, \text{ etc.} \end{aligned}$$

II. El logaritmo del cociente de dos números positivos es igual al logaritmo del dividendo menos el logaritmo del divisor. Así,

$$\log \frac{P}{Q} = \log P - \log Q.$$

III. El logaritmo de una potencia de un número positivo es igual al logaritmo del número multiplicado por el exponente de la potencia. Así,

$$\log (P^n) = n \log P.$$

IV. El logaritmo de una raíz de un número positivo es igual al logaritmo del número dividido por el índice de la raíz. Así,

$$\log \sqrt[n]{P} = \frac{1}{n} \log P.$$

Las demostraciones de estas leyes aparecen en el problema 1.

El logaritmo de una expresión que contiene dos o más operaciones de las relacionadas en las leyes I-IV se obtiene combinando los resultados de las distintas leyes. Así,

$$\log \frac{P \cdot Q}{R} = \log (P \cdot Q) - \log R = \log P + \log Q - \log R.$$

Otros ejemplos se encuentran en los problemas 2-4.

EL LOGARITMO COMUN de un número positivo (por ejemplo,  $\log 300 = 2,47712$  y  $\log 0,2 = 9,30103 - 10$ ) consta de dos partes: una parte entera llamada *característica*, y una parte decimal llamada *mantisa*.

En los problemas 3 y 4 se verá que la característica depende únicamente de la posición que ocupa la coma decimal en el número. Por ejemplo,

$$\begin{array}{ll} \log 2 = 0,30103 & \text{y} & \log 200 = 2,30103, \\ \log 25 = 1,39794 & \text{y} & \log 2,5 = 0,39794. \end{array}$$

La característica del logaritmo común de un número cualquiera mayor que 1 es una unidad menor que el número de cifras que aparecen a la izquierda de la coma decimal del número dado.

La característica del logaritmo común de un número positivo cualquiera menor que 1 se obtiene sustrayendo de 9 el número de ceros que aparecen inmediatamente a la derecha de la coma decimal del número dado y escribiendo a continuación  $-10$ . Así, la característica del logaritmo común de 0,2 es  $9-10$ , de 0,04 es  $8-10$ , de 0,0005 es  $6-10$ . (Véase, además, el problema 5.)

La mantisa del logaritmo común de un número positivo es generalmente un decimal no periódico. En este libro nos referiremos a tablas de logaritmos donde aparezcan cinco cifras decimales para las mantisas.

### ENCONTRAR EL LOGARITMO DE UN NUMERO POSITIVO DADO:

- a) Escríbase la mantisa de acuerdo a las reglas dadas anteriormente.
- b) Cuando el número dado consta de cuatro cifras significativas o de menos, léase directamente la mantisa en la tabla.

EJEMPLO 1. Encontrar  $\log 32,86$ .

La característica es 1. Para encontrar la mantisa localícese el número 51667 en la fila correspondiente al número 328, en la columna encabezada por 6. Entonces  $\log 32,86 = 1,51667$ .

EJEMPLO 2. Encontrar  $\log 5,25$ .

La característica es 0. Como  $5,25 = 5,250$ , localizamos la mantisa, 72016, en la fila correspondiente al número 525 y en la columna encabezada por 0. Entonces  $\log 5,25 = 0,72016$ .

- b) Cuando el número consta de cinco cifras, se efectúa una interpolación mediante una proporcionalidad.

EJEMPLO 3. Encontrar  $\log 654,82$ .

La característica es 2. Para encontrar la mantisa, computamos:

$$\text{mantisa } \log 65480 = 0,81611$$

$$\text{mantisa } \log 65490 = 0,81617$$

$$\text{diferencia tabular} = 0,00006$$

$$0,2 \times \text{diferencia tabular} = 0,000012 \text{ ó } 0,00001 \text{ hasta la quinta cifra decimal}$$

$$\text{mantisa } \log 65482 = 0,81611 + 0,00001 = 0,81612.$$

Entonces  $\log 654,82 = 2,81612$ .

Obsérvese que aquí el cómputo esencial es  $81611 + 0,2 \times 6 = 81612,2$  u  $81612$ .

(Véanse además los problemas 6-7.)

### ENCONTRAR EL NUMERO CORRESPONDIENTE A UN LOGARITMO COMUN DADO:

- a) Cuando la mantisa aparece en la tabla, escríbase el número que encabeza la fila, seguido del número que encabeza la columna. Después, colóquese la coma decimal de acuerdo a las reglas dadas para la característica. El número encontrado recibe el nombre de *antilogaritmo* (antilog) del logaritmo dado.

EJEMPLO 4. Antilog  $1,88053 = 75,95$ .

La mantisa 0,88053 se encuentra en la fila encabezada por 759 y en la columna encabezada por 5. Como la característica es 1, hay dos cifras a la izquierda de la coma decimal.

- b) Cuando la mantisa dada no aparece en la tabla, se requiere una interpolación.

EJEMPLO 5. Antilog  $9,56577 - 10 = 0,36793$ .

$$\text{Mantisa de } \log 36790 = 0,56573$$

$$\text{Mantisa de } \log 36800 = 0,56585$$

$$\text{Diferencia tabular} = 0,00012$$

$$\text{Mantisa dada} = 0,56577$$

$$\text{Mantisa menor hallada} = 0,56573$$

$$\text{Diferencia} = 0,00004$$

Corrección =  $\frac{0,00004}{0,00012} (0,00010) = 0,000033$  ó  $0,00003$  hasta la quinta cifra decimal.

Entonces antilog  $9,56577 - 10 = 0,36790 + 0,00003 = 0,36793$ .

Obsérvese que aquí el cómputo esencial es  $\frac{4 \times 10}{12} = 3,3$  ó  $3$ .

(Véase además, el problema 8.)

EL COLOGARITMO de un número positivo  $N$  (se expresa  $\text{colog } N$ ) es el logaritmo de su

inverso  $\frac{1}{N}$ . Así,  $\text{colog } N = \log \frac{1}{N} = \log 1 - \log N = -\log N$ .

EJEMPLO 6.  $\text{Colog } 38,386 = 8,41583 - 10$ .

$$\begin{aligned} \text{colog } 38,386 &= \log \frac{1}{38,386} = \log 1 - \log 38,386 \\ \log 1 &= 10,00000 - 10 \\ (-) \log 38,386 &= 1,58417 \\ \hline &8,41583 - 10 \end{aligned}$$

Obsérvese que  $\text{colog } N$  puede obtenerse si se resta de 9 cada cifra de  $\log N$  (comenzando por la izquierda), excepto la última que se resta de 10. Si  $N$  es mayor que uno, se escribe a continuación  $- 10$ . Por ejemplo:

a)  $\log 3163 = 3,50010$ ;  $\text{colog } 3163 = 6,49990 - 10$ .

b)  $\log 0,0399 = 8,60097 - 10$ ;  $\text{colog } 0,0399 = 1,39903$ .

(Véanse además los problemas 12-13.)

LOGARITMOS DE LAS FUNCIONES TRIGONOMETRICAS. Nos referimos a una tabla de cinco cifras decimales de logaritmos de las funciones trigonométricas seno, coseno, tangente y cotangente, para ángulos desde  $0^\circ$  hasta  $90^\circ$  con intervalos de un minuto.

El procedimiento para la utilización de esta tabla es básicamente el mismo que se utiliza en la tabla de las funciones trigonométricas naturales.

EJEMPLO 7.

a)  $\log \text{sen } 22^\circ 34' = 9,58406 - 10$

b)  $\log \text{tan } 72^\circ 18' = 0,49602$

c)  $\log \text{sen } 22^\circ 34,8' = 9,58430 - 10$

$$\log \text{sen } 22^\circ 34' = 9,58406 - 10$$

$$\log \text{sen } 22^\circ 35' = 9,58436 - 10$$

$$\text{Diferencia tabular} = 0,00030$$

$$\text{Corrección} = 0,8 \times \text{diferencia tabular} = 0,00024.$$

Se añade la diferencia puesto que se trata de un seno,

$$\log \text{sen } 22^\circ 34,8' = 9,58406 - 10 + 0,00024 = 9,58430 - 10.$$

Aquí el cómputo esencial es  $58406 + 0,8(30) = 58406 + 24 = 58430$ .

d)  $\log \text{cos } 66^\circ 42,4' = 9,59708 - 10$

$$\log \text{cos } 66^\circ 42' = 9,59720 - 10$$

$$\text{Diferencia tabular} = 30$$

$$\text{Corrección} = 0,4 \times \text{diferencia tabular} = 0,4(30) = 12.$$

Se resta la corrección, puesto que se trata de un coseno,

$$\log \text{cos } 66^\circ 42,4' = 9,59708 - 10.$$

(Véase además el problema 14.)



## EJEMPLO 8.

a) Si  $\log \operatorname{sen} A = 9,66197 - 10$ , entonces  $A = 27^{\circ}20'$ .

b) Si  $\log \operatorname{cot} A = 0,15262$ , entonces  $A = 35^{\circ}8'$ .

c) Si  $\log \operatorname{sen} A = 9,95472 - 10$ , entonces  $A = 64^{\circ}17,3'$ .

$$\log \operatorname{sen} 64^{\circ}17' = 9,95470 - 10$$

$$\log \operatorname{sen} 64^{\circ}18' = 9,95476 - 10$$

$$\log \operatorname{sen} 64^{\circ}17' = 9,95470 - 10$$

$$\log \operatorname{sen} A = 9,95472 - 10$$

$$\text{Diferencia tabular} = 0,00006$$

$$\text{Diferencia} = 0,00002$$

$$\text{Corrección} = \frac{0,00002}{0,00006} (1') = \frac{2}{6} (1') = 0,3'$$

Se añade la corrección por tratarse de un seno,  $A = 64^{\circ}17,3'$ .

d) Si  $\log \operatorname{cos} A = 9,97888 - 10$ , entonces  $A = 17^{\circ}43,5'$ .

$$\log \operatorname{cos} 17^{\circ}44' = 9,97886 - 10 \text{ (el menor logaritmo más próximo).}$$

$$\text{Diferencia tabular} = 4; \text{ diferencia} = 2.$$

$$\text{Corrección} = \frac{2}{4} (1') = 0,5'. \text{ Se resta la corrección por tratarse de un coseno,}$$

$$A = 17^{\circ}43,5'.$$

e) Si  $\log \operatorname{tan} A = 0,24372$ , entonces  $A = 60^{\circ}17,6'$ .

$$\log \operatorname{tan} 60^{\circ}17' = 0,24353 \text{ (el menor logaritmo más próximo).}$$

$$\text{Diferencia tabular} = 30; \text{ diferencia} = 19.$$

$$\text{Corrección} = \frac{19}{30} (1') = 0,6'. \text{ Se añade por tratarse de una tangente, } A = 60^{\circ}17,6'.$$

f) Si  $\log \operatorname{cot} A = 9,41640 - 10$ , entonces  $A = 75^{\circ}22,8'$ .

$$\log \operatorname{cot} 75^{\circ}23' = 9,41629 - 10$$

$$\text{Diferencia tabular} = 52; \text{ diferencia} = 11.$$

$$\text{Corrección} = \frac{11}{52} (1') = 0,2'. \text{ Se resta la corrección por tratarse de una cotangente,}$$

$$A = 75^{\circ}22,8'.$$

(Véase además, el problema 15.)

## PROBLEMAS RESUELTOS

## 1. Demostrar las leyes de los logaritmos.

Limitada la demostración a los logaritmos comunes se tiene que si  $P = 10^p$  y  $Q = 10^q$ ; entonces  $\log P = p$  y  $\log Q = q$ .

I. Puesto que  $P \cdot Q = 10^p \cdot 10^q = 10^{p+q}$ , entonces  $\log P \cdot Q = p + q = \log P + \log Q$ .

II. Puesto que  $P/Q = 10^p/10^q = 10^{p-q}$ , entonces  $\log P/Q = p - q = \log P - \log Q$ .

III. Puesto que  $P^n = (10^p)^n = 10^{np}$ , entonces  $\log P^n = np = n \log P$ .

IV. Puesto que  $\sqrt[n]{P} = (10^p)^{1/n} = 10^{p/n}$ , entonces  $\log \sqrt[n]{P} = p/n = \frac{1}{n} \log P$ .

## 2. Expresar los logaritmos de las expresiones dadas en términos de cada una de las letras o números que aparecen en ellas.

$$\begin{aligned} \text{a) } \log \frac{P \cdot Q}{R \cdot S} &= \log (P \cdot Q) - \log (R \cdot S) = (\log P + \log Q) - (\log R + \log S) \\ &= \log P + \log Q - \log R - \log S. \end{aligned}$$

$$b) \log \frac{\sqrt[3]{P}}{Q^4} = \log \sqrt[3]{P} - \log Q^4 = \frac{1}{3} \log P - 4 \log Q$$

$$c) \log \frac{34(104)^2}{(49)^3} = \log 34 + 2 \log 104 - 3 \log 49$$

$$d) \log \frac{(34,2)^2 \sqrt[3]{1,06}}{(9,8)^2 \sqrt{2,33}} = 2 \log 34,2 + \frac{1}{3} \log 1,06 - 3 \log 9,8 - \frac{1}{2} \log 2,33$$

3. Dados  $\log 2 = 0,30103$  y  $\log 3 = 0,47712$ , encontrar el logaritmo de:

a) 30, b) 200, c) 25, d) 120, e) 2,5, f)  $\sqrt{6}$ , g)  $\sqrt[3]{24}$ .

$$a) 30 = 3 \times 10; \log 30 = \log 3 + \log 10 = 0,47712 + 1,00000 = 1,47712$$

$$b) 200 = 2 \times 10^2; \log 200 = \log 2 + 2 \log 10 = 0,30103 + 2,00000 = 2,30103$$

$$c) 25 = 10^2/2^2; \log 25 = 2 \log 10 - 2 \log 2 = 2,00000 - 0,60206 = 1,39794$$

$$d) 120 = 2^2 \cdot 3 \cdot 10; \log 120 = 2 \log 2 + \log 3 + \log 10 = 0,60206 + 0,47712 + 1,00000 = 2,07918$$

$$e) 2,5 = 10/2^2; \log 2,5 = \log 10 - 2 \log 2 = 1,00000 - 0,60206 = 0,39794$$

$$f) \sqrt{6} = (2 \times 3)^{1/2}; \log \sqrt{6} = \frac{1}{2}(\log 2 + \log 3) = \frac{1}{2}(0,77815) = 0,38908$$

$$g) \sqrt[3]{24} = \sqrt[3]{2^3 \times 3} = 2\sqrt[3]{3}; \log \sqrt[3]{24} = \log 2 + \frac{1}{3} \log 3 = 0,30103 + \frac{1}{3}(0,47712) = 0,46007$$

4. Dados  $\log 2 = 0,30103$  y  $\log 3 = 0,47712$ , encontrar el logaritmo de:

a) 0,2, b) 0,003, c) 0,5, d)  $(0,02)^3$ , e)  $\sqrt[4]{0,006}$

$$a) 0,2 = 2/10; \log 0,2 = \log 2 - \log 10 = 0,30103 - 1,00000 = -1 + 0,30103.$$

Esta última expresión se escribe  $9,30103 - 10$ .

$$b) 0,003 = 3/10^3; \log 0,003 = \log 3 - 3 \log 10 = -3 + 0,47712 = 7,47712 - 10$$

$$c) 0,5 = 1/2; \log 0,5 = \log 1 - \log 2 = 0,00000 - 0,30103 = (10,00000 - 10) - 0,30103 = 9,69897 - 10$$

$$d) (0,02)^3 = (2/10^2)^3; \log (0,02)^3 = 3 \log 2 - 6 \log 10 = 0,90309 - 6,00000 = (10,90309 - 10) - 6,00000 = 4,90309 - 10$$

$$e) \sqrt[4]{0,006} = \sqrt[4]{2 \times 3/10^3}; \log \sqrt[4]{0,006} = \frac{1}{4}(\log 2 + \log 3 - 3 \log 10) = \frac{1}{4}(0,30103 + 0,47712 - 3,00000) = \frac{1}{4}(7,77815 - 10) = \frac{1}{4}(37,77815 - 40) = 9,44454 - 10$$

5. Determinar la característica del logaritmo común de cada uno de los números siguientes:

a) 3864    c) 8,746    e) 0,3874    g) 0,07295    i) 2,3567    k) 0,44636

b) 286    d) 982600    f) 0,00826    h) 0,000023    j) 88,725    l) 0,00072358.

Las características son:

a) 3    c) 0    e) 9    - 10    g) 8    - 10    i) 0    k) 9    - 10

b) 2    d) 5    f) 7    - 10    h) 5    - 10    j) 1    l) 6    - 10.

6. Verificar cada uno de los logaritmos siguientes:

a)  $\log 38,64 = 1,58704$     e)  $\log 2,3567 = 0,37231$     (37218 + 12,6)

b)  $\log 286 = 2,45637$     f)  $\log 88,725 = 1,94804$     (94802 + 2,5)

c)  $\log 0,3874 = 9,58816 - 10$     g)  $\log 0,44636 = 9,64968 - 10$     (64963 + 5,4)

d)  $\log 0,00826 = 7,91698 - 10$     h)  $\log 0,00072358 = 6,85949 - 10$     (85944 + 4,8)

7. Verificar cada uno de los logaritmos siguientes:

- a)  $\log (0,07324 \times 0,0006235) = \log 0,07324 + \log 0,0006235$   
 $= 8,86475 - 10 + 6,79484 - 10 = 15,65959 - 20 = 5,65959 - 10$
- b)  $\log (8,7633 \times 0,0074288) = \log 8,7633 + \log 0,0074288$   
 $= 0,94266 + 7,87092 - 10 = 8,81358 - 10$
- c)  $\log 34,72 / 5,384 = \log 34,72 - \log 5,384$   
 $= 1,54058 - 0,73111 = 0,80947$
- d)  $\log 7218 / 0,0235 = \log 7218 - \log 0,0235$   
 $= 3,85842 - 8,37107 - 10 = 13,85842 - 10 - 8,37107 - 10 = 5,48735$
- e)  $\log (24,56)^3 = 3 \log 24,56 = 3(1,39023) = 4,17069$
- f)  $\log (0,4893)^4 = 4 \log 0,4893 = 4(9,68958 - 10) = 38,75832 - 40 = 8,75832 - 10$
- g)  $\log \sqrt{876,4} = \frac{1}{2} \log 876,4 = \frac{1}{2} (2,94270) = 1,47135$
- h)  $\log \sqrt[3]{66,75} = \frac{1}{3} \log 66,75 = \frac{1}{3} (1,82445) = 0,60815$
- i)  $\log \sqrt{0,9494} = \frac{1}{2} \log 0,9494 = \frac{1}{2} (9,97745 - 10) = \frac{1}{2} (19,97745 - 20) = 9,98872 - 10$

8. Verificar cada una de las siguientes igualdades:

- a) Antilog 2,56158 = 364,40
- b) Antilog 5,69002 = 489800
- c) Antilog 8,81358 - 10 = 0,06510. Del problema 7b),  $8,7633 \times 0,0074288 = 0,06510$ .
- d) Antilog 1,43654 = 27,324 ( $6 \times 10 / 16 = 4$ )
- e) Antilog 8,69157 - 10 = 0,049156 ( $5 \times 10 / 9 = 6$ )
- f) Antilog 4,17069 = 14814 ( $13 \times 10 / 29 = 4$ ). Del problema 7e),  $(24,56)^3 = 14814$ .
- g) Antilog 1,47135 = 29,604 ( $6 \times 10 / 15 = 4$ ). Del problema 7g),  $\sqrt{876,4} = 29,604$ .

Evaluar mediante logaritmos, cada una de las expresiones siguientes:

9.  $N = 36,234 \times 2,6748 \times 0,0071756$

$$\begin{aligned} \log 36,234 &= 1,55912 \\ (+) \log 2,6748 &= 0,42729 \\ (+) \log 0,0071756 &= 7,85586 - 10 \\ \hline \log N &= 9,84227 - 10 \\ N &= 0,69546 \end{aligned}$$

10.  $N = \frac{47,75 \times 8,643}{6467}$

$$\begin{aligned} \log 47,75 &= 1,67897 \\ (+) \log 8,643 &= 0,93666 \\ \hline &= 12,61563 - 10 & (2,61563 = 12,61563 - 10) \\ (-) \log 6467 &= 3,81070 \\ \hline \log N &= 8,80493 - 10 \\ N &= 0,063816 \end{aligned}$$

11.  $N = \sqrt[3]{0,48476}$

$$\begin{aligned} \log N &= \frac{1}{3} \log 0,48476 \\ \log 0,48476 &= 9,68552 - 10 \\ &= 29,68552 - 30 \\ \hline \log N &= 9,89517 - 10 \\ N &= 0,78554 \end{aligned}$$

12. Resolver el problema 10 mediante el uso de cologaritmos.  $N = 47,75 \times 8,643 \times \frac{1}{6467}$

$$\begin{aligned} \log 47,75 &= 1,67897 \\ (+) \log 8,643 &= 0,93666 \\ (+) \operatorname{colog} 6467 &= 6,18930 - 10 & (\log 6467 = 3,81070) \\ \hline \log N &= 8,80493 - 10 \\ N &= 0,063816 \end{aligned}$$

13.  $\frac{74,72}{\sqrt{8,394} \sqrt[3]{0,002877}} = N$ .  $\log N = \log 74,72 + \frac{1}{2} \operatorname{colog} 8,394 + \frac{1}{3} \operatorname{colog} 0,002877$

$$\begin{aligned} \log 74,72 &= 1,87344 & \log 8,394 &= 0,92397 \\ (+) \frac{1}{2} \operatorname{colog} 8,394 &= 9,53802 - 10 & \operatorname{colog} 8,394 &= 9,07603 - 10 \\ (+) \frac{1}{3} \operatorname{colog} 0,002877 &= 0,84702 & \log 0,002877 &= 7,45894 - 10 \\ \hline \log N &= 12,25848 - 10 & \operatorname{colog} 0,002877 &= 2,54106 \\ &= 2,25848 \\ N &= 181,33 \end{aligned}$$

14. Verificar cada uno de los logaritmos siguientes:

- a)  $\log \operatorname{sen} 14^{\circ}28,3' = 9,39777 - 10$   $(39762 + 0,3 \times 39)$   
 b)  $\log \operatorname{cos} 66^{\circ}44,8' = 9,59638 - 10$   $(59661 - 0,8 \times 29)$   
 c)  $\log \operatorname{tan} 31^{\circ}26,4' = 9,78630 - 10$   $(78618 + 0,4 \times 29)$   
 d)  $\log \operatorname{cot} 45^{\circ}54,6' = 9,98620 - 10$   $(98635 - 0,6 \times 25)$   
 e)  $\log \operatorname{sen} 62^{\circ}29,1' = 9,94787 - 10$   $(94786 + 0,1 \times 7)$   
 f)  $\log \operatorname{cos} 23^{\circ}33,7' = 9,96220 - 10$   $(96223 - 0,7 \times 5)$   
 g)  $\log \operatorname{tan} 70^{\circ}20,6' = 0,44709$   $(44685 + 0,6 \times 40)$   
 h)  $\log \operatorname{cot} 11^{\circ}17,3' = 0,69982$   $(70002 - 0,3 \times 66)$

15. Verificar cada uno de los logaritmos siguientes:

- a)  $\log \operatorname{sen} A = 9,90020 - 10$ , entonces  $A = 52^{\circ}37,6'$   $(\frac{6}{10} \times 1' = 0,6')$   
 b)  $\log \operatorname{cos} A = 9,93602 - 10$ , entonces  $A = 30^{\circ}20,6'$   $(\frac{3}{7} \times 1' = 0,4')$   
 c)  $\log \operatorname{tan} A = 9,87150 - 10$ , entonces  $A = 36^{\circ}38,7'$   $(\frac{18}{26} \times 1' = 0,7')$   
 d)  $\log \operatorname{cot} A = 0,01245$ , entonces  $A = 44^{\circ}10,7'$   $(\frac{7}{25} \times 1' = 0,3')$   
 e)  $\log \operatorname{sen} A = 9,80172 - 10$ , entonces  $A = 39^{\circ}18,4'$   $(\frac{6}{16} \times 1' = 0,4')$   
 f)  $\log \operatorname{cos} A = 9,55215 - 10$ , entonces  $A = 69^{\circ}6,6'$   $(\frac{13}{33} \times 1' = 0,4')$   
 g)  $\log \operatorname{tan} A = 0,44372$ , entonces  $A = 70^{\circ}12,1'$   $(\frac{5}{40} \times 1' = 0,1')$   
 h)  $\log \operatorname{cot} A = 9,31142 - 10$ , entonces  $A = 78^{\circ}25,4'$   $(\frac{38}{64} \times 1' = 0,6')$

## PROBLEMAS PROPUESTOS

## 16. Encontrar:

- a)  $\log 211 = 2,32428$   
 b)  $\log 9,17 = 0,96237$   
 c)  $\log 0,00466 = 7,66839 - 10$   
 d)  $\log 0,6754 = 9,82956 - 10$   
 e)  $\log 32,86 = 1,51667$   
 f)  $\log 264,76 = 2,42285$   
 g)  $\log 7,1775 = 0,85597$   
 h)  $\log 0,96634 = 9,98513 - 10$

- i)  $\log 4287,6 = 3,63221$   
 j)  $\log 0,0055558 = 7,74474 - 10$   
 k)  $\log 0,097147 = 8,98743 - 10$   
 l)  $\log 2,1222 = 0,32679$   
 m)  $\log 66,985 = 1,82598$   
 n)  $\log 781,59 = 2,89298$   
 o)  $\log 2348,9 = 3,37086$   
 p)  $\log 0,091233 = 8,96016 - 10$

## 17. Encontrar:

- a) antilog  $1,98646 = 96,930$   
 b) antilog  $0,75005 = 5,6240$   
 c) antilog  $8,62086 - 10 = 0,041770$   
 d) antilog  $1,09706 = 12,504$   
 e) antilog  $2,65612 = 453,02$   
 f) antilog  $0,91821 = 8,2834$   
 g) antilog  $8,11848 - 10 = 0,013136$   
 h) antilog  $3,66626 = 4637,2$

- i) antilog  $1,12078 = 13,206$   
 j) antilog  $2,62821 = 424,83$   
 k) antilog  $0,95846 = 9,0878$   
 l) antilog  $9,61299 - 10 = 0,41019$   
 m) antilog  $2,23958 = 173,61$   
 n) antilog  $1,22251 = 16,692$   
 o) antilog  $4,84033 = 69236$   
 p) antilog  $2,67183 = 469,71$

## 18. Evaluar:

a)  $\frac{819(748)}{3670} = 166,9$ , b)  $\frac{827,6}{518,3} = 1,597$ , c)  $\frac{48,62}{77,65} = 0,6261$ , d)  $787,97(0,0033238) = 2,6190$

e)  $\frac{(227,3)^2 \sqrt[3]{0,007764}}{(86,35)^2 \sqrt{0,3848}} = 0,02562$ ,

f)  $\sqrt{\frac{781,58(3,4342)}{852,74(586,76)}} = 0,17505$

## 19. Encontrar:

- a)  $\log \operatorname{sen} 53^\circ 18' = 9,90405 - 10$   
 b)  $\log \operatorname{cos} 18^\circ 17' = 9,97750 - 10$   
 c)  $\log \operatorname{tan} 42^\circ 47' = 9,96636 - 10$   
 d)  $\log \operatorname{cot} 68^\circ 14' = 9,60130 - 10$   
 e)  $\log \operatorname{sen} 71^\circ 9,6' = 9,97608 - 10$   
 f)  $\log \operatorname{cos} 56^\circ 44,4' = 9,73913 - 10$   
 g)  $\log \operatorname{tan} 67^\circ 0,3' = 0,37226$   
 h)  $\log \operatorname{cot} 76^\circ 9,3' = 9,39174 - 10$

- i)  $\log \operatorname{sen} 72^\circ 15,4' = 9,97884 - 10$   
 j)  $\log \operatorname{cos} 20^\circ 9,2' = 9,97256 - 10$   
 k)  $\log \operatorname{tan} 84^\circ 47,1' = 1,03967$   
 l)  $\log \operatorname{cot} 74^\circ 4,2' = 9,45549 - 10$   
 m)  $\log \operatorname{sen} 22^\circ 15,8' = 9,57849 - 10$   
 n)  $\log \operatorname{cos} 66^\circ 17,4' = 9,60434 - 10$   
 o)  $\log \operatorname{tan} 11^\circ 19,8' = 9,30182 - 10$   
 p)  $\log \operatorname{cot} 25^\circ 10,6' = 0,32784$

## 20. Encontrar el ángulo agudo A, dado:

- a)  $\log \operatorname{sen} A = 9,28705 - 10$ ,  $A = 11^\circ 10,0'$   
 b)  $\log \operatorname{cos} A = 9,48881 - 10$ ,  $A = 72^\circ 3,0'$   
 c)  $\log \operatorname{tan} A = 9,82325 - 10$ ,  $A = 33^\circ 39,0'$   
 d)  $\log \operatorname{cot} A = 9,91765 - 10$ ,  $A = 50^\circ 24,0'$   
 e)  $\log \operatorname{sen} A = 9,53928 - 10$ ,  $A = 20^\circ 15,2'$   
 f)  $\log \operatorname{cos} A = 9,89900 - 10$ ,  $A = 37^\circ 34,8'$   
 g)  $\log \operatorname{tan} A = 9,53042 - 10$ ,  $A = 18^\circ 44,1'$   
 h)  $\log \operatorname{cot} A = 0,18960$ ,  $A = 32^\circ 52,4'$

- i)  $\log \operatorname{sen} A = 9,86000 - 10$ ,  $A = 46^\circ 25,3'$   
 j)  $\log \operatorname{cos} A = 9,75529 - 10$ ,  $A = 55^\circ 18,2'$   
 k)  $\log \operatorname{tan} A = 9,80888 - 10$ ,  $A = 81^\circ 10,4'$   
 l)  $\log \operatorname{cot} A = 9,67240 - 10$ ,  $A = 64^\circ 48,7'$   
 m)  $\log \operatorname{sen} A = 9,80513 - 10$ ,  $A = 39^\circ 40,6'$   
 n)  $\log \operatorname{cos} A = 9,86892 - 10$ ,  $A = 42^\circ 18,8'$   
 o)  $\log \operatorname{tan} A = 0,06510$ ,  $A = 49^\circ 16,7'$   
 p)  $\log \operatorname{cot} A = 9,71700 - 10$ ,  $A = 62^\circ 28,3'$

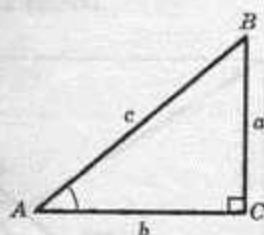
## CAPITULO 7

### Resolución logarítmica de triángulos rectángulos

CUALQUIER TRIANGULO RECTANGULO puede resolverse, y la solución puede comprobarse parcialmente, mediante la relación angular  $A + B = 90^\circ$  y las funciones trigonométricas seno, coseno y tangente o cotangente de uno de los ángulos agudos. En general, la relación  $c^2 = a^2 + b^2$  ofrece una mejor comprobación de la solución.

**EJEMPLO.** Supóngase que se conocen los lados  $a$  y  $b$  del triángulo rectángulo  $ABC$ .

- 1) Para encontrar el ángulo  $A$ , aplíquese  $\tan A = a/b$ ; entonces,  $B = 90^\circ - A$ .
- 2) Para encontrar el lado  $c$ , aplíquese  $c = a/\text{sen } A$ .
- 3) Para la comprobación, aplíquese



$$a^2 = c^2 - b^2 = (c - b)(c + b)$$

$$\text{ó } b^2 = c^2 - a^2 = (c - a)(c + a).$$

### PROBLEMAS RESUELTOS

1. Resolver y comprobar el triángulo rectángulo  $ABC$ , dados  $a = 48,620$  y  $b = 37,640$ . Véase la Fig. (a).

$\tan A = a/b$	$c = a/\text{sen } A$	Comprobación: $a^2 = (c - b)(c + b)$	
$\log a = 1,68681$	$\log a = 1,68681$	$c = 61,487$	$\log(c - b) = 1,37744$
$(-)\log b = 1,57565$	$(-)\log \text{sen } A = 9,89803 - 10$	$b = 37,640$	$(+)\log(c + b) = 1,99620$
$\log \tan A = 0,11116$	$\log c = 1,78878$	$c - b = 23,847$	$2 \log a = 3,37364$
$A = 52^\circ 15,2'$	$c = 61,487$	$c + b = 99,127$	$\log a = 1,68682$
$B = 37^\circ 44,8'$			

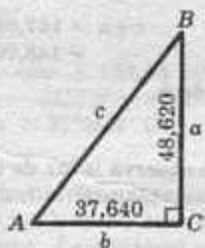


Fig. (a) Prob. 1

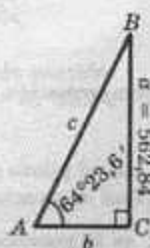


Fig. (b) Prob. 2

2. Resolver el triángulo rectángulo  $ABC$ , dados  $a = 562,84$  y  $A = 64^\circ 23,6'$ . Véase la Fig. (b).

$B = 90^\circ - A = 25^\circ 36,4'$			
$b = a/\tan A$	$c = a/\text{sen } A$	Comprobación: $a^2 = (c - b)(c + b)$	
$\log a = 2,75038$	$\log a = 2,75038$	$c = 624,13$	$\log(c - b) = 2,54948$
$(-)\log \tan A = 0,31943$	$(-)\log \text{sen } A = 9,95511 - 10$	$b = 269,74$	$(+)\log(c + b) = 2,95128$
$\log b = 2,42095$	$\log c = 2,79527$	$c - b = 354,39$	$2 \log a = 5,50076$
$b = 269,74$	$c = 624,13$	$c + b = 893,87$	$\log a = 2,75038$

3. Resolver y comprobar el triángulo rectángulo  $ABC$ , dados  $b = 583,62$  y  $c = 794,86$ . Véase la Fig. (c).

$$\cos A = b/c$$

$$a = c \sin A$$

$$\text{Comprobación: } b^2 = (c - a)(c + a)$$

$$\log b = 2,76613$$

$$(-)\log c = 2,90029$$

$$\log \cos A = 9,86584 - 10$$

$$A = 42^\circ 45,4'$$

$$B = 47^\circ 14,6'$$

$$\log c = 2,90029$$

$$(+)\log \sin A = 9,83180 - 10$$

$$\log a = 2,73209$$

$$a = 539,62$$

$$c = 794,86$$

$$a = 539,62$$

$$c - a = 255,24$$

$$c + a = 1334,48$$

$$1334,5$$

$$\log(c - a) = 2,40695$$

$$(+)\log(c + a) = 3,12532$$

$$2 \log b = 5,53227$$

$$\log b = 2,76614$$

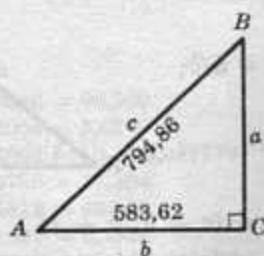


Fig.(c) Prob. 3

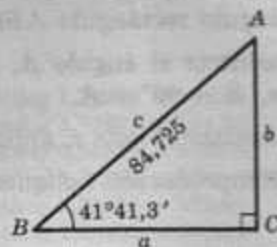


Fig.(d) Prob. 4

4. Resolver y comprobar el triángulo rectángulo  $ABC$ , dados  $c = 84,725$  y  $B = 41^\circ 41,3'$ . Véase la Fig. (d).

$$A = 90^\circ - B = 48^\circ 18,7'$$

$$b = c \sin B$$

$$a = c \cos B$$

$$\text{Comprobación: } b^2 = (c - a)(c + a)$$

$$\log c = 1,92802$$

$$(+)\log \sin B = 9,82287 - 10$$

$$\log b = 1,75089$$

$$b = 56,350$$

$$\log c = 1,92802$$

$$(+)\log \cos B = 9,87319 - 10$$

$$\log a = 1,80121$$

$$a = 63,271$$

$$c = 84,725$$

$$a = 63,271$$

$$c - a = 21,454$$

$$c + a = 147,996$$

$$= 148,00$$

$$\log(c - a) = 1,33151$$

$$(+)\log(c + a) = 2,17026$$

$$2 \log b = 3,50177$$

$$\log b = 1,75088$$

Obsérvese que ésta es una comprobación de  $\log b$  y no de  $b$ .

5. Desde una altura de 23.245 pies el piloto de un aeroplano observa la luz de un aeropuerto bajo un ángulo de depresión de  $28^\circ 45,2'$ . ¿Qué distancia hay entre el aeroplano y la luz?

En la figura adjunta,  $A$  es la posición de la luz,  $B$  es la posición del piloto, y  $c = AB$  es la distancia buscada. Entonces,

$$c = a / \sin A$$


$$\log a = 4,36633$$

$$(-)\log \sin A = 9,68218 - 10$$

$$\log c = 4,68415$$

$$c = 48.322$$

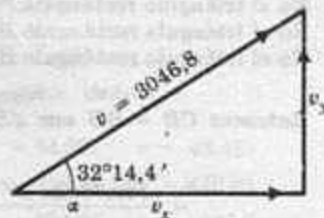
La distancia buscada es de 48.322 pies.



6. Se lanza una granada con una velocidad inicial de 3046,8 m /seg. y con un ángulo de elevación de  $32^\circ 14,4'$ . Encontrar las velocidades iniciales vertical y horizontal.

De acuerdo a la figura,  $v = 3046,8$ ,  $\alpha = 32^\circ 14,4'$ , y

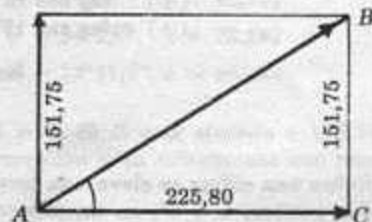
$$\begin{aligned} v_x &= v \cos \alpha & v_y &= v \sin \alpha \\ \log v &= 3,48384 & \log v &= 3,48384 \\ (+)\log \cos \alpha &= 9,92728 - 10 & (+)\log \sin \alpha &= 9,72711 - 10 \\ \log v_x &= 3,41112 & \log v_y &= 3,21095 \\ v_x &= 2577,1 \text{ m/seg} & v_y &= 1625,4 \text{ m/seg} \end{aligned}$$



7. Sobre un punto  $A$  están aplicadas, en ángulo recto, dos fuerzas de 151,75 kg, y 225,80 kg. Encontrar la magnitud de la resultante y el ángulo que forma con la mayor de las fuerzas.

En el triángulo rectángulo  $ABC$  de la figura adjunta,

$$\begin{aligned} \tan A &= CB/AC & AB &= CB/\sin A \\ \log CB &= 2,18113 & \log CB &= 2,18113 \\ (-)\log AC &= 2,35372 & (-)\log \sin A &= 9,74648 - 10 \\ \log \tan A &= 9,82741 - 10 & \log AB &= 2,43465 \\ A &= 33^\circ 54,2' & AB &= 272,05 \end{aligned}$$



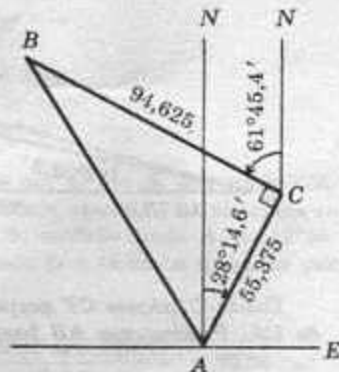
La magnitud de la fuerza resultante es de 272,05 kg, y el ángulo que forma con la fuerza mayor mide  $33^\circ 54,2'$ .

8. Un barco navega 55,375 millas con dirección  $N 28^\circ 14,6' E$  y después navega 94,625 millas con dirección  $N 61^\circ 45,4' O$ . ¿A qué distancia se encuentra del punto de partida, y cuál es su orientación respecto a dicho punto?

En la figura, el barco navega desde  $A$  hasta  $C$ , y, después, desde  $C$  hasta  $B$ . En el triángulo rectángulo  $ABC$ ,

$$\begin{aligned} \tan \angle CAB &= BC/AC & AB &= BC/\sin \angle CAB \\ \log BC &= 1,97600 & \log BC &= 1,97600 \\ (-)\log AC &= 1,74331 & (-)\log \sin \angle CAB &= 9,93605 - 10 \\ \log \tan \angle CAB &= 0,23269 & \log AB &= 2,03995 \\ \angle CAB &= 59^\circ 39,8' & AB &= 109,64 \end{aligned}$$

El barco se halla entonces a 109,64 millas del punto de partida. Como  $\angle NAB = \angle CAB - \angle CAN = 59^\circ 39,8' - 28^\circ 14,6' = 31^\circ 25,2'$ , la orientación buscada es  $N 31^\circ 25,2' O$ .



9. Para calcular la altura de un risco inaccesible  $CB$ , se determinan dos puntos  $A$  y  $D$ , en un terreno llano, directamente al oeste del risco. La distancia entre  $A$  y  $D$  es de 152,75 m. El ángulo de elevación del extremo superior del risco, medido desde  $D$ , es de  $44^\circ 32,4'$  y medido desde  $A$  es de  $29^\circ 15,8'$ . ¿A qué altura sobre el llano se encuentra el extremo superior del risco?

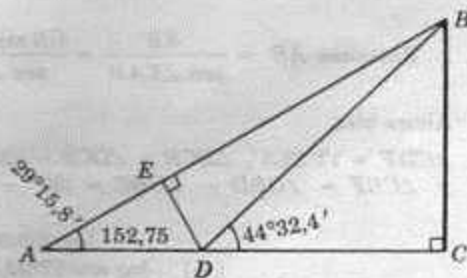
Para resolver un problema semejante a éste (problema 15, capítulo 3) se utilizó la relación

$$CB = \frac{AD}{\cot \angle BAC - \cot \angle BDC}$$

Ahora, sin embargo, se debe buscar un procedimiento más adaptable a los cálculos con logaritmos.

En la figura,  $DE$  es perpendicular a  $AB$ . Entonces,

$$\angle DBE = \angle CBA - \angle CBD = (90^\circ - \angle BAC) - (90^\circ - \angle BDC) = \angle BDC - \angle BAC = 15^\circ 16,6'$$





En el triángulo rectángulo  $AED$ ,  $DE = AD \operatorname{sen} \angle BAC$ .

En el triángulo rectángulo  $BCD$ ,  $CB = BD \operatorname{sen} \angle BDC$ .

En el triángulo rectángulo  $BED$ ,  $BD = DE / \operatorname{sen} \angle DBE$ .

$$\text{Entonces } CB = BD \operatorname{sen} \angle BDC = \frac{DE \operatorname{sen} \angle BDC}{\operatorname{sen} \angle DBE} = \frac{AD \operatorname{sen} \angle BAC \cdot \operatorname{sen} \angle BDC}{\operatorname{sen} \angle DBE}$$

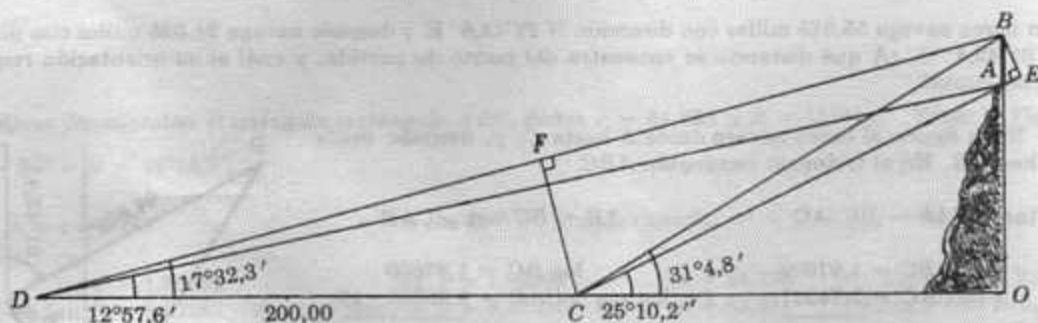
$$= \frac{152,75 \operatorname{sen} 29^{\circ}15,8' \cdot \operatorname{sen} 44^{\circ}32,4'}{\operatorname{sen} 15^{\circ}16,6'}$$

$$\begin{aligned} \log 152,75 &= 2,18398 \\ (+) \log \operatorname{sen} 29^{\circ}15,8' &= 9,68915 - 10 \\ (+) \log \operatorname{sen} 44^{\circ}32,4' &= 9,84597 - 10 \\ (+) \operatorname{colog} \operatorname{sen} 15^{\circ}16,6' &= 0,57925 \end{aligned} \quad (\log \operatorname{sen} 15^{\circ}16,6' = 9,42075 - 10)$$

$$\log CB = 2,29835$$

$$CB = 198,77 \text{ m}$$

10. Sobre una colina se eleva una torre  $AB$ . En un terreno llano que se extiende al pie de la colina se sitúan dos puntos,  $C$  y  $D$ , en un mismo plano vertical con  $AB$ . La distancia entre  $C$  y  $D$  es de 200,00 m. Los ángulos de elevación del pie y del extremo superior de  $AB$ , medidos desde  $C$  son, respectivamente,  $25^{\circ}10,2'$  y  $31^{\circ}4,8'$ , mientras que medidos desde  $D$  son  $12^{\circ}57,6'$  y  $17^{\circ}32,3'$ . Encontrar la altura de la torre.



Desde  $C$  trázese  $CF$  perpendicular a  $BD$  y desde  $B$  trázese la perpendicular  $BE$  a la prolongación de  $CA$ . Prolónguese  $AB$  hasta encontrar la prolongación de  $DC$  en  $O$ .

En el triángulo rectángulo  $AEB$ ,  $AB = EB / \operatorname{sen} \angle EAB$ .

En el triángulo rectángulo  $CEB$ ,  $EB = CB \operatorname{sen} \angle ECB$ .

En el triángulo rectángulo  $CFB$ ,  $CB = CF / \operatorname{sen} \angle CBF$ .

En el triángulo rectángulo  $CDF$ ,  $CF = CD \operatorname{sen} \angle CDF$ .

$$\text{Entonces } AB = \frac{EB}{\operatorname{sen} \angle EAB} = \frac{CB \operatorname{sen} \angle ECB}{\operatorname{sen} \angle EAB} = \frac{CF \operatorname{sen} \angle ECB}{\operatorname{sen} \angle EAB \cdot \operatorname{sen} \angle CBF} = \frac{CD \operatorname{sen} \angle CDF \cdot \operatorname{sen} \angle ECB}{\operatorname{sen} \angle EAB \cdot \operatorname{sen} \angle CBF}$$

Ahora bien

$\angle CDF = 17^{\circ}32,3'$ ,  $\angle ECB = \angle OCB - \angle OCA = 5^{\circ}54,6'$ ,  $\angle EAB = \angle OAC = 90^{\circ} - \angle OCA = 64^{\circ}49,8'$ ,  
y  $\angle CBF = \angle OBD - \angle OBC = (90^{\circ} - \angle ODB) - (90^{\circ} - \angle OCB) = \angle OCB - \angle ODB = 13^{\circ}32,5'$ .

$$\begin{aligned} \log 200,00 &= 2,30103 \\ (+) \log \operatorname{sen} 17^{\circ}32,3' &= 9,47906 - 10 \\ (+) \log \operatorname{sen} 5^{\circ}54,6' &= 9,01269 - 10 \\ (+) \operatorname{colog} \operatorname{sen} 64^{\circ}49,8' &= 0,04333 \\ (+) \operatorname{colog} \operatorname{sen} 13^{\circ}32,5' &= 0,63050 \end{aligned} \quad \begin{aligned} (\log \operatorname{sen} 64^{\circ}49,8' &= 9,95667 - 10) \\ (\log \operatorname{sen} 13^{\circ}32,5' &= 9,36950 - 10) \end{aligned}$$

$$\log AB = 1,46661$$

$$AB = 29,283 \text{ m}$$

## PROBLEMAS PROPUESTOS

Resolver y comprobar cada uno de los siguientes triángulos rectángulos, dados:

- |  |  |
|--|--|
| 11. $a = 25,72$ , $A = 36^{\circ}20'$    | Resp. $B = 53^{\circ}40'$ , $b = 34,97$ , $c = 43,41$              |
| 12. $a = 342,86$ , $A = 55^{\circ}32,8'$ | Resp. $B = 34^{\circ}27,2'$ , $b = 235,23$ , $c = 415,81$          |
| 13. $a = 574,16$ , $B = 56^{\circ}20,6'$ | Resp. $A = 33^{\circ}39,4'$ , $b = 862,32$ , $c = 1036,0$          |
| 14. $c = 44,26$ , $A = 56^{\circ}14'$    | Resp. $B = 33^{\circ}46'$ , $a = 36,79$ , $b = 24,60$              |
| 15. $c = 287,68$ , $A = 38^{\circ}10,2'$ | Resp. $B = 51^{\circ}49,8'$ , $a = 177,78$ , $b = 226,17$          |
| 16. $c = 67,546$ , $B = 47^{\circ}25,6'$ | Resp. $A = 42^{\circ}34,4'$ , $a = 45,697$ , $b = 49,741$          |
| 17. $a = 42,420$ , $b = 58,480$          | Resp. $A = 35^{\circ}57,4'$ , $B = 54^{\circ}2,6'$ , $c = 72,243$  |
| 18. $a = 384,66$ , $b = 254,88$          | Resp. $A = 56^{\circ}28,3'$ , $B = 33^{\circ}31,7'$ , $c = 461,44$ |
19. Se va a construir una carretera recta para unir las ciudades  $A$  y  $B$ . Si  $B$  está situada a 133,75 km al este y 256,78 km al norte de  $A$ , encontrar la longitud de la carretera y su orientación con respecto a la ciudad  $A$ . Resp. 289,53 km, N  $27^{\circ}30,8'$  E
20. Se ejercen, en ángulo recto, dos fuerzas de 281,66 kg y 323,54 kg. Encontrar la magnitud de la fuerza resultante y el ángulo que ésta forma con la fuerza mayor. Resp. 428,97 kg,  $41^{\circ}2,5'$
21. Calcular la longitud de la base de un triángulo isósceles si el ángulo del vértice mide  $48^{\circ}27,4'$  y los lados iguales miden 168,14. Resp. 138,00
22. Dada una circunferencia de 417,12 cm de radio, calcular el lado y el área
- del decágono regular inscrito. Resp. 257,80 cm, 511,340 cm<sup>2</sup>
  - del decágono regular circunscrito. Resp. 271,06 cm, 565,320 cm<sup>2</sup>
23. Dada una circunferencia de 336,48 cm de radio, calcular el lado y el área
- del octógono regular inscrito. Resp. 257,52 cm, 320,240 cm<sup>2</sup>
  - del octógono regular circunscrito. Resp. 278,74 cm, 375,170 cm<sup>2</sup>
24. Dos puntos,  $A$  y  $D$ , están situados en una recta horizontal que pasa por el pie de una torre  $CB$ , de tal manera que  $A$  se encuentra hacia un lado de la torre, y  $B$  hacia el lado opuesto. La distancia entre  $A$  y  $D$  es de 535,4 m, y el ángulo de elevación del extremo superior  $B$ , medido desde  $A$ , es  $12^{\circ}46'$  y, medido desde  $D$ , es  $18^{\circ}38'$ . Considérese la perpendicular trazada desde  $D$  a la recta que pasa por  $A$  y  $B$ . Sea  $E$  el pie de dicha perpendicular. Demuéstrese que

$$CB = BD \operatorname{sen} \angle BDC = \frac{DE \operatorname{sen} \angle BDC}{\operatorname{sen} \angle DBE} = \frac{AD \operatorname{sen} \angle BAC \operatorname{sen} \angle BDC}{\operatorname{sen} \angle DBE} = 72,56 \text{ m.}$$

## CAPITULO 8

### Reducciones a funciones de ángulos agudos positivos

**ANGULOS COFINALES.** Sea  $\theta$  un ángulo cualquiera; entonces,

$$\begin{array}{ll} \operatorname{sen}(\theta + n \cdot 360^\circ) = \operatorname{sen} \theta & \operatorname{cot}(\theta + n \cdot 360^\circ) = \operatorname{cot} \theta \\ \operatorname{cos}(\theta + n \cdot 360^\circ) = \operatorname{cos} \theta & \operatorname{sec}(\theta + n \cdot 360^\circ) = \operatorname{sec} \theta \\ \operatorname{tan}(\theta + n \cdot 360^\circ) = \operatorname{tan} \theta & \operatorname{csc}(\theta + n \cdot 360^\circ) = \operatorname{csc} \theta \end{array}$$

donde  $n$  es cualquier número entero positivo, negativo o cero.

Ejemplos.  $\operatorname{sen} 400^\circ = \operatorname{sen}(40^\circ + 360^\circ) = \operatorname{sen} 40^\circ$   
 $\operatorname{cos} 850^\circ = \operatorname{cos}(130^\circ + 2 \cdot 360^\circ) = \operatorname{cos} 130^\circ$   
 $\operatorname{tan}(-1000^\circ) = \operatorname{tan}(80^\circ - 3 \cdot 360^\circ) = \operatorname{tan} 80^\circ$

**FUNCIONES DE UN ANGULO NEGATIVO.** Sea  $\theta$  un ángulo cualquiera; entonces,

$$\begin{array}{ll} \operatorname{sen}(-\theta) = -\operatorname{sen} \theta & \operatorname{cot}(-\theta) = -\operatorname{cot} \theta \\ \operatorname{cos}(-\theta) = \operatorname{cos} \theta & \operatorname{sec}(-\theta) = \operatorname{sec} \theta \\ \operatorname{tan}(-\theta) = -\operatorname{tan} \theta & \operatorname{csc}(-\theta) = -\operatorname{csc} \theta \end{array}$$

Ejemplos.  $\operatorname{sen}(-50^\circ) = -\operatorname{sen} 50^\circ$ ,  $\operatorname{cos}(-30^\circ) = \operatorname{cos} 30^\circ$ ,  $\operatorname{tan}(-200^\circ) = -\operatorname{tan} 200^\circ$ .

Las demostraciones de estas relaciones se encuentran en el problema 1.

**FORMULA DE REDUCCIONES.** Sea  $\theta$  un ángulo cualquiera; entonces,

$$\begin{array}{ll} \operatorname{sen}(90^\circ - \theta) = \operatorname{cos} \theta & \operatorname{sen}(90^\circ + \theta) = \operatorname{cos} \theta \\ \operatorname{cos}(90^\circ - \theta) = \operatorname{sen} \theta & \operatorname{cos}(90^\circ + \theta) = -\operatorname{sen} \theta \\ \operatorname{tan}(90^\circ - \theta) = \operatorname{cot} \theta & \operatorname{tan}(90^\circ + \theta) = -\operatorname{cot} \theta \\ \operatorname{cot}(90^\circ - \theta) = \operatorname{tan} \theta & \operatorname{cot}(90^\circ + \theta) = -\operatorname{tan} \theta \\ \operatorname{sec}(90^\circ - \theta) = \operatorname{csc} \theta & \operatorname{sec}(90^\circ + \theta) = \operatorname{csc} \theta \\ \operatorname{csc}(90^\circ - \theta) = \operatorname{sec} \theta & \operatorname{csc}(90^\circ + \theta) = \operatorname{sec} \theta \\ \\ \operatorname{sen}(180^\circ - \theta) = \operatorname{sen} \theta & \operatorname{sen}(180^\circ + \theta) = -\operatorname{sen} \theta \\ \operatorname{cos}(180^\circ - \theta) = -\operatorname{cos} \theta & \operatorname{cos}(180^\circ + \theta) = -\operatorname{cos} \theta \\ \operatorname{tan}(180^\circ - \theta) = -\operatorname{tan} \theta & \operatorname{tan}(180^\circ + \theta) = \operatorname{tan} \theta \\ \operatorname{cot}(180^\circ - \theta) = -\operatorname{cot} \theta & \operatorname{cot}(180^\circ + \theta) = \operatorname{cot} \theta \\ \operatorname{sec}(180^\circ - \theta) = -\operatorname{sec} \theta & \operatorname{sec}(180^\circ + \theta) = -\operatorname{sec} \theta \\ \operatorname{csc}(180^\circ - \theta) = \operatorname{csc} \theta & \operatorname{csc}(180^\circ + \theta) = -\operatorname{csc} \theta \end{array}$$

Las demostraciones de estas relaciones se encuentran en los problemas 2, 3, 4 y 5.

**FORMULA GENERAL DE REDUCCION.** Toda función trigonométrica de  $(n \cdot 90^\circ \pm \theta)$ , donde  $\theta$  es un ángulo cualquiera, es numéricamente igual a

- a) la misma función de  $\theta$  si  $n$  es par,
- b) la correspondiente cofunción de  $\theta$  si  $n$  es impar.

En cada caso, el signo algebraico es el igual al signo que tiene la función dada en el cuadrante al que pertenece  $n \cdot 90^\circ \pm \theta$  cuando  $\theta$  es un ángulo agudo positivo.

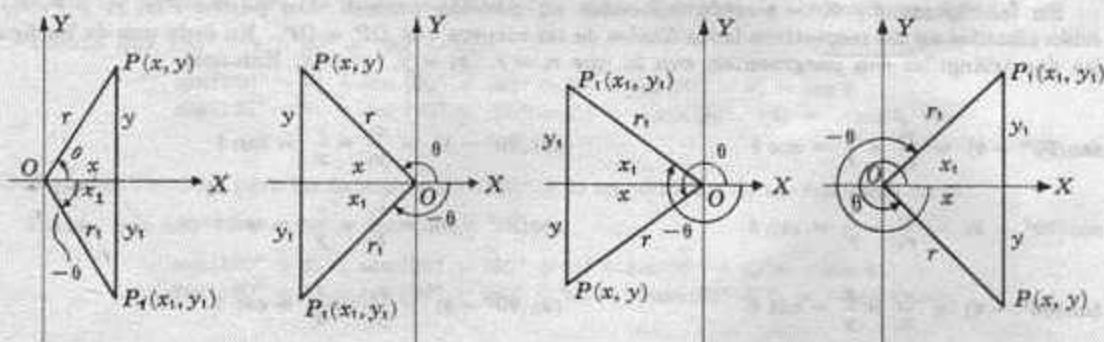
La verificación de estas fórmulas se encuentra en el problema 3.

## Ejemplos.

- 1)  $\sin(180^\circ - \theta) = \sin(2 \cdot 90^\circ - \theta) = \sin \theta$  puesto que  $180^\circ$  es un múltiplo par de  $90^\circ$  y, cuando  $\theta$  es un ángulo agudo positivo, el lado final (terminal) de  $180^\circ - \theta$  cae en el cuadrante II.
- 2)  $\cos(180^\circ + \theta) = \cos(2 \cdot 90^\circ + \theta) = -\cos \theta$  puesto que  $180^\circ$  es un múltiplo par de  $90^\circ$  y, cuando  $\theta$  es un ángulo agudo positivo, el lado final de  $180^\circ + \theta$  cae en el cuadrante III.
- 3)  $\tan(270^\circ - \theta) = \tan(3 \cdot 90^\circ - \theta) = \cot \theta$  puesto que  $270^\circ$  es un múltiplo impar de  $90^\circ$  y, cuando  $\theta$  es un ángulo agudo positivo, el lado final de  $270^\circ - \theta$  cae en el cuadrante III.
- 4)  $\cos(270^\circ + \theta) = \cos(3 \cdot 90^\circ + \theta) = \sin \theta$  puesto que  $270^\circ$  es un múltiplo impar de  $90^\circ$  y, cuando  $\theta$  es un ángulo agudo positivo, el lado final de  $270^\circ + \theta$  cae en el cuadrante IV.

## PROBLEMAS RESUELTOS

1. Deducir las fórmulas para las funciones de  $(-\theta)$  en términos de las funciones de  $\theta$ .



En las figuras,  $\theta$  y  $-\theta$  están colocados en posición normal y son numéricamente iguales. Los puntos  $P(x, y)$  y  $P_1(x_1, y_1)$  están situados en los respectivos lados finales de tal manera que  $OP = OP_1$ . En cada una de las figuras los dos triángulos son congruentes, con lo que  $r_1 = r$ ,  $x_1 = x$ ,  $y_1 = -y$ . Entonces,

$$\sin(-\theta) = \frac{y_1}{r_1} = \frac{-y}{r} = -\frac{y}{r} = -\sin \theta$$

$$\cot(-\theta) = \frac{x_1}{y_1} = \frac{x}{-y} = -\frac{x}{y} = -\cot \theta$$

$$\cos(-\theta) = \frac{x_1}{r_1} = \frac{x}{r} = \cos \theta$$

$$\sec(-\theta) = \frac{r_1}{x_1} = \frac{r}{x} = \sec \theta$$

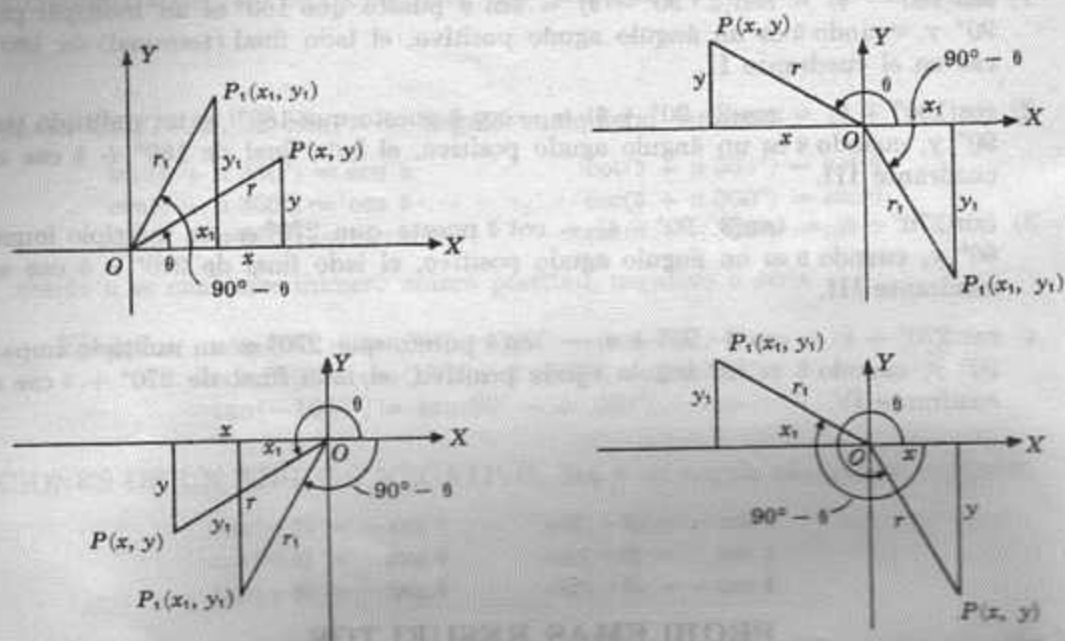
$$\tan(-\theta) = \frac{y_1}{x_1} = \frac{-y}{x} = -\frac{y}{x} = -\tan \theta$$

$$\csc(-\theta) = \frac{r_1}{y_1} = \frac{r}{-y} = -\frac{r}{y} = -\csc \theta$$

Excepto en los casos en que alguna función no esté definida, las relaciones anteriores son válidas también cuando  $\theta$  es un ángulo de un cuadrante; lo que puede verificarse si se tiene en cuenta que  $-0^\circ$  y  $0^\circ$ ,  $-90^\circ$  y  $270^\circ$ ,  $-180^\circ$  y  $180^\circ$ ,  $-270^\circ$  y  $90^\circ$  son cofinales.

Por ejemplo,  $\sin(-0^\circ) = \sin 0^\circ = 0 = -\sin 0^\circ$ ,  $\sin(-90^\circ) = \sin 270^\circ = -1 = -\sin 90^\circ$ ,  $\cos(-180^\circ) = \cos 180^\circ$  y  $\cot(-270^\circ) = \cot 90^\circ = 0 = -\cot 270^\circ$ .

2. Deducir las fórmulas para las funciones de  $(90^\circ - \theta)$  en términos de las funciones de  $\theta$ .



En las figuras,  $\theta$  y  $90^\circ - \theta$  están colocados en posición normal. Los puntos  $P(x, y)$  y  $P_1(x_1, y_1)$  están situados en los respectivos lados finales de tal manera que  $OP = OP_1$ . En cada una de las figuras los dos triángulos son congruentes, con lo que  $r_1 = r$ ,  $x_1 = y$ ,  $y_1 = x$ . Entonces,

$$\operatorname{sen}(90^\circ - \theta) = \frac{y_1}{r_1} = \frac{x}{r} = \cos \theta$$

$$\cot(90^\circ - \theta) = \frac{x_1}{y_1} = \frac{y}{x} = \tan \theta$$

$$\cos(90^\circ - \theta) = \frac{x_1}{r_1} = \frac{y}{r} = \operatorname{sen} \theta$$

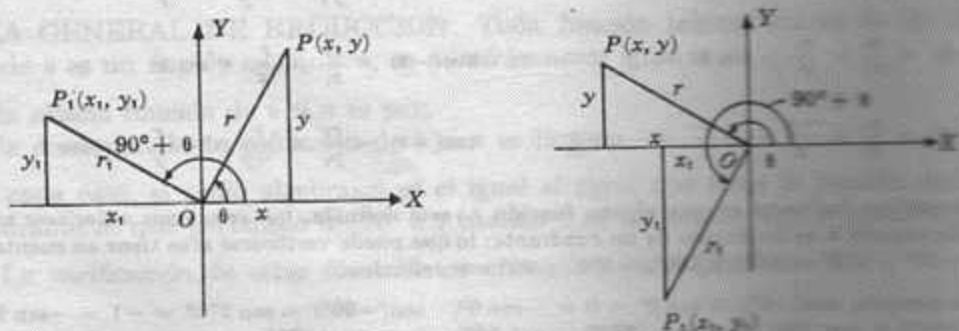
$$\sec(90^\circ - \theta) = \frac{r_1}{x_1} = \frac{r}{y} = \operatorname{csc} \theta$$

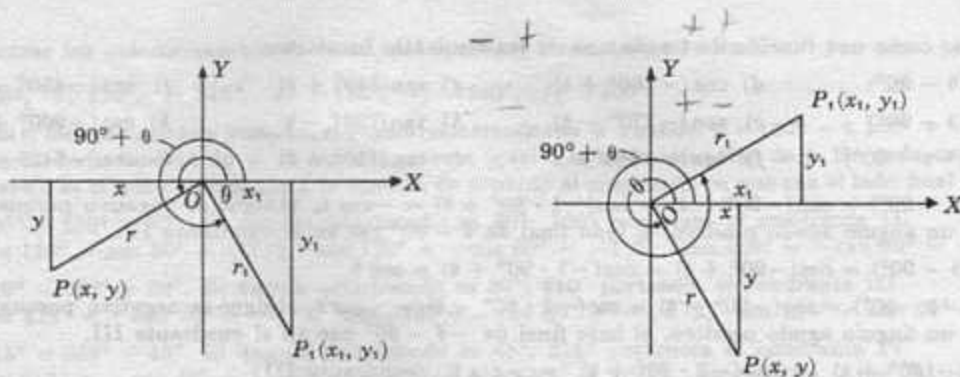
$$\tan(90^\circ - \theta) = \frac{y_1}{x_1} = \frac{x}{y} = \cot \theta$$

$$\operatorname{csc}(90^\circ - \theta) = \frac{r_1}{y_1} = \frac{r}{x} = \sec \theta$$

Como sucede en las fórmulas del problema 1, algunas de estas relaciones carecen de significado cuando  $\theta$  es un ángulo de un cuadrante.

3. Deducir las fórmulas para las funciones de  $(90^\circ + \theta)$  en términos de las funciones de  $\theta$ .





En las figuras,  $\theta$  y  $90^\circ + \theta$  están colocados en posición normal. Los puntos  $P(x, y)$  y  $P_1(x_1, y_1)$  están situados en los respectivos lados finales de tal manera que  $OP = OP_1$ . En cada una de las figuras los dos triángulos son congruentes, con lo que  $r_1 = r$ ,  $x_1 = -y$ ,  $y_1 = x$ . Entonces,

$$\begin{aligned} \text{sen}(90^\circ + \theta) &= \frac{y_1}{r_1} = \frac{x}{r} = \text{cos } \theta & \cot(90^\circ + \theta) &= \frac{x_1}{y_1} = -\frac{y}{x} = -\tan \theta \\ \text{cos}(90^\circ + \theta) &= \frac{x_1}{r_1} = -\frac{y}{r} = -\text{sen } \theta & \sec(90^\circ + \theta) &= \frac{r_1}{x_1} = -\frac{r}{y} = -\text{csc } \theta \\ \tan(90^\circ + \theta) &= \frac{y_1}{x_1} = -\frac{x}{y} = -\cot \theta & \csc(90^\circ + \theta) &= \frac{r_1}{y_1} = \frac{r}{x} = \text{sec } \theta \end{aligned}$$

4. Deducir las fórmulas para las funciones de  $(180^\circ - \theta)$  en términos de las funciones de  $\theta$ .

Puesto que  $180^\circ - \theta = 90^\circ + (90^\circ - \theta)$ ,

$$\begin{aligned} \text{sen}(180^\circ - \theta) &= \text{sen}[90^\circ + (90^\circ - \theta)] = \text{cos}(90^\circ - \theta) = \text{sen } \theta \\ \text{cos}(180^\circ - \theta) &= \text{cos}[90^\circ + (90^\circ - \theta)] = -\text{sen}(90^\circ - \theta) = -\text{cos } \theta, \text{ etc.} \end{aligned}$$

5. Deducir las fórmulas para las funciones de  $(180^\circ + \theta)$  en términos de las funciones de  $\theta$ .

Puesto que  $180^\circ + \theta = 90^\circ + (90^\circ + \theta)$ ,

$$\begin{aligned} \text{sen}(180^\circ + \theta) &= \text{sen}[90^\circ + (90^\circ + \theta)] = \text{cos}(90^\circ + \theta) = -\text{sen } \theta \\ \text{cos}(180^\circ + \theta) &= \text{cos}[90^\circ + (90^\circ + \theta)] = -\text{sen}(90^\circ + \theta) = -\text{cos } \theta, \text{ etc.} \end{aligned}$$

6. Deducir las fórmulas para las funciones de  $(270^\circ - \theta)$  en términos de las funciones de  $\theta$ .

Puesto que  $270^\circ - \theta = 180^\circ + (90^\circ - \theta)$ ,

$$\begin{aligned} \text{sen}(270^\circ - \theta) &= \text{sen}[180^\circ + (90^\circ - \theta)] = -\text{sen}(90^\circ - \theta) = -\text{cos } \theta & \cot(270^\circ - \theta) &= \tan \theta \\ \text{cos}(270^\circ - \theta) &= \text{cos}[180^\circ + (90^\circ - \theta)] = -\text{cos}(90^\circ - \theta) = -\text{sen } \theta & \sec(270^\circ - \theta) &= -\text{csc } \theta \\ \tan(270^\circ - \theta) &= \tan[180^\circ + (90^\circ - \theta)] = \tan(90^\circ - \theta) = \cot \theta & \csc(270^\circ - \theta) &= -\text{sec } \theta. \end{aligned}$$

7. Deducir las fórmulas para las funciones de  $(270^\circ + \theta)$  en términos de las funciones de  $\theta$ .

Puesto que  $270^\circ + \theta = 180^\circ + (90^\circ + \theta)$ ,

$$\begin{aligned} \text{sen}(270^\circ + \theta) &= \text{sen}[180^\circ + (90^\circ + \theta)] = -\text{sen}(90^\circ + \theta) = -\text{cos } \theta & \cot(270^\circ + \theta) &= -\tan \theta \\ \text{cos}(270^\circ + \theta) &= \text{cos}[180^\circ + (90^\circ + \theta)] = -\text{cos}(90^\circ + \theta) = \text{sen } \theta & \sec(270^\circ + \theta) &= \text{csc } \theta \\ \tan(270^\circ + \theta) &= \tan[180^\circ + (90^\circ + \theta)] = \tan(90^\circ + \theta) = -\cot \theta & \csc(270^\circ + \theta) &= -\text{sec } \theta. \end{aligned}$$

8. Deducir la fórmula general de reducción.

Al examinar las fórmulas deducidas en los problemas 1-7, se observa que la fórmula general de reducción es válida para los enteros  $n = 1, 2, 3$ . Se concluye entonces que la fórmula es válida para cualquier entero  $n$  porque  $n \cdot 90^\circ \pm \theta$  es cofinal con alguno de los ángulos  $\pm \theta, 90^\circ \pm \theta, 180^\circ \pm \theta, 270^\circ \pm \theta$ .

9. Expresar como una función de  $\theta$  cada una de las siguientes funciones:

- a)  $\text{sen}(\theta - 90^\circ)$       d)  $\text{cos}(-180^\circ + \theta)$       g)  $\text{sen}(540^\circ + \theta)$       j)  $\text{cos}(-450^\circ - \theta)$   
 b)  $\text{cos}(\theta - 90^\circ)$       e)  $\text{sen}(-270^\circ - \theta)$       h)  $\text{tan}(720^\circ - \theta)$       k)  $\text{csc}(-900^\circ + \theta)$   
 c)  $\text{sec}(-\theta - 90^\circ)$       f)  $\text{tan}(\theta - 360^\circ)$       i)  $\text{tan}(720^\circ + \theta)$       l)  $\text{sen}(-540^\circ - \theta)$ .

- a)  $\text{sen}(\theta - 90^\circ) = \text{sen}(-90^\circ + \theta) = \text{sen}(-1 \cdot 90^\circ + \theta) = -\text{cos } \theta$ , el signo es negativo porque, cuando  $\theta$  es un ángulo agudo positivo, el lado final de  $\theta - 90^\circ$  cae en el cuadrante IV.  
 b)  $\text{cos}(\theta - 90^\circ) = \text{cos}(-90^\circ + \theta) = \text{cos}(-1 \cdot 90^\circ + \theta) = \text{sen } \theta$ .  
 c)  $\text{sec}(-\theta - 90^\circ) = \text{sec}(-90^\circ - \theta) = \text{sec}(-1 \cdot 90^\circ - \theta) = -\text{csc } \theta$ , el signo es negativo porque, cuando  $\theta$  es un ángulo agudo positivo, el lado final de  $-\theta - 90^\circ$  cae en el cuadrante III.  
 d)  $\text{cos}(-180^\circ + \theta) = \text{cos}(-2 \cdot 90^\circ + \theta) = -\text{cos } \theta$ . (cuadrante III)  
 e)  $\text{sen}(-270^\circ - \theta) = \text{sen}(-3 \cdot 90^\circ - \theta) = \text{cos } \theta$ . (cuadrante I)  
 f)  $\text{tan}(\theta - 360^\circ) = \text{tan}(-4 \cdot 90^\circ + \theta) = \text{tan } \theta$ . (cuadrante I)  
 g)  $\text{sen}(540^\circ + \theta) = \text{sen}(6 \cdot 90^\circ + \theta) = -\text{sen } \theta$ . (cuadrante III)  
 h)  $\text{tan}(720^\circ - \theta) = \text{tan}(8 \cdot 90^\circ - \theta) = -\text{tan } \theta$   
      $= \text{tan}(2 \cdot 360^\circ - \theta) = \text{tan}(-\theta) = -\text{tan } \theta$ .  
 i)  $\text{tan}(720^\circ + \theta) = \text{tan}(8 \cdot 90^\circ + \theta) = \text{tan } \theta$   
      $= \text{tan}(2 \cdot 360^\circ + \theta) = \text{tan } \theta$ .  
 j)  $\text{cos}(-450^\circ - \theta) = \text{cos}(-5 \cdot 90^\circ - \theta) = -\text{sen } \theta$ .  
 k)  $\text{csc}(-900^\circ + \theta) = \text{csc}(-10 \cdot 90^\circ + \theta) = -\text{csc } \theta$ .  
 l)  $\text{sen}(-540^\circ - \theta) = \text{sen}(-6 \cdot 90^\circ - \theta) = \text{sen } \theta$ .

10. Expresar como funciones de un ángulo positivo, en dos formas diferentes, cada una de las siguientes funciones:

- ✓ a)  $\text{sen } 130^\circ$       c)  $\text{sen } 200^\circ$       e)  $\text{tan } 165^\circ$       ✓ g)  $\text{sen } 670^\circ$       i)  $\text{csc } 865^\circ$       k)  $\text{cos}(-680^\circ)$   
 b)  $\text{tan } 325^\circ$       ✓ d)  $\text{cos } 310^\circ$       f)  $\text{sec } 250^\circ$       h)  $\text{cot } 930^\circ$       j)  $\text{sen}(-100^\circ)$       l)  $\text{tan}(-290^\circ)$ .
- a)  $\text{sen } 130^\circ = \text{sen}(2 \cdot 90^\circ - 50^\circ) = \text{sen } 50^\circ$   
      $= \text{sen}(1 \cdot 90^\circ + 40^\circ) = \text{cos } 40^\circ$   
 b)  $\text{tan } 325^\circ = \text{tan}(4 \cdot 90^\circ - 35^\circ) = -\text{tan } 35^\circ$   
      $= \text{tan}(3 \cdot 90^\circ + 55^\circ) = -\text{cot } 55^\circ$   
 c)  $\text{sen } 200^\circ = \text{sen}(2 \cdot 90^\circ + 20^\circ) = -\text{sen } 20^\circ$   
      $= \text{sen}(3 \cdot 90^\circ - 70^\circ) = -\text{cos } 70^\circ$   
 g)  $\text{sen } 670^\circ = \text{sen}(8 \cdot 90^\circ - 50^\circ) = -\text{sen } 50^\circ$   
      $= \text{sen}(7 \cdot 90^\circ + 40^\circ) = -\text{cos } 40^\circ$   
 o  $\text{sen } 670^\circ = \text{sen}(310^\circ + 360^\circ) = \text{sen } 310^\circ = \text{sen}(4 \cdot 90^\circ - 50^\circ) = -\text{sen } 50^\circ$   
 h)  $\text{cot } 930^\circ = \text{cot}(10 \cdot 90^\circ + 30^\circ) = \text{cot } 30^\circ$   
      $= \text{cot}(11 \cdot 90^\circ - 60^\circ) = \text{tan } 60^\circ$   
 o  $\text{cot } 930^\circ = \text{cot}(210^\circ + 2 \cdot 360^\circ) = \text{cot } 210^\circ = \text{cot}(2 \cdot 90^\circ + 30^\circ) = \text{cot } 30^\circ$   
 i)  $\text{csc } 865^\circ = \text{csc}(10 \cdot 90^\circ - 35^\circ) = \text{csc } 35^\circ$   
      $= \text{csc}(9 \cdot 90^\circ + 55^\circ) = \text{sec } 55^\circ$   
 o  $\text{csc } 865^\circ = \text{csc}(145^\circ + 2 \cdot 360^\circ) = \text{csc } 145^\circ = \text{csc}(2 \cdot 90^\circ - 35^\circ) = \text{csc } 35^\circ$   
 j)  $\text{sen}(-100^\circ) = \text{sen}(-2 \cdot 90^\circ + 80^\circ) = -\text{sen } 80^\circ$   
      $= \text{sen}(-1 \cdot 90^\circ - 10^\circ) = -\text{cos } 10^\circ$   
 o  $\text{sen}(-100^\circ) = -\text{sen } 100^\circ = -\text{sen}(2 \cdot 90^\circ - 80^\circ) = -\text{sen } 80^\circ$   
 o  $\text{sen}(-100^\circ) = \text{sen}(-100^\circ + 360^\circ) = \text{sen } 260^\circ = \text{sen}(2 \cdot 90^\circ + 80^\circ) = -\text{sen } 80^\circ$   
 k)  $\text{cos}(-680^\circ) = \text{cos}(-8 \cdot 90^\circ + 40^\circ) = \text{cos } 40^\circ$   
      $= \text{cos}(-7 \cdot 90^\circ - 50^\circ) = \text{sen } 50^\circ$   
 o  $\text{cos}(-680^\circ) = \text{cos}(-680^\circ + 2 \cdot 360^\circ) = \text{cos } 40^\circ$   
 l)  $\text{tan}(-290^\circ) = \text{tan}(-4 \cdot 90^\circ + 70^\circ) = \text{tan } 70^\circ$   
      $= \text{tan}(-3 \cdot 90^\circ - 20^\circ) = \text{cot } 20^\circ$   
 o  $\text{tan}(-290^\circ) = \text{tan}(-290^\circ + 360^\circ) = \text{tan } 70^\circ$

11. Encontrar los valores exactos del seno, del coseno y de la tangente de:

- a)  $120^\circ$ , b)  $210^\circ$ , c)  $315^\circ$ , d)  $-135^\circ$ , e)  $-240^\circ$ , f)  $-330^\circ$ .

Sea  $\theta$ , siempre agudo y positivo, el ángulo relacionado con  $\phi$  cuando  $\phi = 180^\circ - \theta$ ,  $180^\circ + \theta$  ó  $360^\circ - \theta$ . Entonces, toda función de  $\phi$  es numéricamente igual a la misma función de  $\theta$ . En cada caso, el signo algebraico es el que corresponde a la función de acuerdo al cuadrante en que cae el lado final de  $\phi$ .

- a)  $120^\circ = 180^\circ - 60^\circ$ . El ángulo relacionado es  $60^\circ$ ;  $120^\circ$  pertenece al cuadrante II.  
 $\text{sen } 120^\circ = \text{sen } 60^\circ = \sqrt{3}/2$ ,  $\text{cos } 120^\circ = -\text{cos } 60^\circ = -1/2$ ,  $\text{tan } 120^\circ = -\text{tan } 60^\circ = -\sqrt{3}$ .
- b)  $210^\circ = 180^\circ + 30^\circ$ . El ángulo relacionado es  $30^\circ$ ;  $210^\circ$  pertenece al cuadrante III.  
 $\text{sen } 210^\circ = -\text{sen } 30^\circ = -1/2$ ,  $\text{cos } 210^\circ = -\text{cos } 30^\circ = -\sqrt{3}/2$ ,  $\text{tan } 210^\circ = \text{tan } 30^\circ = \sqrt{3}/3$ .
- c)  $315^\circ = 360^\circ - 45^\circ$ . El ángulo relacionado es  $45^\circ$ ;  $315^\circ$  pertenece al cuadrante IV.  
 $\text{sen } 315^\circ = -\text{sen } 45^\circ = -\sqrt{2}/2$ ,  $\text{cos } 315^\circ = \text{cos } 45^\circ = \sqrt{2}/2$ ,  $\text{tan } 315^\circ = -\text{tan } 45^\circ = -1$ .
- d) Cualquier función de  $-135^\circ$  es igual a la misma función de  $-135^\circ + 360^\circ = 225^\circ = \phi$ .  
 $225^\circ = 180^\circ + 45^\circ$ . El ángulo relacionado es  $45^\circ$ ;  $225^\circ$  pertenece al cuadrante III.  
 $\text{sen}(-135^\circ) = -\text{sen } 45^\circ = -\sqrt{2}/2$ ,  $\text{cos}(-135^\circ) = -\text{cos } 45^\circ = -\sqrt{2}/2$ ,  $\text{tan}(-135^\circ) = 1$ .
- e) Cualquier función de  $-240^\circ$  es igual a la misma función de  $-240^\circ + 360^\circ = 120^\circ$ .  
 $120^\circ = 180^\circ - 60^\circ$ . El ángulo relacionado es  $60^\circ$ ;  $120^\circ$  pertenece al cuadrante II.  
 $\text{sen}(-240^\circ) = \text{sen } 60^\circ = \sqrt{3}/2$ ,  $\text{cos}(-240^\circ) = -\text{cos } 60^\circ = -1/2$ ,  $\text{tan}(-240^\circ) = -\text{tan } 60^\circ = -\sqrt{3}$ .
- f) Cualquier función de  $-330^\circ$  es igual a la misma función de  $-330^\circ + 360^\circ = 30^\circ$ .  
 $\text{sen}(-330^\circ) = \text{sen } 30^\circ = 1/2$ ,  $\text{cos}(-330^\circ) = \text{cos } 30^\circ = \sqrt{3}/2$ ,  $\text{tan}(-330^\circ) = \text{tan } 30^\circ = \sqrt{3}/3$ .

12. Encontrar en la tabla de funciones naturales los valores correspondientes a:

- a)  $\text{sen } 125^\circ 14' = \text{sen}(180^\circ - 54^\circ 46') = \text{sen } 54^\circ 46' = 0,8168$   
 b)  $\text{cos } 169^\circ 40' = \text{cos}(180^\circ - 10^\circ 20') = -\text{cos } 10^\circ 20' = -0,9838$   
 c)  $\text{tan } 200^\circ 23' = \text{tan}(180^\circ + 20^\circ 23') = \text{tan } 20^\circ 23' = 0,3716$   
 d)  $\text{cot } 250^\circ 44' = \text{cot}(180^\circ + 70^\circ 44') = \text{cot } 70^\circ 44' = 0,3495$   
 e)  $\text{cos } 313^\circ 18' = \text{cos}(360^\circ - 46^\circ 42') = \text{cos } 46^\circ 42' = 0,6858$   
 f)  $\text{sen } 341^\circ 52' = \text{sen}(360^\circ - 18^\circ 8') = -\text{sen } 18^\circ 8' = -0,3112$

13. Si  $\text{tan } 25^\circ = a$ , encontrar:

- a)  $\frac{\text{tan } 155^\circ - \text{tan } 115^\circ}{1 + \text{tan } 155^\circ \text{tan } 115^\circ} = \frac{-\text{tan } 25^\circ - (-\text{cot } 25^\circ)}{1 + (-\text{tan } 25^\circ)(-\text{cot } 25^\circ)} = \frac{-a + 1/a}{1 + a(1/a)} = \frac{-a^2 + 1}{a + a} = \frac{1 - a^2}{2a}$ .
- b)  $\frac{\text{tan } 205^\circ - \text{tan } 115^\circ}{\text{tan } 245^\circ + \text{tan } 335^\circ} = \frac{\text{tan } 25^\circ - (-\text{cot } 25^\circ)}{\text{cot } 25^\circ + (-\text{tan } 25^\circ)} = \frac{a + 1/a}{1/a - a} = \frac{a^2 + 1}{1 - a^2}$ .

14. Si  $A + B + C = 180^\circ$ , entonces

- a)  $\text{sen}(B + C) = \text{sen}(180^\circ - A) = \text{sen } A$ .  
 b)  $\text{sen} \frac{1}{2}(B + C) = \text{sen} \frac{1}{2}(180^\circ - A) = \text{sen}(90^\circ - \frac{1}{2}A) = \text{cos} \frac{1}{2}A$ .

15. Demostrar que  $\text{sen } \theta$  y  $\text{tan} \frac{1}{2}\theta$  tienen el mismo signo.

- a) Supóngase que  $\theta = n \cdot 180^\circ$ . Si  $n$  es par (incluido el cero), por ejemplo  $2m$ , entonces  $\text{sen}(2m \cdot 180^\circ) = \text{tan}(m \cdot 180^\circ) = 0$ . Se excluye el caso en que  $n$  es impar porque entonces  $\text{tan} \frac{1}{2}\theta$  no está definida.
- b) Supóngase que  $\theta = n \cdot 180^\circ + \phi$ , donde  $0 < \phi < 180^\circ$ . Si  $n$  es par (incluido el cero),  $\theta$  pertenece al cuadrante I o al cuadrante II y  $\text{sen } \theta$  es positivo, mientras que  $\frac{1}{2}\theta$  pertenece al cuadrante I o al cuadrante III y  $\text{tan} \frac{1}{2}\theta$  es positiva. Si  $n$  es impar,  $\theta$  pertenece al cuadrante III o al cuadrante IV y  $\text{sen } \theta$  es negativo, mientras que  $\frac{1}{2}\theta$  pertenece al cuadrante II o al cuadrante IV y  $\text{tan} \frac{1}{2}\theta$  es negativa.

16. Encontrar todos los valores positivos de  $\theta$  menores que  $360^\circ$  tales que  $\text{sen } \theta = -\frac{1}{2}$ .

Existen dos ángulos (véase el capítulo 2), uno en el tercer cuadrante y otro en el cuarto cuadrante. El ángulo relacionado con cada uno de ellos (véase el problema 11) es  $30^\circ$  cuyo seno es  $+\frac{1}{2}$ .

Así, los ángulos buscados son  $\theta = 180^\circ + 30^\circ = 210^\circ$  y  $\theta = 360^\circ - 30^\circ = 330^\circ$ .

Nota. Para obtener todos los valores de  $\theta$  tales que  $\text{sen } \theta = -\frac{1}{2}$ , añádase  $n \cdot 360^\circ$  a cada una de las soluciones conseguidas; esto es,  $\theta = 210^\circ + n \cdot 360^\circ$  y  $\theta = 330^\circ + n \cdot 360^\circ$ , donde  $n$  es un entero cualquiera.



17. Encontrar todos los valores positivos de  $\theta$  menores que  $360^\circ$  tales que  $\cos \theta = 0,9063$ .

Hay dos soluciones,  $\theta = 25^\circ$  en el primer cuadrante y  $\theta = 360^\circ - 25^\circ = 335^\circ$  en el cuarto cuadrante.

18. Encontrar todos los valores positivos de  $\frac{1}{4}\theta$  menores que  $360^\circ$ , tales que  $\sin \theta = 0,6428$ .

Los ángulos positivos menores que  $360^\circ$  tales que  $\sin \theta = 0,6428$  son  $\theta = 40^\circ$  y  $\theta = 180^\circ - 40^\circ = 140^\circ$ . Ahora bien, si  $\frac{1}{4}\theta$  ha de incluir todos los valores menores que  $360^\circ$ ,  $\theta$  comprende todos los valores menores que  $4 \cdot 360^\circ = 1440^\circ$ . Por tanto, son valores de  $\theta$  los dos ángulos encontrados y todos los cotinales con ellos que sean, a su vez, menores que  $1440^\circ$ ; esto es,

$$\theta = 40^\circ, 400^\circ, 760^\circ, 1120^\circ; 140^\circ, 500^\circ, 860^\circ, 1220^\circ \quad \text{y}$$

$$\frac{1}{4}\theta = 10^\circ, 100^\circ, 190^\circ, 280^\circ; 35^\circ, 125^\circ, 215^\circ, 305^\circ.$$

19. Encontrar todos los valores positivos de  $\theta$  menores que  $360^\circ$  tales que  $\sin 2\theta = \cos \frac{1}{2}\theta$ .

Puesto que  $\cos \frac{1}{2}\theta = \sin(90^\circ - \frac{1}{2}\theta) = \sin 2\theta$ ,  $2\theta = 90^\circ - \frac{1}{2}\theta$ ,  $450^\circ - \frac{1}{2}\theta$ ,  $810^\circ - \frac{1}{2}\theta$ ,  $1170^\circ - \frac{1}{2}\theta$ , ...

Entonces  $\frac{1}{2}\theta = 90^\circ, 450^\circ, 810^\circ, 1170^\circ, \dots$  y  $\theta = 36^\circ, 180^\circ, 324^\circ, 468^\circ, \dots$

Puesto que  $\frac{1}{2}\theta = \sin(90^\circ + \frac{1}{2}\theta) = \sin 2\theta$ ,  $2\theta = 90^\circ + \frac{1}{2}\theta$ ,  $450^\circ + \frac{1}{2}\theta$ ,  $810^\circ + \frac{1}{2}\theta$ , ...

Entonces  $\frac{1}{2}\theta = 90^\circ, 450^\circ, 810^\circ, \dots$  y  $\theta = 60^\circ, 300^\circ, 540^\circ, \dots$

Las soluciones buscadas son:  $36^\circ, 180^\circ, 324^\circ; 60^\circ, 300^\circ$ .

## PROBLEMAS PROPUESTOS

20. Expresar como funciones de un ángulo agudo positivo.

a) $\sin 145^\circ$	d) $\cot 155^\circ$	g) $\sin(-200^\circ)$	j) $\cot 610^\circ$
b) $\cos 215^\circ$	e) $\sec 325^\circ$	h) $\cos(-780^\circ)$	k) $\sec 455^\circ$
c) $\tan 440^\circ$	f) $\csc 190^\circ$	i) $\tan(-1385^\circ)$	l) $\csc 825^\circ$

Resp. a) $\sin 35^\circ$ ó $\cos 55^\circ$	g) $\sin 20^\circ$ ó $\cos 70^\circ$
b) $-\cos 35^\circ$ ó $-\sin 55^\circ$	h) $\cos 40^\circ$ ó $\sin 50^\circ$
c) $\tan 80^\circ$ ó $\cot 10^\circ$	i) $\tan 55^\circ$ ó $\cot 35^\circ$
d) $-\cot 25^\circ$ ó $-\tan 65^\circ$	j) $\cot 70^\circ$ ó $\tan 20^\circ$
e) $\sec 35^\circ$ ó $\csc 55^\circ$	k) $-\sec 85^\circ$ ó $-\csc 5^\circ$
f) $-\csc 10^\circ$ ó $-\sec 80^\circ$	l) $\csc 75^\circ$ ó $\sec 15^\circ$

21. Encontrar los valores exactos del seno, del coseno y de la tangente de:

a)  $150^\circ$ , b)  $225^\circ$ , c)  $300^\circ$ , d)  $-120^\circ$ , e)  $-210^\circ$ , f)  $-315^\circ$ .

Resp. a) $1/2$ , $-\sqrt{3}/2$ , $-1/\sqrt{3}$	d) $-\sqrt{3}/2$ , $-1/2$ , $\sqrt{3}$
b) $-\sqrt{2}/2$ , $-\sqrt{2}/2$ , $1$	e) $1/2$ , $-\sqrt{3}/2$ , $-1/\sqrt{3}$
c) $-\sqrt{3}/2$ , $1/2$ , $-\sqrt{3}$	f) $\sqrt{2}/2$ , $\sqrt{2}/2$ , $1$

22. Encontrar en las tablas apropiadas los valores de:

a) $\sin 155^\circ 13' = 0,4192$	f) $\log \sin 129^\circ 44,8' = 9,88586 - 10$
b) $\cos 104^\circ 38' = -0,2526$	g) $\log \sin 110^\circ 32,7' = 9,97146 - 10$
c) $\tan 305^\circ 24' = -1,4071$	h) $\log \sin 162^\circ 35,6' = 9,47589 - 10$
d) $\sin 114^\circ 18' = 0,9114$	i) $\log \sin 138^\circ 30,5' = 9,82119 - 10$
e) $\cos 166^\circ 51' = -0,9738$	j) $\log \sin 174^\circ 22,7' = 8,99104 - 10$

23. Encontrar todos los ángulos,  $0 \leq \theta < 360^\circ$ , tales que:

a) $\sin \theta = \sqrt{2}/2$ , b) $\cos \theta = -1$ , c) $\sin \theta = -0,6180$ , d) $\cos \theta = 0,5125$ , e) $\tan \theta = -1,5301$		
Resp. a) $45^\circ, 135^\circ$	c) $218^\circ 10', 321^\circ 50'$	e) $123^\circ 10', 303^\circ 10'$
b) $180^\circ$	d) $59^\circ 10', 300^\circ 50'$	

24. Demostrar que cuando  $\theta$  es un ángulo del segundo cuadrante, tal que  $\tan \theta = -2/3$ , entonces

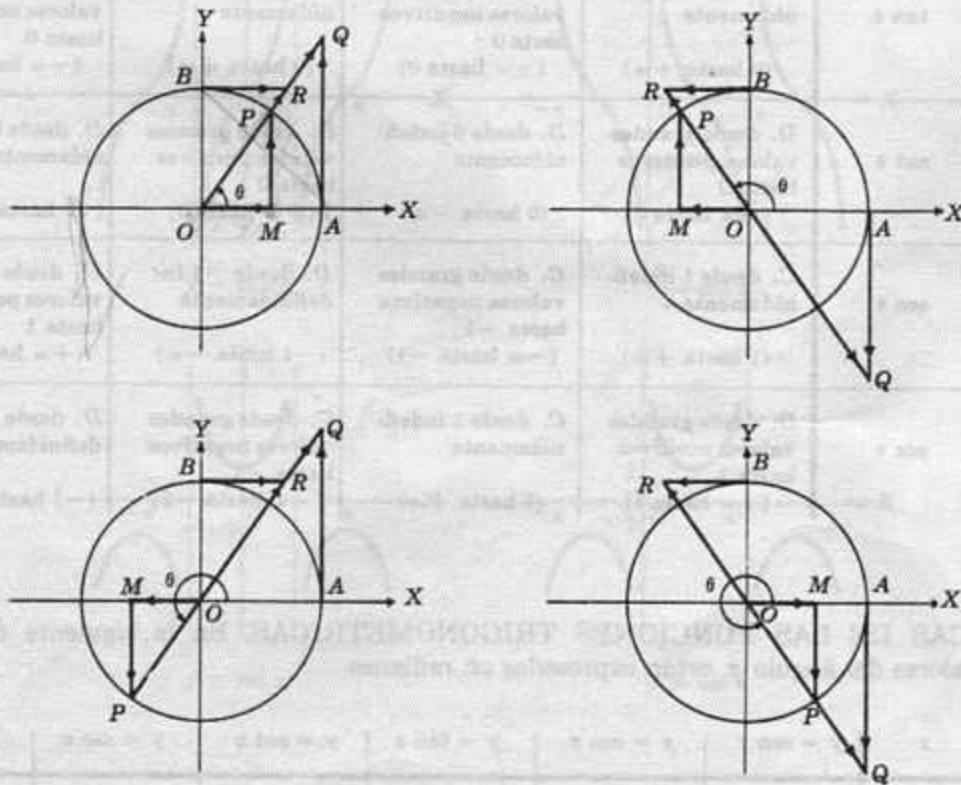
$$a) \frac{\sin(90^\circ - \theta) - \cos(180^\circ - \theta)}{\tan(270^\circ + \theta) + \cot(360^\circ - \theta)} = -\frac{2}{\sqrt{13}}, \quad b) \frac{\tan(90^\circ + \theta) + \cos(180^\circ + \theta)}{\sin(270^\circ - \theta) - \cot(-\theta)} = \frac{2 + \sqrt{13}}{2 - \sqrt{13}}$$

## CAPITULO 9

### Variaciones y gráficas de las funciones trigonométricas

#### REPRESENTACIONES LINEALES DE LAS FUNCIONES TRIGONOMETRICAS.

Sea  $\theta$  un ángulo cualquiera dado, en posición normal. (En las figuras que aparecen a continuación se muestra  $\theta$  en cada uno de los cuadrantes.) Describese una circunferencia con centro en el vértice  $O$ , y cuyo radio se tome como unidad. Esta circunferencia corta el lado inicial  $OX$  de  $\theta$  en  $A$ , el semi-eje positivo de las  $Y$  en  $B$ , y el lado final de  $\theta$  en  $P$ . Trácese  $MP$  perpendicular a  $OX$ ; trácense también las tangentes a la circunferencia en  $A$  y  $B$ . Las tangentes trazadas cortan el lado final de  $\theta$  (o su prolongación en sentido contrario a partir de  $O$ ) en los puntos  $Q$  y  $R$  respectivamente.



En cada una de las figuras, los triángulos rectángulos  $OMP$ ,  $OAQ$  y  $OBR$  son semejantes y, en consecuencia,

$$\begin{array}{ll}
 \operatorname{sen} \theta = MP/OP = MP & \cot \theta = OM/MP = BR/OB = BR \\
 \operatorname{cos} \theta = OM/OP = OM & \operatorname{sec} \theta = OP/OM = OQ/OA = OQ \\
 \operatorname{tan} \theta = MP/OM = AQ/OA = AQ & \operatorname{csc} \theta = OP/MP = OR/OB = OR.
 \end{array}$$

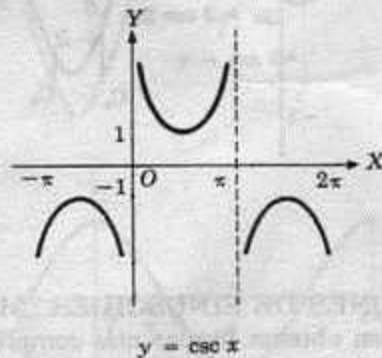
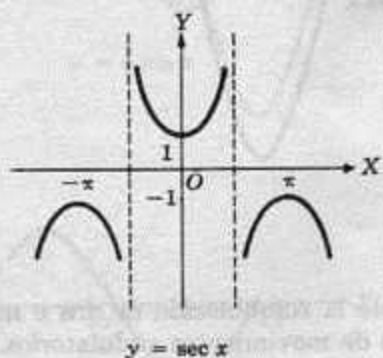
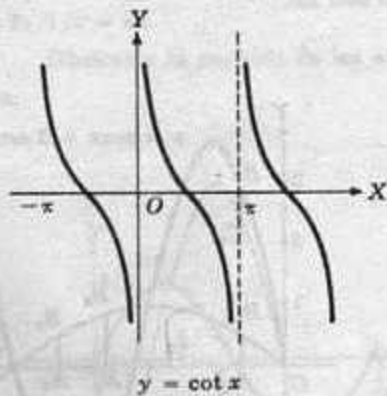
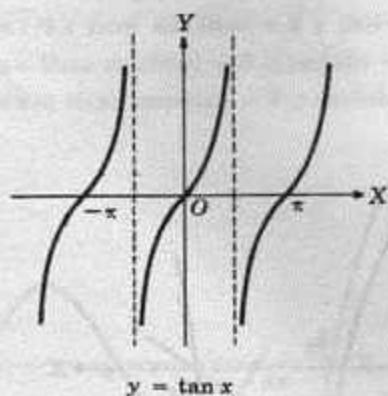
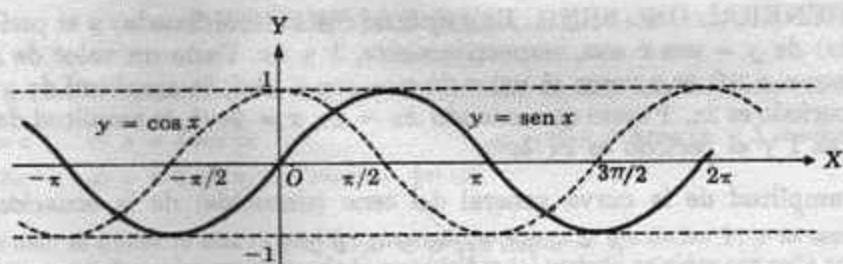
Los segmentos de recta  $MP$ ,  $OM$ ,  $AQ$ , etc., son segmentos dirigidos tales que la magnitud de cada función viene dada por la longitud del segmento respectivo, y el signo de la función corresponde al sentido indicado. Los segmentos dirigidos  $OQ$  y  $OR$  se consideran positivos cuando están determinados sobre el lado final del ángulo, y negativos cuando están determinados sobre la prolongación, en sentido contrario, del lado final.

**VARIACIONES DE LAS FUNCIONES TRIGONOMETRICAS.** Sea  $P$  un punto que se mueve en sentido contrario al movimiento de las agujas de un reloj, a partir de  $A$ , sobre la circunferencia unidad, de tal manera que  $\theta = \angle XOP$  varía continuamente desde  $0^\circ$  hasta  $360^\circ$ . En las figuras anteriores se observa que ( $C.$  = crece,  $D.$  = decrece):

Cuando $\theta$ crece desde	$0^\circ$ hasta $90^\circ$	$90^\circ$ hasta $180^\circ$	$180^\circ$ hasta $270^\circ$	$270^\circ$ hasta $360^\circ$
sen $\theta$	$C.$ desde 0 hasta 1	$D.$ desde 1 hasta 0	$D.$ desde 0 hasta $-1$	$C.$ desde $-1$ hasta 0
cos $\theta$	$D.$ desde 1 hasta 0	$D.$ desde 0 hasta $-1$	$C.$ desde $-1$ hasta 0	$C.$ desde 0 hasta 1
tan $\theta$	$C.$ desde 0 indefinidamente (0 hasta $+\infty$ )	$C.$ desde grandes valores negativos hasta 0 ( $-\infty$ hasta 0)	$C.$ desde 0 indefinidamente (0 hasta $+\infty$ )	$C.$ desde grandes valores negativos hasta 0 ( $-\infty$ hasta 0)
cot $\theta$	$D.$ desde grandes valores positivos hasta 0 ( $+\infty$ hasta 0)	$D.$ desde 0 indefinidamente (0 hasta $-\infty$ )	$D.$ desde grandes valores positivos hasta 0 ( $+\infty$ hasta 0)	$D.$ desde 0 indefinidamente (0 hasta $-\infty$ )
sec $\theta$	$C.$ desde 1 indefinidamente (1 hasta $+\infty$ )	$C.$ desde grandes valores negativos hasta $-1$ ( $-\infty$ hasta $-1$ )	$D.$ desde $-1$ indefinidamente ( $-1$ hasta $-\infty$ )	$D.$ desde grandes valores positivos hasta 1 ( $+\infty$ hasta 1)
csc $\theta$	$D.$ desde grandes valores positivos hasta 1 ( $+\infty$ hasta 1)	$C.$ desde 1 indefinidamente (1 hasta $+\infty$ )	$C.$ desde grandes valores negativos hasta $-1$ ( $-\infty$ hasta $-1$ )	$D.$ desde $-1$ indefinidamente ( $-1$ hasta $-\infty$ )

**GRAFICAS DE LAS FUNCIONES TRIGONOMETRICAS.** En la siguiente tabla los valores del ángulo  $x$  están expresados en radianes.

$x$	$y = \text{sen } x$	$y = \text{cos } x$	$y = \text{tan } x$	$y = \text{cot } x$	$y = \text{sec } x$	$y = \text{csc } x$
0	0	1,00	0	$\pm \infty$	1,00	$\pm \infty$
$\pi/6$	0,50	0,87	0,58	1,73	1,15	2,00
$\pi/4$	0,71	0,71	1,00	1,00	1,41	1,41
$\pi/3$	0,87	0,50	1,73	0,58	2,00	1,15
$\pi/2$	1,00	0	$\pm \infty$	0	$\pm \infty$	1,00
$2\pi/3$	0,87	$-0,50$	$-1,73$	$-0,58$	$-2,00$	1,15
$3\pi/4$	0,71	$-0,71$	$-1,00$	$-1,00$	$-1,41$	1,41
$5\pi/6$	0,50	$-0,87$	$-0,58$	$-1,73$	$-1,15$	2,00
$\pi$	0	$-1,00$	0	$\pm \infty$	$-1,00$	$\pm \infty$
$7\pi/6$	$-0,50$	$-0,87$	0,58	1,73	$-1,15$	$-2,00$
$5\pi/4$	$-0,71$	$-0,71$	1,00	1,00	$-1,41$	$-1,41$
$4\pi/3$	$-0,87$	$-0,50$	1,73	0,58	$-2,00$	$-1,15$
$3\pi/2$	$-1,00$	0	$\pm \infty$	0	$\pm \infty$	$-1,00$
$5\pi/3$	$-0,87$	0,50	$-1,73$	$-0,58$	2,00	$-1,15$
$7\pi/4$	$-0,71$	0,71	$-1,00$	$-1,00$	1,41	$-1,41$
$11\pi/6$	$-0,50$	0,87	$-0,58$	$-1,73$	1,15	$-2,00$
$2\pi$	0	1,00	0	$\pm \infty$	1,00	$\pm \infty$



Nota 1. Puesto que  $\text{sen}(1/2\pi+x) = \text{cos } x$  la gráfica de  $y = \text{cos } x$  se puede obtener más fácilmente con sólo correr la gráfica de  $y = \text{sen } x$  una distancia igual a  $\pi/2$ , hacia la izquierda.

Nota 2. Puesto que  $\text{csc}(1/2\pi+x) = \text{sec } x$ , la gráfica de  $y = \text{csc } x$  se puede obtener más fácilmente con sólo correr la gráfica de  $y = \text{sec } x$  una distancia igual a  $\pi/2$ , hacia la derecha.

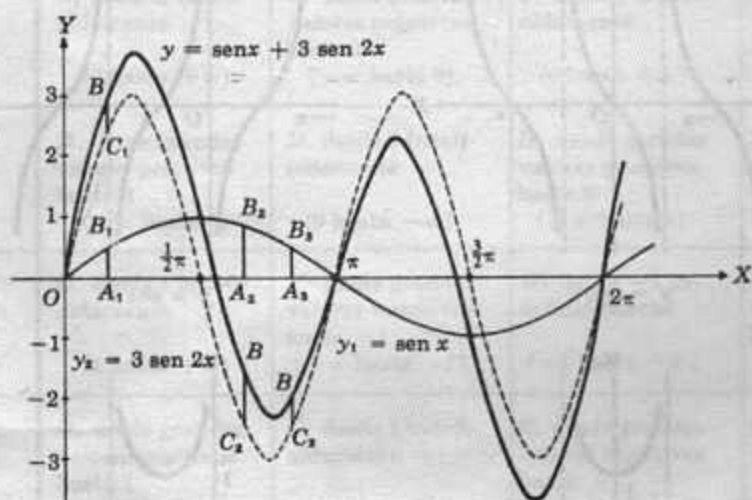
**FUNCIONES PERIODICAS.** Toda función de una variable  $x$ ,  $f(x)$ , que repite sus valores en ciclos definidos recibe el nombre de función *periódica*. El menor conjunto de valores de  $x$  correspondiente a un ciclo completo de valores de la función se denomina período de la función. De la observación de las gráficas de las funciones trigonométricas se hace evidente que el período de las funciones seno, coseno, secante y cosecante es  $2\pi$ , mientras que el de la tangente y el de la cotangente es  $\pi$ .

**LA CURVA GENERAL DEL SENO.** La *amplitud* (máxima ordenada) y el período (longitud de onda) de  $y = \text{sen } x$  son, respectivamente, 1 y  $2\pi$ . Dado un valor de  $x$ , el valor de  $y = a \text{ sen } x$ ,  $a > 0$ , es  $a$  veces el valor de  $y = \text{sen } x$ . Así, la amplitud de  $y = a \text{ sen } x$  es  $a$ , y el período es  $2\pi$ . Puesto que, cuando  $bx = 2\pi$ ,  $x = 2\pi/b$ , la amplitud de  $y = \text{sen } bx$ ,  $b > 0$ , es 1 y el período es  $2\pi/b$ .

La amplitud de la curva general del seno (sinusoide) de la ecuación

$$y = a \text{ sen } bx, \quad a > 0, \quad b > 0,$$

es  $a$ , y el período es  $2\pi/b$ . Así, la amplitud de la gráfica  $y = 3 \text{ sen } 2x$  es 3, y el período es  $2\pi/2 = \pi$ . La figura (a) muestra, sobre los mismos ejes las gráficas de  $y = \text{sen } x$  y  $y = 3 \text{ sen } 2x$ .



(a)

**COMPOSICIONES DE SINUSOIDES.** Mediante la combinación de dos o más sinusoides se pueden obtener formas más complicadas de movimientos ondulatorios. El siguiente ejemplo ilustra el método de sumar las correspondientes ordenadas.

**EJEMPLO.** Construir la gráfica de  $y = \text{sen } x + 3 \text{ sen } 2x$ . Véase la figura (a).

Primero se construyen en los mismos ejes las gráficas de  $y_1 = \text{sen } x$  y  $y_2 = 3 \text{ sen } 2x$ .

Entonces, dado un valor  $x = OA_1$ , la correspondiente ordenada de  $A_1B$  de  $y = \text{sen } x + 3 \text{ sen } 2x$  es la suma *algebraica* de las ordenadas  $A_1B_1$  de  $y_1 = \text{sen } x$  y  $A_1C_1$  de  $y_2 = 3 \text{ sen } 2x$ . También,  $A_2B = A_2B_2 + A_2C_2$ ,  $A_3B = A_3B_3 + A_3C_3$ , etc.

645  
73  
83

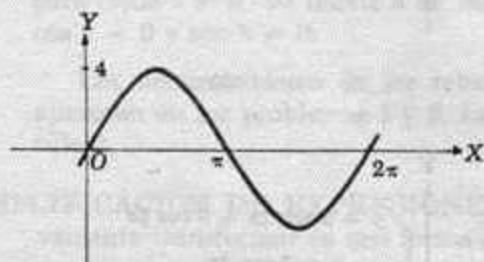
**PROBLEMAS RESUELTOS**

1. Delinear la gráfica correspondiente a una longitud de onda de cada una de las curvas siguientes.

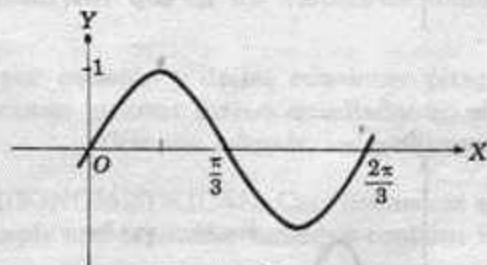
- a)  $y = 4 \text{ sen } x$       c)  $y = 3 \text{ sen } \frac{1}{2}x$       e)  $y = 3 \text{ cos } \frac{1}{2}x = 3 \text{ sen}(\frac{1}{2}x + \frac{1}{2}\pi)$   
 b)  $y = \text{sen } 3x$       d)  $y = 2 \text{ cos } x = 2 \text{ sen}(x + \frac{1}{2}\pi)$

En cada caso se utiliza la misma curva y, después, se coloca el eje de las Y, y se escogen en los ejes las unidades que satisfacen los requisitos de la amplitud y del periodo exigidos por cada una de las curvas.

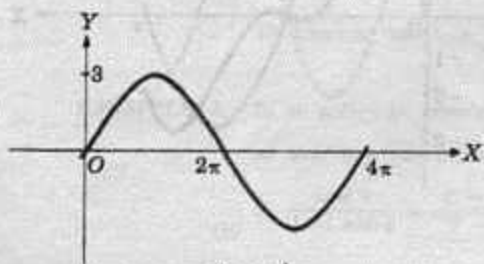
- a)  $y = 4 \text{ sen } x$  tiene amplitud = 4 y periodo =  $2\pi$ .  
 b)  $y = \text{sen } 3x$  tiene amplitud = 1 y periodo =  $2\pi/3$ .  
 c)  $y = 3 \text{ sen } \frac{1}{2}x$  tiene amplitud = 3 y periodo =  $2\pi/1/2 = 4\pi$ .  
 d)  $y = 2 \text{ cos } x$  tiene amplitud = 2 y periodo =  $2\pi$ .      Obsérvese la posición de las abscisas.  
 e)  $y = 3 \text{ cos } x/2$  tiene amplitud = 3 y periodo =  $4\pi$ .



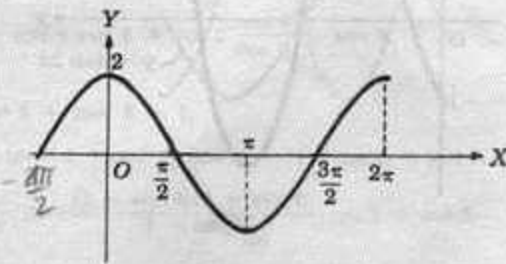
$y = 4 \text{ sen } x$



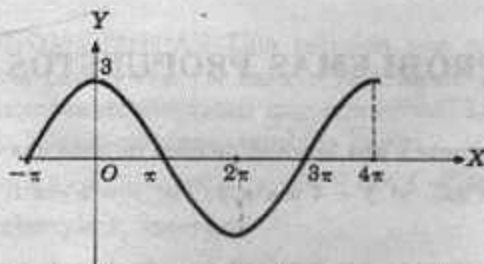
$y = \text{sen } 3x$



$y = 3 \text{ sen } \frac{1}{2}x$



$y = 2 \text{ cos } x$



$y = 3 \text{ cos } \frac{1}{2}x$

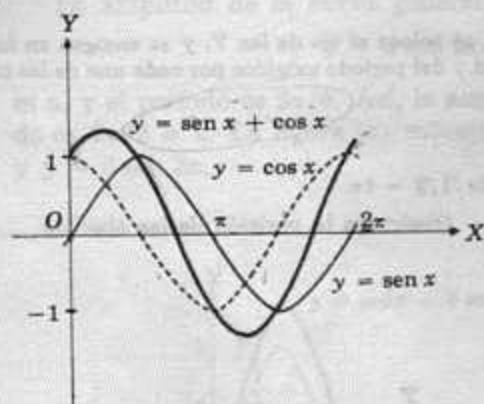
2. Construir la gráfica de cada una de las curvas siguientes.

a)  $y = \text{sen } x + \text{cos } x$

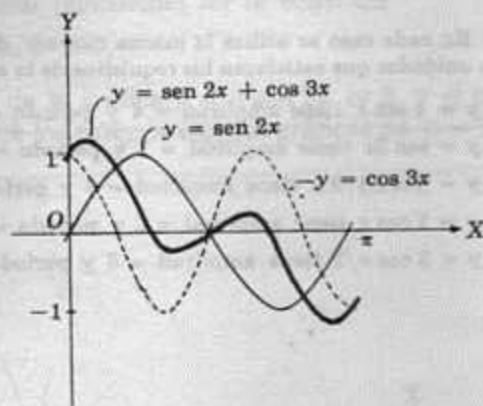
c)  $y = \text{sen } 2x - \text{cos } 3x$

b)  $y = \text{sen } 2x + \text{cos } 3x$

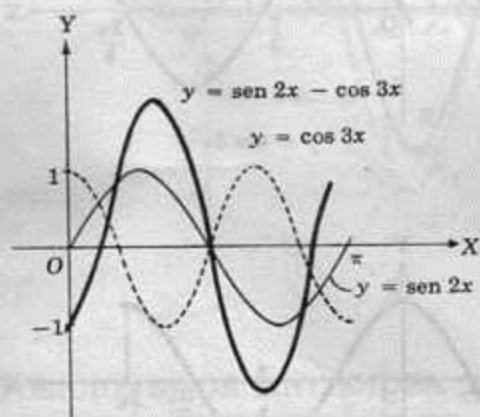
d)  $y = 3 \text{sen } 2x + 2 \text{cos } 3x$



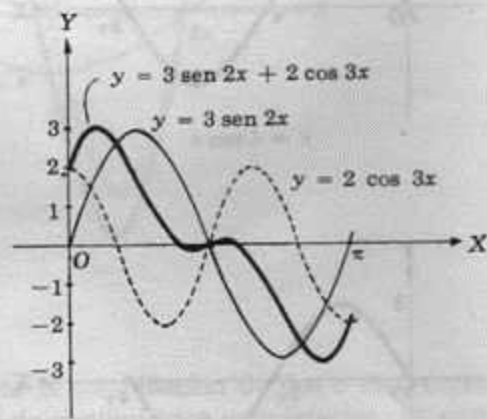
(a)



(b)



(c)



(d)

### PROBLEMAS PROPUESTOS

3. Delinear la gráfica correspondiente a una longitud de onda de cada una de las siguientes curvas:

a)  $y = 3 \text{sen } x$ , b)  $y = \text{sen } 2x$ , c)  $y = 4 \text{sen } x/2$ , d)  $y = 4 \text{cos } x$ , e)  $y = 2 \text{cos } x/3$ .

4. Construir la gráfica correspondiente a una longitud de onda de cada una de las siguientes curvas:

a)  $y = \text{sen } x + 2 \text{cos } x$

d)  $y = \text{sen } 2x + \text{sen } 3x$

b)  $y = \text{sen } 3x + \text{cos } 2x$

e)  $y = \text{sen } 3x - \text{cos } 2x$

c)  $y = \text{sen } x + \text{sen } 2x$

f)  $y = 2 \text{sen } 3x + 3 \text{cos } 2x$

## CAPITULO 10

### Relaciones fundamentales e identidades

#### RELACIONES FUNDAMENTALES.

Relaciones inversas	Relaciones por cociente	Relaciones pitagóricas
$\csc \theta = 1/\sin \theta$	$\tan \theta = \sin \theta / \cos \theta$	$\sin^2 \theta + \cos^2 \theta = 1$
$\sec \theta = 1/\cos \theta$	$\cot \theta = \cos \theta / \sin \theta$	$1 + \tan^2 \theta = \sec^2 \theta$
$\cot \theta = 1/\tan \theta$		$1 + \cot^2 \theta = \csc^2 \theta$

Estas relaciones son válidas para todos los valores de  $\theta$  en los que las funciones contenidas en ellas están definidas.

Así,  $\sin^2 \theta + \cos^2 \theta = 1$  es válida para todo valor de  $\theta$ , mientras que  $\tan \theta = \sin \theta / \cos \theta$  es válida para todos los valores de  $\theta$  en los que  $\theta$  está definida; es decir, para todo  $\theta \neq n \cdot 90$  donde  $n$  es impar. Obsérvese que en los valores excluidos de  $\theta$ ,  $\cos \theta = 0$  y  $\sin \theta \neq 0$ .

Las demostraciones de las relaciones por cociente y de las relaciones pitagóricas aparecen en los problemas 1 y 2. Las relaciones inversas fueron estudiadas en el capítulo 2. (Véanse, además, los problemas 3-6.)

**SIMPLIFICACION DE EXPRESIONES TRIGONOMETRICAS.** Con frecuencia es conveniente transformar en una forma más simple una expresión dada que contiene funciones trigonométricas.

EJEMPLO 1. a) Usando  $\csc \theta = \frac{1}{\sin \theta}$ ,  $\cos \theta \csc \theta = \cos \theta \frac{1}{\sin \theta} = \frac{\cos \theta}{\sin \theta} = \cot \theta$ .

b) Usando  $\tan \theta = \frac{\sin \theta}{\cos \theta}$ ,  $\cos \theta \tan \theta = \cos \theta \frac{\sin \theta}{\cos \theta} = \sin \theta$ .

EJEMPLO 2. Si se aplica la relación  $\sin^2 \theta + \cos^2 \theta = 1$ ,

a)  $\sin^2 \theta + \sin \theta \cos^2 \theta = (\sin^2 \theta + \cos^2 \theta) \sin \theta = (1) \sin \theta = \sin \theta$ .

b)  $\frac{\cos^2 \theta}{1 - \sin \theta} = \frac{1 - \sin^2 \theta}{1 - \sin \theta} = \frac{(1 - \sin \theta)(1 + \sin \theta)}{1 - \sin \theta} = 1 + \sin \theta$ .

Nota. La relación  $\sin^2 \theta + \cos^2 \theta = 1$  puede expresarse como  $\sin^2 \theta = 1 - \cos^2 \theta$  y como  $\cos^2 \theta = 1 - \sin^2 \theta$ . Ambas formas son igualmente útiles.

(Véanse los problemas 7-9.)

**IDENTIDADES TRIGONOMETRICAS.** Una relación que contiene funciones trigonométricas y que es válida para todos los valores del ángulo en los que están definidas las funciones recibe el nombre de identidad trigonométrica. Las ocho relaciones fundamentales son identidades trigonométricas; también lo son

$$\cos \theta \csc \theta = \cot \theta \quad \text{y} \quad \cos \theta \tan \theta = \sin \theta$$

que aparecen en el ejemplo 1, anterior.

Para verificar una identidad trigonométrica se transforma uno de los miembros de la igualdad (cualquiera de los dos) en el otro. En general, se comienza por el miembro más complicado.



Para tener éxito en la verificación de identidades se requiere:

- Completa familiaridad con las relaciones fundamentales.
- Completa familiaridad con los procedimientos de factorización, suma de fracciones, etc.
- Práctica.

(Véanse los problemas 10-18.)

## PROBLEMAS RESUELTOS

1. Demostrar las relaciones:  $\tan \theta = \frac{\text{sen } \theta}{\text{cos } \theta}$ ,  
 $\cot \theta = \frac{\text{cos } \theta}{\text{sen } \theta}$ .

Para todo ángulo  $\theta$ ,  $\text{sen } \theta = y/r$ ,  $\text{cos } \theta = x/r$ ,  $\tan \theta = y/x$ , y  $\cot \theta = x/y$ , donde  $P(x, y)$  es un punto cualquiera del lado final de  $\theta$  situado a una distancia  $r$  del origen.

$$\text{Entonces } \tan \theta = \frac{y}{x} = \frac{y/r}{x/r} = \frac{\text{sen } \theta}{\text{cos } \theta} \text{ y } \cot \theta = \frac{x}{y} = \frac{x/r}{y/r} = \frac{\text{cos } \theta}{\text{sen } \theta}.$$

(También,  $\cot \theta = 1/\tan \theta = \text{cos } \theta/\text{sen } \theta$ .)

2. Demostrar las relaciones pitagóricas:

$$\text{a) } \boxed{\text{sen}^2 \theta + \text{cos}^2 \theta = 1}, \quad \text{b) } \boxed{1 + \tan^2 \theta = \sec^2 \theta}, \quad \text{c) } \boxed{1 + \cot^2 \theta = \csc^2 \theta}.$$

Para  $P(x, y)$ , tal como se definió en el problema 1, se tiene  $A) x^2 + y^2 = r^2$ .

a) Se divide  $A$  por  $r^2$ ,  $(x/r)^2 + (y/r)^2 = 1$  y  $\text{sen}^2 \theta + \text{cos}^2 \theta = 1$ .

b) Se divide  $A$  por  $x^2$ ,  $1 + (y/x)^2 = (r/x)^2$  y  $1 + \tan^2 \theta = \sec^2 \theta$ .

También se divide  $\text{sen}^2 \theta + \text{cos}^2 \theta = 1$  por  $\text{cos}^2 \theta$ ,  $(\frac{\text{sen } \theta}{\text{cos } \theta})^2 + 1 = (\frac{1}{\text{cos } \theta})^2$  ó  $\tan^2 \theta + 1 = \sec^2 \theta$ .

c) Se divide  $A$  por  $y^2$ ,  $(x/y)^2 + 1 = (r/y)^2$  y  $\cot^2 \theta + 1 = \csc^2 \theta$ .

También se divide  $\text{sen}^2 \theta + \text{cos}^2 \theta = 1$  por  $\text{sen}^2 \theta$ ,  $1 + (\frac{\text{cos } \theta}{\text{sen } \theta})^2 = (\frac{1}{\text{sen } \theta})^2$  ó  $1 + \cot^2 \theta = \csc^2 \theta$ .

3. Expresar cada una de las demás funciones de  $\theta$  en términos de  $\text{sen } \theta$ .

$$\text{cos}^2 \theta = 1 - \text{sen}^2 \theta \text{ y } \text{cos } \theta = \pm \sqrt{1 - \text{sen}^2 \theta},$$

$$\tan \theta = \frac{\text{sen } \theta}{\text{cos } \theta} = \frac{\text{sen } \theta}{\pm \sqrt{1 - \text{sen}^2 \theta}}, \quad \cot \theta = \frac{1}{\tan \theta} = \frac{\pm \sqrt{1 - \text{sen}^2 \theta}}{\text{sen } \theta},$$

$$\sec \theta = \frac{1}{\text{cos } \theta} = \frac{1}{\pm \sqrt{1 - \text{sen}^2 \theta}}, \quad \csc \theta = \frac{1}{\text{sen } \theta}.$$

Obsérvese que  $\text{cos } \theta = \pm \sqrt{1 - \text{sen}^2 \theta}$ . Al escribir  $\text{cos } \theta = \sqrt{1 - \text{sen}^2 \theta}$  se restringe el ángulo  $\theta$  a los cuadrantes (primero y cuarto) en los que el coseno es positivo.

4. Expresar cada una de las demás funciones de  $\theta$  en términos de  $\tan \theta$ .

$$\sec^2 \theta = 1 + \tan^2 \theta \text{ y } \sec \theta = \pm \sqrt{1 + \tan^2 \theta}, \quad \text{cos } \theta = \frac{1}{\sec \theta} = \frac{1}{\pm \sqrt{1 + \tan^2 \theta}},$$

$$\frac{\text{sen } \theta}{\text{cos } \theta} = \tan \theta \text{ y } \text{sen } \theta = \tan \theta \text{ cos } \theta = \tan \theta \frac{1}{\pm \sqrt{1 + \tan^2 \theta}} = \frac{\tan \theta}{\pm \sqrt{1 + \tan^2 \theta}},$$

$$\csc \theta = \frac{1}{\text{sen } \theta} = \frac{\pm \sqrt{1 + \tan^2 \theta}}{\tan \theta}, \quad \cot \theta = \frac{1}{\tan \theta}.$$

5. Utilizar las relaciones fundamentales para encontrar los valores de las funciones de  $\theta$ , dado  $\operatorname{sen} \theta = 3/5$ .

A partir de  $\cos^2 \theta = 1 - \operatorname{sen}^2 \theta$ ,  $\cos \theta = \pm \sqrt{1 - \operatorname{sen}^2 \theta} = \pm \sqrt{1 - (3/5)^2} = \pm \sqrt{16/25} = \pm 4/5$ .

Ahora bien,  $\operatorname{sen} \theta$  y  $\cos \theta$ , son ambos positivos cuando  $\theta$  pertenece al primer cuadrante, mientras que  $\operatorname{sen} \theta = +$  y  $\cos \theta = -$ , cuando  $\theta$  pertenece al segundo cuadrante. Entonces,

primer cuadrante		segundo cuadrante	
$\operatorname{sen} \theta = 3/5$	$\cot \theta = 4/3$	$\operatorname{sen} \theta = 3/5$	$\cot \theta = -4/3$
$\cos \theta = 4/5$	$\sec \theta = 5/4$	$\cos \theta = -4/5$	$\sec \theta = -5/4$
$\tan \theta = \frac{3/5}{4/5} = 3/4$	$\csc \theta = 5/3$	$\tan \theta = -3/4$	$\csc \theta = 5/3$

6. Utilizar las relaciones fundamentales para encontrar los valores de las funciones de  $\theta$ , dada  $\tan \theta = -5/12$ .

Como  $\tan \theta = -$ ,  $\theta$  pertenecerá al segundo o al cuarto cuadrante.

segundo cuadrante	cuarto cuadrante
$\tan \theta = -5/12$	$\tan \theta = -5/12$
$\cot \theta = 1/\tan \theta = -12/5$	$\cot \theta = -12/5$
$\sec \theta = -\sqrt{1 + \tan^2 \theta} = -13/12$	$\sec \theta = 13/12$
$\cos \theta = 1/\sec \theta = -12/13$	$\cos \theta = 12/13$
$\csc \theta = \sqrt{1 + \cot^2 \theta} = 13/5$	$\csc \theta = -13/5$
$\operatorname{sen} \theta = 1/\csc \theta = 5/13$	$\operatorname{sen} \theta = -5/13$

7. Efectuar las operaciones indicadas.

- a)  $(\operatorname{sen} \theta - \cos \theta)(\operatorname{sen} \theta + \cos \theta) = \operatorname{sen}^2 \theta - \cos^2 \theta$   
 b)  $(\operatorname{sen} A + \cos A)^2 = \operatorname{sen}^2 A + 2 \operatorname{sen} A \cos A + \cos^2 A$   
 c)  $(\operatorname{sen} x + \cos y)(\operatorname{sen} y - \cos x) = \operatorname{sen} x \operatorname{sen} y - \operatorname{sen} x \cos x + \operatorname{sen} y \cos y - \cos x \cos y$   
 d)  $(\tan^2 A - \cot A)^2 = \tan^4 A - 2 \tan^2 A \cot A + \cot^2 A$   
 e)  $1 + \frac{\cos \theta}{\operatorname{sen} \theta} = \frac{\operatorname{sen} \theta + \cos \theta}{\operatorname{sen} \theta}$   
 f)  $1 - \frac{\operatorname{sen} \theta}{\cos \theta} + \frac{2}{\cos^2 \theta} = \frac{\cos^2 \theta - \operatorname{sen} \theta \cos \theta + 2}{\cos^2 \theta}$

8. Descomponer en factores.

- a)  $\operatorname{sen}^2 \theta - \operatorname{sen} \theta \cos \theta = \operatorname{sen} \theta (\operatorname{sen} \theta - \cos \theta)$   
 b)  $\operatorname{sen}^2 \theta + \operatorname{sen}^2 \theta \cos^2 \theta = \operatorname{sen}^2 \theta (1 + \cos^2 \theta)$   
 c)  $\operatorname{sen}^2 \theta + \operatorname{sen} \theta \sec \theta - 6 \sec^2 \theta = (\operatorname{sen} \theta + 3 \sec \theta)(\operatorname{sen} \theta - 2 \sec \theta)$   
 d)  $\operatorname{sen}^2 \theta \cos^2 \theta - \operatorname{sen}^2 \theta \cos^2 \theta + \operatorname{sen} \theta \cos^2 \theta = \operatorname{sen} \theta \cos^2 \theta (\operatorname{sen}^2 \theta - \operatorname{sen} \theta \cos \theta + 1)$   
 e)  $\operatorname{sen}^4 \theta - \cos^4 \theta = (\operatorname{sen}^2 \theta + \cos^2 \theta)(\operatorname{sen}^2 \theta - \cos^2 \theta) = (\operatorname{sen}^2 \theta + \cos^2 \theta)(\operatorname{sen} \theta - \cos \theta)(\operatorname{sen} \theta + \cos \theta)$

9. Simplificar cada una de las siguientes expresiones.

- a)  $\sec \theta - \sec \theta \operatorname{sen}^2 \theta = \sec \theta (1 - \operatorname{sen}^2 \theta) = \sec \theta \cos^2 \theta = \frac{1}{\cos \theta} \cos^2 \theta = \cos \theta$   
 b)  $\operatorname{sen} \theta \sec \theta \cot \theta = \operatorname{sen} \theta \frac{1}{\cos \theta} \frac{\cos \theta}{\operatorname{sen} \theta} = \frac{\operatorname{sen} \theta \cos \theta}{\cos \theta \operatorname{sen} \theta} = 1$   
 c)  $\operatorname{sen}^2 \theta (1 + \cot^2 \theta) = \operatorname{sen}^2 \theta \csc^2 \theta = \operatorname{sen}^2 \theta \frac{1}{\operatorname{sen}^2 \theta} = 1$

$$d) \operatorname{sen}^2 \theta \sec^2 \theta - \sec^2 \theta = (\operatorname{sen}^2 \theta - 1) \sec^2 \theta = -\cos^2 \theta \sec^2 \theta = -\cos^2 \theta \frac{1}{\cos^2 \theta} = -1$$

$$e) (\operatorname{sen} \theta + \cos \theta)^2 + (\operatorname{sen} \theta - \cos \theta)^2 = \operatorname{sen}^2 \theta + 2 \operatorname{sen} \theta \cos \theta + \cos^2 \theta + \operatorname{sen}^2 \theta - 2 \operatorname{sen} \theta \cos \theta + \cos^2 \theta = 2(\operatorname{sen}^2 \theta + \cos^2 \theta) = 2$$

$$f) \tan^2 \theta \cos^2 \theta + \cot^2 \theta \operatorname{sen}^2 \theta = \frac{\operatorname{sen}^2 \theta}{\cos^2 \theta} \cos^2 \theta + \frac{\cos^2 \theta}{\operatorname{sen}^2 \theta} \operatorname{sen}^2 \theta = \operatorname{sen}^2 \theta + \cos^2 \theta = 1$$

$$g) \tan \theta + \frac{\cos \theta}{1 + \operatorname{sen} \theta} = \frac{\operatorname{sen} \theta}{\cos \theta} + \frac{\cos \theta}{1 + \operatorname{sen} \theta} = \frac{\operatorname{sen} \theta (1 + \operatorname{sen} \theta) + \cos^2 \theta}{\cos \theta (1 + \operatorname{sen} \theta)}$$

$$= \frac{\operatorname{sen} \theta + \operatorname{sen}^2 \theta + \cos^2 \theta}{\cos \theta (1 + \operatorname{sen} \theta)} = \frac{\operatorname{sen} \theta + 1}{\cos \theta (1 + \operatorname{sen} \theta)} = \frac{1}{\cos \theta} = \sec \theta$$

Verificar las siguientes identidades.

$$10. \sec^2 \theta \csc^2 \theta = \sec^2 \theta + \csc^2 \theta$$

$$\sec^2 \theta + \csc^2 \theta = \frac{1}{\cos^2 \theta} + \frac{1}{\operatorname{sen}^2 \theta} = \frac{\operatorname{sen}^2 \theta + \cos^2 \theta}{\operatorname{sen}^2 \theta \cos^2 \theta} = \frac{1}{\operatorname{sen}^2 \theta \cos^2 \theta} = \frac{1}{\operatorname{sen}^2 \theta} \frac{1}{\cos^2 \theta} = \csc^2 \theta \sec^2 \theta$$

$$11. \sec^4 \theta - \sec^2 \theta = \tan^4 \theta + \tan^2 \theta$$

$$\tan^4 \theta + \tan^2 \theta = \tan^2 \theta (\tan^2 \theta + 1) = \tan^2 \theta \sec^2 \theta = (\sec^2 \theta - 1) \sec^2 \theta = \sec^4 \theta - \sec^2 \theta$$

$$\sec^4 \theta - \sec^2 \theta = \sec^2 \theta (\sec^2 \theta - 1) = \sec^2 \theta \tan^2 \theta = (1 + \tan^2 \theta) \tan^2 \theta = \tan^4 \theta + \tan^2 \theta$$

$$12. 2 \csc x = \frac{\operatorname{sen} x}{1 + \cos x} + \frac{1 + \cos x}{\operatorname{sen} x}$$

$$\frac{\operatorname{sen} x}{1 + \cos x} + \frac{1 + \cos x}{\operatorname{sen} x} = \frac{\operatorname{sen}^2 x + (1 + \cos x)^2}{\operatorname{sen} x (1 + \cos x)} = \frac{\operatorname{sen}^2 x + 1 + 2 \cos x + \cos^2 x}{\operatorname{sen} x (1 + \cos x)}$$

$$= \frac{2 + 2 \cos x}{\operatorname{sen} x (1 + \cos x)} = \frac{2(1 + \cos x)}{\operatorname{sen} x (1 + \cos x)} = \frac{2}{\operatorname{sen} x} = 2 \csc x$$

$$13. \frac{1 - \operatorname{sen} x}{\cos x} = \frac{\cos x}{1 + \operatorname{sen} x}$$

$$\frac{\cos x}{1 + \operatorname{sen} x} = \frac{\cos^2 x}{\cos x (1 + \operatorname{sen} x)} = \frac{1 - \operatorname{sen}^2 x}{\cos x (1 + \operatorname{sen} x)} = \frac{(1 - \operatorname{sen} x)(1 + \operatorname{sen} x)}{\cos x (1 + \operatorname{sen} x)} = \frac{1 - \operatorname{sen} x}{\cos x}$$

$$14. \frac{\sec A - \csc A}{\sec A + \csc A} = \frac{\tan A - 1}{\tan A + 1}$$

$$\frac{\sec A - \csc A}{\sec A + \csc A} = \frac{\frac{1}{\cos A} - \frac{1}{\operatorname{sen} A}}{\frac{1}{\cos A} + \frac{1}{\operatorname{sen} A}} = \frac{\frac{\operatorname{sen} A - \cos A}{\cos A \operatorname{sen} A}}{\frac{\operatorname{sen} A + \cos A}{\cos A \operatorname{sen} A}} = \frac{\operatorname{sen} A - \cos A}{\operatorname{sen} A + \cos A} = \frac{\tan A - 1}{\tan A + 1}$$

$$15. \frac{\tan x - \operatorname{sen} x}{\operatorname{sen}^2 x} = \frac{\sec x}{1 + \cos x}$$

$$\frac{\tan x - \operatorname{sen} x}{\operatorname{sen}^2 x} = \frac{\frac{\operatorname{sen} x}{\cos x} - \operatorname{sen} x}{\operatorname{sen}^2 x} = \frac{\operatorname{sen} x - \operatorname{sen} x \cos x}{\cos x \operatorname{sen}^2 x} = \frac{\operatorname{sen} x (1 - \cos x)}{\cos x \operatorname{sen}^2 x}$$

$$= \frac{1 - \cos x}{\cos x \operatorname{sen}^2 x} = \frac{1 - \cos x}{\cos x (1 - \cos^2 x)} = \frac{1}{\cos x (1 + \cos x)} = \frac{\sec x}{1 + \cos x}$$

$$16. \frac{\cos A \cot A - \operatorname{sen} A \tan A}{\csc A - \sec A} = 1 + \operatorname{sen} A \cos A$$

$$\frac{\cos A \cot A - \operatorname{sen} A \tan A}{\csc A - \sec A} = \frac{\cos A \frac{\cos A}{\operatorname{sen} A} - \operatorname{sen} A \frac{\operatorname{sen} A}{\cos A}}{\frac{1}{\operatorname{sen} A} - \frac{1}{\cos A}} = \frac{\cos^2 A - \operatorname{sen}^2 A}{\cos A - \operatorname{sen} A}$$

$$= \frac{(\cos A - \operatorname{sen} A)(\cos^2 A + \cos A \operatorname{sen} A + \operatorname{sen}^2 A)}{\cos A - \operatorname{sen} A} = \cos^2 A + \cos A \operatorname{sen} A + \operatorname{sen}^2 A = 1 + \cos A \operatorname{sen} A$$

$$17. \frac{\operatorname{sen} \theta - \cos \theta + 1}{\operatorname{sen} \theta + \cos \theta - 1} = \frac{\operatorname{sen} \theta + 1}{\cos \theta}$$

$$\frac{\operatorname{sen} \theta + 1}{\cos \theta} = \frac{(\operatorname{sen} \theta + 1)(\operatorname{sen} \theta + \cos \theta - 1)}{\cos \theta (\operatorname{sen} \theta + \cos \theta - 1)} = \frac{\operatorname{sen}^2 \theta + \operatorname{sen} \theta \cos \theta + \cos \theta - 1}{\cos \theta (\operatorname{sen} \theta + \cos \theta - 1)}$$

$$= \frac{-\cos^2 \theta + \operatorname{sen} \theta \cos \theta + \cos \theta}{\cos \theta (\operatorname{sen} \theta + \cos \theta - 1)} = \frac{\cos \theta (\operatorname{sen} \theta - \cos \theta + 1)}{\cos \theta (\operatorname{sen} \theta + \cos \theta - 1)} = \frac{\operatorname{sen} \theta - \cos \theta + 1}{\operatorname{sen} \theta + \cos \theta - 1}$$

$$18. \frac{\tan \theta + \sec \theta - 1}{\tan \theta - \sec \theta + 1} = \tan \theta + \sec \theta$$

$$\frac{\tan \theta + \sec \theta - 1}{\tan \theta - \sec \theta + 1} = \frac{\tan \theta + \sec \theta + \tan^2 \theta - \sec^2 \theta}{\tan \theta - \sec \theta + 1} = \frac{(\tan \theta + \sec \theta)(1 + \tan \theta - \sec \theta)}{\tan \theta - \sec \theta + 1}$$

$$= \tan \theta + \sec \theta$$

$$\tan \theta + \sec \theta = (\tan \theta + \sec \theta) \frac{\tan \theta - \sec \theta + 1}{\tan \theta - \sec \theta + 1} = \frac{\tan^2 \theta - \sec^2 \theta + \tan \theta + \sec \theta}{\tan \theta - \sec \theta + 1}$$

$$= \frac{-1 + \tan \theta + \sec \theta}{\tan \theta - \sec \theta + 1}$$

Nota. Cuando se expresan en términos de  $\operatorname{sen} \theta$  y  $\cos \theta$ , estas identidades se convierten en las identidades del problema 17.

## PROBLEMAS PROPUESTOS

19. Encontrar los valores de las funciones trigonométricas de  $\theta$ , dado  $\operatorname{sen} \theta = 2/3$ .

*Resp.* Cuadrante I:  $2/3, \sqrt{5}/3, 2/\sqrt{5}, \sqrt{5}/2, 3/\sqrt{5}, 3/2$   
Cuadrante II:  $2/3, -\sqrt{5}/3, -2/\sqrt{5}, -\sqrt{5}/2, -3/\sqrt{5}, 3/2$

20. Encontrar los valores de las funciones trigonométricas de  $\theta$ , dado  $\operatorname{cos} \theta = -5/6$ .

*Resp.* Cuadrante II:  $\sqrt{11}/6, -5/6, -\sqrt{11}/5, -5/\sqrt{11}, -6/5, 6/\sqrt{11}$   
Cuadrante III:  $-\sqrt{11}/6, -5/6, \sqrt{11}/5, 5/\sqrt{11}, -6/5, -6/\sqrt{11}$

21. Encontrar los valores de las funciones trigonométricas de  $\theta$ , dada  $\operatorname{tan} \theta = 5/4$ .

*Resp.* Cuadrante I:  $5/\sqrt{41}, 4/\sqrt{41}, 5/4, 4/5, \sqrt{41}/4, \sqrt{41}/5$   
Cuadrante III:  $-5/\sqrt{41}, -4/\sqrt{41}, 5/4, 4/5, -\sqrt{41}/4, -\sqrt{41}/5$

22. Encontrar los valores de las funciones trigonométricas de  $\theta$ , dada  $\operatorname{cot} \theta = -\sqrt{3}$ .

*Resp.* Cuadrante II:  $1/2, -\sqrt{3}/2, -1/\sqrt{3}, -\sqrt{3}, -2/\sqrt{3}, 2$   
Cuadrante IV:  $-1/2, \sqrt{3}/2, -1/\sqrt{3}, -\sqrt{3}, 2/\sqrt{3}, -2$

23. Encontrar el valor de  $\frac{\operatorname{sen} \theta + \operatorname{cos} \theta - \operatorname{tan} \theta}{\operatorname{sec} \theta + \operatorname{csc} \theta - \operatorname{cot} \theta}$  cuando  $\operatorname{tan} \theta = -4/3$ .

*Resp.* Cuadrante II:  $23/5$ ; cuadrante IV:  $34/35$

Verificar las siguientes identidades.

$$24. \operatorname{sen} \theta \operatorname{sec} \theta = \operatorname{tan} \theta$$

$$25. (1 - \operatorname{sen}^2 A)(1 + \operatorname{tan}^2 A) = 1$$

$$26. (1 - \operatorname{cos} \theta)(1 + \operatorname{sec} \theta) \operatorname{cot} \theta = \operatorname{sen} \theta$$

$$27. \operatorname{csc}^2 x (1 - \operatorname{cos}^2 x) = 1$$

$$28. \frac{\operatorname{sen} \theta}{\operatorname{csc} \theta} + \frac{\operatorname{cos} \theta}{\operatorname{sec} \theta} = 1$$

$$29. \frac{1 - 2 \operatorname{cos}^2 A}{\operatorname{sen} A \operatorname{cos} A} = \operatorname{tan} A - \operatorname{cot} A$$

$$30. \operatorname{tan}^2 x \operatorname{csc}^2 x \operatorname{cot}^2 x \operatorname{sen}^2 x = 1$$

$$31. \operatorname{sen} A \operatorname{cos} A (\operatorname{tan} A + \operatorname{cot} A) = 1$$

$$32. 1 - \frac{\operatorname{cos}^2 \theta}{1 + \operatorname{sen} \theta} = \operatorname{sen} \theta$$

$$33. \frac{1}{\operatorname{sec} \theta + \operatorname{tan} \theta} = \operatorname{sec} \theta - \operatorname{tan} \theta$$

$$34. \frac{1}{1 - \operatorname{sen} A} + \frac{1}{1 + \operatorname{sen} A} = 2 \operatorname{sec}^2 A$$

$$35. \frac{1 - \operatorname{cos} x}{1 + \operatorname{cos} x} = \frac{\operatorname{sec} x - 1}{\operatorname{sec} x + 1} = (\operatorname{cot} x - \operatorname{csc} x)^2$$

$$36. \operatorname{tan} \theta \operatorname{sen} \theta + \operatorname{cos} \theta = \operatorname{sec} \theta$$

$$37. \operatorname{tan} \theta - \operatorname{csc} \theta \operatorname{sec} \theta (1 - 2 \operatorname{cos}^2 \theta) = \operatorname{cot} \theta$$

$$38. \frac{\operatorname{sen} \theta}{\operatorname{sen} \theta + \operatorname{cos} \theta} = \frac{\operatorname{sec} \theta}{\operatorname{sec} \theta + \operatorname{csc} \theta}$$

$$39. \frac{\operatorname{sen} x + \operatorname{tan} x}{\operatorname{cot} x + \operatorname{csc} x} = \operatorname{sen} x \operatorname{tan} x$$

$$40. \frac{\operatorname{sec} x + \operatorname{csc} x}{\operatorname{tan} x + \operatorname{cot} x} = \operatorname{sen} x + \operatorname{cos} x$$

$$41. \frac{\operatorname{sen}^3 \theta + \operatorname{cos}^3 \theta}{\operatorname{sen} \theta + \operatorname{cos} \theta} = 1 - \operatorname{sen} \theta \operatorname{cos} \theta$$

$$42. \operatorname{cot} \theta + \frac{\operatorname{sen} \theta}{1 + \operatorname{cos} \theta} = \operatorname{csc} \theta$$

$$43. \frac{\operatorname{sen} \theta \operatorname{cos} \theta}{\operatorname{cos}^2 \theta - \operatorname{sen}^2 \theta} = \frac{\operatorname{tan} \theta}{1 - \operatorname{tan}^2 \theta}$$

$$44. (\operatorname{tan} x + \operatorname{tan} y)(1 - \operatorname{cot} x \operatorname{cot} y) + (\operatorname{cot} x + \operatorname{cot} y)(1 - \operatorname{tan} x \operatorname{tan} y) = 0$$

$$45. (x \operatorname{sen} \theta - y \operatorname{cos} \theta)^2 + (x \operatorname{cos} \theta + y \operatorname{sen} \theta)^2 = x^2 + y^2$$

$$46. (2r \operatorname{sen} \theta \operatorname{cos} \theta)^2 + r^2(\operatorname{cos}^2 \theta - \operatorname{sen}^2 \theta)^2 = r^2$$

$$47. (r \operatorname{sen} \theta \operatorname{cos} \phi)^2 + (r \operatorname{sen} \theta \operatorname{sen} \phi)^2 + (r \operatorname{cos} \theta)^2 = r^2$$

## CAPITULO 11

### Funciones trigonométricas de dos ángulos

#### FORMULAS PARA LA SUMA.

$$\operatorname{sen}(\alpha + \beta) = \operatorname{sen} \alpha \cos \beta + \cos \alpha \operatorname{sen} \beta$$

$$\operatorname{cos}(\alpha + \beta) = \operatorname{cos} \alpha \cos \beta - \operatorname{sen} \alpha \operatorname{sen} \beta$$

$$\operatorname{tan}(\alpha + \beta) = \frac{\operatorname{tan} \alpha + \operatorname{tan} \beta}{1 - \operatorname{tan} \alpha \operatorname{tan} \beta}$$

Las demostraciones de estas fórmulas se encuentran en los problemas 1-3.

#### FORMULAS PARA LA DIFERENCIA.

$$\operatorname{sen}(\alpha - \beta) = \operatorname{sen} \alpha \cos \beta - \cos \alpha \operatorname{sen} \beta$$

$$\operatorname{cos}(\alpha - \beta) = \operatorname{cos} \alpha \cos \beta + \operatorname{sen} \alpha \operatorname{sen} \beta$$

$$\operatorname{tan}(\alpha - \beta) = \frac{\operatorname{tan} \alpha - \operatorname{tan} \beta}{1 + \operatorname{tan} \alpha \operatorname{tan} \beta}$$

Las demostraciones se encuentran en el problema 4.

#### FORMULAS PARA EL ANGULO DUPLO.

$$\operatorname{sen} 2x = 2 \operatorname{sen} x \cos x$$

$$\operatorname{cos} 2x = \operatorname{cos}^2 x - \operatorname{sen}^2 x = 1 - 2 \operatorname{sen}^2 x = 2 \operatorname{cos}^2 x - 1$$

$$\operatorname{tan} 2x = \frac{2 \operatorname{tan} x}{1 - \operatorname{tan}^2 x}$$

Las demostraciones se encuentran en el problema 10.

#### FORMULAS PARA EL ANGULO MITAD.

$$\operatorname{sen} \frac{1}{2}\theta = \pm \sqrt{\frac{1 - \operatorname{cos} \theta}{2}}$$

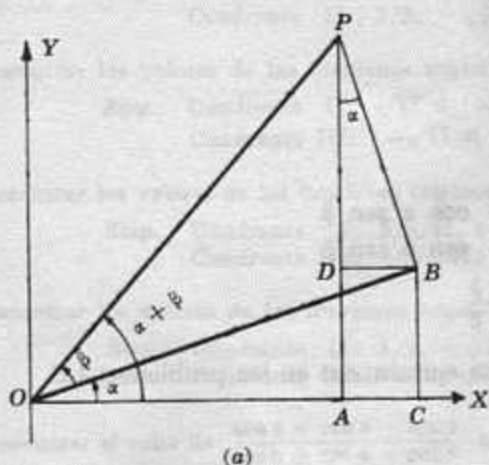
$$\operatorname{cos} \frac{1}{2}\theta = \pm \sqrt{\frac{1 + \operatorname{cos} \theta}{2}}$$

$$\operatorname{tan} \frac{1}{2}\theta = \pm \sqrt{\frac{1 - \operatorname{cos} \theta}{1 + \operatorname{cos} \theta}} = \frac{\operatorname{sen} \theta}{1 + \operatorname{cos} \theta} = \frac{1 - \operatorname{cos} \theta}{\operatorname{sen} \theta}$$

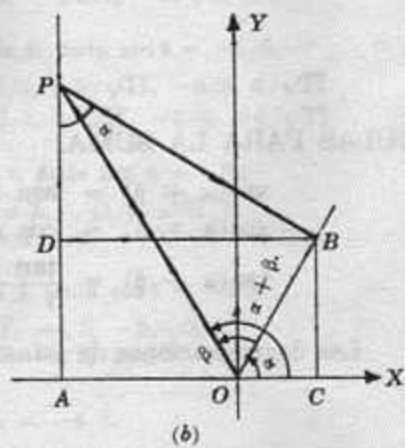
Las demostraciones se encuentran en el problema 11.

## PROBLEMAS RESUELTOS

1. Demostrar que 1)  $\text{sen}(\alpha + \beta) = \text{sen} \alpha \cos \beta + \cos \alpha \text{sen} \beta$   
 y 2)  $\text{cos}(\alpha + \beta) = \text{cos} \alpha \cos \beta - \text{sen} \alpha \text{sen} \beta$  cuando  $\alpha$  y  $\beta$  son ángulos agudos positivos.



(a)



(b)

Sean  $\alpha$  y  $\beta$  dos ángulos positivos agudos tales que  $\alpha + \beta < 90^\circ$  (Fig. a) y  $\alpha + \beta > 90^\circ$  (Fig. b).

Para construir estas figuras colóquese el ángulo  $\alpha$  en posición normal y, después, colóquese el ángulo  $\beta$  de tal manera que su vértice caiga en  $O$  y que su lado inicial coincida con el lado final del ángulo  $\alpha$ . Sea  $P$  un punto cualquiera del lado final del ángulo  $(\alpha + \beta)$ . Trácese los segmentos  $PA$ ,  $PB$ ,  $BC$  y  $BD$  de tal manera que  $PA$  sea perpendicular a  $OX$  y  $BD$  perpendicular a  $AP$ .

Entonces,  $\angle APB = \alpha$  porque sus lados correspondientes ( $OA$  y  $AP$ ,  $OB$  y  $BP$ ) son perpendiculares. De donde,

$$\begin{aligned} \text{sen}(\alpha + \beta) &= \frac{AP}{OP} = \frac{AD + DP}{OP} = \frac{CB + DP}{OP} = \frac{CB}{OP} + \frac{DP}{OP} = \frac{CB}{OB} \cdot \frac{OB}{OP} + \frac{DP}{BP} \cdot \frac{BP}{OP} \\ &= \text{sen} \alpha \cos \beta + \cos \alpha \text{sen} \beta \end{aligned}$$

$$\begin{aligned} \text{y } \text{cos}(\alpha + \beta) &= \frac{OA}{OP} = \frac{OC - AC}{OP} = \frac{OC - DB}{OP} = \frac{OC}{OP} - \frac{DB}{OP} = \frac{OC}{OB} \cdot \frac{OB}{OP} - \frac{DB}{BP} \cdot \frac{BP}{OP} \\ &= \text{cos} \alpha \cos \beta - \text{sen} \alpha \text{sen} \beta. \end{aligned}$$

2. Demostrar que las fórmulas 1) y 2) del problema 1 son válidas cuando  $\alpha$  y  $\beta$  son ángulos cualesquiera.

Primero se comprueban las fórmulas para el caso  $\alpha = 0^\circ$ ,  $\beta = 0^\circ$ . Puesto que

$$\begin{aligned} \text{sen}(0^\circ + 0^\circ) &= \text{sen} 0^\circ \cos 0^\circ + \cos 0^\circ \text{sen} 0^\circ = 0 \cdot 1 + 1 \cdot 0 = 0 = \text{sen} 0^\circ \\ \text{y } \text{cos}(0^\circ + 0^\circ) &= \text{cos} 0^\circ \cos 0^\circ - \text{sen} 0^\circ \text{sen} 0^\circ = 1 \cdot 1 - 0 \cdot 0 = 1 = \text{cos} 0^\circ, \end{aligned}$$

las fórmulas son válidas en este caso.

Ahora se demostrará que, si 1) y 2) son válidas para dos ángulos cualesquiera  $\alpha$  y  $\beta$ , son válidas también cuando, por ejemplo,  $\alpha$  se aumenta en  $90^\circ$ . Sean  $\alpha$  y  $\beta$  dos ángulos cualesquiera para los cuales son válidas las fórmulas 1) y 2), y considérense las fórmulas

$$\begin{aligned} \text{a) } \text{sen}(\alpha + \beta + 90^\circ) &= \text{sen}(\alpha + 90^\circ) \cos \beta + \cos(\alpha + 90^\circ) \text{sen} \beta \\ \text{y } \text{b) } \text{cos}(\alpha + \beta + 90^\circ) &= \text{cos}(\alpha + 90^\circ) \cos \beta - \text{sen}(\alpha + 90^\circ) \text{sen} \beta. \end{aligned}$$

Conforme a las fórmulas de reducción estudiadas en el capítulo 8,

$$\text{sen}(\theta + 90^\circ) = \text{cos} \theta, \text{cos}(\theta + 90^\circ) = -\text{sen} \theta, \text{ se sigue que}$$

$$\text{sen}(\alpha + \beta + 90^\circ) = \text{cos}(\alpha + \beta), \text{cos}(\alpha + \beta + 90^\circ) = -\text{sen}(\alpha + \beta). \text{ Entonces, (a y b) se reducen a}$$

$$\text{a')} \text{cos}(\alpha + \beta) = \text{cos} \alpha \cos \beta + (-\text{sen} \alpha) \text{sen} \beta = \text{cos} \alpha \cos \beta - \text{sen} \alpha \text{sen} \beta$$

y b')  $-\text{sen}(\alpha + \beta) = -\text{sen } \alpha \cos \beta - \cos \alpha \text{sen } \beta$  ó

$$\text{sen}(\alpha + \beta) = \text{sen } \alpha \cos \beta + \cos \alpha \text{sen } \beta$$

que, conforme a lo que se ha supuesto, son relaciones válidas. Así, a) y b) son relaciones válidas.

Estos mismos argumentos pueden emplearse para demostrar que, si 1) y 2) son válidas para dos ángulos  $\alpha$  y  $\beta$ , son válidas también cuando  $\beta$  se aumenta en  $90^\circ$ . Con esto, las fórmulas son válidas cuando tanto  $\alpha$  como  $\beta$  se aumentan en  $90^\circ$ . Por otra parte, cualquier ángulo positivo puede expresarse como un múltiplo de  $90^\circ$  más  $\theta$ , donde  $\theta$  es  $0^\circ$  o es un ángulo agudo. De este modo, mediante un número finito de repeticiones de los mismos argumentos, se prueba que las fórmulas son válidas para dos ángulos positivos cualesquiera dados.

Se deja al lector la demostración correspondiente al caso en que, en vez de aumentar el ángulo, éste disminuye en  $90^\circ$ , con lo que podrá probar que, cuando un ángulo es positivo y el otro negativo o cuando ambos son negativos, continúan siendo válidas las fórmulas 1) y 2).

3. Demostrar:  $\tan(\alpha + \beta) = \frac{\tan \alpha + \tan \beta}{1 - \tan \alpha \tan \beta}$ .

$$\tan(\alpha + \beta) = \frac{\text{sen}(\alpha + \beta)}{\cos(\alpha + \beta)} = \frac{\text{sen } \alpha \cos \beta + \cos \alpha \text{sen } \beta}{\cos \alpha \cos \beta - \text{sen } \alpha \text{sen } \beta}$$

$$\begin{aligned} &= \frac{\frac{\text{sen } \alpha \cos \beta}{\cos \alpha \cos \beta} + \frac{\cos \alpha \text{sen } \beta}{\cos \alpha \cos \beta}}{\frac{\cos \alpha \cos \beta}{\cos \alpha \cos \beta} - \frac{\text{sen } \alpha \text{sen } \beta}{\cos \alpha \cos \beta}} = \frac{\tan \alpha + \tan \beta}{1 - \tan \alpha \tan \beta} \end{aligned}$$

4. Demostrar las fórmulas para la diferencia.

$$\begin{aligned} \text{sen}(\alpha - \beta) &= \text{sen}[\alpha + (-\beta)] = \text{sen } \alpha \cos(-\beta) + \cos \alpha \text{sen}(-\beta) \\ &= \text{sen } \alpha (\cos \beta) + \cos \alpha (-\text{sen } \beta) = \text{sen } \alpha \cos \beta - \cos \alpha \text{sen } \beta \end{aligned}$$

$$\begin{aligned} \cos(\alpha - \beta) &= \cos[\alpha + (-\beta)] = \cos \alpha \cos(-\beta) - \text{sen } \alpha \text{sen}(-\beta) \\ &= \cos \alpha (\cos \beta) - \text{sen } \alpha (-\text{sen } \beta) = \cos \alpha \cos \beta + \text{sen } \alpha \text{sen } \beta \end{aligned}$$

$$\begin{aligned} \tan(\alpha - \beta) &= \tan[\alpha + (-\beta)] = \frac{\tan \alpha + \tan(-\beta)}{1 - \tan \alpha \tan(-\beta)} \\ &= \frac{\tan \alpha + (-\tan \beta)}{1 - \tan \alpha (-\tan \beta)} = \frac{\tan \alpha - \tan \beta}{1 + \tan \alpha \tan \beta} \end{aligned}$$

5. Encontrar los valores del seno, del coseno y de la tangente de  $15^\circ$ , mediante a)  $15^\circ = 45^\circ - 30^\circ$  y b)  $15^\circ = 60^\circ - 45^\circ$ .

a)  $\text{sen } 15^\circ = \text{sen}(45^\circ - 30^\circ) = \text{sen } 45^\circ \cos 30^\circ - \cos 45^\circ \text{sen } 30^\circ$   
 $= \frac{1}{\sqrt{2}} \cdot \frac{\sqrt{3}}{2} - \frac{1}{\sqrt{2}} \cdot \frac{1}{2} = \frac{\sqrt{3}-1}{2\sqrt{2}} = \frac{\sqrt{2}}{4}(\sqrt{3}-1)$

$\cos 15^\circ = \cos(45^\circ - 30^\circ) = \cos 45^\circ \cos 30^\circ + \text{sen } 45^\circ \text{sen } 30^\circ$   
 $= \frac{1}{\sqrt{2}} \cdot \frac{\sqrt{3}}{2} + \frac{1}{\sqrt{2}} \cdot \frac{1}{2} = \frac{\sqrt{3}+1}{2\sqrt{2}} = \frac{\sqrt{2}}{4}(\sqrt{3}+1)$

$\tan 15^\circ = \tan(45^\circ - 30^\circ) = \frac{\tan 45^\circ - \tan 30^\circ}{1 + \tan 45^\circ \tan 30^\circ} = \frac{1 - 1/\sqrt{3}}{1 + 1(1/\sqrt{3})} = \frac{\sqrt{3}-1}{\sqrt{3}+1} = 2 - \sqrt{3}$

b)  $\text{sen } 15^\circ = \text{sen}(60^\circ - 45^\circ) = \text{sen } 60^\circ \cos 45^\circ - \cos 60^\circ \text{sen } 45^\circ = \frac{\sqrt{3}}{2} \cdot \frac{1}{\sqrt{2}} - \frac{1}{2} \cdot \frac{1}{\sqrt{2}} = \frac{\sqrt{2}}{4}(\sqrt{3}-1)$

$\cos 15^\circ = \cos(60^\circ - 45^\circ) = \cos 60^\circ \cos 45^\circ + \text{sen } 60^\circ \text{sen } 45^\circ = \frac{1}{2} \cdot \frac{1}{\sqrt{2}} + \frac{\sqrt{3}}{2} \cdot \frac{1}{\sqrt{2}} = \frac{\sqrt{2}}{4}(\sqrt{3}+1)$

$\tan 15^\circ = \tan(60^\circ - 45^\circ) = \frac{\tan 60^\circ - \tan 45^\circ}{1 + \tan 60^\circ \tan 45^\circ} = \frac{\sqrt{3}-1}{\sqrt{3}+1} = 2 - \sqrt{3}$



6. Demostrar: a)  $\text{sen}(45^\circ + \theta) - \text{sen}(45^\circ - \theta) = \sqrt{2} \text{sen } \theta$ , b)  $\text{sen}(30^\circ + \theta) + \cos(60^\circ + \theta) = \cos \theta$ .

$$\begin{aligned} \text{a) } \text{sen}(45^\circ + \theta) - \text{sen}(45^\circ - \theta) &= (\text{sen } 45^\circ \cos \theta + \cos 45^\circ \text{sen } \theta) - (\text{sen } 45^\circ \cos \theta - \cos 45^\circ \text{sen } \theta) \\ &= 2 \cos 45^\circ \text{sen } \theta = 2 \frac{1}{\sqrt{2}} \text{sen } \theta = \sqrt{2} \text{sen } \theta \end{aligned}$$

$$\begin{aligned} \text{b) } \text{sen}(30^\circ + \theta) + \cos(60^\circ + \theta) &= (\text{sen } 30^\circ \cos \theta + \cos 30^\circ \text{sen } \theta) + (\cos 60^\circ \cos \theta - \text{sen } 60^\circ \text{sen } \theta) \\ &= \left(\frac{1}{2} \cos \theta + \frac{\sqrt{3}}{2} \text{sen } \theta\right) + \left(\frac{1}{2} \cos \theta - \frac{\sqrt{3}}{2} \text{sen } \theta\right) = \cos \theta \end{aligned}$$

7. Simplificar: a)  $\text{sen}(\alpha + \beta) + \text{sen}(\alpha - \beta)$ , b)  $\cos(\alpha + \beta) - \cos(\alpha - \beta)$ , c)  $\frac{\tan(\alpha + \beta) - \tan \alpha}{1 + \tan(\alpha + \beta) \tan \alpha}$ ,  
d)  $(\text{sen } \alpha \cos \beta - \cos \alpha \text{sen } \beta)^2 + (\cos \alpha \cos \beta + \text{sen } \alpha \text{sen } \beta)^2$ .

$$\begin{aligned} \text{a) } \text{sen}(\alpha + \beta) + \text{sen}(\alpha - \beta) &= (\text{sen } \alpha \cos \beta + \cos \alpha \text{sen } \beta) + (\text{sen } \alpha \cos \beta - \cos \alpha \text{sen } \beta) \\ &= 2 \text{sen } \alpha \cos \beta \end{aligned}$$

$$\begin{aligned} \text{b) } \cos(\alpha + \beta) - \cos(\alpha - \beta) &= (\cos \alpha \cos \beta - \text{sen } \alpha \text{sen } \beta) - (\cos \alpha \cos \beta + \text{sen } \alpha \text{sen } \beta) \\ &= -2 \text{sen } \alpha \text{sen } \beta \end{aligned}$$

$$\text{c) } \frac{\tan(\alpha + \beta) - \tan \alpha}{1 + \tan(\alpha + \beta) \tan \alpha} = \tan[(\alpha + \beta) - \alpha] = \tan \beta$$

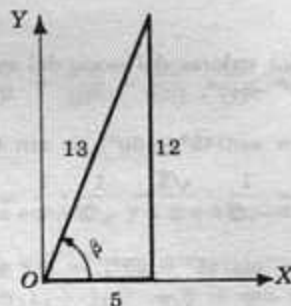
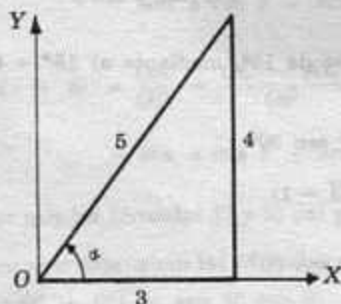
$$\text{d) } (\text{sen } \alpha \cos \beta - \cos \alpha \text{sen } \beta)^2 + (\cos \alpha \cos \beta + \text{sen } \alpha \text{sen } \beta)^2 = \text{sen}^2(\alpha - \beta) + \cos^2(\alpha - \beta) = 1$$

8. Encontrar  $\text{sen}(\alpha + \beta)$ ,  $\cos(\alpha + \beta)$ ,  $\text{sen}(\alpha - \beta)$ ,  $\cos(\alpha - \beta)$  y determinar los cuadrantes a que pertenecen  $(\alpha + \beta)$  y  $(\alpha - \beta)$ , dados

a)  $\text{sen } \alpha = 4/5$ ,  $\cos \beta = 5/13$ ;  $\alpha$  y  $\beta$  en el cuadrante I.

b)  $\text{sen } \alpha = 2/3$ ,  $\cos \beta = 3/4$ ;  $\alpha$  en el cuadrante II,  $\beta$  en el cuadrante IV.

a)  $\cos \alpha = 3/5$  y  $\text{sen } \beta = 12/13$ .



$$\text{sen}(\alpha + \beta) = \text{sen } \alpha \cos \beta + \cos \alpha \text{sen } \beta = \frac{4}{5} \cdot \frac{5}{13} + \frac{3}{5} \cdot \frac{12}{13} = \frac{56}{65}$$

$(\alpha + \beta)$  en el cuadrante II

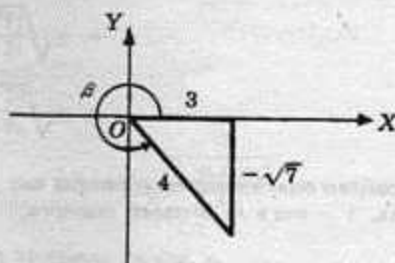
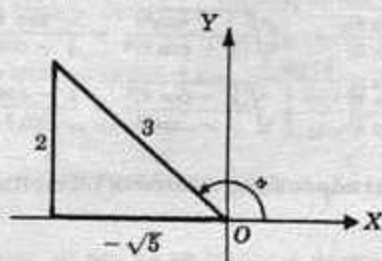
$$\cos(\alpha + \beta) = \cos \alpha \cos \beta - \text{sen } \alpha \text{sen } \beta = \frac{3}{5} \cdot \frac{5}{13} - \frac{4}{5} \cdot \frac{12}{13} = -\frac{33}{65}$$

$$\text{sen}(\alpha - \beta) = \text{sen } \alpha \cos \beta - \cos \alpha \text{sen } \beta = \frac{4}{5} \cdot \frac{5}{13} - \frac{3}{5} \cdot \frac{12}{13} = -\frac{16}{65}$$

$(\alpha - \beta)$  en el cuadrante IV

$$\cos(\alpha - \beta) = \cos \alpha \cos \beta + \text{sen } \alpha \text{sen } \beta = \frac{3}{5} \cdot \frac{5}{13} + \frac{4}{5} \cdot \frac{12}{13} = \frac{63}{65}$$

b)  $\cos \alpha = -\sqrt{5}/3$  y  $\sin \beta = -\sqrt{7}/4$ .



$$\begin{aligned} \sin(\alpha + \beta) &= \sin \alpha \cos \beta + \cos \alpha \sin \beta = \frac{2}{3} \cdot \frac{3}{4} + \left(-\frac{\sqrt{5}}{3}\right) \left(-\frac{\sqrt{7}}{4}\right) = \frac{6 + \sqrt{35}}{12} \\ \cos(\alpha + \beta) &= \cos \alpha \cos \beta - \sin \alpha \sin \beta = \left(-\frac{\sqrt{5}}{3}\right) \frac{3}{4} - \frac{2}{3} \left(-\frac{\sqrt{7}}{4}\right) = \frac{-3\sqrt{5} + 2\sqrt{7}}{12} \quad (\alpha + \beta) \text{ en el cuadrante II} \\ \sin(\alpha - \beta) &= \sin \alpha \cos \beta - \cos \alpha \sin \beta = \frac{2}{3} \cdot \frac{3}{4} - \left(-\frac{\sqrt{5}}{3}\right) \left(-\frac{\sqrt{7}}{4}\right) = \frac{6 - \sqrt{35}}{12} \\ \cos(\alpha - \beta) &= \cos \alpha \cos \beta + \sin \alpha \sin \beta = \left(-\frac{\sqrt{5}}{3}\right) \frac{3}{4} + \frac{2}{3} \left(-\frac{\sqrt{7}}{4}\right) = \frac{-3\sqrt{5} - 2\sqrt{7}}{12} \quad (\alpha - \beta) \text{ en el cuadrante II} \end{aligned}$$

9. Demostrar: a)  $\cot(\alpha + \beta) = \frac{\cot \alpha \cot \beta - 1}{\cot \beta + \cot \alpha}$ , b)  $\cot(\alpha - \beta) = \frac{\cot \alpha \cot \beta + 1}{\cot \beta - \cot \alpha}$ .

$$a) \cot(\alpha + \beta) = \frac{1}{\tan(\alpha + \beta)} = \frac{1 - \tan \alpha \tan \beta}{\tan \alpha + \tan \beta} = \frac{1 - \frac{1}{\cot \alpha \cot \beta}}{\frac{1}{\cot \alpha} + \frac{1}{\cot \beta}} = \frac{\cot \alpha \cot \beta - 1}{\cot \beta + \cot \alpha}$$

$$b) \cot(\alpha - \beta) = \cot[\alpha + (-\beta)] = \frac{\cot \alpha \cot(-\beta) - 1}{\cot(-\beta) + \cot \alpha} = \frac{-\cot \alpha \cot \beta - 1}{-\cot \beta + \cot \alpha} = \frac{\cot \alpha \cot \beta + 1}{\cot \beta - \cot \alpha}$$

10. Demostrar las fórmulas para el ángulo duplo.

En  $\sin(\alpha + \beta) = \sin \alpha \cos \beta + \cos \alpha \sin \beta$ ,  $\cos(\alpha + \beta) = \cos \alpha \cos \beta - \sin \alpha \sin \beta$  y

$$\tan(\alpha + \beta) = \frac{\tan \alpha + \tan \beta}{1 - \tan \alpha \tan \beta} \quad \text{tómese } \beta = \alpha. \text{ Por tanto,}$$

$$\sin 2\alpha = \sin \alpha \cos \alpha + \cos \alpha \sin \alpha = 2 \sin \alpha \cos \alpha,$$

$$\begin{aligned} \cos 2\alpha &= \cos \alpha \cos \alpha - \sin \alpha \sin \alpha \\ &= \cos^2 \alpha - \sin^2 \alpha = (1 - \sin^2 \alpha) - \sin^2 \alpha = 1 - 2 \sin^2 \alpha \\ &= \cos^2 \alpha - (1 - \cos^2 \alpha) = 2 \cos^2 \alpha - 1, \end{aligned}$$

$$\tan 2\alpha = \frac{\tan \alpha + \tan \alpha}{1 - \tan \alpha \tan \alpha} = \frac{2 \tan \alpha}{1 - \tan^2 \alpha}.$$

11. Demostrar las fórmulas para el ángulo mitad.

En  $\cos 2\alpha = 1 - 2 \sin^2 \alpha$ , tómese  $\alpha = \frac{1}{2}\theta$ . Entonces,

$$\cos \theta = 1 - 2 \sin^2 \frac{1}{2}\theta, \quad \sin^2 \frac{1}{2}\theta = \frac{1 - \cos \theta}{2} \quad \text{y} \quad \sin \frac{1}{2}\theta = \pm \sqrt{\frac{1 - \cos \theta}{2}}.$$

En  $\cos 2\alpha = 2 \cos^2 \alpha - 1$ , tómese  $\alpha = \frac{1}{2}\theta$ . Entonces,

$$\cos \theta = 2 \cos^2 \frac{1}{2}\theta - 1, \quad \cos^2 \frac{1}{2}\theta = \frac{1 + \cos \theta}{2} \quad \text{y} \quad \cos \frac{1}{2}\theta = \pm \sqrt{\frac{1 + \cos \theta}{2}}.$$

$$\begin{aligned} \text{Por último, } \tan \frac{1}{2}\theta &= \frac{\sin \frac{1}{2}\theta}{\cos \frac{1}{2}\theta} = \pm \sqrt{\frac{1 - \cos \theta}{1 + \cos \theta}} \\ &= \pm \sqrt{\frac{(1 - \cos \theta)(1 + \cos \theta)}{(1 + \cos \theta)(1 + \cos \theta)}} = \pm \sqrt{\frac{1 - \cos^2 \theta}{(1 + \cos \theta)^2}} = \frac{\sin \theta}{1 + \cos \theta} \\ &= \pm \sqrt{\frac{(1 - \cos \theta)(1 - \cos \theta)}{(1 + \cos \theta)(1 - \cos \theta)}} = \pm \sqrt{\frac{(1 - \cos \theta)^2}{1 - \cos^2 \theta}} = \frac{1 - \cos \theta}{\sin \theta}. \end{aligned}$$

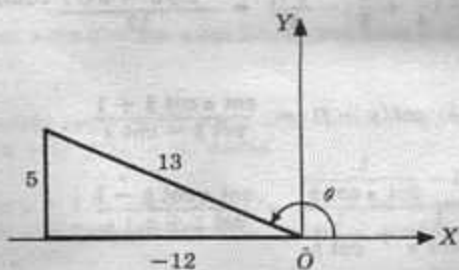
No se necesitan aquí los signos  $\pm$  porque  $\tan \frac{1}{2}\theta$  y  $\sin \theta$  tienen el mismo signo (problema 15, capítulo 8) y, además,  $1 - \cos \theta$  es siempre positivo.

12. Utilizar las fórmulas para el ángulo mitad para encontrar los valores exactos de a)  $\sin 15^\circ$ , b)  $\sin 292\frac{1}{2}^\circ$ .

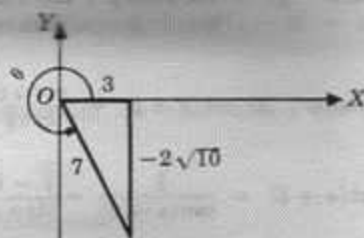
$$a) \sin 15^\circ = \sqrt{\frac{1 - \cos 30^\circ}{2}} = \sqrt{\frac{1 - \sqrt{3}/2}{2}} = \frac{1}{2}\sqrt{2 - \sqrt{3}}$$

$$b) \sin 292\frac{1}{2}^\circ = -\sqrt{\frac{1 - \cos 585^\circ}{2}} = -\sqrt{\frac{1 - \cos 225^\circ}{2}} = -\sqrt{\frac{1 + 1/\sqrt{2}}{2}} = -\frac{1}{2}\sqrt{2 + \sqrt{2}}$$

13. Encontrar los valores del seno, del coseno y de la tangente de  $\frac{1}{2}\theta$ , dados a)  $\sin \theta = 5/13$ ,  $\theta$  en el cuadrante II y b)  $\cos \theta = 3/7$ ,  $\theta$  en el cuadrante IV.



(a)



(b)

- a)  $\sin \theta = 5/13$ ,  $\cos \theta = -12/13$  y  $\frac{1}{2}\theta$  en el cuadrante I.

$$\sin \frac{1}{2}\theta = \sqrt{\frac{1 - \cos \theta}{2}} = \sqrt{\frac{1 + 12/13}{2}} = \sqrt{\frac{25}{26}} = \frac{5\sqrt{26}}{26}$$

$$\cos \frac{1}{2}\theta = \sqrt{\frac{1 + \cos \theta}{2}} = \sqrt{\frac{1 - 12/13}{2}} = \sqrt{\frac{1}{26}} = \frac{\sqrt{26}}{26}$$

$$\tan \frac{1}{2}\theta = \frac{1 - \cos \theta}{\sin \theta} = \frac{1 + 12/13}{5/13} = 5$$

- b)  $\sin \theta = -2\sqrt{10}/7$ ,  $\cos \theta = 3/7$  y  $\frac{1}{2}\theta$  en el cuadrante II.

$$\sin \frac{1}{2}\theta = \sqrt{\frac{1 - \cos \theta}{2}} = \sqrt{\frac{1 - 3/7}{2}} = \frac{\sqrt{14}}{7}$$

$$\cos \frac{1}{2}\theta = -\sqrt{\frac{1 + \cos \theta}{2}} = -\sqrt{\frac{1 + 3/7}{2}} = -\frac{\sqrt{35}}{7}, \quad \tan \frac{1}{2}\theta = \frac{1 - \cos \theta}{\sin \theta} = \frac{1 - 3/7}{-2\sqrt{10}/7} = -\frac{\sqrt{10}}{5}$$

14. Demostrar que: a)  $\sin \theta = 2 \sin \frac{1}{2}\theta \cos \frac{1}{2}\theta$

d)  $\cos 6\theta = 1 - 2 \sin^2 3\theta$

b)  $\sin A = \pm \sqrt{\frac{1 - \cos 2A}{2}}$

e)  $\sin^2 \frac{1}{2}\theta = \frac{1}{2}(1 - \cos \theta)$ ,  $\cos^2 \frac{1}{2}\theta = \frac{1}{2}(1 + \cos \theta)$ .

c)  $\tan 4x = \frac{\sin 8x}{1 + \cos 8x}$

a) Se obtiene de  $\text{sen } 2\alpha = 2 \text{ sen } \alpha \text{ cos } \alpha$  cuando  $\alpha = \frac{1}{2}\theta$ .

b) Se obtiene de  $\text{sen } \frac{1}{2}\theta = \pm \sqrt{\frac{1 - \text{cos } \theta}{2}}$  cuando  $\theta = 2\alpha$ .

c) Se obtiene de  $\text{tan } \frac{1}{2}\theta = \frac{\text{sen } \theta}{1 + \text{cos } \theta}$  cuando  $\theta = 8x$ .

d) Se obtiene de  $\text{cos } 2\alpha = 1 - 2 \text{ sen}^2 \alpha$  cuando  $\alpha = 3\theta$ .

e) Se obtiene cuando  $\text{sen } \frac{1}{2}\theta = \pm \sqrt{\frac{1 - \text{cos } \theta}{2}}$  y  $\text{cos } \frac{1}{2}\theta = \pm \sqrt{\frac{1 + \text{cos } \theta}{2}}$ .

15. Expresar a)  $\text{sen } 3\alpha$  en términos de  $\text{sen } \alpha$ , b)  $\text{cos } 4\alpha$  en términos de  $\text{cos } \alpha$ .

$$\begin{aligned} \text{a) } \text{sen } 3\alpha &= \text{sen}(2\alpha + \alpha) = \text{sen } 2\alpha \text{ cos } \alpha + \text{cos } 2\alpha \text{ sen } \alpha \\ &= (2 \text{ sen } \alpha \text{ cos } \alpha) \text{ cos } \alpha + (1 - 2 \text{ sen}^2 \alpha) \text{ sen } \alpha = 2 \text{ sen } \alpha \text{ cos}^2 \alpha + (1 - 2 \text{ sen}^2 \alpha) \text{ sen } \alpha \\ &= 2 \text{ sen } \alpha (1 - \text{sen}^2 \alpha) + (1 - 2 \text{ sen}^2 \alpha) \text{ sen } \alpha = 3 \text{ sen } \alpha - 4 \text{ sen}^3 \alpha. \end{aligned}$$

$$\text{b) } \text{cos } 4\alpha = \text{cos } 2(2\alpha) = 2 \text{ cos}^2 2\alpha - 1 = 2(2 \text{ cos}^2 \alpha - 1)^2 - 1 = 8 \text{ cos}^4 \alpha - 8 \text{ cos}^2 \alpha + 1.$$

16. Demostrar que  $\text{cos } 2x = \text{cos}^2 x - \text{sen}^2 x$ .

$$\text{cos}^2 x - \text{sen}^2 x = (\text{cos}^2 x + \text{sen}^2 x) (\text{cos}^2 x - \text{sen}^2 x) = \text{cos}^2 x - \text{sen}^2 x = \text{cos } 2x$$

17. Demostrar que  $1 - \frac{1}{2} \text{sen } 2x = \frac{\text{sen}^2 x + \text{cos}^2 x}{\text{sen } x + \text{cos } x}$ .

$$\begin{aligned} \frac{\text{sen}^2 x + \text{cos}^2 x}{\text{sen } x + \text{cos } x} &= \frac{(\text{sen } x + \text{cos } x) (\text{sen}^2 x - \text{sen } x \text{ cos } x + \text{cos}^2 x)}{\text{sen } x + \text{cos } x} \\ &= 1 - \text{sen } x \text{ cos } x = 1 - \frac{1}{2} (2 \text{ sen } x \text{ cos } x) = 1 - \frac{1}{2} \text{sen } 2x \end{aligned}$$

18. Demostrar que  $\text{cos } \theta = \text{sen}(\theta + 30^\circ) + \text{cos}(\theta + 60^\circ)$ .

$$\begin{aligned} \text{sen}(\theta + 30^\circ) + \text{cos}(\theta + 60^\circ) &= (\text{sen } \theta \text{ cos } 30^\circ + \text{cos } \theta \text{ sen } 30^\circ) + (\text{cos } \theta \text{ cos } 60^\circ - \text{sen } \theta \text{ sen } 60^\circ) \\ &= \frac{\sqrt{3}}{2} \text{sen } \theta + \frac{1}{2} \text{cos } \theta + \frac{1}{2} \text{cos } \theta - \frac{\sqrt{3}}{2} \text{sen } \theta = \text{cos } \theta \end{aligned}$$

19. Demostrar que  $\text{cos } x = \frac{1 - \text{tan}^2 \frac{1}{2} x}{1 + \text{tan}^2 \frac{1}{2} x}$ .

$$\frac{1 - \text{tan}^2 \frac{1}{2} x}{1 + \text{tan}^2 \frac{1}{2} x} = \frac{1 - \frac{\text{sen}^2 \frac{1}{2} x}{\text{cos}^2 \frac{1}{2} x}}{\frac{\text{cos}^2 \frac{1}{2} x}{\text{cos}^2 \frac{1}{2} x} + \frac{\text{sen}^2 \frac{1}{2} x}{\text{cos}^2 \frac{1}{2} x}} = \frac{(1 - \frac{\text{sen}^2 \frac{1}{2} x}{\text{cos}^2 \frac{1}{2} x}) \text{cos}^2 \frac{1}{2} x}{\text{sec}^2 \frac{1}{2} x \text{cos}^2 \frac{1}{2} x} = \text{cos}^2 \frac{1}{2} x - \text{sen}^2 \frac{1}{2} x = \text{cos } x$$

20. Demostrar que  $2 \text{ tan } 2x = \frac{\text{cos } x + \text{sen } x}{\text{cos } x - \text{sen } x} - \frac{\text{cos } x - \text{sen } x}{\text{cos } x + \text{sen } x}$ .

$$\begin{aligned} \frac{\text{cos } x + \text{sen } x}{\text{cos } x - \text{sen } x} - \frac{\text{cos } x - \text{sen } x}{\text{cos } x + \text{sen } x} &= \frac{(\text{cos } x + \text{sen } x)^2 - (\text{cos } x - \text{sen } x)^2}{(\text{cos } x - \text{sen } x) (\text{cos } x + \text{sen } x)} \\ &= \frac{(\text{cos}^2 x + 2 \text{ sen } x \text{ cos } x + \text{sen}^2 x) - (\text{cos}^2 x - 2 \text{ sen } x \text{ cos } x + \text{sen}^2 x)}{\text{cos}^2 x - \text{sen}^2 x} \\ &= \frac{4 \text{ sen } x \text{ cos } x}{\text{cos}^2 x - \text{sen}^2 x} = \frac{2 \text{ sen } 2x}{\text{cos } 2x} = 2 \text{ tan } 2x \end{aligned}$$

21. Demostrar que  $\text{sen}^4 A = \frac{3}{8} - \frac{1}{2} \text{cos } 2A + \frac{1}{8} \text{cos } 4A$ .

$$\begin{aligned} \text{sen}^4 A &= (\text{sen}^2 A)^2 = \left( \frac{1 - \text{cos } 2A}{2} \right)^2 = \frac{1 - 2 \text{cos } 2A + \text{cos}^2 2A}{4} \\ &= \frac{1}{4} \left( 1 - 2 \text{cos } 2A + \frac{1 + \text{cos } 4A}{2} \right) = \frac{3}{8} - \frac{1}{2} \text{cos } 2A + \frac{1}{8} \text{cos } 4A \end{aligned}$$

22. Demostrar que  $\tan^4 x = \tan^4 x \sec^2 x - \tan^2 x \sec^2 x + \sec^2 x - 1$ .

$$\begin{aligned}\tan^4 x &= \tan^4 x \tan^2 x = \tan^4 x (\sec^2 x - 1) = \tan^4 x \sec^2 x - \tan^2 x \tan^2 x \\ &= \tan^4 x \sec^2 x - \tan^2 x (\sec^2 x - 1) = \tan^4 x \sec^2 x - \tan^2 x \sec^2 x + \tan^2 x \\ &= \tan^4 x \sec^2 x - \tan^2 x \sec^2 x + \sec^2 x - 1\end{aligned}$$

23. Demostrar que  $A + B + C = 180^\circ$ , si  $\operatorname{sen} 2A + \operatorname{sen} 2B + \operatorname{sen} 2C = 4 \operatorname{sen} A \operatorname{sen} B \operatorname{sen} C$ .

Puesto que  $C = 180^\circ - (A + B)$ ,

$$\begin{aligned}\operatorname{sen} 2A + \operatorname{sen} 2B + \operatorname{sen} 2C &= \operatorname{sen} 2A + \operatorname{sen} 2B + \operatorname{sen} [360^\circ - 2(A + B)] \\ &= \operatorname{sen} 2A + \operatorname{sen} 2B - \operatorname{sen} 2(A + B) \\ &= \operatorname{sen} 2A + \operatorname{sen} 2B - \operatorname{sen} 2A \cos 2B - \cos 2A \operatorname{sen} 2B \\ &= (\operatorname{sen} 2A)(1 - \cos 2B) + (\operatorname{sen} 2B)(1 - \cos 2A) \\ &= 2 \operatorname{sen} 2A \operatorname{sen}^2 B + 2 \operatorname{sen} 2B \operatorname{sen}^2 A \\ &= 4 \operatorname{sen} A \cos A \operatorname{sen}^2 B + 4 \operatorname{sen} B \cos B \operatorname{sen}^2 A \\ &= 4 \operatorname{sen} A \operatorname{sen} B (\operatorname{sen} A \cos B + \cos A \operatorname{sen} B) \\ &= 4 \operatorname{sen} A \operatorname{sen} B \operatorname{sen}(A + B) \\ &= 4 \operatorname{sen} A \operatorname{sen} B \operatorname{sen} [180^\circ - (A + B)] = 4 \operatorname{sen} A \operatorname{sen} B \operatorname{sen} C.\end{aligned}$$

24. Cuando  $A + B + C = 180^\circ$ , demostrar que  $\tan A + \tan B + \tan C = \tan A \tan B \tan C$ .

Puesto que  $C = 180^\circ - (A + B)$ ,

$$\begin{aligned}\tan A + \tan B + \tan C &= \tan A + \tan B + \tan [180^\circ - (A + B)] = \tan A + \tan B - \tan(A + B) \\ &= \tan A + \tan B - \frac{\tan A + \tan B}{1 - \tan A \tan B} = (\tan A + \tan B) \left(1 - \frac{1}{1 - \tan A \tan B}\right) \\ &= (\tan A + \tan B) \left(-\frac{\tan A \tan B}{1 - \tan A \tan B}\right) = -\tan A \tan B \frac{\tan A + \tan B}{1 - \tan A \tan B} \\ &= -\tan A \tan B \tan(A + B) = \tan A \tan B \tan [180^\circ - (A + B)] = \tan A \tan B \tan C.\end{aligned}$$

## PROBLEMAS PROPUESTOS

25. Encontrar los valores del seno, del coseno y de la tangente de a)  $75^\circ$ , b)  $255^\circ$ .

$$\text{Resp. a) } \frac{\sqrt{2}}{4}(\sqrt{3} + 1), \frac{\sqrt{2}}{4}(\sqrt{3} - 1), 2 + \sqrt{3} \quad \text{b) } -\frac{\sqrt{2}}{4}(\sqrt{3} + 1), -\frac{\sqrt{2}}{4}(\sqrt{3} - 1), 2 + \sqrt{3}$$

26. Encontrar los valores de  $\operatorname{sen}(\alpha + \beta)$ ,  $\operatorname{cos}(\alpha + \beta)$  y  $\tan(\alpha + \beta)$ , dados:

a)  $\operatorname{sen} \alpha = 3/5$ ,  $\operatorname{cos} \beta = 5/13$ ,  $\alpha$  y  $\beta$  en el cuadrante I. Resp.  $63/65$ ,  $-16/65$ ,  $-63/16$

b)  $\operatorname{sen} \alpha = 8/17$ ,  $\tan \beta = 5/12$ ,  $\alpha$  y  $\beta$  en el cuadrante I. Resp.  $171/221$ ,  $140/221$ ,  $171/140$

c)  $\operatorname{cos} \alpha = -12/13$ ,  $\cot \beta = 24/7$ ,  $\alpha$  en el cuadrante II,  $\beta$  en el cuadrante III.

Resp.  $-36/325$ ,  $323/325$ ,  $-36/323$

d)  $\operatorname{sen} \alpha = 1/3$ ,  $\operatorname{sen} \beta = 2/5$ ,  $\alpha$  en el cuadrante I,  $\beta$  en el cuadrante II.

Resp.  $\frac{4\sqrt{2} - \sqrt{21}}{15}$ ,  $-\frac{2 + 2\sqrt{42}}{15}$ ,  $-\frac{4\sqrt{2} - \sqrt{21}}{2 + 2\sqrt{42}}$

27. Encontrar los valores de  $\sin(\alpha - \beta)$  y  $\tan(\alpha - \beta)$ , dados:

- a)  $\sin \alpha = 3/5$ ,  $\sin \beta = 5/13$ ,  $\alpha$  y  $\beta$  en el cuadrante I. Resp.  $16/65$ ,  $63/65$ ,  $16/63$   
 b)  $\sin \alpha = 8/17$ ,  $\tan \beta = 5/12$ ,  $\alpha$  y  $\beta$  en el cuadrante I. Resp.  $21/221$ ,  $220/221$ ,  $21/220$   
 c)  $\cos \alpha = -12/13$ ,  $\cot \beta = 24/7$ ,  $\alpha$  en el cuadrante II,  $\beta$  en el cuadrante I. Resp.  $204/325$ ,  $-253/325$ ,  $-204/253$   
 d)  $\sin \alpha = 1/3$ ,  $\sin \beta = 2/5$ ,  $\alpha$  en el cuadrante II,  $\beta$  en el cuadrante I.

Resp.  $\frac{4\sqrt{2} + \sqrt{21}}{15}$ ,  $-\frac{2\sqrt{42} - 2}{15}$ ,  $-\frac{4\sqrt{2} + \sqrt{21}}{2\sqrt{42} - 2}$

28. Demostrar:

- a)  $\sin(\alpha + \beta) - \sin(\alpha - \beta) = 2 \cos \alpha \sin \beta$   
 b)  $\cos(\alpha + \beta) + \cos(\alpha - \beta) = 2 \cos \alpha \cos \beta$   
 c)  $\tan(45^\circ - \theta) = \frac{1 - \tan \theta}{1 + \tan \theta}$   
 d)  $\frac{\tan(\alpha + \beta)}{\cot(\alpha - \beta)} = \frac{\tan^2 \alpha - \tan^2 \beta}{1 - \tan^2 \alpha \tan^2 \beta}$   
 e)  $\tan(\alpha + \beta + \gamma) = \tan[(\alpha + \beta) + \gamma] = \frac{\tan \alpha + \tan \beta + \tan \gamma - \tan \alpha \tan \beta \tan \gamma}{1 - \tan \alpha \tan \beta - \tan \beta \tan \gamma - \tan \gamma \tan \alpha}$   
 f)  $\frac{\sin(\alpha + \beta)}{\cos(\alpha - \beta)} = \frac{\tan \alpha + \tan \beta}{1 + \tan \alpha \tan \beta}$   
 g)  $\tan(45^\circ + \theta) = \frac{\cos \theta + \sin \theta}{\cos \theta - \sin \theta}$   
 h)  $\sin(\alpha + \beta) \sin(\alpha - \beta) = \sin^2 \alpha - \sin^2 \beta$

29. Si  $A$  y  $B$  son ángulos agudos, encontrar  $A + B$ , dados:

- a)  $\tan A = 1/4$ ,  $\tan B = 3/5$ . Sugerencia:  $\tan(A + B) = 1$ . Resp.  $45^\circ$   
 b)  $\tan A = 5/3$ ,  $\tan B = 4$ . Resp.  $135^\circ$

30. Si  $\tan(x + y) = 33$  y  $\tan x = 3$ , demostrar que  $\tan y = 0,3$ .

31. Encontrar los valores de  $\sin 2\theta$ ,  $\cos 2\theta$  y  $\tan 2\theta$ , dados:

- a)  $\sin \theta = 3/5$ ,  $\theta$  en el cuadrante I. Resp.  $24/25$ ,  $7/25$ ,  $24/7$   
 b)  $\sin \theta = 3/5$ ,  $\theta$  en el cuadrante II. Resp.  $-24/25$ ,  $7/25$ ,  $-24/7$   
 c)  $\sin \theta = -1/2$ ,  $\theta$  en el cuadrante IV. Resp.  $-\sqrt{3}/2$ ,  $1/2$ ,  $-\sqrt{3}$   
 d)  $\tan \theta = -1/5$ ,  $\theta$  en el cuadrante II. Resp.  $-5/13$ ,  $12/13$ ,  $-5/12$   
 e)  $\tan \theta = u$ ,  $\theta$  en el cuadrante I. Resp.  $\frac{2u}{1 + u^2}$ ,  $\frac{1 - u^2}{1 + u^2}$ ,  $\frac{2u}{1 - u^2}$

32. Demostrar:

- a)  $\tan \theta \sin 2\theta = 2 \sin^2 \theta$   
 b)  $\cot \theta \sin 2\theta = 1 + \cos 2\theta$   
 c)  $\frac{\sin^2 x - \cos^2 x}{\sin x - \cos x} = 1 + \frac{1}{2} \sin 2x$   
 d)  $\frac{1 - \sin 2A}{\cos 2A} = \frac{1 - \tan A}{1 + \tan A}$   
 e)  $\cos 2\theta = \frac{1 - \tan^2 \theta}{1 + \tan^2 \theta}$   
 f)  $\frac{1 + \cos 2\theta}{\sin 2\theta} = \cot \theta$   
 g)  $\cos 3\theta = 4 \cos^3 \theta - 3 \cos \theta$   
 h)  $\cos^4 x = \frac{3}{8} + \frac{1}{2} \cos 2x + \frac{1}{8} \cos 4x$

33. Encontrar los valores del seno, del coseno y de la tangente de

- a)  $30^\circ$ , dado  $\cos 60^\circ = 1/2$ . Resp.  $1/2$ ,  $\sqrt{3}/2$ ,  $1/\sqrt{3}$   
 b)  $105^\circ$ , dado  $\cos 210^\circ = -\sqrt{3}/2$ . Resp.  $\frac{1}{2}\sqrt{2} + \sqrt{3}$ ,  $-\frac{1}{2}\sqrt{2} - \sqrt{3}$ ,  $-(2 + \sqrt{3})$   
 c)  $\frac{1}{2}\theta$ , dado  $\sin \theta = 3/5$ ,  $\theta$  en el cuadrante I. Resp.  $1/\sqrt{10}$ ,  $3/\sqrt{10}$ ,  $1/3$   
 d)  $\theta$ , dado  $\cot 2\theta = 7/24$ ,  $2\theta$  en el cuadrante I. Resp.  $3/5$ ,  $4/5$ ,  $3/4$   
 e)  $\theta$ , dado  $\cot 2\theta = -5/12$ ,  $2\theta$  en el cuadrante II. Resp.  $3/\sqrt{13}$ ,  $2/\sqrt{13}$ ,  $3/2$

34. Demostrar:

a)  $\cos x = 2 \cos^2 \frac{1}{2}x - 1 = 1 - 2 \sin^2 \frac{1}{2}x$

b)  $\sin x = 2 \sin \frac{1}{2}x \cos \frac{1}{2}x$

c)  $(\sin \frac{1}{2}\theta - \cos \frac{1}{2}\theta)^2 = 1 - \sin \theta$

d)  $\tan \frac{1}{2}\theta = \csc \theta - \cot \theta$

e)  $\frac{1 - \tan \frac{1}{2}\theta}{1 + \tan \frac{1}{2}\theta} = \frac{1 - \sin \theta}{\cos \theta} = \frac{\cos \theta}{1 + \sin \theta}$

f)  $\frac{2 \tan \frac{1}{2}x}{1 + \tan^2 \frac{1}{2}x} = \sin x$

35. Demostrar que en un triángulo rectángulo  $ABC$ , donde  $C$  es el ángulo recto:

$$\sin 2A = \frac{2ab}{c^2}, \quad \cos 2A = \frac{b^2 - a^2}{c^2}, \quad \sin \frac{1}{2}A = \sqrt{\frac{c-b}{2c}}, \quad \cos \frac{1}{2}A = \sqrt{\frac{c+b}{2c}}$$

36. Demostrar que: a)  $\frac{\sin 3x}{\sin x} - \frac{\cos 3x}{\cos x} = 2$ , b)  $\tan 50^\circ - \tan 40^\circ = 2 \tan 10^\circ$ .37. Si  $A + B + C = 180^\circ$ , demostrar que:

a)  $\sin A + \sin B + \sin C = 4 \cos \frac{1}{2}A \cos \frac{1}{2}B \cos \frac{1}{2}C$

b)  $\cos A + \cos B + \cos C = 1 + 4 \sin \frac{1}{2}A \sin \frac{1}{2}B \sin \frac{1}{2}C$

c)  $\sin^2 A + \sin^2 B - \sin^2 C = 2 \sin A \sin B \cos C$

d)  $\tan \frac{1}{2}A \tan \frac{1}{2}B + \tan \frac{1}{2}B \tan \frac{1}{2}C + \tan \frac{1}{2}C \tan \frac{1}{2}A = 1$

## CAPITULO 12

### Fórmulas para sumas, diferencias y productos

#### PRODUCTOS DE SENOS Y COSENOS.

$$\operatorname{sen} \alpha \cos \beta = \frac{1}{2}[\operatorname{sen}(\alpha + \beta) + \operatorname{sen}(\alpha - \beta)]$$

$$\cos \alpha \operatorname{sen} \beta = \frac{1}{2}[\operatorname{sen}(\alpha + \beta) - \operatorname{sen}(\alpha - \beta)]$$

$$\cos \alpha \cos \beta = \frac{1}{2}[\cos(\alpha + \beta) + \cos(\alpha - \beta)]$$

$$\operatorname{sen} \alpha \operatorname{sen} \beta = -\frac{1}{2}[\cos(\alpha + \beta) - \cos(\alpha - \beta)]$$

Las demostraciones de estas fórmulas aparecen en el problema 1.

#### SUMA Y DIFERENCIA DE SENOS Y COSENOS.

$$\operatorname{sen} A + \operatorname{sen} B = 2 \operatorname{sen} \frac{1}{2}(A + B) \cos \frac{1}{2}(A - B)$$

$$\operatorname{sen} A - \operatorname{sen} B = 2 \cos \frac{1}{2}(A + B) \operatorname{sen} \frac{1}{2}(A - B)$$

$$\cos A + \cos B = 2 \cos \frac{1}{2}(A + B) \cos \frac{1}{2}(A - B)$$

$$\cos A - \cos B = -2 \operatorname{sen} \frac{1}{2}(A + B) \operatorname{sen} \frac{1}{2}(A - B)$$

Las demostraciones de estas fórmulas aparecen en el problema 2.

### PROBLEMAS RESUELTOS

#### 1. Deducir las fórmulas de los productos.

$$\begin{aligned} \text{Puesto que } \operatorname{sen}(\alpha + \beta) + \operatorname{sen}(\alpha - \beta) &= (\operatorname{sen} \alpha \cos \beta + \cos \alpha \operatorname{sen} \beta) + (\operatorname{sen} \alpha \cos \beta - \cos \alpha \operatorname{sen} \beta) \\ &= 2 \operatorname{sen} \alpha \cos \beta, \end{aligned}$$

$$\operatorname{sen} \alpha \cos \beta = \frac{1}{2}[\operatorname{sen}(\alpha + \beta) + \operatorname{sen}(\alpha - \beta)].$$

$$\text{Puesto que } \operatorname{sen}(\alpha + \beta) - \operatorname{sen}(\alpha - \beta) = 2 \cos \alpha \operatorname{sen} \beta,$$

$$\cos \alpha \operatorname{sen} \beta = \frac{1}{2}[\operatorname{sen}(\alpha + \beta) - \operatorname{sen}(\alpha - \beta)].$$

$$\begin{aligned} \text{Puesto que } \cos(\alpha + \beta) + \cos(\alpha - \beta) &= (\cos \alpha \cos \beta - \operatorname{sen} \alpha \operatorname{sen} \beta) + (\cos \alpha \cos \beta + \operatorname{sen} \alpha \operatorname{sen} \beta) \\ &= 2 \cos \alpha \cos \beta, \end{aligned}$$

$$\cos \alpha \cos \beta = \frac{1}{2}[\cos(\alpha + \beta) + \cos(\alpha - \beta)].$$

$$\text{Puesto que } \cos(\alpha + \beta) - \cos(\alpha - \beta) = -2 \operatorname{sen} \alpha \operatorname{sen} \beta,$$

$$\operatorname{sen} \alpha \operatorname{sen} \beta = -\frac{1}{2}[\cos(\alpha + \beta) - \cos(\alpha - \beta)].$$

#### 2. Deducir las fórmulas de las sumas y diferencias.

Sean  $\alpha + \beta = A$  y  $\alpha - \beta = B$  tales que  $\alpha = \frac{1}{2}(A + B)$  y  $\beta = \frac{1}{2}(A - B)$ . Entonces (ver problema 1)

$$\operatorname{sen}(\alpha + \beta) + \operatorname{sen}(\alpha - \beta) = 2 \operatorname{sen} \alpha \cos \beta \text{ puesto que } \operatorname{sen} A - \operatorname{sen} B = 2 \operatorname{sen} \frac{1}{2}(A + B) \cos \frac{1}{2}(A - B),$$

$$\operatorname{sen}(\alpha + \beta) - \operatorname{sen}(\alpha - \beta) = 2 \cos \alpha \operatorname{sen} \beta \text{ puesto que } \operatorname{sen} A + \operatorname{sen} B = 2 \cos \frac{1}{2}(A + B) \operatorname{sen} \frac{1}{2}(A - B),$$



$$\begin{aligned}\cos(\alpha + \beta) + \cos(\alpha - \beta) &= 2 \cos \alpha \cos \beta \text{ puesto que } \cos A + \cos B = 2 \cos \frac{1}{2}(A + B) \cos \frac{1}{2}(A - B), \\ \cos(\alpha + \beta) - \cos(\alpha - \beta) &= -2 \sin \alpha \sin \beta \text{ puesto que } \cos A - \cos B = -2 \sin \frac{1}{2}(A + B) \sin \frac{1}{2}(A - B).\end{aligned}$$

3. Expresar como suma o diferencia:

a)  $\sin 40^\circ \cos 30^\circ$ , b)  $\cos 110^\circ \sin 55^\circ$ , c)  $\cos 50^\circ \cos 35^\circ$ , d)  $\sin 55^\circ \sin 40^\circ$ .

a)  $\sin 40^\circ \cos 30^\circ = \frac{1}{2}[\sin(40^\circ + 30^\circ) + \sin(40^\circ - 30^\circ)] = \frac{1}{2}(\sin 70^\circ + \sin 10^\circ)$

b)  $\cos 110^\circ \sin 55^\circ = \frac{1}{2}[\sin(110^\circ + 55^\circ) - \sin(110^\circ - 55^\circ)] = \frac{1}{2}(\sin 165^\circ - \sin 55^\circ)$

c)  $\cos 50^\circ \cos 35^\circ = \frac{1}{2}[\cos(50^\circ + 35^\circ) + \cos(50^\circ - 35^\circ)] = \frac{1}{2}(\cos 85^\circ + \cos 15^\circ)$

d)  $\sin 55^\circ \sin 40^\circ = -\frac{1}{2}[\cos(55^\circ + 40^\circ) - \cos(55^\circ - 40^\circ)] = -\frac{1}{2}(\cos 95^\circ - \cos 15^\circ)$

4. Expresar como producto:

a)  $\sin 50^\circ + \sin 40^\circ$ , b)  $\sin 70^\circ - \sin 20^\circ$ , c)  $\cos 55^\circ + \cos 25^\circ$ , d)  $\cos 35^\circ - \cos 75^\circ$ .

a)  $\sin 50^\circ + \sin 40^\circ = 2 \sin \frac{1}{2}(50^\circ + 40^\circ) \cos \frac{1}{2}(50^\circ - 40^\circ) = 2 \sin 45^\circ \cos 5^\circ$

b)  $\sin 70^\circ - \sin 20^\circ = 2 \cos \frac{1}{2}(70^\circ + 20^\circ) \sin \frac{1}{2}(70^\circ - 20^\circ) = 2 \cos 45^\circ \sin 25^\circ$

c)  $\cos 55^\circ + \cos 25^\circ = 2 \cos \frac{1}{2}(55^\circ + 25^\circ) \cos \frac{1}{2}(55^\circ - 25^\circ) = 2 \cos 40^\circ \cos 15^\circ$

d)  $\cos 35^\circ - \cos 75^\circ = -2 \sin \frac{1}{2}(35^\circ + 75^\circ) \sin \frac{1}{2}(35^\circ - 75^\circ) = -2 \sin 55^\circ \sin(-20^\circ)$   
 $= 2 \sin 55^\circ \sin 20^\circ$

5. Demostrar que:  $\frac{\sin 4A + \sin 2A}{\cos 4A + \cos 2A} = \tan 3A$ .

$$\frac{\sin 4A + \sin 2A}{\cos 4A + \cos 2A} = \frac{2 \sin \frac{1}{2}(4A + 2A) \cos \frac{1}{2}(4A - 2A)}{2 \cos \frac{1}{2}(4A + 2A) \cos \frac{1}{2}(4A - 2A)} = \frac{\sin 3A}{\cos 3A} = \tan 3A$$

6. Demostrar que:  $\frac{\sin A - \sin B}{\sin A + \sin B} = \frac{\tan \frac{1}{2}(A - B)}{\tan \frac{1}{2}(A + B)}$ .

$$\frac{\sin A - \sin B}{\sin A + \sin B} = \frac{2 \cos \frac{1}{2}(A + B) \sin \frac{1}{2}(A - B)}{2 \sin \frac{1}{2}(A + B) \cos \frac{1}{2}(A - B)} = \cot \frac{1}{2}(A + B) \tan \frac{1}{2}(A - B) = \frac{\tan \frac{1}{2}(A - B)}{\tan \frac{1}{2}(A + B)}$$

7. Demostrar que:  $\cos^2 x \sin^2 x = \frac{1}{16} (2 \cos x - \cos 3x - \cos 5x)$ .

$$\begin{aligned}\cos^2 x \sin^2 x &= (\sin x \cos x)^2 \cos x = \frac{1}{4} \sin^2 2x \cos x = \frac{1}{4} (\sin 2x) (\sin 2x \cos x) \\ &= \frac{1}{4} (\sin 2x) \left[ \frac{1}{2} (\sin 3x + \sin x) \right] = \frac{1}{8} (\sin 3x \sin 2x + \sin 2x \sin x) \\ &= \frac{1}{8} \left\{ -\frac{1}{2} (\cos 5x - \cos x) + \left[ -\frac{1}{2} (\cos 3x - \cos x) \right] \right\} \\ &= \frac{1}{16} (2 \cos x - \cos 3x - \cos 5x)\end{aligned}$$

8. Demostrar que:  $1 + \cos 2x + \cos 4x + \cos 6x = 4 \cos x \cos 2x \cos 3x$ .

$$\begin{aligned}1 + (\cos 2x + \cos 4x) + \cos 6x &= 1 + 2 \cos 3x \cos x + \cos 6x = (1 + \cos 6x) + 2 \cos 3x \cos x \\ &= 2 \cos^2 3x + 2 \cos 3x \cos x = 2 \cos 3x (\cos 3x + \cos x) \\ &= 2 \cos 3x (2 \cos 2x \cos x) = 4 \cos x \cos 2x \cos 3x\end{aligned}$$

9. Expresar  $4 \cos x + 3 \operatorname{sen} x$  en la forma  $c \cos(x - \alpha)$ .

Puesto que  $c \cos(x - \alpha) = c(\cos x \cos \alpha + \operatorname{sen} x \operatorname{sen} \alpha)$ , se toma  $c \cos \alpha = 4$  y  $c \operatorname{sen} \alpha = 3$ .

Entonces  $\cos \alpha = 4/c$  y  $\operatorname{sen} \alpha = 3/c$ . Puesto que  $\operatorname{sen}^2 \alpha + \cos^2 \alpha = 1$ ,  $c = 5$  y  $-5$ .

Ya que  $c = 5$ ,  $\cos \alpha = 4/5$ ,  $\operatorname{sen} \alpha = 3/5$ , y  $\alpha = 36^\circ 52'$ . Así,  

$$4 \cos x + 3 \operatorname{sen} x = 5 \cos(x - 36^\circ 52').$$

Puesto que  $c = -5$ ,  $\alpha = 216^\circ 52'$  y  

$$4 \cos x + 3 \operatorname{sen} x = -5 \cos(x - 216^\circ 52').$$

10. Encontrar los valores máximo y mínimo de  $4 \cos x + 3 \operatorname{sen} x$  en el intervalo  $0 \leq x \leq 2\pi$ .

Según el problema 9,  $4 \cos x + 3 \operatorname{sen} x = 5 \cos(x - 36^\circ 52')$ .

Ahora bien, en el intervalo dado,  $\cos \theta$  alcanza su valor máximo 1 cuando  $\theta = 0$ , y su valor mínimo  $-1$  cuando  $\theta = \pi$ . Entonces, el valor máximo de  $4 \cos x + 3 \operatorname{sen} x$  es 5 que se obtiene cuando  $x - 36^\circ 52' = 0$  o cuando  $x = 36^\circ 52'$ , mientras que el valor mínimo es  $-5$  que se obtiene cuando  $x - 36^\circ 52' = \pi$  o cuando  $x = 216^\circ 52'$ .

### PROBLEMAS PROPUESTOS

11. Expresar como suma o diferencia de senos o de cosenos cada uno de los productos siguientes.

a)  $\operatorname{sen} 35^\circ \cos 25^\circ = \frac{1}{2}(\operatorname{sen} 60^\circ + \operatorname{sen} 10^\circ)$

b)  $\operatorname{sen} 25^\circ \cos 75^\circ = \frac{1}{2}(\operatorname{sen} 100^\circ - \operatorname{sen} 50^\circ)$

c)  $\cos 50^\circ \cos 70^\circ = \frac{1}{2}(\cos 120^\circ + \cos 20^\circ)$

d)  $\operatorname{sen} 130^\circ \operatorname{sen} 55^\circ = -\frac{1}{2}(\cos 185^\circ - \cos 75^\circ)$

e)  $\operatorname{sen} 4x \cos 2x = \frac{1}{2}(\operatorname{sen} 6x + \operatorname{sen} 2x)$

f)  $\operatorname{sen} x/2 \cos 3x/2 = \frac{1}{2}(\operatorname{sen} 2x - \operatorname{sen} x)$

g)  $\cos 7x \cos 4x = \frac{1}{2}(\cos 11x + \cos 3x)$

h)  $\operatorname{sen} 5x \operatorname{sen} 4x = -\frac{1}{2}(\cos 9x - \cos x)$

12. Demostrar que:

a)  $2 \operatorname{sen} 45^\circ \cos 15^\circ = \frac{1}{2}(\sqrt{3} + 1)$  y  $\cos 15^\circ = \frac{\sqrt{2}}{4}(\sqrt{3} + 1)$ .

b)  $2 \operatorname{sen} 82\frac{1}{2}^\circ \cos 37\frac{1}{2}^\circ = \frac{1}{2}(\sqrt{3} + \sqrt{2})$ , c)  $2 \operatorname{sen} 127\frac{1}{2}^\circ \operatorname{sen} 97\frac{1}{2}^\circ = \frac{1}{2}(\sqrt{3} + \sqrt{2})$ .

13. Expresar como producto.

a)  $\operatorname{sen} 50^\circ + \operatorname{sen} 20^\circ = 2 \operatorname{sen} 35^\circ \cos 15^\circ$

e)  $\operatorname{sen} 4x + \operatorname{sen} 2x = 2 \operatorname{sen} 3x \cos x$

b)  $\operatorname{sen} 75^\circ - \operatorname{sen} 35^\circ = 2 \cos 55^\circ \operatorname{sen} 20^\circ$

f)  $\operatorname{sen} 7\theta - \operatorname{sen} 3\theta = 2 \cos 5\theta \operatorname{sen} 2\theta$

c)  $\cos 65^\circ + \cos 15^\circ = 2 \cos 40^\circ \cos 25^\circ$

g)  $\cos 6\theta + \cos 2\theta = 2 \cos 4\theta \cos 2\theta$

d)  $\cos 80^\circ - \cos 70^\circ = -2 \operatorname{sen} 75^\circ \operatorname{sen} 5^\circ$

h)  $\cos 3x/2 - \cos 9x/2 = 2 \operatorname{sen} 3x \operatorname{sen} 3x/2$

14. Demostrar que:

a)  $\operatorname{sen} 40^\circ + \operatorname{sen} 20^\circ = \cos 10^\circ$ ,

c)  $\cos 465^\circ + \cos 165^\circ = -\sqrt{6}/2$ ,

b)  $\operatorname{sen} 105^\circ + \operatorname{sen} 15^\circ = \sqrt{6}/2$ ,

d)  $\frac{\operatorname{sen} 75^\circ - \operatorname{sen} 15^\circ}{\cos 75^\circ + \cos 15^\circ} = 1/\sqrt{3}$ .

15. Demostrar que:

a)  $\frac{\operatorname{sen} A + \operatorname{sen} 3A}{\cos A + \cos 3A} = \tan 2A$

b)  $\frac{\operatorname{sen} 2A + \operatorname{sen} 4A}{\cos 2A + \cos 4A} = \tan 3A$

c)  $\frac{\operatorname{sen} A + \operatorname{sen} B}{\operatorname{sen} A - \operatorname{sen} B} = \frac{\tan \frac{1}{2}(A+B)}{\tan \frac{1}{2}(A-B)}$

d)  $\frac{\cos A + \cos B}{\cos A - \cos B} = -\cot \frac{1}{2}(A-B) \cot \frac{1}{2}(A+B)$

e)  $\operatorname{sen} \theta + \operatorname{sen} 2\theta + \operatorname{sen} 3\theta = \operatorname{sen} 2\theta + (\operatorname{sen} \theta + \operatorname{sen} 3\theta) = \operatorname{sen} 2\theta (1 + 2 \cos \theta)$

f)  $\cos \theta + \cos 2\theta + \cos 3\theta = \cos 2\theta (1 + 2 \cos \theta)$

g)  $\operatorname{sen} 2\theta + \operatorname{sen} 4\theta + \operatorname{sen} 6\theta = (\operatorname{sen} 2\theta + \operatorname{sen} 4\theta) + 2 \operatorname{sen} 3\theta \cos 3\theta = 4 \cos \theta \cos 2\theta \operatorname{sen} 3\theta$

h)  $\frac{\operatorname{sen} 3x + \operatorname{sen} 5x + \operatorname{sen} 7x + \operatorname{sen} 9x}{\cos 3x + \cos 5x + \cos 7x + \cos 9x} = \frac{(\operatorname{sen} 3x + \operatorname{sen} 9x) + (\operatorname{sen} 5x + \operatorname{sen} 7x)}{(\cos 3x + \cos 9x) + (\cos 5x + \cos 7x)} = \tan 6x$

16. Demostrar que:

a)  $\cos 130^\circ + \cos 110^\circ + \cos 10^\circ = 0$ ,    b)  $\cos 220^\circ + \cos 100^\circ + \cos 20^\circ = 0$ .

17. Demostrar que:

a)  $\cos^2 \theta \operatorname{sen}^2 \theta = \frac{1}{16} (2 \operatorname{sen} \theta + \operatorname{sen} 3\theta - \operatorname{sen} 5\theta)$

b)  $\cos^2 \theta \operatorname{sen}^4 \theta = \frac{1}{32} (2 - \cos 2\theta - 2 \cos 4\theta + \cos 6\theta)$

c)  $\cos^4 \theta = \frac{1}{16} (10 \cos \theta + 5 \cos 3\theta + \cos 5\theta)$

d)  $\operatorname{sen}^4 \theta = \frac{1}{16} (10 \operatorname{sen} \theta - 5 \operatorname{sen} 3\theta + \operatorname{sen} 5\theta)$

18. Expresar:

a)  $4 \cos x + 3 \operatorname{sen} x$  en la forma  $c \operatorname{sen}(x + \alpha)$ .

Resp.  $5 \operatorname{sen}(x + 53^\circ 8')$

b)  $4 \cos x + 3 \operatorname{sen} x$  en la forma  $c \operatorname{sen}(x - \alpha)$ .

Resp.  $5 \operatorname{sen}(x - 306^\circ 52')$

c)  $\operatorname{sen} x - \cos x$  en la forma  $c \operatorname{sen}(x - \alpha)$ .

Resp.  $\sqrt{2} \operatorname{sen}(x - 45^\circ)$

d)  $5 \cos 3t + 12 \operatorname{sen} 3t$  en la forma  $c \cos(3t - \alpha)$ .

Resp.  $13 \cos(3t - 67^\circ 23')$

19. Encontrar los valores máximo y mínimo de cada una de las sumas del problema 18, y los valores de  $x$  o de  $t$ , entre 0 y  $2\pi$ , donde aquellos se obtienen.Resp. a) Máximo = 5, cuando  $x = 36^\circ 52'$  (por ejemplo, cuando  $x + 53^\circ 8' = 90^\circ$ ); mínimo = -5, cuando  $x = 216^\circ 52'$ .

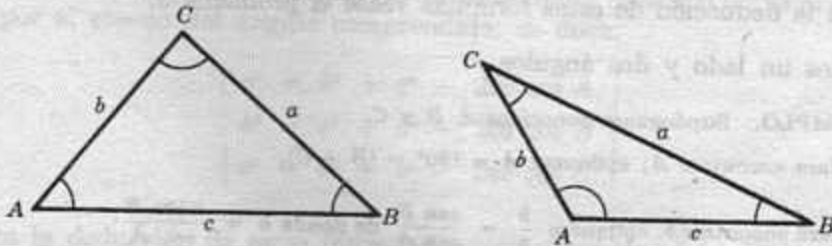
b) Lo mismo que a).

c) Máximo =  $\sqrt{2}$ , cuando  $x = 135^\circ$ ; mínimo =  $-\sqrt{2}$ , cuando  $x = 315^\circ$ .d) Máximo = 13, cuando  $t = 22^\circ 28'$ ; mínimo = -13, cuando  $t = 82^\circ 28'$ .

## Triángulos oblicuángulos. Resoluciones no-logarítmicas

**TRIANGULO OBLICUANGULO** es aquél en que no es recto ninguno de sus ángulos. En un triángulo oblicuángulo, los tres ángulos son agudos o dos son agudos y el tercero es obtusángulo.

Los ángulos se llamarán aquí  $A$ ,  $B$  y  $C$ , y las longitudes de los correspondientes lados opuestos se llamarán  $a$ ,  $b$  y  $c$ .



Un triángulo queda perfectamente determinado cuando se conocen tres cualesquiera de sus elementos, no todos ángulos, excepto en un caso que se explicará más adelante. Los cuatro casos de triángulos oblicuángulos son:

- Caso I. Dados un lado y dos ángulos.
- Caso II. Dados dos lados y el ángulo opuesto a uno de ellos.
- Caso III. Dados dos lados y el ángulo comprendido.
- Caso IV. Dados los tres lados.

**LEY DE LOS SENOS.** En todo triángulo los lados son proporcionales a los senos de los ángulos opuestos; esto es,

$$\frac{a}{\text{sen } A} = \frac{b}{\text{sen } B} = \frac{c}{\text{sen } C}$$

Son inmediatas las siguientes relaciones:

$$\frac{a}{b} = \frac{\text{sen } A}{\text{sen } B}, \quad \frac{b}{c} = \frac{\text{sen } B}{\text{sen } C}, \quad \frac{c}{a} = \frac{\text{sen } C}{\text{sen } A}$$

La demostración de la ley de los senos aparece en el problema 1.

**FORMULAS DE MOLLWEIDE.** En todo triángulo  $ABC$ , son válidas las relaciones siguientes:

$$\frac{a+b}{c} = \frac{\cos \frac{1}{2}(A-B)}{\text{sen } \frac{1}{2}C}, \quad \frac{a-b}{c} = \frac{\text{sen } \frac{1}{2}(A-B)}{\cos \frac{1}{2}C}$$

conjuntamente con las que se obtienen mediante un cambio cíclico de las letras; es decir,

$$\frac{b+c}{a} = \frac{\cos \frac{1}{2}(B-C)}{\text{sen } \frac{1}{2}A}, \quad \frac{b-c}{a} = \frac{\text{sen } \frac{1}{2}(B-C)}{\cos \frac{1}{2}A}$$

$$\frac{c+a}{b} = \frac{\cos \frac{1}{2}(C-A)}{\text{sen } \frac{1}{2}B}, \quad \frac{c-a}{b} = \frac{\text{sen } \frac{1}{2}(C-A)}{\cos \frac{1}{2}B}$$

y las obtenidas al intercambiar las dos letras (minúscula y mayúscula) que aparecen en los numeradores de cada relación.

Para la deducción de estas fórmulas, véase el problema 2.

FORMULAS DE LA PROYECCION. En todo triángulo  $ABC$ ,

$$\begin{aligned} a &= b \cos C + c \cos B \\ b &= c \cos A + a \cos C \\ c &= a \cos B + b \cos A. \end{aligned}$$

Para la deducción de estas fórmulas véase el problema 3.

CASO I. Dados un lado y dos ángulos.

EJEMPLO. Supónganse conocidos  $a$ ,  $B$  y  $C$ .

Para encontrar  $A$ , aplíquese  $A = 180^\circ - (B + C)$ .

Para encontrar  $b$ , aplíquese  $\frac{b}{a} = \frac{\text{sen } B}{\text{sen } A}$  de donde  $b = \frac{a \text{ sen } B}{\text{sen } A}$ .

Para encontrar  $c$ , aplíquese  $\frac{c}{a} = \frac{\text{sen } C}{\text{sen } A}$  de donde  $c = \frac{a \text{ sen } C}{\text{sen } A}$ .

Para la comprobación, utilícese una de las fórmulas de Mollweide o una de las fórmulas de la proyección.

(Véanse los problemas 4-8.)

CASO II. Dados dos lados y el lado opuesto a uno de ellos.

EJEMPLO. Supónganse conocidos  $b$ ,  $c$  y  $B$ .

$$\text{De } \frac{\text{sen } C}{\text{sen } B} = \frac{c}{b}, \quad \text{sen } C = \frac{c \text{ sen } B}{b}.$$

Si  $\text{sen } C > 1$ , el ángulo  $C$  no está determinado.

Si  $\text{sen } C = 1$ ,  $C = 90^\circ$  y queda determinado un triángulo rectángulo.

Si  $\text{sen } C < 1$ , quedan determinados dos ángulos: un ángulo agudo  $C$  y un ángulo obtuso  $C' = 180^\circ - C$ . Así, puede quedar determinado un solo triángulo, o pueden quedar determinados dos triángulos.

Este caso se discute geoméricamente en el problema 9. Los resultados obtenidos se pueden resumir así:

Cuando el ángulo dado es *agudo*, sucede que

- existe una solución si el lado opuesto al ángulo dado es igual o mayor que el otro lado dado,
  - no hay solución, existe una solución (triángulo rectángulo) o existen dos soluciones si el lado opuesto al ángulo dado es menor que el otro lado dado.
- Cuando el ángulo dado es *obtuso*, sucede que
- no hay solución si el lado opuesto al ángulo dado es igual o menor que el otro lado dado,
  - existe una solución si el lado opuesto al ángulo dado es mayor que el otro lado dado.

EJEMPLO. 1) Cuando  $b = 30$ ,  $c = 20$  y  $B = 40^\circ$ , existe una solución porque  $B$  es agudo y  $b > c$ .

2) Cuando  $b = 20$ ,  $c = 30$  y  $B = 40^\circ$ , puede suceder que no haya solución o que haya una o dos soluciones. El subcaso particular se determina después de calcular  $\text{sen } C = \frac{c \text{ sen } B}{b}$ .



3) Cuando  $b = 30$ ,  $c = 20$  y  $B = 140^\circ$ , existe una solución.

4) Cuando  $b = 20$ ,  $c = 30$  y  $B = 140^\circ$ , no existe solución.

Este caso, llamado ambiguo, se resuelve mediante la ley de los senos y se comprueba por las fórmulas de Mollweide o por las fórmulas de la proyección.

(Véanse los problemas 10-13.)

**LEY DE LOS COSENOS.** En todo triángulo  $ABC$ , el cuadrado de un lado cualquiera es igual a la suma de los cuadrados de los otros dos lados menos el doble producto de estos lados por el coseno del ángulo comprendido; es decir,

$$a^2 = b^2 + c^2 - 2bc \cos A$$

$$b^2 = c^2 + a^2 - 2ca \cos B$$

$$c^2 = a^2 + b^2 - 2ab \cos C.$$

Para la deducción de estas fórmulas, véase el problema 14.

**CASO III.** Dados dos lados y el ángulo comprendido.

**EJEMPLO.** Supónganse conocidos  $a$ ,  $b$  y  $C$ .

Para encontrar  $c$ , aplíquese  $c^2 = a^2 + b^2 - 2ab \cos C$ .

Para encontrar  $A$ , aplíquese  $\sin A = \frac{a \sin C}{c}$ .

Para encontrar  $B$ , aplíquese  $\sin B = \frac{b \sin C}{c}$ .

Para la comprobación, aplíquese  $A + B + C = 180^\circ$ .

(Véanse los problemas 15-18.)

**CASO IV.** Dados los tres lados.

**EJEMPLO.** Conocidos  $a$ ,  $b$  y  $c$ , despéjese convenientemente la ley de los cosenos para cada uno de los ángulos.

Para encontrar los ángulos, aplíquese

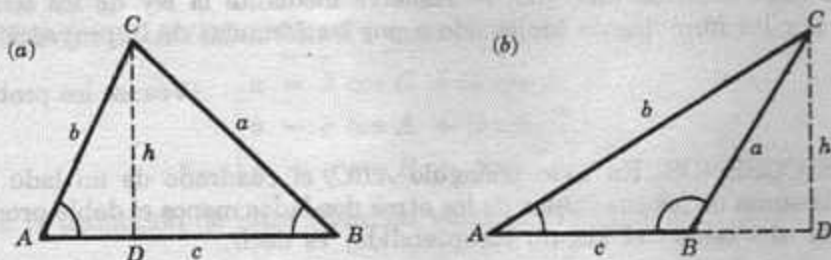
$$\cos A = \frac{b^2 + c^2 - a^2}{2bc}, \quad \cos B = \frac{c^2 + a^2 - b^2}{2ca}, \quad \cos C = \frac{a^2 + b^2 - c^2}{2ab}.$$

Para la comprobación, aplíquese  $A + B + C = 180^\circ$ .

(Véanse los problemas 19-21.)

## PROBLEMAS RESUELTOS

1. Deducir la ley de los senos.



Sea  $ABC$  un triángulo oblicuángulo cualquiera. En la Fig. (a), los ángulos  $A$  y  $B$  son agudos, mientras que en la Fig. (b), el ángulo  $B$  es obtuso. Trácese  $CD$  perpendicular a  $AB$  o a su prolongación. Sea  $h$  la longitud de  $CD$ .

En cualquiera de las dos figuras se tiene que, en el triángulo rectángulo  $ACD$ ,  $h = b \operatorname{sen} A$ , mientras que, en el triángulo rectángulo  $BCD$ ,  $h = a \operatorname{sen} B$  ya que en la Fig. (b),

$$h = a \operatorname{sen} \angle DBC = a \operatorname{sen}(180^\circ - B) = a \operatorname{sen} B.$$

Entonces, 
$$a \operatorname{sen} B = b \operatorname{sen} A \quad \text{ó} \quad \frac{a}{\operatorname{sen} A} = \frac{b}{\operatorname{sen} B}.$$

De manera semejante, si se traza una perpendicular desde  $B$  a  $AC$ , o desde  $A$  a  $BC$ , se obtiene

$$\frac{a}{\operatorname{sen} A} = \frac{c}{\operatorname{sen} C} \quad \text{ó} \quad \frac{b}{\operatorname{sen} B} = \frac{c}{\operatorname{sen} C}.$$

Así, finalmente, 
$$\frac{a}{\operatorname{sen} A} = \frac{b}{\operatorname{sen} B} = \frac{c}{\operatorname{sen} C}.$$

2. Deducir un par de fórmulas de Mollweide.

De la ley de los senos se obtiene, 
$$\frac{a}{c} = \frac{\operatorname{sen} A}{\operatorname{sen} C} \quad \text{y} \quad \frac{b}{c} = \frac{\operatorname{sen} B}{\operatorname{sen} C}.$$

Entonces 
$$\frac{a+b}{c} = \frac{\operatorname{sen} A + \operatorname{sen} B}{\operatorname{sen} C} = \frac{2 \operatorname{sen} \frac{1}{2}(A+B) \cos \frac{1}{2}(A-B)}{2 \operatorname{sen} \frac{1}{2}C \cos \frac{1}{2}C} = \frac{\cos \frac{1}{2}(A-B)}{\operatorname{sen} \frac{1}{2}C},$$

puesto que  $\operatorname{sen} \frac{1}{2}(A+B) = \operatorname{sen} \frac{1}{2}(180^\circ - C) = \operatorname{sen}(90^\circ - \frac{1}{2}C) = \cos \frac{1}{2}C$ .

Del mismo modo, 
$$\frac{a-b}{c} = \frac{\operatorname{sen} A - \operatorname{sen} B}{\operatorname{sen} C} = \frac{2 \cos \frac{1}{2}(A+B) \operatorname{sen} \frac{1}{2}(A-B)}{2 \operatorname{sen} \frac{1}{2}C \cos \frac{1}{2}C} = \frac{\operatorname{sen} \frac{1}{2}(A-B)}{\cos \frac{1}{2}C},$$

puesto que  $\cos \frac{1}{2}(A+B) = \cos(90^\circ - \frac{1}{2}C) = \operatorname{sen} \frac{1}{2}C$ .

3. Deducir una de las fórmulas de la proyección.

Considérense las figuras del problema 1. En el triángulo rectángulo  $ACD$  de cualquiera de las dos figuras,  $AD = b \cos A$ .

En el triángulo rectángulo  $BCD$  de la Fig. (a),  $DB = a \cos B$ . Entonces, en la Fig. (a),

$$c = AB = AD + DB = b \cos A + a \cos B = a \cos B + b \cos A.$$

En el triángulo rectángulo  $BCD$  de la Fig. (b),  $BD = a \cos \angle DBC = a \cos(180^\circ - B) = -a \cos B$ . Entonces, en la Fig. (b),

$$c = AB = AD - BD = b \cos A - (-a \cos B) = a \cos B + b \cos A.$$

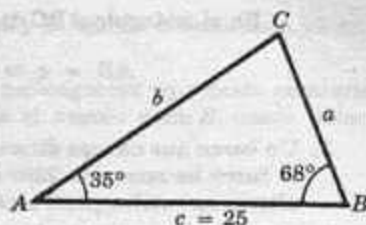
CASO I.

4. Resolver el triángulo  $ABC$ , dados  $c = 25$ ,  $A = 35^\circ$  y  $B = 68^\circ$ .

Para encontrar  $C$ :  $C = 180^\circ - (A + B) = 180^\circ - 103^\circ = 77^\circ$ .

Para encontrar  $a$ :  $a = \frac{c \operatorname{sen} A}{\operatorname{sen} C} = \frac{25 \operatorname{sen} 35^\circ}{\operatorname{sen} 77^\circ} = \frac{25(0,5736)}{0,9744} = 15$ .

Para encontrar  $b$ :  $b = \frac{c \operatorname{sen} B}{\operatorname{sen} C} = \frac{25 \operatorname{sen} 68^\circ}{\operatorname{sen} 77^\circ} = \frac{25(0,9272)}{0,9744} = 24$ .



Para comprobar según la fórmula de Mollweide:

$$\frac{b+a}{c} = \frac{\cos \frac{1}{2}(B-A)}{\operatorname{sen} \frac{1}{2}C} \quad \text{ó} \quad (b+a) \operatorname{sen} \frac{1}{2}C = c \cos \frac{1}{2}(B-A)$$

$$(b+a) \operatorname{sen} \frac{1}{2}C = 39 \operatorname{sen} 38^\circ 30' = 39(0,6225) = 24,3$$

$$c \cos \frac{1}{2}(B-A) = 25 \cos 16^\circ 30' = 25(0,9588) = 24,0$$

Para comprobar según la fórmula de la proyección:

$$c = a \cos B + b \cos A = 15 \cos 68^\circ + 24 \cos 35^\circ = 15(0,3746) + 24(0,8192) = 25,3$$

Los elementos buscados son  $a = 15$ ,  $b = 24$  y  $C = 77^\circ$ .

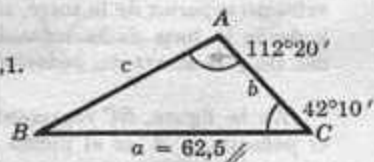
5. Resolver el triángulo  $ABC$ , dados  $a = 62,5$ ,  $A = 112^\circ 20'$  y  $C = 42^\circ 10'$ .

Para  $B$ :  $B = 180^\circ - (C + A) = 180^\circ - 154^\circ 30' = 25^\circ 30'$ .

Para  $b$ :  $b = \frac{a \operatorname{sen} B}{\operatorname{sen} A} = \frac{62,5 \operatorname{sen} 25^\circ 30'}{\operatorname{sen} 112^\circ 20'} = \frac{62,5(0,4305)}{0,9250} = 29,1$ .

$$(\operatorname{sen} 112^\circ 20' = \operatorname{sen}(180^\circ - 112^\circ 20') = \operatorname{sen} 67^\circ 40')$$

Para  $c$ :  $c = \frac{a \operatorname{sen} C}{\operatorname{sen} A} = \frac{62,5 \operatorname{sen} 42^\circ 10'}{\operatorname{sen} 112^\circ 20'} = \frac{62,5(0,6713)}{0,9250} = 45,4$ .



Comprobación:  $(c + b) \operatorname{sen} \frac{1}{2}A = a \cos \frac{1}{2}(C - B)$

$$(c + b) \operatorname{sen} \frac{1}{2}A = 74,5 \operatorname{sen} 56^\circ 10' = 74,5(0,8307) = 61,89$$

$$a \cos \frac{1}{2}(C - B) = 62,5 \cos 8^\circ 20' = 62,5(0,9894) = 61,84;$$

$$\text{ó} \quad a = b \cos C + c \cos B = 29,1(0,7412) + 45,4(0,9026) = 62,55$$

Los elementos buscados son  $b = 29,1$ ,  $c = 45,4$  y  $B = 25^\circ 30'$ .

6. En las orillas opuestas de un río se sitúan dos puntos  $A$  y  $B$ . En la orilla donde está situado el punto  $A$  se determina un segmento de recta  $AC = 275$  m y se miden los ángulos  $CAB = 125^\circ 40'$  y  $ACB = 48^\circ 50'$ . Encontrar la longitud de  $AB$ .

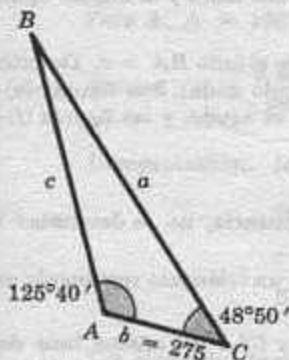


Fig. (a) Prob. 6

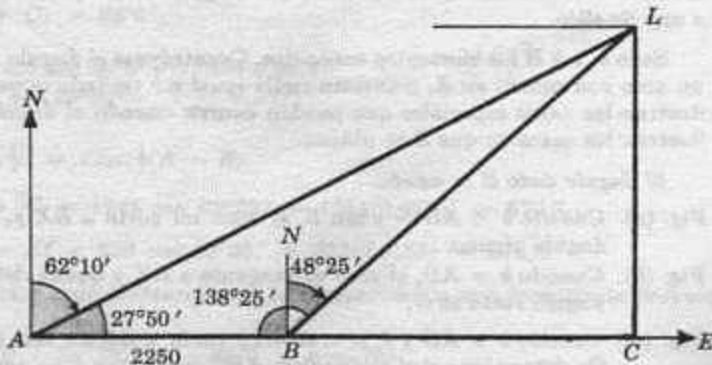


Fig. (b) Prob. 7



En el triángulo  $ABC$  de la Fig. (a),  $B = 180^\circ - (C + A) = 5^\circ 30'$  y

$$AB = c = \frac{b \operatorname{sen} C}{\operatorname{sen} B} = \frac{275 \operatorname{sen} 48^\circ 50'}{\operatorname{sen} 5^\circ 30'} = \frac{275(0,7528)}{0,0958} = 2160 \text{ m.}$$

7. Un barco que navega directamente hacia el este observa un faro con una orientación  $N 62^\circ 10' E$ . Cuando el barco ha recorrido 2250 m, la orientación del faro es  $N 48^\circ 25' E$ . Si el barco continúa navegando sin alterar su rumbo, ¿cuál será la menor distancia a que pasará del faro? (Véase el problema 5, capítulo 5.)

Considérese la Fig. (b).

En el triángulo oblicuángulo  $ABL$ :  $AB = 2250$ ,  $\angle BAL = 27^\circ 50'$  y  $\angle ABL = 138^\circ 25'$ .

$$\angle ALB = 180^\circ - (\angle BAL + \angle ABL) = 13^\circ 45'.$$

$$BL = \frac{AB \operatorname{sen} \angle BAL}{\operatorname{sen} \angle ALB} = \frac{2250 \operatorname{sen} 27^\circ 50'}{\operatorname{sen} 13^\circ 45'} = \frac{2250(0,4669)}{0,2377} = 4420.$$

En el triángulo rectángulo  $BLC$ :  $BL = 4420$  y  $\angle CBL = 90^\circ - 48^\circ 25' = 41^\circ 35'$ .

$$CL = BL \operatorname{sen} \angle CBL = 4420 \operatorname{sen} 41^\circ 35' = 4420(0,6637) = 2934 \text{ m.}$$

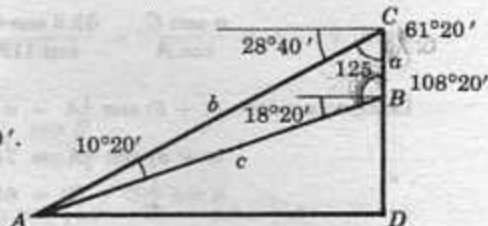
Otro posible procedimiento para resolver el problema consiste en encontrar  $AL$  en el triángulo oblicuángulo  $ABL$  y, después, encontrar  $CL$  en el triángulo rectángulo  $ALC$ .

8. Sobre un peñasco situado en la ribera de un río se levanta una torre de 125 m de altura. Desde el extremo superior de la torre, el ángulo de depresión de un punto situado en la orilla opuesta es de  $28^\circ 40'$  y desde la base de la torre, el ángulo de depresión del mismo punto es de  $18^\circ 20'$ . Encontrar el ancho del río y la altura del peñasco.

En la figura,  $BC$  representa la torre,  $DB$  representa el peñasco, y  $A$  es el punto de referencia en la orilla opuesta.

En el triángulo  $ABC$ ,  $C = 90^\circ - 28^\circ 40' = 61^\circ 20'$ ,  
 $B = 90^\circ + 18^\circ 20' = 108^\circ 20'$ ,  
 $A = 180^\circ - (B + C) = 10^\circ 20'$ .

$$c = \frac{a \operatorname{sen} C}{\operatorname{sen} A} = \frac{125 \operatorname{sen} 61^\circ 20'}{\operatorname{sen} 10^\circ 20'} = \frac{125(0,8774)}{0,1794} = 611.$$



En el triángulo rectángulo  $ABD$ ,  $DB = c \operatorname{sen} 18^\circ 20' = 611(0,3145) = 192$ ,  
 $AD = c \operatorname{cos} 18^\circ 20' = 611(0,9492) = 580$ .

El río mide 580 m de ancho, y el peñasco 192 m de altura.

9. Discutir los distintos casos especiales que se presentan cuando se conocen dos lados y el ángulo opuesto a uno de ellos.

Sean  $b$ ,  $c$  y  $B$  los elementos conocidos. Constrúyase el ángulo  $B$  y trácese el lado  $BA = c$ . Describáse un arco con centro en  $A$ , y con un radio igual a  $b$  (el lado opuesto al ángulo dado). Las figuras (a)-(e) ilustran los casos especiales que pueden ocurrir cuando el ángulo dado  $B$  es agudo, y las figuras (f)-(g) ilustran los casos en que  $B$  es obtuso.

El ángulo dado  $B$  es agudo.

Fig. (a). Cuando  $b < AD = c \operatorname{sen} B$ , el arco no corta a  $BX$  y, en consecuencia, no se determina triángulo alguno.

Fig. (b). Cuando  $b = AD$ , el arco es tangente a  $BX$  y queda determinado un triángulo rectángulo cuyo ángulo recto es  $C$ .

Fig. (c). Cuando  $b > AD$  y  $b < c$ , el arco corta a  $BX$  en dos puntos,  $C$  y  $C'$  a un mismo lado de  $B$ . Se determinan dos triángulos:  $ABC$ , en el que  $C$  es agudo, y  $ABC'$ , en el que  $C' = 180 - C$  es obtuso.

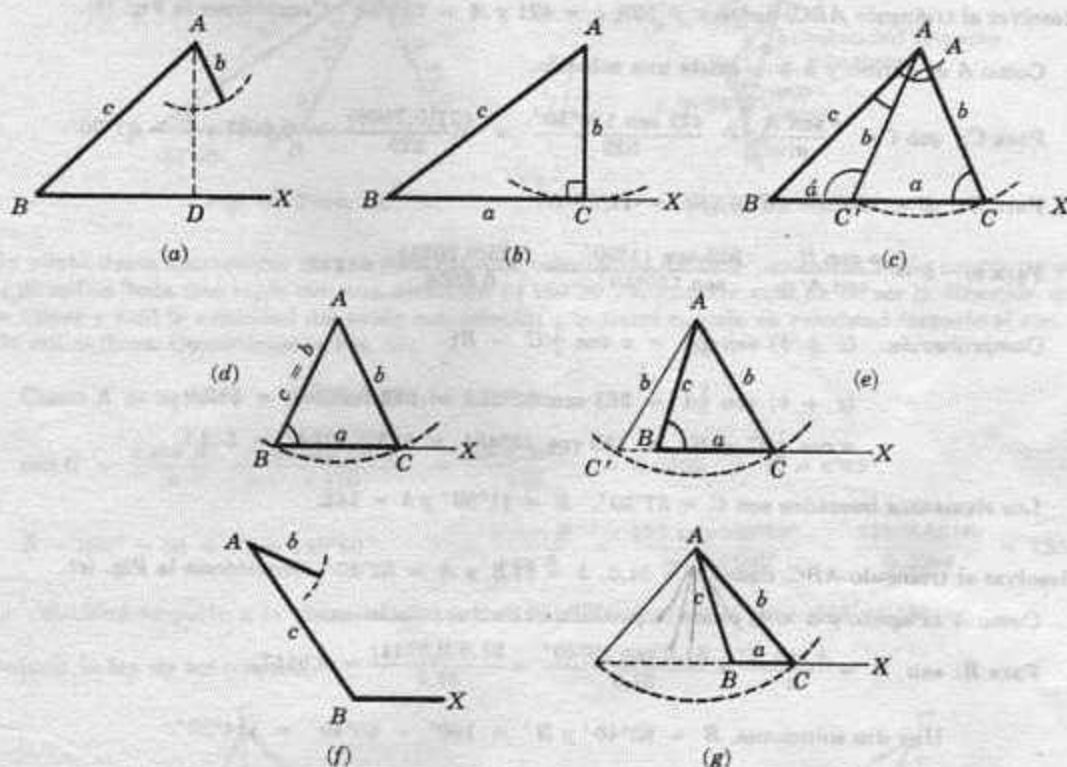
Fig. (d). Cuando  $b > AD$  y  $b = c$ , el arco corta a  $BX$  en los puntos  $C$  y  $B$ . Queda determinado un triángulo (isósceles).

Fig. (e). Cuando  $b > c$ , el arco corta a  $BX$  en el punto  $C$  y corta la prolongación en sentido contrario de  $BX$  en el punto  $C'$ . Como el triángulo  $ABC'$  no contiene el ángulo dado  $B$ , queda determinado solamente el triángulo  $ABC$ .

*El ángulo dado es obtuso.*

Fig. (f). Cuando  $b < c$  ó  $b = c$ , no se determina triángulo alguno.

Fig. (g). Cuando  $b > c$ , se determina un solo triángulo como en la Fig. (e).



## CASO II.

10. Resolver el triángulo  $ABC$ , dados  $c = 628$ ,  $b = 480$  y  $C = 55^\circ 10'$ . Considérese la Fig. (a).

Como  $C$  es agudo y  $c > b$ , la solución es única.

$$\text{Para } B: \sin B = \frac{b \sin C}{c} = \frac{480 \sin 55^\circ 10'}{628} = \frac{480(0,8208)}{628} = 0,6274 \text{ y } B = 38^\circ 50'.$$

$$\text{Para } A: A = 180^\circ - (B + C) = 86^\circ 0'.$$

$$\text{Para } a: a = \frac{b \sin A}{\sin B} = \frac{480 \sin 86^\circ 0'}{\sin 38^\circ 50'} = \frac{480(0,9976)}{0,6271} = 764.$$

$$\text{Comprobación: } (a + b) \sin \frac{1}{2}C = c \cos \frac{1}{2}(A - B)$$

$$(a + b) \sin \frac{1}{2}C = 1244 \sin 27^\circ 35' = 1244(0,4630) = 576,0$$

$$c \cos \frac{1}{2}(A - B) = 628 \cos 23^\circ 35' = 628(0,9165) = 575,6.$$

Si se prefiere, puede utilizarse para la comprobación una fórmula de proyección.

Los elementos buscados son  $B = 38^\circ 50'$ ,  $A = 86^\circ 0'$  y  $a = 764$ .

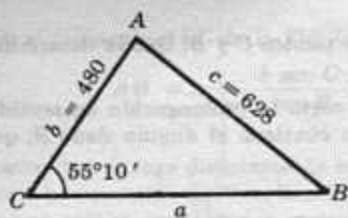


Fig. (a) Prob. 10

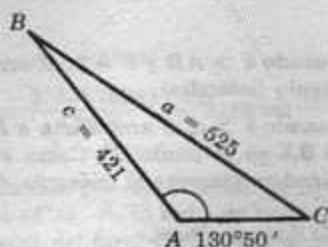


Fig. (b) Prob. 11

11. Resolver el triángulo  $ABC$ , dados  $a = 525$ ,  $c = 421$  y  $A = 130^\circ 50'$ . Considérese la Fig. (b).

Como  $A$  es obtuso y  $a > c$ , existe una solución.

$$\text{Para } C: \sin C = \frac{c \operatorname{sen} A}{a} = \frac{421 \operatorname{sen} 130^\circ 50'}{525} = \frac{421(0,7566)}{525} = 0,6067 \text{ y } C = 37^\circ 20'.$$

$$\text{Para } B: B = 180^\circ - (C + A) = 11^\circ 50'.$$

$$\text{Para } b: b = \frac{a \operatorname{sen} B}{\operatorname{sen} A} = \frac{525 \operatorname{sen} 11^\circ 50'}{\operatorname{sen} 130^\circ 50'} = \frac{525(0,2051)}{0,7566} = 142.$$

$$\text{Comprobación: } (c + b) \operatorname{sen} \frac{1}{2}A = a \cos \frac{1}{2}(C - B)$$

$$(c + b) \operatorname{sen} \frac{1}{2}A = 563 \operatorname{sen} 65^\circ 25' = 563(0,9094) = 512,0$$

$$a \cos \frac{1}{2}(C - B) = 525 \cos 12^\circ 45' = 525(0,9754) = 512,1.$$

Los elementos buscados son  $C = 37^\circ 20'$ ,  $B = 11^\circ 50'$  y  $b = 142$ .

12. Resolver el triángulo  $ABC$ , dados  $a = 31,5$ ,  $b = 51,8$  y  $A = 33^\circ 40'$ . Considérese la Fig. (c).

Como  $A$  es agudo y  $a < b$ , existe la posibilidad de dos soluciones.

$$\text{Para } B: \sin B = \frac{b \operatorname{sen} A}{a} = \frac{51,8 \operatorname{sen} 33^\circ 40'}{31,5} = \frac{51,8(0,5544)}{31,5} = 0,9117.$$

$$\text{Hay dos soluciones, } B = 65^\circ 40' \text{ y } B' = 180^\circ - 65^\circ 40' = 114^\circ 20'.$$

$$\text{Para } C: C = 180^\circ - (A + B) = 80^\circ 40'. \quad \text{Para } C': C' = 180^\circ - (A + B') = 32^\circ 0'.$$

$$\text{Para } c: c = \frac{a \operatorname{sen} C}{\operatorname{sen} A} = \frac{31,5 \operatorname{sen} 80^\circ 40'}{\operatorname{sen} 33^\circ 40'} \quad \text{Para } c': c' = \frac{a \operatorname{sen} C'}{\operatorname{sen} A} = \frac{31,5 \operatorname{sen} 32^\circ 0'}{\operatorname{sen} 33^\circ 40'}$$

$$= \frac{31,5(0,9868)}{0,5544} = 56,1.$$

$$= \frac{31,5(0,5299)}{0,5544} = 30,1.$$

$$\text{Comprobación: } (c + b) \operatorname{sen} \frac{1}{2}A = a \cos \frac{1}{2}(C - B)$$

$$(c + b) \operatorname{sen} \frac{1}{2}A = 107,9 \operatorname{sen} 16^\circ 50' \\ = 107,9(0,2896) \\ = 31,25$$

$$a \cos \frac{1}{2}(C - B) = 31,5 \cos 7^\circ 30' \\ = 31,5(0,9914) \\ = 31,23.$$

$$\text{Comprobación: } (b + c') \operatorname{sen} \frac{1}{2}A = a \cos \frac{1}{2}(B' - C')$$

$$(b + c') \operatorname{sen} \frac{1}{2}A = 81,9 \operatorname{sen} 16^\circ 50' \\ = 81,9(0,2896) \\ = 23,72$$

$$\begin{aligned} a \cos \frac{1}{2}(B' - C') &= 31,5 \cos 41^{\circ}10' \\ &= 31,5(0,7528) \\ &= 23,71. \end{aligned}$$

Los elementos buscados son

en el triángulo  $ABC$ :  $B = 65^{\circ}40'$ ,  $C = 80^{\circ}40'$  y  $c = 56,1$ .

en el triángulo  $ABC'$ :  $B' = 114^{\circ}20'$ ,  $C' = 32^{\circ}0'$  y  $c' = 30,1$ .

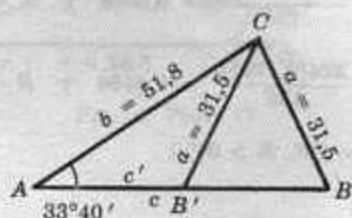


Fig. (c) Prob. 12



Fig. (d) Prob. 13

13. Un piloto desea mantenerse en una ruta con una orientación de  $15^{\circ}$ , mientras vuela contra un viento de 25 millas/hora que sopla con una dirección de  $160^{\circ}30'$ . Encontrar cuál ha de ser la dirección que ha de tomar y cuál la velocidad del avión con relación a la tierra cuando su velocidad respecto al aire es de 175 millas/hora. Considérese la Fig. (d).

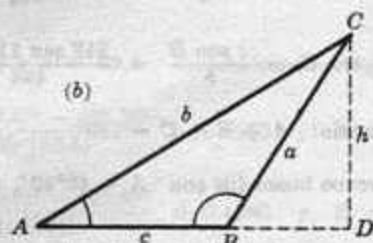
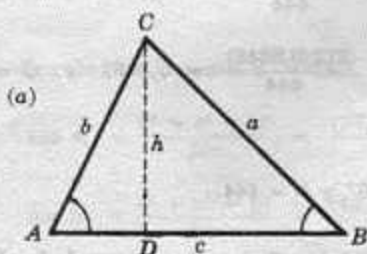
Como  $A$  es agudo y  $a > c$ , existe una solución.

$$\text{sen } C = \frac{c \text{ sen } A}{a} = \frac{25 \text{ sen } 34^{\circ}30'}{175} = \frac{25(0,5664)}{175} = 0,0809 \text{ y } C = 4^{\circ}40'.$$

$$B = 180^{\circ} - (A + C) = 140^{\circ}50'. \quad b = \frac{a \text{ sen } B}{\text{sen } A} = \frac{175 \text{ sen } 140^{\circ}50'}{\text{sen } 34^{\circ}30'} = \frac{175(0,6316)}{0,5664} = 195.$$

La velocidad respecto a la tierra ha de ser de 195 millas/hora y la dirección de  $19^{\circ}40'$ .

14. Deducir la ley de los cosenos.



En el triángulo rectángulo  $ACD$  de cualquiera de las dos figuras,  $b^2 = h^2 + (AD)^2$ .

En el triángulo rectángulo  $BCD$  de la Fig. (a),  $h = a \text{ sen } B$  y  $DB = a \text{ cos } B$ .

Entonces

$$AD = AB - DB = c - a \text{ cos } B$$

$$\begin{aligned} \text{y } b^2 &= h^2 + (AD)^2 = a^2 \text{ sen}^2 B + c^2 - 2ca \text{ cos } B + a^2 \text{ cos}^2 B \\ &= a^2(\text{sen}^2 B + \text{cos}^2 B) + c^2 - 2ca \text{ cos } B = c^2 + a^2 - 2ca \text{ cos } B. \end{aligned}$$

En el triángulo rectángulo  $BCD$  de la Fig. (b),

$$\begin{aligned} h &= a \text{ sen } \angle CBD = a \text{ sen}(180^{\circ} - B) = a \text{ sen } B \text{ y} \\ BD &= a \text{ cos } \angle CBD = a \text{ cos}(180^{\circ} - B) = -a \text{ cos } B \end{aligned}$$

Entonces  $AD = AB + BD = c - a \text{ cos } B$  y  $b^2 = c^2 + a^2 - 2ca \text{ cos } B$ .

Las otras relaciones pueden obtenerse mediante un cambio cíclico de las letras.

## CASO III.

15. Resolver el triángulo  $ABC$ , dados  $a = 132$ ,  $b = 224$  y  $C = 28^{\circ}40'$ . Considérese la Fig. (c).

$$\begin{aligned} \text{Para } c: \quad c^2 &= a^2 + b^2 - 2ab \cos C \\ &= (132)^2 + (224)^2 - 2(132)(224) \cos 28^{\circ}40' \\ &= (132)^2 + (224)^2 - 2(132)(224)(0,8774) = 15714 \quad \text{y } c = 125. \end{aligned}$$

$$\text{Para } A: \quad \sin A = \frac{a \sin C}{c} = \frac{132 \sin 28^{\circ}40'}{125} = \frac{132(0,4797)}{125} = 0,5066 \quad \text{y } A = 30^{\circ}30'.$$

$$\text{Para } B: \quad \sin B = \frac{b \sin C}{c} = \frac{224 \sin 28^{\circ}40'}{125} = \frac{224(0,4797)}{125} = 0,8596 \quad \text{y } B = 120^{\circ}40'.$$

(Como  $b > a$ ,  $A$  es agudo; como  $A + C < 90^{\circ}$ ,  $B > 90^{\circ}$ .)

Comprobación:  $A + B + C = 179^{\circ}50'$ .

Los elementos buscados son  $A = 30^{\circ}30'$ ,  $B = 120^{\circ}40'$ ,  $c = 125$ .

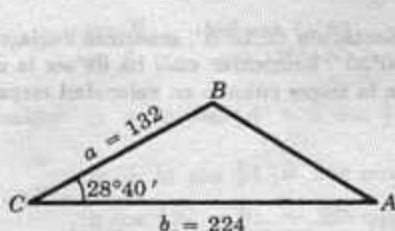


Fig. (c) Prob. 15

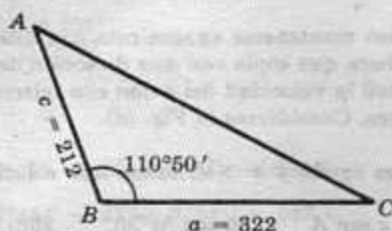


Fig. (d) Prob. 16

16. Resolver el triángulo  $ABC$ , dados  $a = 322$ ,  $c = 212$  y  $B = 110^{\circ}50'$ . Considérese la Fig. (d).

$$\begin{aligned} \text{Para } b: \quad b^2 &= c^2 + a^2 - 2ca \cos B \quad [\cos 110^{\circ}50' = -\cos(180^{\circ} - 110^{\circ}50') = -\cos 69^{\circ}10'] \\ &= (212)^2 + (322)^2 - 2(212)(322)(-0,3557) = 197191 \quad \text{y } b = 444. \end{aligned}$$

$$\text{Para } A: \quad \sin A = \frac{a \sin B}{b} = \frac{322 \sin 110^{\circ}50'}{444} = \frac{322(0,9346)}{444} = 0,6778 \quad \text{y } A = 42^{\circ}40'.$$

$$\text{Para } C: \quad \sin C = \frac{c \sin B}{b} = \frac{212 \sin 110^{\circ}50'}{444} = \frac{212(0,9346)}{444} = 0,4463 \quad \text{y } C = 26^{\circ}30'.$$

Comprobación:  $A + B + C = 180^{\circ}$ .

Los elementos buscados son  $A = 42^{\circ}40'$ ,  $C = 26^{\circ}30'$  y  $b = 444$ .

17. Sobre un cuerpo se ejercen dos fuerzas de 17,5 kg y 22,5 kg. Si las direcciones de las fuerzas forman un ángulo de  $50^{\circ}10'$ , encontrar la magnitud de la fuerza resultante y el ángulo que forma con la fuerza mayor.

Considérese la Fig. (e).

En el paralelogramo  $ABCD$ ,  $A + B = C + D = 180^{\circ}$  y  $B = 180^{\circ} - 50^{\circ}10' = 129^{\circ}50'$ .

En el triángulo  $ABC$ ,

$$\begin{aligned} b^2 &= c^2 + a^2 - 2ca \cos B \quad [\cos 129^{\circ}50' = -\cos(180^{\circ} - 129^{\circ}50') = -\cos 50^{\circ}10'] \\ &= (22,5)^2 + (17,5)^2 - 2(22,5)(17,5)(-0,6406) = 1317 \quad \text{y } b = 36,3. \end{aligned}$$

$$\sin A = \frac{a \sin B}{b} = \frac{17,5 \sin 129^{\circ}50'}{36,3} = \frac{17,5(0,7679)}{36,3} = 0,3702 \quad \text{y } A = 21^{\circ}40'.$$

La resultante es una fuerza de 36,3 kg; el ángulo buscado es de  $21^{\circ}40'$ .

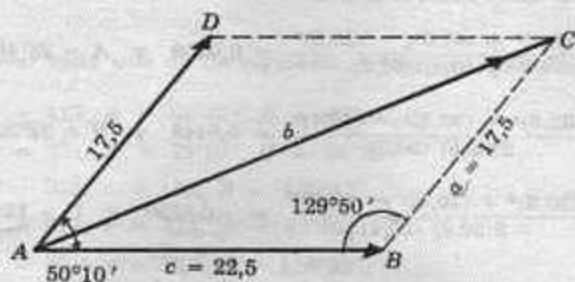


Fig. (e) Prob. 17

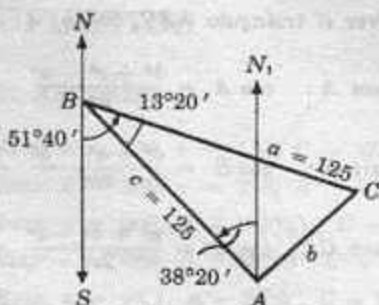


Fig. (f) Prob. 18

18. Un piloto sale de A y vuela 125 millas en dirección N 38°20' O. Trata, entonces, de regresar al punto de partida, pero, por un error, vuela 125 millas en dirección S 51°40' E. Calcular a qué distancia se encuentra de A y cuál ha de ser la dirección que ha de tomar ahora para llegar a A.

Considérese la Fig. (f).

Llámesese B al punto donde inicia el regreso, y C su posición final.

En el triángulo ABC,

$$\begin{aligned} b^2 &= c^2 + a^2 - 2ca \cos B \\ &= (125)^2 + (125)^2 - 2(125)(125) \cos 13^\circ 20' \\ &= 2(125)^2 (1 - 0,9730) = 843,7 \text{ y } b = 29,0. \end{aligned}$$

$$\operatorname{sen} A = \frac{a \operatorname{sen} B}{b} = \frac{125 \operatorname{sen} 13^\circ 20'}{29,0} = \frac{125(0,2306)}{29,0} = 0,9940 \text{ y } A = 83^\circ 40'.$$

Puesto que  $\angle CAN_1 = A - \angle N_1AB = 45^\circ 20'$ , el piloto debe volar 29,0 millas en dirección S 45°20' O para ir desde C hasta A.

#### CASO IV.

19. Resolver el triángulo ABC, dados  $a = 25,2$ ,  $b = 37,8$  y  $c = 43,4$ . Considérese la Fig. (g).

$$\text{Para } A: \cos A = \frac{b^2 + c^2 - a^2}{2bc} = \frac{(37,8)^2 + (43,4)^2 - (25,2)^2}{2(37,8)(43,4)} = 0,8160 \text{ y } A = 35^\circ 20'.$$

$$\text{Para } B: \cos B = \frac{c^2 + a^2 - b^2}{2ca} = \frac{(43,4)^2 + (25,2)^2 - (37,8)^2}{2(43,4)(25,2)} = 0,4982 \text{ y } B = 60^\circ 10'.$$

$$\text{Para } C: \cos C = \frac{a^2 + b^2 - c^2}{2ab} = \frac{(25,2)^2 + (37,8)^2 - (43,4)^2}{2(25,2)(37,8)} = 0,0947 \text{ y } C = 84^\circ 30'.$$

Comprobación:  $A + B + C = 180^\circ$ .

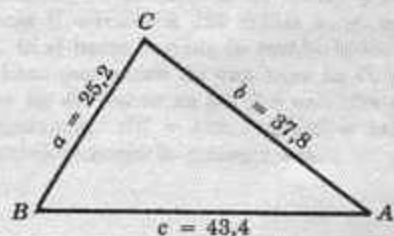


Fig. (g) Prob. 19

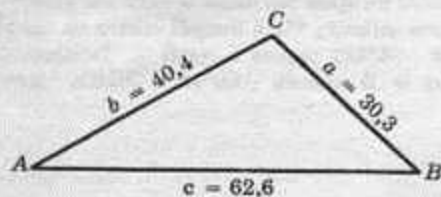


Fig. (h) Prob. 20

20. Resolver el triángulo  $ABC$ , dados  $a = 30,3$ ,  $b = 40,4$  y  $c = 62,6$ . Considérese la Fig. (h).

$$\text{Para } A: \cos A = \frac{b^2 + c^2 - a^2}{2bc} = \frac{(40,4)^2 + (62,6)^2 - (30,3)^2}{2(40,4)(62,6)} = 0,9159 \text{ y } A = 23^\circ 40'.$$

$$\text{Para } B: \cos B = \frac{c^2 + a^2 - b^2}{2ca} = \frac{(62,6)^2 + (30,3)^2 - (40,4)^2}{2(62,6)(30,3)} = 0,8448 \text{ y } B = 32^\circ 20'.$$

$$\text{Para } C: \cos C = \frac{a^2 + b^2 - c^2}{2ab} = \frac{(30,3)^2 + (40,4)^2 - (62,6)^2}{2(30,3)(40,4)} = -0,5590 \text{ y } C = 124^\circ 0'.$$

Comprobación:  $A + B + C = 180^\circ$ .

21. Es necesario conocer las distancias desde un punto  $C$  hasta dos puntos  $A$  y  $B$ , pero estas distancias no pueden medirse directamente. El segmento  $CA$  se prolonga 175 m hasta un punto  $D$ ; el segmento  $CB$  se prolonga 225 m hasta el punto  $E$ . Se miden las distancias  $AB = 300$  m,  $DB = 326$  m y  $DE = 488$  m. Encontrar  $AC$  y  $BC$ .

Los elementos buscados del triángulo  $ABC$  pueden encontrarse una vez que se hayan calculado los ángulos  $\angle BAC$  y  $\angle ABC$ . El primer ángulo es el suplemento de  $\angle BAD$  y el segundo es el suplemento de la suma de  $\angle ABD$  y  $\angle DBE$ .

En el triángulo  $ABD$ , cuyos lados son conocidos,

$$\cos \angle BAD = \frac{(175)^2 + (300)^2 - (326)^2}{2(175)(300)} = 0,1367 \text{ y}$$

$$\angle BAD = 82^\circ 10'.$$

$$\cos \angle ABD = \frac{(300)^2 + (326)^2 - (175)^2}{2(300)(326)} = 0,8469 \text{ y}$$

$$\angle ABD = 32^\circ 10'.$$

En el triángulo  $BDE$ , cuyos lados son conocidos,

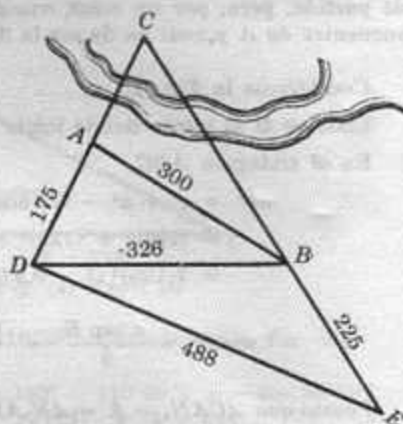
$$\cos \angle DBE = \frac{(225)^2 + (326)^2 - (488)^2}{2(225)(326)} = -0,5538 \text{ y } \angle DBE = 123^\circ 40'.$$

En el triángulo  $ABC$ :  $AB = 300$ ,  $\angle BAC = 180^\circ - \angle BAD = 97^\circ 50'$ ,  
 $\angle ABC = 180^\circ - (\angle ABD + \angle DBE) = 24^\circ 10'$ ,  
 $\angle ACB = 180^\circ - (\angle BAC + \angle ABC) = 58^\circ 0'$ .

$$\text{Entonces } AC = \frac{AB \operatorname{sen} \angle ABC}{\operatorname{sen} \angle ACB} = \frac{300 \operatorname{sen} 24^\circ 10'}{\operatorname{sen} 58^\circ 0'} = \frac{300(0,4094)}{0,8480} = 145$$

$$\text{y } BC = \frac{AB \operatorname{sen} \angle BAC}{\operatorname{sen} \angle ACB} = \frac{300 \operatorname{sen} 97^\circ 50'}{\operatorname{sen} 58^\circ 0'} = \frac{300(0,9907)}{0,8480} = 350.$$

Las distancias buscadas son  $AC = 145$  m y  $BC = 350$  m.



## PROBLEMAS PROPUESTOS

Resolver cada uno de los siguientes triángulos oblicuángulos  $ABC$ , dados:

22.  $a = 125$ ,  $A = 54^{\circ}40'$ ,  $B = 65^{\circ}10'$ . *Resp.*  $b = 139$ ,  $c = 133$ ,  $C = 60^{\circ}10'$
23.  $b = 321$ ,  $A = 75^{\circ}20'$ ,  $C = 38^{\circ}30'$ . *Resp.*  $a = 339$ ,  $c = 218$ ,  $B = 66^{\circ}10'$
24.  $b = 215$ ,  $c = 150$ ,  $B = 42^{\circ}40'$ . *Resp.*  $a = 300$ ,  $A = 109^{\circ}10'$ ,  $C = 28^{\circ}10'$
25.  $a = 512$ ,  $b = 428$ ,  $A = 48^{\circ}50'$ . *Resp.*  $c = 680$ ,  $B = 38^{\circ}50'$ ,  $C = 92^{\circ}20'$
26.  $b = 50,4$ ,  $c = 33,3$ ,  $B = 118^{\circ}30'$ . *Resp.*  $a = 25,1$ ,  $A = 26^{\circ}0'$ ,  $C = 35^{\circ}30'$
27.  $b = 40,2$ ,  $a = 31,5$ ,  $B = 112^{\circ}20'$ . *Resp.*  $c = 15,7$ ,  $A = 46^{\circ}30'$ ,  $C = 21^{\circ}10'$
28.  $b = 51,5$ ,  $a = 62,5$ ,  $B = 40^{\circ}40'$ . *Resp.*  $c = 78,9$ ,  $A = 52^{\circ}20'$ ,  $C = 87^{\circ}0'$   
 $c' = 16,0$ ,  $A' = 127^{\circ}40'$ ,  $C' = 11^{\circ}40'$
29.  $a = 320$ ,  $c = 475$ ,  $A = 35^{\circ}20'$ . *Resp.*  $b = 552$ ,  $B = 85^{\circ}30'$ ,  $C = 59^{\circ}10'$   
 $b' = 224$ ,  $B' = 23^{\circ}50'$ ,  $C' = 120^{\circ}50'$
30.  $b = 120$ ,  $c = 270$ ,  $A = 118^{\circ}40'$ . *Resp.*  $a = 344$ ,  $B = 17^{\circ}50'$ ,  $C = 43^{\circ}30'$
31.  $a = 24,5$ ,  $b = 18,6$ ,  $c = 26,4$ . *Resp.*  $A = 63^{\circ}10'$ ,  $B = 42^{\circ}40'$ ,  $C = 74^{\circ}10'$
32.  $a = 6,34$ ,  $b = 7,30$ ,  $c = 9,98$ . *Resp.*  $A = 39^{\circ}20'$ ,  $B = 46^{\circ}50'$ ,  $C = 93^{\circ}50'$
33. Dos barcos tienen equipos de radio cuyo alcance es de 200 millas. Uno de los barcos se encuentra a 155 millas  $N 42^{\circ}40' E$  de una estación costera, y el otro se encuentra a 165 millas  $N 45^{\circ}10' O$  de la misma estación. ¿Pueden los dos barcos comunicarse entre sí directamente?  
*Resp.* No; la distancia entre ellos es de 222 millas
34. Un barco navega 15,0 millas en dirección  $S 40^{\circ}10' O$  y, después, 21,0 millas en dirección  $N 28^{\circ}20' O$ . Encontrar a qué distancia está del punto de partida y cuál es su orientación respecto a dicho punto.  
*Resp.* 20,9 millas,  $N 70^{\circ}40' O$
35. Un faro está situado a 10 millas al noroeste de un muelle. Un barco sale del muelle a las 9 a.m. y navega hacia el oeste a razón de 12 millas por hora. ¿A qué hora se encontrará a 8 millas del faro?  
*Resp.* A las 9:16 a.m. y a las 9:54 a.m.
36. La magnitud de la resultante de dos fuerzas de 115 kg y 215 kg es de 275 kg. Encontrar el ángulo formado por las direcciones de las fuerzas componentes. *Resp.*  $70^{\circ}50'$
37. Una torre de 150 pies de altura está situada en lo alto de una colina. En un punto, en la falda de la colina, situado a 650 pies de la cima se observa que el ángulo formado por la ladera de la colina y la visual dirigida al extremo superior de la torre es de  $12^{\circ}30'$ . Encontrar la inclinación de la ladera de la colina respecto a un plano horizontal. *Resp.*  $7^{\circ}50'$
38. Tres circunferencias, cuyos radios respectivos miden 115, 150 y 225 cm, son tangentes exteriores entre sí. Encontrar los ángulos que se forman cuando se unen los centros de las circunferencias.  
*Resp.*  $43^{\circ}10'$ ,  $61^{\circ}20'$ ,  $75^{\circ}30'$
39. Se supone que un barco que sale de  $A$  y que toma un rumbo de  $255^{\circ}$ , ha de llegar a  $D$ , situado a 525 millas de  $A$ , al cabo de 25 horas. Cuando el barco ha recorrido 125 millas, recibe la orden de dirigirse hacia  $C$ , situado a 225 millas de  $A$ , en dirección  $S 60^{\circ}20' O$ , y hacer una escala antes de seguir hacia  $D$ . Si el barco cambia de rumbo inmediatamente, mantiene durante el resto del viaje su velocidad inicial y hace una escala de una hora en  $C$ , ¿con cuántas horas de atraso llegará a  $D$ ? ¿Cuáles son los rumbos que ha de tomar en los dos cambios de dirección efectuados? *Resp.* 2 horas;  $223^{\circ}30'$ ,  $265^{\circ}30'$   
Sugerencia:  $BC = 109$ ,  $\angle ABC = 148^{\circ}30'$ ;  $CD = 312$ ,  $\angle BDC = 10^{\circ}30'$ , siendo  $B$  el punto donde cambió el curso la primera vez.



## Resolución logarítmica de triángulos oblicuángulos

CASO I. Dados dos ángulos y un lado.

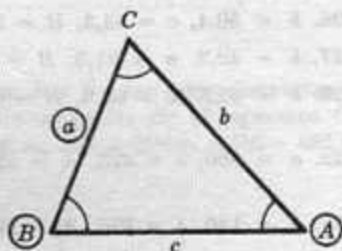
Se resuelve el triángulo mediante la relación angular  $A + B + C = 180^\circ$ , y una doble aplicación de la ley de los senos. La solución se comprueba por una de las fórmulas de Mollweide.

EJEMPLO 1. Sean dados  $a$ ,  $A$  y  $B$ . Entonces,

$$C = 180^\circ - (A + B), \quad b = \frac{a \operatorname{sen} B}{\operatorname{sen} A}, \quad c = \frac{a \operatorname{sen} C}{\operatorname{sen} A}.$$

Comprobación:  $(b + c) \operatorname{sen} \frac{1}{2}A = a \cos \frac{1}{2}(B - C)$ , si  $B > C$ ;

$$\text{ó } (c + b) \operatorname{sen} \frac{1}{2}A = a \cos \frac{1}{2}(C - B), \text{ si } C > B.$$



(Véanse los problemas 1-3.)

CASO II. Dados dos lados y el ángulo opuesto a uno de ellos.

Se resuelve el triángulo mediante la ley de los senos y la relación angular. La solución se comprueba por una de las fórmulas de Mollweide.

EJEMPLO 2. Sean dados  $a$ ,  $b$  y  $A$ , donde  $a < b$ . Entonces,

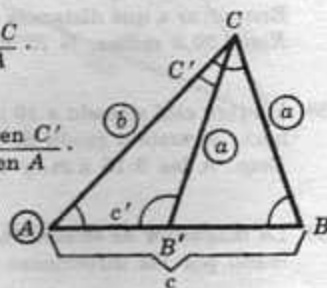
$$\operatorname{sen} B = \frac{b \operatorname{sen} A}{a}, \quad C = 180^\circ - (A + B), \quad c = \frac{a \operatorname{sen} C}{\operatorname{sen} A}.$$

Cuando hay dos soluciones,

$$B' = 180^\circ - B, \quad C' = 180^\circ - (A + B'), \quad c' = \frac{a \operatorname{sen} C'}{\operatorname{sen} A}.$$

Comprobación:  $(b + a) \operatorname{sen} \frac{1}{2}C = c \cos \frac{1}{2}(B - A)$ ,

$$(b + a) \operatorname{sen} \frac{1}{2}C' = c' \cos \frac{1}{2}(B' - A).$$



(Véanse los problemas 4-5.)

LEY DE LAS TANGENTES. La ley de los cosenos, estudiada en el capítulo anterior, no se adapta a los cálculos con logaritmos. Para resolver el caso III, se utiliza la ley de las tangentes

$$\frac{a - b}{a + b} = \frac{\tan \frac{1}{2}(A - B)}{\tan \frac{1}{2}(A + B)}, \quad \frac{b - c}{b + c} = \frac{\tan \frac{1}{2}(B - C)}{\tan \frac{1}{2}(B + C)}, \quad \frac{c - a}{c + a} = \frac{\tan \frac{1}{2}(C - A)}{\tan \frac{1}{2}(C + A)}.$$

En el problema 6 se encuentra la demostración de esta ley.

Nota. Si, por ejemplo,  $b > a$  es más conveniente intercambiar las letras  $a$  y  $b$  (también  $A$  y  $B$ ) en la primera fórmula.

CASO III. Dados dos lados y el ángulo comprendido.

En la resolución del triángulo se utiliza la ley de las tangentes para encontrar los ángulos desconocidos. Después se aplica la ley de los senos para encontrar el lado desconocido. Se comprueba la solución mediante una de las fórmulas de Mollweide.

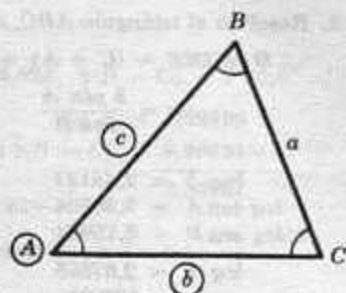
EJEMPLO 3. Sean dados  $c > b$  y  $A$ . Entonces,

$$\frac{1}{2}(C + B) = 90^\circ - \frac{1}{2}A,$$

$$\tan \frac{1}{2}(C - B) = \frac{c - b}{c + b} \tan \frac{1}{2}(C + B), \quad a = \frac{c \operatorname{sen} A}{\operatorname{sen} C}.$$

Comprobación:  $(c + b) \operatorname{sen} \frac{1}{2}A = a \cos \frac{1}{2}(C - B)$ .

(Véanse los problemas 7-9.)



FORMULAS DEL ANGULO MITAD. En todo triángulo  $ABC$ ,

$$\tan \frac{1}{2}A = \frac{r}{s - a}, \quad \tan \frac{1}{2}B = \frac{r}{s - b}, \quad \tan \frac{1}{2}C = \frac{r}{s - c}$$

donde  $s = \frac{1}{2}(a + b + c)$  es el semi-perímetro del triángulo

y  $r = \sqrt{\frac{(s - a)(s - b)(s - c)}{s}}$  es el radio de la circunferencia inscrita.

En el problema 10 se encuentran las demostraciones de estas fórmulas. Para la identificación de  $r$ , véase el problema 8, del capítulo 15.

CASO IV. Dados los tres lados.

Se resuelve mediante las fórmulas del ángulo mitad, y se comprueba la solución por medio de la relación angular.

(Véanse los problemas 11-12.)

## PROBLEMAS RESUELTOS

CASO I.

1. Resolver el triángulo  $ABC$ , dados  $a = 38,124$ ,  $A = 46^\circ 31,8'$  y  $C = 79^\circ 17,4'$ .

$$B = 180^\circ - (A + C) = 54^\circ 10,8'.$$

$$c = \frac{a \operatorname{sen} C}{\operatorname{sen} A}$$

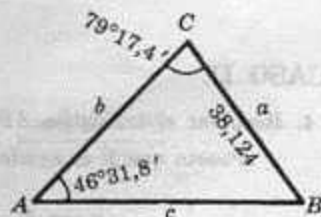
$$b = \frac{a \operatorname{sen} B}{\operatorname{sen} A}$$

$$\begin{aligned} \log a &= 1,58120 \\ \log \operatorname{sen} C &= 9,99237 - 10 \\ \operatorname{colog} \operatorname{sen} A &= 0,13922 \end{aligned}$$

$$\begin{aligned} \log c &= 1,71279 \\ c &= 51,617 \end{aligned}$$

$$\begin{aligned} \log a &= 1,58120 \\ \log \operatorname{sen} B &= 9,90894 - 10 \\ \operatorname{colog} \operatorname{sen} A &= 0,13922 \end{aligned}$$

$$\begin{aligned} \log b &= 1,62936 \\ b &= 42,595 \end{aligned}$$



Comprobación:

$$(c + b) \operatorname{sen} \frac{1}{2}A = a \cos \frac{1}{2}(C - B)$$

$$c + b = 94,212, \quad \frac{1}{2}A = 23^\circ 15,9'$$

$$\log(c + b) = 1,97411$$

$$\log \operatorname{sen} \frac{1}{2}A = 9,59658 - 10$$

$$\hline 1,57069$$

$$a = 38,124, \quad \frac{1}{2}(C - B) = 12^\circ 33,3'$$

$$\log a = 1,58120$$

$$\log \cos \frac{1}{2}(C - B) = 9,98949 - 10$$

$$\hline 1,57069$$

2. Resolver el triángulo  $ABC$ , dados  $b = 282,66$ ,  $A = 111^{\circ}42,7'$  y  $C = 24^{\circ}25,8'$ .

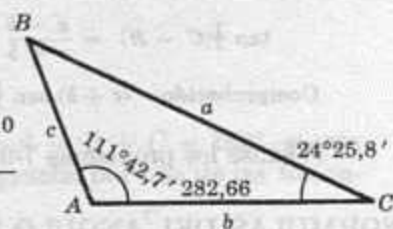
$$B = 180^{\circ} - (C + A) = 43^{\circ}51,5'$$

$$a = \frac{b \operatorname{sen} A}{\operatorname{sen} B}$$

$$c = \frac{b \operatorname{sen} C}{\operatorname{sen} B}$$

$$\begin{array}{l} \log b = 2,45127 \\ \log \operatorname{sen} A = 9,96804 - 10 \\ \operatorname{colog} \operatorname{sen} B = 0,15934 \\ \hline \log a = 2,57865 \\ a = 379,01 \end{array}$$

$$\begin{array}{l} \log b = 2,45127 \\ \log \operatorname{sen} C = 9,61656 - 10 \\ \operatorname{colog} \operatorname{sen} B = 0,15934 \\ \hline \log c = 2,22717 \\ c = 168,72 \end{array}$$



Comprobación:

$$(a + c) \operatorname{sen} \frac{1}{2}B = b \cos \frac{1}{2}(A - C)$$

$$a + c = 547,73, \quad \frac{1}{2}B = 21^{\circ}55,8'$$

$$b = 282,66, \quad \frac{1}{2}(A - C) = 43^{\circ}38,4'$$

$$\log(a + c) = 2,73856$$

$$\log b = 2,45127$$

$$\log \operatorname{sen} \frac{1}{2}B = 9,57226 - 10$$

$$\log \cos \frac{1}{2}(A - C) = 9,85955 - 10$$

$$\hline 2,31082$$

$$\hline 2,31082$$

3. A partir de un punto  $P$ , un agrimensor camina a lo largo de una recta  $PQ$ , cuya dirección es  $S 38^{\circ}42,4' E$ , hasta encontrar un pantano. Al llegar al punto  $A$ , en la orilla del pantano, cambia su dirección hacia  $N 61^{\circ}0,0' E$  y recorre  $1500,0$  m hasta un punto  $B$ . Desde este punto localiza la otra orilla del pantano en una dirección  $S 10^{\circ}30,6' O$ . Si esta recta corta a  $PQ$  en el punto  $C$ , encontrar la distancia entre  $B$  y  $C$ , el ángulo que debe girar desde  $BC$  para continuar su recorrido sobre la recta original, y la distancia  $AC$  a través del pantano.

En el triángulo  $ABC$ ,

$$A = 80^{\circ}17,6', \quad B = 50^{\circ}29,4' \text{ y } c = 1500,0 \text{ m.}$$

$$\text{Entonces } C = 180^{\circ} - (A + B) = 49^{\circ}13,0'.$$

$$a = \frac{c \operatorname{sen} A}{\operatorname{sen} C}$$

$$b = \frac{c \operatorname{sen} B}{\operatorname{sen} C}$$

$$\begin{array}{l} \log c = 3,17609 \\ \log \operatorname{sen} A = 9,99374 - 10 \\ \operatorname{colog} \operatorname{sen} C = 0,12080 \\ \hline \log a = 3,29063 \\ a = 1952,7 \end{array}$$

$$\begin{array}{l} \log c = 3,17609 \\ \log \operatorname{sen} B = 9,88734 - 10 \\ \operatorname{colog} \operatorname{sen} C = 0,12080 \\ \hline \log b = 3,18423 \\ b = 1528,4 \end{array}$$



La distancia desde  $B$  hasta  $C$  es de  $1528,7$  m. El ángulo que el agrimensor debe girar al llegar a  $C$  es  $\angle BCQ = 180^{\circ} - \angle ACB = 130^{\circ}47,0'$ . La distancia a través del pantano es de  $1528,4$  m.

## CASO II.

4. Resolver el triángulo  $ABC$ , dados  $b = 67,246$ ,  $c = 56,915$  y  $B = 65^{\circ}15,8'$ .

Puesto que  $B$  es agudo y  $b > c$ , la solución es única.

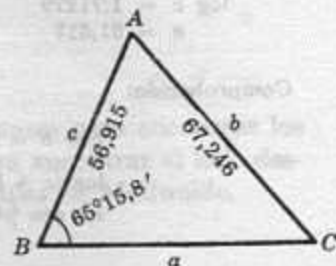
$$\operatorname{sen} C = \frac{c \operatorname{sen} B}{b}$$

$$a = \frac{b \operatorname{sen} A}{\operatorname{sen} B}$$

$$\begin{array}{l} \log c = 1,75522 \\ \log \operatorname{sen} B = 9,95820 - 10 \\ \operatorname{colog} b = 8,17233 - 10 \\ \hline \log \operatorname{sen} C = 9,88575 - 10 \\ C = 50^{\circ}14,2' \end{array}$$

$$\begin{array}{l} \log b = 1,82767 \\ \log \operatorname{sen} A = 9,95549 - 10 \\ \operatorname{colog} \operatorname{sen} B = 0,04180 \\ \hline \log a = 1,82496 \\ a = 66,828 \end{array}$$

$$\begin{array}{l} A = 180^{\circ} - (B + C) = 64^{\circ}30,0' \end{array}$$



Comprobación:  $(b + c) \operatorname{sen} \frac{1}{2}A = a \cos \frac{1}{2}(B - C)$

$$b + c = 124,16, \frac{1}{2}A = 32^{\circ}15,0'$$

$$\log(b + c) = 2,09398$$

$$\log \operatorname{sen} \frac{1}{2}A = 9,72723 - 10$$

$$\hline 1,82121$$

$$a = 66,828, \frac{1}{2}(B - C) = 7^{\circ}30,8'$$

$$\log a = 1,82496$$

$$\log \cos \frac{1}{2}(B - C) = 9,99625 - 10$$

$$\hline 1,82121$$

5. Resolver el triángulo  $ABC$ , dados  $a = 123,20$ ,  $b = 155,37$ ,  $A = 16^{\circ}33,7'$ .

Puesto que  $A$  es agudo y  $a < b$ , pueden existir dos soluciones.

$$\operatorname{sen} B = \frac{b \operatorname{sen} A}{a}$$

$$\log b = 2,19137$$

$$\log \operatorname{sen} A = 9,45491 - 10$$

$$\operatorname{colog} a = 7,90939 - 10$$

$$\log \operatorname{sen} B = 9,55567 - 10$$

$$B = 21^{\circ}4,1'$$

$$C = 180^{\circ} - (A + B) = 142^{\circ}22,2'$$

$$c = \frac{a \operatorname{sen} C}{\operatorname{sen} A}$$

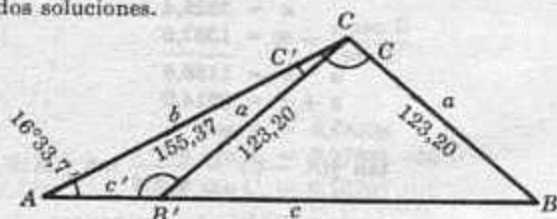
$$\log a = 2,09061$$

$$\log \operatorname{sen} C = 9,78573 - 10$$

$$\operatorname{colog} \operatorname{sen} A = 0,54509$$

$$\log c = 2,42143$$

$$c = 263,89$$



$$B' = 180^{\circ} - B = 158^{\circ}55,9'$$

$$C' = 180^{\circ} - (A + B') = 4^{\circ}30,4'$$

$$c' = \frac{a \operatorname{sen} C'}{\operatorname{sen} A}$$

$$\log a = 2,09061$$

$$\log \operatorname{sen} C' = 8,89528 - 10$$

$$\operatorname{colog} \operatorname{sen} A = 0,54509$$

$$\log c' = 1,53098$$

$$c' = 33,961$$

Comprobación:

$$(b + a) \operatorname{sen} \frac{1}{2}C = c \cos \frac{1}{2}(B - A)$$

$$b + a = 278,57, \frac{1}{2}C = 71^{\circ}11,1'$$

$$c = 263,89, \frac{1}{2}(B - A) = 2^{\circ}15,2'$$

$$\log(b + a) = 2,44494$$

$$\log \operatorname{sen} \frac{1}{2}C = 9,97615 - 10$$

$$\hline 2,42109$$

$$\log c = 2,42143$$

$$\log \cos \frac{1}{2}(B - A) = 9,99967 - 10$$

$$\hline 2,42110$$

Comprobación:

$$(b + a) \operatorname{sen} \frac{1}{2}C' = c' \cos \frac{1}{2}(B' - A)$$

$$b + a = 278,57, \frac{1}{2}C' = 2^{\circ}15,2'$$

$$c' = 33,961, \frac{1}{2}(B' - A) = 71^{\circ}11,1'$$

$$\log(b + a) = 2,44494$$

$$\log \operatorname{sen} \frac{1}{2}C' = 8,59459 - 10$$

$$\hline 1,03953$$

$$\log c' = 1,53098$$

$$\log \cos \frac{1}{2}(B' - A) = 9,50854 - 10$$

$$\hline 1,03952$$

6. Deducir la ley de las tangentes.

En todo triángulo  $ABC$  son válidas las fórmulas de Mollweide:

$$\frac{a - b}{c} = \frac{\operatorname{sen} \frac{1}{2}(A - B)}{\cos \frac{1}{2}C} \quad \text{y} \quad \frac{a + b}{c} = \frac{\cos \frac{1}{2}(A - B)}{\operatorname{sen} \frac{1}{2}C}$$

Al dividir la primera por la segunda se obtiene,

$$\frac{a - b}{c} \cdot \frac{c}{a + b} = \frac{\operatorname{sen} \frac{1}{2}(A - B)}{\cos \frac{1}{2}C} \cdot \frac{\operatorname{sen} \frac{1}{2}C}{\cos \frac{1}{2}(A - B)} = \tan \frac{1}{2}(A - B) \cdot \tan \frac{1}{2}C$$

Como  $C = 180^{\circ} - (A + B)$ ,  $\frac{1}{2}C = 90^{\circ} - \frac{1}{2}(A + B)$  y  $\tan \frac{1}{2}C = \cot \frac{1}{2}(A + B) = \frac{1}{\tan \frac{1}{2}(A + B)}$

Así, 
$$\frac{a - b}{a + b} = \tan \frac{1}{2}(A - B) \cdot \tan \frac{1}{2}C = \frac{\tan \frac{1}{2}(A - B)}{\tan \frac{1}{2}(A + B)}$$

Las otras dos expresiones se pueden obtener por un procedimiento semejante a éste, o por un intercambio cíclico de las letras que aparecen en la fórmula obtenida.

## CASO III.

7. Resolver el triángulo  $ABC$ , dados  $a = 2526,4$ ,  $c = 1387,6$ ,  $B = 54^{\circ}24,2'$ .

$$A + C = 180^{\circ} - B = 125^{\circ}35,8'$$

$$\frac{1}{2}(A + C) = 62^{\circ}47,9'$$

$$a = 2526,4$$

$$c = 1387,6$$

$$a - c = 1138,8$$

$$a + c = 3914,0$$

$$\tan \frac{1}{2}(A - C) = \frac{a - c}{a + c} \tan \frac{1}{2}(A + C)$$

$$\log(a - c) = 3,05644$$

$$\text{colog}(a + c) = 6,40738 - 10$$

$$\log \tan \frac{1}{2}(A + C) = 0,28907$$

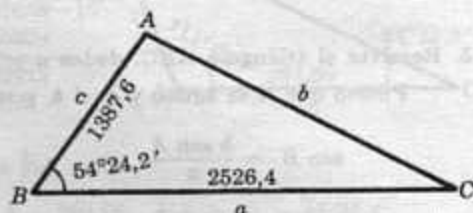
$$\log \tan \frac{1}{2}(A - C) = 9,75289 - 10$$

$$\frac{1}{2}(A - C) = 29^{\circ}30,8'$$

$$\frac{1}{2}(A + C) = 62^{\circ}47,9'$$

$$A = 92^{\circ}18,7'$$

$$C = 33^{\circ}17,1'$$



$$b = \frac{c \operatorname{sen} B}{\operatorname{sen} C}$$

$$\log c = 3,14227$$

$$\log \operatorname{sen} B = 9,91016 - 10$$

$$\text{colog} \operatorname{sen} C = 0,26058$$

$$\log b = 3,31301$$

$$b = 2056,0$$

Comprobación: Se deja al estudiante la comprobación de la solución mediante la fórmula de Mollweide,  $(a + c) \operatorname{sen} \frac{1}{2}B = b \cos \frac{1}{2}(A - C)$ .

8. Resolver el triángulo  $ABC$ , dados  $b = 472,12$ ,  $c = 607,44$ ,  $A = 125^{\circ}14,6'$ .

$$C + B = 180^{\circ} - A = 54^{\circ}45,4'$$

$$\frac{1}{2}(C + B) = 27^{\circ}22,7'$$

$$c = 607,44$$

$$b = 472,12$$

$$c - b = 135,32$$

$$c + b = 1079,56 = 1079,6$$

$$\tan \frac{1}{2}(C - B) = \frac{c - b}{c + b} \tan \frac{1}{2}(C + B)$$

$$\log(c - b) = 2,13136$$

$$\text{colog}(c + b) = 6,96674 - 10$$

$$\log \tan \frac{1}{2}(C + B) = 9,71422 - 10$$

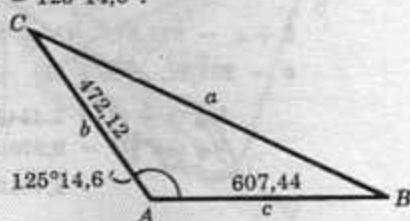
$$\log \tan \frac{1}{2}(C - B) = 8,81232 - 10$$

$$\frac{1}{2}(C - B) = 3^{\circ}42,8'$$

$$\frac{1}{2}(C + B) = 27^{\circ}22,7'$$

$$C = 31^{\circ}5,5'$$

$$B = 23^{\circ}39,9'$$



$$a = \frac{b \operatorname{sen} A}{\operatorname{sen} B}$$

$$\log b = 2,67405$$

$$\log \operatorname{sen} A = 9,91207 - 10$$

$$\text{colog} \operatorname{sen} B = 0,39644$$

$$\log a = 2,98256$$

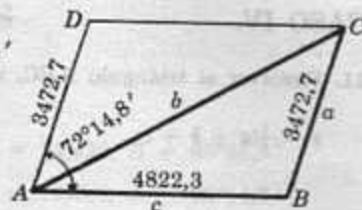
$$a = 960,64$$

Comprobación: Para comprobar la solución se utiliza la fórmula de Mollweide  $(c + b) \operatorname{sen} \frac{1}{2}A = a \cos \frac{1}{2}(C - B)$ .

9. Dos lados adyacentes de un paralelogramo miden 3472,7 y 4822,3 cm respectivamente y el ángulo comprendido mide  $72^{\circ}14,8'$ . Encontrar la longitud de la diagonal mayor.

En el triángulo  $ABC$ :  $B = 180^\circ - 72^\circ 14,8' = 107^\circ 45,2'$   
 $C + A = 72^\circ 14,8'$ ,  $\frac{1}{2}(C + A) = 36^\circ 7,4'$

$$\begin{aligned}c &= 4822,3 \\a &= 3472,7 \\c - a &= 1349,6 \\c + a &= 8295,0.\end{aligned}$$



$$\tan \frac{1}{2}(C - A) = \frac{c - a}{c + a} \tan \frac{1}{2}(C + A)$$

$$b = \frac{c \operatorname{sen} B}{\operatorname{sen} C}$$

$$\begin{aligned}\log(c - a) &= 3,13020 \\ \operatorname{colog}(c + a) &= 6,08118 - 10 \\ \log \tan \frac{1}{2}(C + A) &= 9,86322 - 10 \\ \log \tan \frac{1}{2}(C - A) &= 9,07460 - 10\end{aligned}$$

$$\begin{aligned}\log c &= 3,68326 \\ \log \operatorname{sen} B &= 9,97881 - 10 \\ \operatorname{colog} \operatorname{sen} C &= 0,16707 \\ \log b &= 3,82914 \\ b &= 6747,4 \text{ cm}\end{aligned}$$

$$\begin{aligned}\frac{1}{2}(C - A) &= 6^\circ 46,3' \\ \frac{1}{2}(C + A) &= 36^\circ 7,4' \\ C &= 42^\circ 53,7' \\ A &= 29^\circ 21,1'\end{aligned}$$

Comprobación:

$$(c + a) \operatorname{sen} \frac{1}{2}B = b \cos \frac{1}{2}(C - A)$$

$$\begin{aligned}\log(c + a) &= 3,91882 \\ \log \operatorname{sen} \frac{1}{2}B &= 9,90727 - 10 \\ &3,82609\end{aligned}$$

$$\begin{aligned}\log b &= 3,82914 \\ \log \cos \frac{1}{2}(C - A) &= 9,99696 - 10 \\ &3,82610\end{aligned}$$

10. Deducir las fórmulas del ángulo mitad.

Sea  $ABC$  un triángulo cualquiera. Entonces,  $\tan \frac{1}{2}A = \sqrt{\frac{1 - \cos A}{1 + \cos A}}$  puesto que  $\frac{1}{2}A$  es agudo.

Según la ley de los cosenos,  $\cos A = \frac{b^2 + c^2 - a^2}{2bc}$  de modo que

$$1 - \cos A = 1 - \frac{b^2 + c^2 - a^2}{2bc} = \frac{2bc - b^2 - c^2 + a^2}{2bc} = \frac{a^2 - (b - c)^2}{2bc} = \frac{(a - b + c)(a + b - c)}{2bc}$$

$$\text{y } 1 + \cos A = 1 + \frac{b^2 + c^2 - a^2}{2bc} = \frac{2bc + b^2 + c^2 - a^2}{2bc} = \frac{(b + c)^2 - a^2}{2bc} = \frac{(b + c + a)(b + c - a)}{2bc}$$

Sea  $a + b + c = 2s$ ; entonces,  $a - b + c = (a + b + c) - 2b = 2s - 2b = 2(s - b)$ ,  
 $a + b - c = 2(s - c)$ ,  $b + c - a = 2(s - a)$ , y,

$$\begin{aligned}\tan \frac{1}{2}A &= \sqrt{\frac{1 - \cos A}{1 + \cos A}} = \sqrt{\frac{(a - b + c)(a + b - c)}{2bc} \cdot \frac{2bc}{(b + c + a)(b + c - a)}} = \sqrt{\frac{2(s - b) \cdot 2(s - c)}{2s \cdot 2(s - a)}} \\ &= \sqrt{\frac{(s - b)(s - c)}{s(s - a)}} = \sqrt{\frac{(s - a)(s - b)(s - c)}{s(s - a)^2}} = \frac{1}{s - a} \sqrt{\frac{(s - a)(s - b)(s - c)}{s}}.\end{aligned}$$

Finalmente, tomando  $r = \sqrt{\frac{(s - a)(s - b)(s - c)}{s}}$ ,  $\tan \frac{1}{2}A = \frac{r}{s - a}$ . Las otras fórmulas se obtienen por un intercambio cíclico de las letras que aparecen en la fórmula obtenida.

## CASO IV.

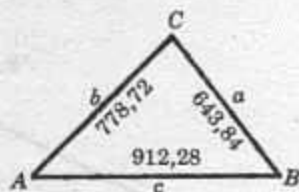
11. Resolver el triángulo  $ABC$ , dados  $a = 643,84$ ,  $b = 778,72$ ,  $c = 912,28$ .

$$s = \frac{1}{2}(a + b + c)$$

$$r = \sqrt{\frac{(s-a)(s-b)(s-c)}{s}}$$

$$\begin{array}{rcl} a = 643,84 & s-a = 523,58 & \\ b = 778,72 & s-b = 388,70 & \\ c = 912,28 & s-c = 255,14 & \\ 2s = 2334,84 & s = 1167,42 & \\ s = 1167,42 & & \end{array}$$

$$\begin{array}{rcl} \log(s-a) = 2,71898 & & \\ \log(s-b) = 2,58961 & & \\ \log(s-c) = 2,40678 & & \\ \text{colog } s = 6,93278 - 10 & & \\ 2 \log r = 4,64815 & & \\ \log r = 2,32408 & & \end{array}$$



$$\tan \frac{1}{2}A = \frac{r}{s-a}$$

$$\tan \frac{1}{2}B = \frac{r}{s-b}$$

$$\tan \frac{1}{2}C = \frac{r}{s-c}$$

$$\begin{array}{rcl} \log r = 2,32408 & & \\ \log(s-a) = 2,71898 & & \\ \hline \log \tan \frac{1}{2}A = 9,60510 - 10 & & \\ \frac{1}{2}A = 21^{\circ}56,4' & & \\ A = 43^{\circ}52,8' & & \end{array}$$

$$\begin{array}{rcl} \log r = 2,32408 & & \\ \log(s-b) = 2,58961 & & \\ \hline \log \tan \frac{1}{2}B = 9,73447 - 10 & & \\ \frac{1}{2}B = 28^{\circ}29,0' & & \\ B = 56^{\circ}58,0' & & \end{array}$$

$$\begin{array}{rcl} \log r = 2,32408 & & \\ \log(s-c) = 2,40678 & & \\ \hline \log \tan \frac{1}{2}C = 9,91730 - 10 & & \\ \frac{1}{2}C = 39^{\circ}34,7' & & \\ C = 79^{\circ}9,4' & & \end{array}$$

Comprobación:  $A + B + C = 180^{\circ}0,2'$ .

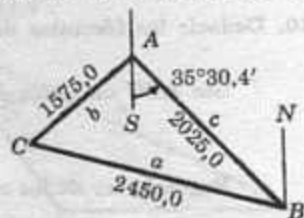
12. Los lados de un campo triangular miden, respectivamente, 2025,0, 2450,0 y 1575,0 m según se muestra en la figura adjunta. Si la dirección del lado  $AB$  es  $S 35^{\circ}30,4' E$ , encontrar la dirección de los otros dos lados.

$$s = \frac{1}{2}(a + b + c)$$

$$r = \sqrt{\frac{(s-a)(s-b)(s-c)}{s}}$$

$$\begin{array}{rcl} a = 2450,0 & s-a = 575 & \\ b = 1575,0 & s-b = 1450 & \\ c = 2025,0 & s-c = 1000 & \\ 2s = 6050,0 & s = 3025 & \\ s = 3025,0 & & \end{array}$$

$$\begin{array}{rcl} \log(s-a) = 2,75967 & & \\ \log(s-b) = 3,16137 & & \\ \log(s-c) = 3,00000 & & \\ \text{colog } s = 6,51927 - 10 & & \\ 2 \log r = 5,44031 & & \\ \log r = 2,72016 & & \end{array}$$



$$\tan \frac{1}{2}A = \frac{r}{s-a}$$

$$\tan \frac{1}{2}B = \frac{r}{s-b}$$

$$\tan \frac{1}{2}C = \frac{r}{s-c}$$

$$\begin{array}{rcl} \log r = 2,72016 & & \\ \log(s-a) = 2,75967 & & \\ \hline \log \tan \frac{1}{2}A = 9,96049 - 10 & & \\ \frac{1}{2}A = 42^{\circ}23,8' & & \\ A = 84^{\circ}47,6' & & \end{array}$$

$$\begin{array}{rcl} \log r = 2,72016 & & \\ \log(s-b) = 3,16137 & & \\ \hline \log \tan \frac{1}{2}B = 9,55879 - 10 & & \\ \frac{1}{2}B = 19^{\circ}54,2' & & \\ B = 39^{\circ}48,4' & & \end{array}$$

$$\begin{array}{rcl} \log r = 2,72016 & & \\ \log(s-c) = 3,00000 & & \\ \hline \log \tan \frac{1}{2}C = 9,72016 - 10 & & \\ \frac{1}{2}C = 27^{\circ}42,0' & & \\ C = 55^{\circ}24,0' & & \end{array}$$

$\angle SAC = 84^{\circ}47,6' - 35^{\circ}30,4' = 49^{\circ}17,2'$ ; la dirección de  $AC$  es  $S 49^{\circ}17,2' O$ .

$\angle NBC = 35^{\circ}30,4' + 39^{\circ}48,4' = 75^{\circ}18,8'$ ; la dirección de  $BC$  es  $N 75^{\circ}18,8' O$ .

## PROBLEMAS PROPUESTOS

Resolver cada uno de los triángulos oblicuángulos  $ABC$ , dados:

13.  $c = 78,753$ ,  $A = 33^{\circ}9,9'$ ,  $C = 81^{\circ}24,6'$ . Resp.  $a = 43,571$ ,  $b = 72,432$ ,  $B = 65^{\circ}25,5'$
14.  $b = 730,80$ ,  $B = 42^{\circ}12,8'$ ,  $C = 109^{\circ}32,5'$ . Resp.  $a = 514,73$ ,  $c = 1025,0$ ,  $A = 28^{\circ}14,7'$
15.  $a = 31,259$ ,  $A = 57^{\circ}59,9'$ ,  $C = 23^{\circ}36,6'$ . Resp.  $b = 36,466$ ,  $c = 14,763$ ,  $B = 98^{\circ}23,5'$
16.  $b = 13,218$ ,  $c = 10,004$ ,  $B = 25^{\circ}57,2'$ . Resp.  $a = 21,467$ ,  $A = 134^{\circ}42,2'$ ,  $C = 19^{\circ}20,6'$
17.  $b = 10,884$ ,  $c = 35,730$ ,  $C = 115^{\circ}33,8'$ . Resp.  $a = 29,658$ ,  $A = 48^{\circ}29,2'$ ,  $B = 15^{\circ}57,0'$
18.  $b = 86,425$ ,  $c = 73,463$ ,  $C = 49^{\circ}18,9'$ . Resp.  $a = 89,534$ ,  $B = 63^{\circ}8,3'$ ,  $A = 67^{\circ}32,8'$   
 $a' = 23,147$ ,  $B' = 116^{\circ}51,7'$ ,  $A' = 13^{\circ}49,4'$
19.  $a = 12,695$ ,  $c = 15,873$ ,  $A = 24^{\circ}7,4'$ . Resp.  $b = 25,399$ ,  $B = 125^{\circ}8,7'$ ,  $C = 30^{\circ}43,9'$   
 $b' = 3,5745$ ,  $B' = 6^{\circ}36,5'$ ,  $C' = 149^{\circ}16,1'$
20.  $a = 482,33$ ,  $c = 395,71$ ,  $B = 137^{\circ}31,2'$ . Resp.  $b = 819,00$ ,  $A = 23^{\circ}26,2'$ ,  $C = 19^{\circ}2,6'$
21.  $b = 561,23$ ,  $c = 387,19$ ,  $A = 56^{\circ}43,8'$ . Resp.  $a = 475,89$ ,  $B = 80^{\circ}24,4'$ ,  $C = 42^{\circ}51,8'$
22.  $a = 123,79$ ,  $b = 264,23$ ,  $c = 256,04$ . Resp.  $A = 27^{\circ}28,2'$ ,  $B = 79^{\circ}57,0'$ ,  $C = 72^{\circ}34,8'$
23.  $a = 1894,3$ ,  $b = 2246,5$ ,  $c = 3548,8$ . Resp.  $A = 28^{\circ}11,8'$ ,  $B = 34^{\circ}4,8'$ ,  $C = 117^{\circ}43,2'$
24. Un poste, que se aparta  $10^{\circ}15'$  de la vertical hacia la región donde está el Sol, proyecta una sombra de 40,75 pies de longitud, cuando el ángulo de elevación del Sol es de  $40^{\circ}35'$ . Encontrar la longitud del poste. Resp. 41,97 pies
25. Dos observadores,  $A$  y  $B$ , se encuentran a una distancia de 2875 m uno del otro en un terreno plano. Ambos observadores miden el ángulo de elevación de un aeroplano que vuela sobre el espacio comprendido entre ellos. El ángulo de elevación medido por  $A$  es de  $62^{\circ}45'$ , y el medido por  $B$  es de  $50^{\circ}54'$ . Encontrar las distancias respectivas desde  $A$  y  $B$  hasta el aeroplano, y la distancia a que éste vuela sobre la superficie de la tierra. Resp. 2436 m, 2790 m, 2165 m
26. Se va a construir un túnel a través de una montaña desde  $A$  hasta  $B$ . Un punto  $C$  que es visible desde  $A$  y  $B$  se encuentra a 384,8 m de  $A$ , y 555,6 m de  $B$ . ¿Cuál es la longitud del túnel si  $\angle ACB = 35^{\circ}42'$ ? Resp. 330,9 m
27. Supóngase que la distancia de la Tierra al Sol es de 92.897.000 millas, y de Mercurio al Sol es de 35.960.000 millas. Encontrar las posibles distancias entre la Tierra y Mercurio cuando el ángulo formado por Mercurio y el Sol, con la Tierra como vértice, es de  $8^{\circ}24,6'$ . Resp. 58.600.000 ó 125.190.000 millas
28. Un punto  $B$  es inaccesible e invisible desde un punto  $A$ . Para encontrar la distancia entre  $A$  y  $B$ , se escogen dos puntos,  $C$  y  $D$ , alineados con  $A$  y que son visibles desde  $B$ , de tal manera que  $\angle ADB = 55^{\circ}18'$  y  $\angle ACB = 41^{\circ}36'$ . Si  $AD = 432,3$  m y  $AC = 521,8$  m, encontrar la longitud de  $AB$ . Resp. 529,1 m



## Areas. Radios de las circunferencias inscrita y circunscrita

EL AREA  $K$  DE UN TRIANGULO CUALQUIERA es igual al semi-producto de su base por su altura. A continuación se ofrecen las fórmulas aplicables a cada uno de los cuatro casos de triángulos oblicuángulos.

CASO I. Dados dos ángulos y un lado.

$$K = \frac{a^2 \operatorname{sen} B \operatorname{sen} C}{2 \operatorname{sen} A} = \frac{b^2 \operatorname{sen} C \operatorname{sen} A}{2 \operatorname{sen} B} = \frac{c^2 \operatorname{sen} A \operatorname{sen} B}{2 \operatorname{sen} C}$$

Para la deducción de estas fórmulas véase el problema 2.

(Véase también el problema 5.)

CASO II. Dados dos lados y el ángulo opuesto a uno de ellos.

La ley de los senos permite encontrar un segundo ángulo. Después, se aplica la fórmula correspondiente al caso I.

(Véase el problema 6.)

CASO III. Dados dos lados y el ángulo comprendido.

$$K = \frac{1}{2}bc \operatorname{sen} A = \frac{1}{2}ca \operatorname{sen} B = \frac{1}{2}ab \operatorname{sen} C.$$

La deducción de estas fórmulas aparece en el problema 1.

(Véase, además, el problema 4.)

CASO IV. Dados los tres lados.

$$K = \sqrt{s(s-a)(s-b)(s-c)}, \text{ donde } s = \frac{1}{2}(a+b+c).$$

La deducción se encuentra en el problema 3.

(Véase, además, el problema 7.)

EN TODO TRIANGULO  $ABC$ ,

a) el radio  $R$  de la circunferencia circunscrita es

$$R = \frac{a}{2 \operatorname{sen} A} = \frac{b}{2 \operatorname{sen} B} = \frac{c}{2 \operatorname{sen} C}.$$

b) el radio  $r$  de la circunferencia inscrita es

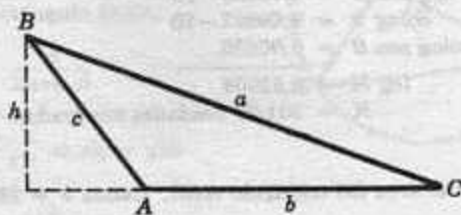
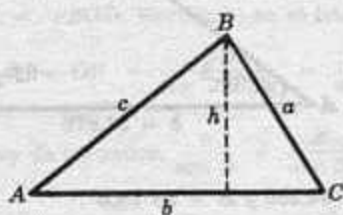
$$r = \sqrt{\frac{(s-a)(s-b)(s-c)}{s}}, \text{ donde } s = \frac{1}{2}(a+b+c).$$

Para la demostración de estas proposiciones véase el problema 8.

(Véanse, además, los problemas 9-10.)

PROBLEMAS RESUELTOS

1. Deducir la fórmula  $K = \frac{1}{2}bc \operatorname{sen} A$ .



Denomínese  $h$  la altura trazada sobre el lado  $b$  del triángulo  $ABC$ . En ambas figuras se tiene que  $h = c \operatorname{sen} A$ . Así,  $K = \frac{1}{2}bh = \frac{1}{2}bc \operatorname{sen} A$ .

2. Deducir la fórmula  $K = \frac{c^2 \operatorname{sen} A \operatorname{sen} B}{2 \operatorname{sen} C}$ .

Según el problema 1,  $K = \frac{1}{2}bc \operatorname{sen} A$ ; y, por la ley de los senos,  $b = \frac{c \operatorname{sen} B}{\operatorname{sen} C}$ .

Entonces,  $K = \frac{1}{2}bc \operatorname{sen} A = \frac{1}{2} \frac{c \operatorname{sen} B}{\operatorname{sen} C} c \operatorname{sen} A = \frac{c^2 \operatorname{sen} A \operatorname{sen} B}{2 \operatorname{sen} C}$ .

3. Deducir la fórmula  $K = \sqrt{s(s-a)(s-b)(s-c)}$ .

De las deducciones obtenidas en el problema 10, del capítulo 14,

$$\operatorname{sen}^2 \frac{1}{2}A = \frac{1}{2}(1 - \cos A) = \frac{(a-b+c)(a+b-c)}{4bc} = \frac{2(s-b) \cdot 2(s-c)}{4bc} = \frac{(s-b)(s-c)}{bc}$$

y  $\operatorname{cos}^2 \frac{1}{2}A = \frac{1}{2}(1 + \cos A) = \frac{(b+c+a)(b+c-a)}{4bc} = \frac{2s \cdot 2(s-a)}{4bc} = \frac{s(s-a)}{bc}$ .

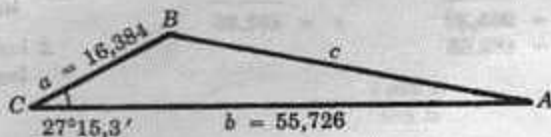
Puesto que  $\frac{1}{2}A < 90^\circ$ ,  $\operatorname{sen} \frac{1}{2}A = \sqrt{\frac{(s-b)(s-c)}{bc}}$  y  $\operatorname{cos} \frac{1}{2}A = \sqrt{\frac{s(s-a)}{bc}}$ . Entonces

$$K = \frac{1}{2}bc \operatorname{sen} A = bc \operatorname{sen} \frac{1}{2}A \operatorname{cos} \frac{1}{2}A = bc \sqrt{\frac{(s-b)(s-c)}{bc}} \sqrt{\frac{s(s-a)}{bc}} = \sqrt{s(s-a)(s-b)(s-c)}.$$

4. Encontrar el área del triángulo  $ABC$ , dados  $a = 16,384$ ,  $b = 55,726$  y  $C = 27^\circ 15,3'$ .

Este problema corresponde al caso III, con lo que  $K = \frac{1}{2}ab \operatorname{sen} C$ .

$$\begin{aligned} \log a &= 1,21442 \\ \log b &= 1,74606 \\ \log \operatorname{sen} C &= 9,66082 - 10 \\ \operatorname{colog} 2 &= 9,69897 - 10 \\ \log K &= 2,32027 \\ K &= 209,06 \end{aligned}$$



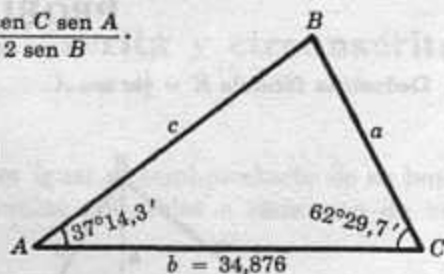
El área es de 209,06 unidades cuadradas.

5. Encontrar el área del triángulo  $ABC$ , dados  $A = 37^\circ 14,3'$ ,  $C = 62^\circ 29,7'$  y  $b = 34,876$ .

$$B = 180^\circ - (A + C) = 80^\circ 16,0'.$$

Este problema corresponde al caso I, con lo que  $K = \frac{b^2 \operatorname{sen} C \operatorname{sen} A}{2 \operatorname{sen} B}$ .

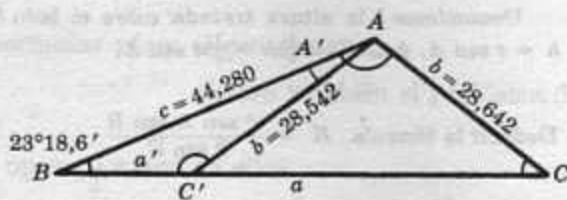
$$\begin{aligned} 2 \log b &= 3,08506 \\ \log \operatorname{sen} C &= 9,94791 - 10 \\ \log \operatorname{sen} A &= 9,78185 - 10 \\ \operatorname{colog} 2 &= 9,69897 - 10 \\ \operatorname{colog} \operatorname{sen} B &= 0,00630 \\ \hline \log K &= 2,52009 \\ K &= 331,20 \text{ unidades cuadradas} \end{aligned}$$



6. Encontrar el área del triángulo  $ABC$ , dados  $b = 28,642$ ,  $c = 44,280$  y  $B = 23^\circ 18,6'$ .

Este problema corresponde al caso II en el que pueden existir dos soluciones.

$$\begin{aligned} \operatorname{sen} C &= \frac{c \operatorname{sen} B}{b} \\ \log c &= 1,64621 \\ \log \operatorname{sen} B &= 9,59737 - 10 \\ \operatorname{colog} b &= 8,54300 - 10 \\ \hline \log \operatorname{sen} C &= 9,78658 - 10 \end{aligned}$$



$$\begin{aligned} C &= 37^\circ 43,0' \text{ y } C' = 180^\circ - C = 142^\circ 17,0' \\ A &= 180^\circ - (B + C) = 118^\circ 58,4' \text{ y } A' = 180^\circ - (B + C') = 14^\circ 24,4' \end{aligned}$$

El área de  $ABC$  es  $K = \frac{c^2 \operatorname{sen} A \operatorname{sen} B}{2 \operatorname{sen} C}$ .

$$\begin{aligned} 2 \log c &= 3,29242 \\ \log \operatorname{sen} A &= 9,94193 - 10 \\ \log \operatorname{sen} B &= 9,59737 - 10 \\ \operatorname{colog} 2 &= 9,69897 - 10 \\ \operatorname{colog} \operatorname{sen} C &= 0,21342 \\ \hline \log K &= 2,74411 \\ K &= 554,76 \end{aligned}$$

El área de  $ABC'$  es  $K = \frac{c^2 \operatorname{sen} A' \operatorname{sen} B}{2 \operatorname{sen} C'}$ .

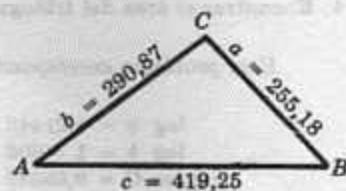
$$\begin{aligned} 2 \log c &= 3,29242 \\ \log \operatorname{sen} A' &= 9,39586 - 10 \\ \log \operatorname{sen} B &= 9,59737 - 10 \\ \operatorname{colog} 2 &= 9,69897 - 10 \\ \operatorname{colog} \operatorname{sen} C' &= 0,21342 \\ \hline \log K &= 2,19804 \\ K &= 157,78 \end{aligned}$$

Se han determinado dos triángulos cuyas áreas son, respectivamente, 554,76 y 157,78 unidades cuadradas.

7. Encontrar el área del triángulo  $ABC$ , dados  $a = 255,18$ ,  $b = 290,87$  y  $c = 419,25$ .

Este problema corresponde al caso IV, con lo que  $K = \sqrt{s(s-a)(s-b)(s-c)}$ .

$$\begin{aligned} s &= \frac{1}{2}(a + b + c) & K &= \sqrt{s(s-a)(s-b)(s-c)} \\ a &= 255,18 & s - a &= 227,47 & \log(s-a) &= 2,35692 \\ b &= 290,87 & s - b &= 191,78 & \log(s-b) &= 2,28280 \\ c &= 419,25 & s - c &= 63,40 & \log(s-c) &= 1,80209 \\ 2s &= 965,30 & s &= 482,65 & \log s &= 2,68364 \\ s &= 482,65 & & & 2 \log K &= 9,12545 \\ & & & & \log K &= 4,56272 \\ & & & & K &= 36,536 \end{aligned}$$



El área es 36,536 unidades cuadradas.

8. Demostrar que, en todo triángulo  $ABC$ ,

a) el radio  $R$  de la circunferencia circunscrita viene dado por  $R = \frac{a}{2 \operatorname{sen} A} = \frac{b}{2 \operatorname{sen} B} = \frac{c}{2 \operatorname{sen} C}$  y

b) el radio  $r$  de la circunferencia inscrita viene dado por  $r = \frac{\sqrt{s(s-a)(s-b)(s-c)}}{s}$ .

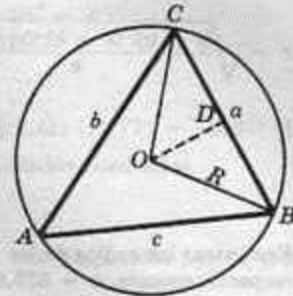
a) Sea  $O$  el centro de la circunferencia circunscrita. Unase  $O$  con  $B$  y con  $C$ , trácese desde  $O$  una perpendicular a  $BC$ . Sea  $D$  el pie de esta perpendicular. Puesto que el triángulo  $OBC$  es isósceles,  $OD$  biseca a  $BC$ .

Como  $A = \angle BAC$  y  $\angle BOC$  comprenden el mismo arco,  $A = \frac{1}{2} \angle BOC = \angle BOD$ . Entonces, en el triángulo rectángulo  $BOD$ ,

$$R = OB = \frac{BD}{\text{sen } \angle BOD} = \frac{a/2}{\text{sen } A} = \frac{a}{2 \text{ sen } A}$$

De la ley de los senos,  $\frac{a}{\text{sen } A} = \frac{b}{\text{sen } B} = \frac{c}{\text{sen } C}$ , se sigue que

$$R = \frac{a}{2 \text{ sen } A} = \frac{b}{2 \text{ sen } B} = \frac{c}{2 \text{ sen } C}$$



b) Denomínese  $I$  el centro de la circunferencia inscrita ( $I$  es el punto de intersección de las bisectrices de los ángulos interiores del triángulo  $ABC$ ), y sean  $D, E$  y  $F$  los puntos de tangencia de la circunferencia y el triángulo. Como  $I$  equidista de los lados del triángulo,

$$ID = IE = IF = r.$$

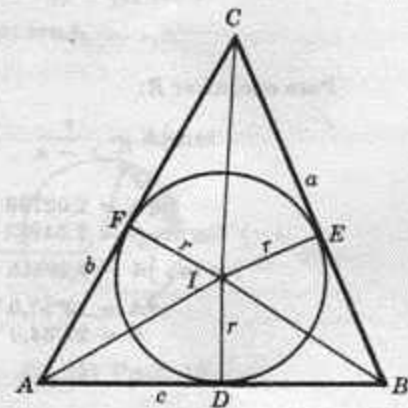
Entonces  $K = \text{área } ABC = \text{área } AIB + \text{área } BIC + \text{área } CIA$

$$\begin{aligned} &= \frac{1}{2}cr + \frac{1}{2}ar + \frac{1}{2}br \\ &= \frac{1}{2}r(a + b + c) = \frac{1}{2}r(2s) = rs. \end{aligned}$$

Ahora bien, según el problema 3,

$$K = \sqrt{s(s-a)(s-b)(s-c)} = rs. \text{ Entonces,}$$

$$r = \sqrt{\frac{s(s-a)(s-b)(s-c)}{s^2}} = \sqrt{\frac{(s-a)(s-b)(s-c)}{s}}$$

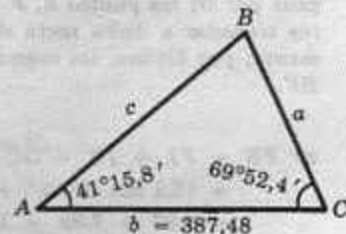


9. Encontrar los radios de las circunferencias inscrita y circunscrita en el triángulo  $ABC$ , dados  $A = 41^\circ 15,8'$ ,  $C = 69^\circ 52,4'$  y  $b = 387,48$ .

$$B = 180^\circ - (C + A) = 68^\circ 51,8'$$

Para encontrar  $R$ :  $R = \frac{b}{2 \text{ sen } B}$

$$\begin{array}{r} \log b = 2,58825 \\ \text{colog } 2 = 9,69897 - 10 \\ \text{colog sen } B = 0,03025 \\ \hline \log R = 2,31747 \\ R = 207,71 \end{array}$$



Para encontrar  $r$ :

$$a = \frac{b \text{ sen } A}{\text{sen } B}$$

$$\begin{array}{r} \log b = 2,58825 \\ \log \text{sen } A = 9,81923 - 10 \\ \text{colog sen } B = 0,03025 \\ \hline \log a = 2,43773 \\ a = 273,99 \end{array}$$

$$c = \frac{b \text{ sen } C}{\text{sen } B}$$

$$\begin{array}{r} \log b = 2,58825 \\ \log \text{sen } C = 9,97264 - 10 \\ \text{colog sen } B = 0,03025 \\ \hline \log c = 2,59114 \\ c = 390,07 \end{array}$$

$$r = \sqrt{\frac{(s-a)(s-b)(s-c)}{s}}$$

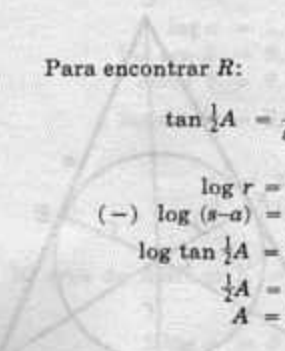


$$\begin{array}{llll} a = 273,99 & s-a = 251,78 & \log(s-a) = 2,40102 & \\ b = 387,48 & s-b = 138,29 & \log(s-b) = 2,14079 & \\ c = 390,07 & s-c = 135,70 & \log(s-c) = 2,13258 & \\ 2s = 1051,54 & s = 525,77 & \operatorname{colog} s = 7,27920 - 10 & \\ s = 525,77 & & 2 \log r = 3,95359 & \\ & & \log r = 1,97680 & \\ & & r = 94,798 & \end{array}$$

10. Encontrar los radios de las circunferencias inscrita y circunscrita en el triángulo  $ABC$ , cuyos lados miden, respectivamente,  $a = 375,68$ ,  $b = 512,37$  y  $c = 742,05$ .

Para encontrar  $r$ :

$$r = \sqrt{\frac{(s-a)(s-b)(s-c)}{s}}$$



$$\begin{array}{llll} a = 375,68 & s-a = 439,37 & \log(s-a) = 2,64283 & \\ b = 512,37 & s-b = 302,68 & \log(s-b) = 2,48098 & \\ c = 742,05 & s-c = 73,00 & \log(s-c) = 1,86332 & \\ 2s = 1630,10 & s = 815,05 & \operatorname{colog} s = 7,08882 - 10 & \\ s = 815,05 & & 2 \log r = 4,07595 & \\ & & \log r = 2,03798 & \\ & & r = 109,14 & \end{array}$$

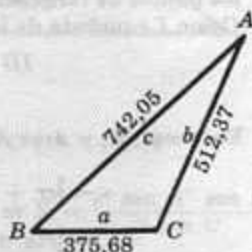
Para encontrar  $R$ :

$$\tan \frac{1}{2}A = \frac{r}{s-a}$$

$$R = \frac{a}{2 \operatorname{sen} A}$$

$$\begin{array}{l} \log r = 2,03798 \\ (-) \log(s-a) = 2,64283 \\ \hline \log \tan \frac{1}{2}A = 9,39515 - 10 \\ \frac{1}{2}A = 13^{\circ}57,0' \\ A = 27^{\circ}54,0' \end{array}$$

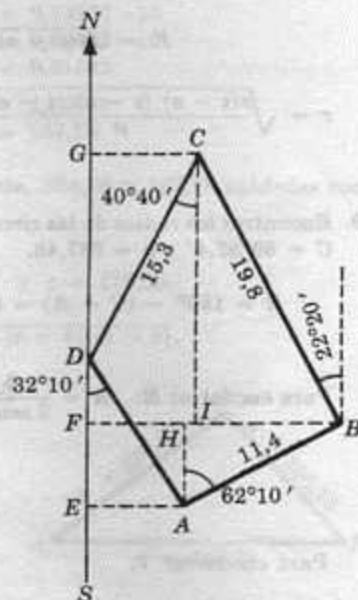
$$\begin{array}{l} \log a = 2,57482 \\ \operatorname{colog} 2 = 9,69897 - 10 \\ \hline \operatorname{colog} \operatorname{sen} A = 0,32982 \\ \log R = 2,60361 \\ R = 401,43 \end{array}$$



11. En un terreno cuadrangular  $ABCD$ , el lado  $AB$  mide 11,4 unidades lineales con una dirección  $N 62^{\circ}10' E$ , el lado  $BC$  mide 19,8 con una dirección  $N 22^{\circ}20' O$ , el lado  $CD$  mide 15,3 con una dirección  $S 40^{\circ}40' O$  y el lado  $DA$ , cuya longitud no se conoce, tiene una dirección  $S 32^{\circ}10' E$ . Encontrar:

- a) la longitud de  $DA$ ,  
b) el área del terreno.

En la figura adjunta,  $SN$  representa la recta norte-sur que pasa por  $D$ ; los puntos  $E, F$  y  $G$  son los pies de las perpendiculares trazadas a dicha recta desde los puntos  $A, B$  y  $C$  respectivamente; por último, los segmentos  $AH$  y  $CI$  son perpendiculares a  $BF$ .



$$\begin{array}{l} a) \quad FB = FI + IB = GC + IB \\ \quad = 15,3 \operatorname{sen} 40^{\circ}40' + 19,8 \operatorname{sen} 22^{\circ}20' \\ \quad = 9,97 + 7,52 = 17,49. \\ \quad FB = FH + HB = EA + HB; \text{ de donde} \\ \quad EA = FB - HB \\ \quad = 17,49 - 11,4 \operatorname{sen} 62^{\circ}10' = 17,49 - 10,08 = 7,41. \end{array}$$

Puesto que  $EA = DA \operatorname{sen} 32^{\circ}10'$ ,  $DA = \frac{7,41}{\operatorname{sen} 32^{\circ}10'} = 13,9$  unidades lineales.

$$\begin{array}{l} b) \quad \text{Area } ABCD = \text{área } EABF + \text{área } FBCG - \text{área } EAD - \text{área } GCD \\ \quad = \frac{1}{2}(EA + FB)AH + \frac{1}{2}(FB + GC)CI - \frac{1}{2}EA \cdot ED - \frac{1}{2}GC \cdot GD. \end{array}$$

Además,  $EA = 7,41$ ,  $FB = 17,49$ ,  $AH = 11,4 \cos 62^\circ 10' = 5,32$ ,  $GC = 9,97$ ,  
 $CI = 19,8 \cos 22^\circ 20' = 18,32$ ,  $ED = 13,9 \cos 32^\circ 10' = 11,77$ ,  
 $GD = 15,3 \cos 40^\circ 40' = 11,61$ . Entonces:

$$\begin{aligned} \text{Area } ABCD &= \frac{1}{2}(7,41 + 17,49)(5,32) + \frac{1}{2}(17,49 + 9,97)(18,32) - \frac{1}{2}(7,41)(11,77) - \frac{1}{2}(9,97)(11,61) \\ &= 66,23 + 251,53 - 43,61 - 57,88 = 216,27 \text{ ó } 216 \text{ unidades cuadradas.} \end{aligned}$$

12. Demostrar que el área de un cuadrilátero es igual al semi-producto de sus diagonales por el seno del ángulo determinado por ellas. Véase la figura (a).

Sea  $O$  el punto de intersección de las diagonales del cuadrilátero  $ABCD$ , y sea  $\theta$  uno de los ángulos determinados por la intersección de las diagonales. El punto  $O$  divide a cada diagonal en dos segmentos cuyas respectivas longitudes son  $p, q$ ; y  $r, s$ , según se muestra en la figura.

$$\begin{aligned} \text{Area } ABCD &= \text{área } AOB + \text{área } AOD + \text{área } BOC + \text{área } DOC \\ &= \frac{1}{2}rp \sin \theta + \frac{1}{2}qr \sin(180^\circ - \theta) + \frac{1}{2}ps \sin(180^\circ - \theta) + \frac{1}{2}qs \sin \theta \\ &= \frac{1}{2}(pr + qr + ps + qs) \sin \theta = \frac{1}{2}(p + q)(r + s) \sin \theta. \end{aligned}$$

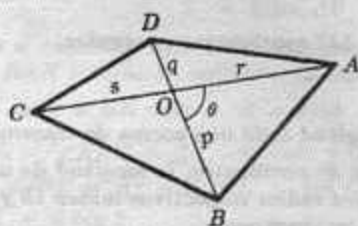


Fig. (a) Prob. 12

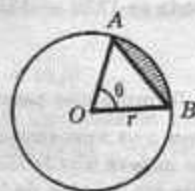


Fig. (b) Prob. 13

13. Demostrar que, en un círculo de radio  $r$  y centro  $O$ , el área  $K$  del segmento menor (sombreado) determinado por la cuerda  $AB$  de la figura (b), que aparece anteriormente, viene dada por  $K = \frac{1}{2}r^2(\theta - \sin \theta)$ , donde  $\theta$  radianes es el ángulo central correspondiente a dicha cuerda.

El área buscada es la diferencia entre el área del sector  $AOB$  y la del triángulo  $AOB$ .

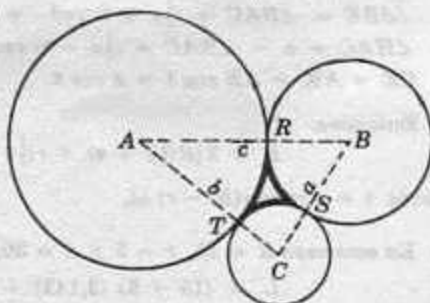
El área  $S$  del sector  $AOB$  es al área del círculo como la longitud del arco  $AB$  es a la longitud de la circunferencia; es decir,  $\frac{S}{\pi r^2} = \frac{r\theta}{2\pi r}$  y  $S = \frac{1}{2}r^2\theta$ .

El área del triángulo  $AOB = \frac{1}{2}r \cdot r \sin \theta = \frac{1}{2}r^2 \sin \theta$ .

Entonces,  $K = \frac{1}{2}r^2\theta - \frac{1}{2}r^2 \sin \theta = \frac{1}{2}r^2(\theta - \sin \theta)$ .

14. Tres circunferencias que son tangentes exteriores dos a dos tienen por centros los puntos  $A, B$  y  $C$ . Los radios de las circunferencias miden, respectivamente, 50, 30 y 20 centímetros. Encontrar el área del triángulo curvilíneo determinado por las tres circunferencias.

Sean  $R, S$  y  $T$  los puntos de tangencia de las circunferencias, según se muestra en la figura. El área pedida es la diferencia entre el área del triángulo  $ABC$  y la suma de las áreas de los tres sectores  $ART, BRS$  y  $SCT$ .



Como el segmento que une los centros de dos circunferencias cualesquiera pasa por el punto de tangencia,  $a = BC = 50$ ,  $b = CA = 70$  y  $c = AB = 80$  cm. Entonces,

$$s = \frac{1}{2}(a + b + c) = 100, \quad s - a = 50, \quad s - b = 30, \quad s - c = 20, \quad y$$

$$K = \text{área } ABC = \sqrt{s(s-a)(s-b)(s-c)} = \sqrt{100(50)(30)(20)} = 1000\sqrt{3} = 1732.$$

Puesto que  $r = K/s = 17,32$ ,

$$\tan \frac{1}{2}A = \frac{r}{s-a} = \frac{17,32}{50} = 0,3464, \quad \frac{1}{2}A = 19^{\circ}6', \quad A = 38^{\circ}12' = 0,667 \text{ rad},$$

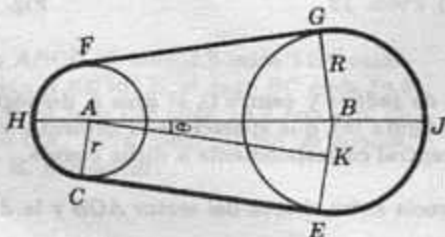
$$\tan \frac{1}{2}B = \frac{r}{s-b} = \frac{17,32}{30} = 0,5773, \quad \frac{1}{2}B = 30^{\circ}0', \quad B = 60^{\circ}0' = 1,047 \text{ rad},$$

$$\tan \frac{1}{2}C = \frac{r}{s-c} = \frac{17,32}{20} = 0,8660, \quad \frac{1}{2}C = 40^{\circ}54', \quad C = 81^{\circ}48' = 1,428 \text{ rad}.$$

Área  $ART = \frac{1}{2}r^2\theta = (50)^2(0,667) = 833,75$ , área  $BRS = (30)^2(1,047) = 471,15$ ,  
 área  $CST = \frac{1}{2}(20)^2(1,428) = 285,60$ , cuya suma es 1590,50.

El área buscada es  $1732 - 1590,50 = 141,50$  ó 142 centímetros cuadrados.

15. a) Deducir una fórmula que permita calcular la longitud  $L$  de una correa de transmisión sencilla.  
 b) Encontrar, con una aproximación de una décima de centímetro, la longitud de una correa de transmisión que se mueve alrededor de dos poleas cuyos radios respectivos miden 15 y 5 centímetros, si la distancia entre los centros de las poleas es de 30 centímetros.



- a) Sean  $r$  y  $R$  los radios de las poleas cuyos centros son, respectivamente,  $A$  y  $B$ , y sea  $d$  la distancia entre los centros. La longitud de la correa es

$$L = \text{arc } GJE + CE + \text{arc } CHF + FG = 2(\text{arc } JE + \text{arc } CH + CE).$$

Puesto que  $CE$  es tangente a las dos circunferencias,  $AC$  y  $BE$  son paralelos. Trácese el segmento  $AK$  paralelo a  $CE$ . Denomínese por  $\theta$  el ángulo  $BAK$  medido en radianes. Entonces,

$$\text{sen } \theta = BK/AB = (R - r)/d \quad y \quad \theta = \text{Arc sen}(R - r)/d.$$

$$\angle JBE = \angle BAC = (\frac{1}{2}\pi + \theta) \text{ rad}, \quad y \quad \text{arc } JE = R(\frac{1}{2}\pi + \theta) \text{ unidades de longitud.}$$

$$\angle HAC = \pi - \angle BAC = (\frac{1}{2}\pi - \theta) \text{ rad}, \quad y \quad \text{arc } CH = r(\frac{1}{2}\pi - \theta) \text{ unidades de longitud.}$$

$$CE = AK = AB \cos \theta = d \cos \theta.$$

Entonces,

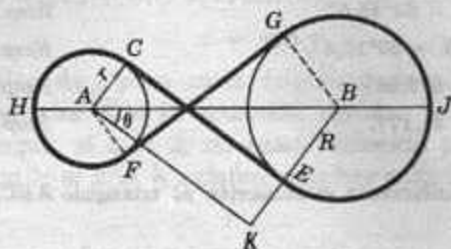
$$L = 2[R(\frac{1}{2}\pi + \theta) + r(\frac{1}{2}\pi - \theta) + d \cos \theta] = (R + r)\pi + 2(R - r)\theta + 2d \cos \theta,$$

donde  $\theta = \text{Arc sen}(R - r)/d$ .

- b) En este caso  $R = 15$ ,  $r = 5$  y  $d = 30$ ; entonces,  $\theta = \text{Arc sen}(R - r)/d = \text{Arc sen } 1/3 = 0,340$  rad y

$$L = (15 + 5)(3,142) + 2(15 - 5)(0,340) + 2(30)(2\sqrt{2}/3) \\ = 62,84 + 6,80 + 56,56 = 126,2 \text{ cm.}$$

16. a) Deducir una fórmula que permita calcular la longitud  $L$  de una correa de transmisión que se cruza entre las poleas.  
 b) Encontrar, con una aproximación de una décima de centímetro, la longitud de una polea de transmisión cruzada que se mueve alrededor de dos poleas cuyos radios respectivos miden 10 y 5 centímetros, si la distancia entre los centros de las poleas es de 30 centímetros.



a) Sean  $r$  y  $R$  los radios de las poleas cuyos centros son, respectivamente,  $A$  y  $B$ , y sea  $d$  la distancia entre los centros. La longitud de la correa es

$$L = 2(\text{arc } JE + \text{arc } CH + CE).$$

Prolónguese el radio  $BE$  de manera que pueda trazarse el segmento  $AK$  paralelo a  $CE$ . Denomínese por  $\theta$  el ángulo  $BAK$  medido en radianes. Entonces,

$$\text{sen } \theta = BK/AB = (R + r)/d \text{ y } \theta = \text{Arc sen}(R + r)/d.$$

$$\angle JBE = \pi - \angle ABE = (\frac{1}{2}\pi + \theta) \text{ rad, y arc } JE = R(\frac{1}{2}\pi + \theta) \text{ unidades de longitud.}$$

$$\angle HAC = \angle JBE = (\frac{1}{2}\pi + \theta) \text{ rad, y arc } CH = r(\frac{1}{2}\pi + \theta) \text{ unidades de longitud.}$$

$$CE = AK = d \cos \theta.$$

Entonces,

$$L = 2 [R(\frac{1}{2}\pi + \theta) + r(\frac{1}{2}\pi + \theta) + d \cos \theta] = (R + r) (\pi + 2\theta) + 2d \cos \theta,$$

donde  $\theta = \text{Arc sen}(R + r)/d$ .

- b) En este caso  $R = 10$ ,  $r = 5$  y  $d = 30$ ; entonces  $\theta = \text{Arc sen}(R + r)/d = \text{Arc sen} \frac{1}{2} = 0,524$  rad y  
 $L = (10 + 5) (\pi + 1,048) + 2(30) (\frac{1}{2}\sqrt{3}) = 62,85 + 51,96 = 114,8$  cm.



## PROBLEMAS PROPUESTOS

Encontrar el área del triángulo  $ABC$ , dados:

17.  $b = 23,84$ ,  $c = 35,26$ ,  $A = 50^{\circ}32'$ . *Resp.* 324,5 unidades cuadradas
18.  $a = 456,32$ ,  $b = 586,84$ ,  $C = 28^{\circ}16,6'$ . *Resp.* 63430 unidades cuadradas
19.  $a = 512,32$ ,  $B = 52^{\circ}14,6'$ ,  $C = 63^{\circ}45,6'$ . *Resp.* 103,550 unidades cuadradas
20.  $b = 444,85$ ,  $A = 110^{\circ}15,8'$ ,  $B = 30^{\circ}10,4'$ . *Resp.* 117,620 unidades cuadradas
21.  $a = 384,22$ ,  $b = 492,86$ ,  $c = 677,98$ . *Resp.* 93,094 unidades cuadradas
22.  $a = 28,165$ ,  $b = 60,152$ ,  $c = 51,177$ . *Resp.* 718,85 unidades cuadradas
23. Encontrar el radio de la circunferencia circunscrita al triángulo  $ABC$ , si  $b = 28,944$  y  $B = 37^{\circ}14,4'$ .  
*Resp.* 23,914
24. Encontrar el radio de la circunferencia inscrita en el triángulo  $ABC$ , si  $a = 5,478$ ,  $b = 4,823$  y  $c = 6,019$ .  
*Resp.* 1,532
25. Los lados de un terreno triangular miden, respectivamente, 48,50, 64,70 y 88,80 metros. Encontrar:  
a) el mínimo radio de riego de un rociador automático que pueda alcanzar todos los puntos del terreno, y  
b) el máximo radio que puede tener un jardín circular cultivado dentro del terreno.  
*Resp.* a) 45,46 metros, b) 15,17 metros
26. Si, dado un triángulo  $ABC$ ,  $K$  es el área del triángulo,  $R$  el radio de la circunferencia circunscrita, y  $r$  el radio de la circunferencia inscrita, demostrar que:
- a)  $K = 2R^2 \sin A \sin B \sin C$ ,
- b)  $K = abc/4R$ ,
- c)  $K = rR(\sin A + \sin B + \sin C)$ .

## Funciones trigonométricas inversas

**FUNCIONES TRIGONOMETRICAS INVERSAS.** La ecuación

$$1) \quad x = \text{sen } y$$

define un único valor de  $x$  para cada ángulo dado  $y$ . Ahora bien, cuando se da un valor de  $x$ , puede suceder que la ecuación carezca de solución o que tenga muchas soluciones. Por ejemplo, si  $x = 2$ , no existe solución porque el seno de un ángulo no puede ser mayor que 1; si  $x = \frac{1}{2}$ , existen muchas soluciones  $y = 30^\circ, 150^\circ, 390^\circ, 510^\circ, -210^\circ, -330^\circ, \dots$

Para expresar  $y$  como función de  $x$ , se escribe

$$2) \quad y = \text{arc sen } x.$$

Sin hacer caso de la abreviatura *arc*, la ecuación 2) debe interpretarse como "y es el ángulo cuyo seno es x". Del mismo modo se escribe  $y = \text{arc cos } x$  si  $x = \text{cos } y$ ,  $y = \text{arc tan } x$  si  $x = \text{tan } y$ , etc.

La notación  $y = \text{sen}^{-1}x$ ,  $y = \text{cos}^{-1}x$ , etc., (léase "seno inverso de x, coseno inverso de x", etc.) se utiliza con menos frecuencia porque  $\text{sen}^{-1}x$  puede confundirse con  $\frac{1}{\text{sen } x} = (\text{sen } x)^{-1}$ .

**GRAFICAS DE LAS FUNCIONES TRIGONOMETRICAS INVERSAS.** La gráfica de  $y = \text{arc sen } x$  es la gráfica de  $x = \text{sen } y$ , y se diferencia de la gráfica de  $y = \text{sen } x$  vista en el capítulo 9, en que están intercambiados los papeles de  $x$  y  $y$ . Así, la gráfica de  $y = \text{arc sen } x$  es una senoide trazada sobre el eje  $Y$  en vez de estar trazada sobre el eje  $X$ .

Del mismo modo, las gráficas de las restantes funciones trigonométricas inversas son las gráficas de las correspondientes funciones trigonométricas, excepto que están intercambiados los papeles de  $x$  y  $y$ .

**VALORES PRINCIPALES.** Es necesario considerar las funciones trigonométricas inversas como funciones unívocas (esto es, un único valor de  $y$  para cada valor posible de  $x$ ). Para conseguir este tipo de relación es necesario escoger un solo ángulo de los muchos que corresponden a un valor dado de  $x$ . Por ejemplo, cuando  $x = \frac{1}{2}$ , se puede seleccionar el valor  $y = 30^\circ$ , y cuando  $x = -\frac{1}{2}$ , se puede seleccionar el valor  $y = -30^\circ$ . Este valor seleccionado recibe el nombre de *valor principal* del  $\text{arc sen } x$ . Cuando la función trigonométrica inversa se refiere únicamente al valor principal, se escribe  $\text{Arc sen } x$ ,  $\text{Arc cos } x$ , etc. Las regiones de las gráficas que corresponden a los valores principales de cada una de las funciones trigonométricas inversas se señalan con una línea gruesa en las figuras que aparecen más adelante.

Cuando  $x$  es positivo o cero y existe la función inversa, se define el valor principal como el valor de  $y$  comprendido entre  $0$  y  $\frac{1}{2}\pi$  inclusive. Por ejemplo:

$$\text{Arc sen } \frac{\sqrt{3}}{2} = \frac{\pi}{3} \text{ puesto que } \text{sen } \frac{\pi}{3} = \frac{\sqrt{3}}{2} \text{ y } 0 < \frac{\pi}{3} < \frac{\pi}{2},$$

$$\text{Arc cos } \frac{\sqrt{3}}{2} = \frac{\pi}{6} \text{ puesto que } \text{cos } \frac{\pi}{6} = \frac{\sqrt{3}}{2} \text{ y } 0 < \frac{\pi}{6} < \frac{\pi}{2},$$

$$\text{Arc tan } 1 = \frac{\pi}{4} \text{ puesto que } \text{tan } \frac{\pi}{4} = 1 \text{ y } 0 < \frac{\pi}{4} < \frac{\pi}{2}.$$

Cuando  $x$  es negativo y existe la función inversa, se define el valor principal como sigue:

$$-\frac{1}{2}\pi \leq \text{Arc sen } x < 0$$

$$\frac{1}{2}\pi < \text{Arc cos } x \leq \pi$$

$$-\frac{1}{2}\pi < \text{Arc tan } x < 0$$

$$\frac{1}{2}\pi < \text{Arc cot } x < \pi$$

$$-\pi \leq \text{Arc sec } x < -\frac{1}{2}\pi$$

$$-\pi < \text{Arc csc } x \leq -\frac{1}{2}\pi$$

Por ejemplo:

$$\text{Arc sen}(-\sqrt{3}/2) = -\pi/3$$

$$\text{Arc cos}(-1/2) = 2\pi/3$$

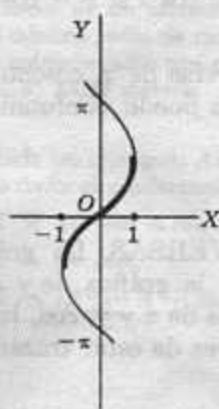
$$\text{Arc tan}(-1/\sqrt{3}) = -\pi/6$$

$$\text{Arc cot}(-1) = 3\pi/4$$

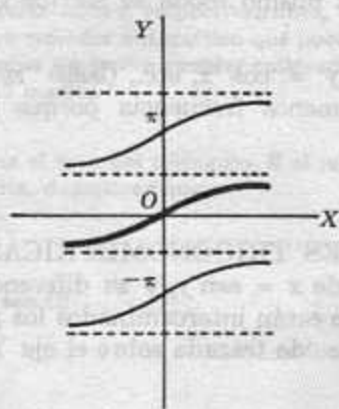
$$\text{Arc sec}(-2/\sqrt{3}) = -5\pi/6$$

$$\text{Arc csc}(-\sqrt{2}) = -3\pi/4$$

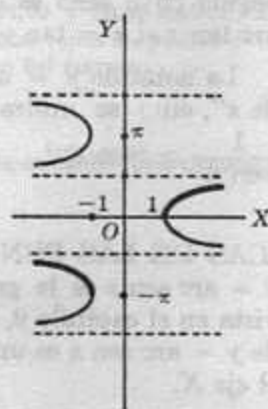
Nota. Existe una diversidad de opiniones en los autores al definir el valor principal de las funciones inversas cuando  $x$  es negativo. Las definiciones dadas anteriormente son las más convenientes para el cálculo.



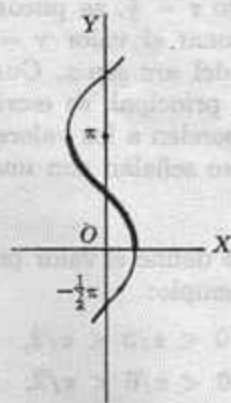
$y = \text{arc sen } x$



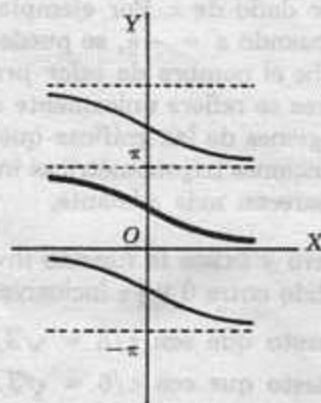
$y = \text{arc tan } x$



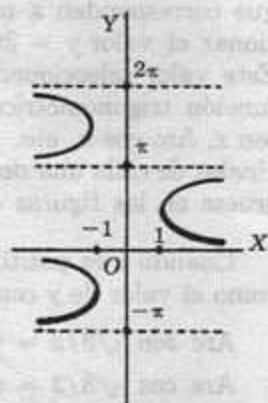
$y = \text{arc sec } x$



$y = \text{arc cos } x$



$y = \text{arc cot } x$



$y = \text{arc csc } x$

VALORES GENERALES DE LAS FUNCIONES TRIGONOMETRICAS INVERSAS.

Sea  $y$  una función trigonométrica inversa de  $x$ . Como se conoce el valor de una función trigonométrica de  $y$ , quedan determinadas, en general, dos posiciones del lado final del ángulo  $y$  (véase el capítulo 2). Sean  $y_1$  y  $y_2$  los ángulos determinados por las dos posiciones posibles del lado final. Entonces, el conjunto de valores posibles de  $y$  está constituido por los ángulos  $y_1$ ,  $y_2$ , y por todos los ángulos cofinales con ellos, esto es,

$$y_1 + 2n\pi \text{ y } y_2 + 2n\pi$$

donde  $n$  es cualquier número entero positivo, negativo o cero.

Uno de los valores de  $y_1$  o  $y_2$  puede tomarse como el valor principal de la función trigonométrica inversa.

EJEMPLO. Expresar el valor general de a)  $\text{arc sen } 1/2$ , b)  $\text{arc cos}(-1)$ , c)  $\text{arc tan}(-1)$ .

- a) El valor principal de  $\text{arc sen } 1/2$  es  $\pi/6$ , y un segundo valor (que no es cofinal con el valor principal) es  $5\pi/6$ . El valor general de  $\text{arc sen } 1/2$  viene dado por

$$\pi/6 + 2n\pi, \quad 5\pi/6 + 2n\pi$$

donde  $n$  es cualquier número entero positivo, negativo o cero.

- b) El valor principal es  $\pi$  y no existe otro valor cofinal con él. Así, el valor general viene dado por  $\pi + 2n\pi$ , donde  $n$  es cualquier entero positivo, negativo o cero.

- c) El valor principal es  $-\pi/4$ , y un segundo valor (que no es cofinal con el valor principal) es  $3\pi/4$ . Así, el valor general viene dado por

$$-\pi/4 + 2n\pi, \quad 3\pi/4 + 2n\pi$$

donde  $n$  es cualquier número entero positivo, negativo o cero.

PROBLEMAS RESUELTOS

1. Encontrar el valor principal de cada una de las siguientes funciones trigonométricas.

a)  $\text{Arc sen } 0 = 0$

e)  $\text{Arc sec } 2 = \pi/3$

i)  $\text{Arc tan}(-1) = -\pi/4$

b)  $\text{Arc cos}(-1) = \pi$

f)  $\text{Arc csc}(-\sqrt{2}) = -3\pi/4$

j)  $\text{Arc cot } 0 = \pi/2$

c)  $\text{Arc tan } \sqrt{3} = \pi/3$

g)  $\text{Arc cos } 0 = \pi/2$

k)  $\text{Arc sec}(-\sqrt{2}) = -3\pi/4$

d)  $\text{Arc cot } \sqrt{3} = \pi/6$

h)  $\text{Arc sen}(-1) = -\pi/2$

l)  $\text{Arc csc}(-2) = -5\pi/6$

2. Expresar el valor principal, con aproximación de un minuto, de cada una de las siguientes funciones trigonométricas inversas.

a)  $\text{Arc sen } 0,3333 = 19^\circ 28'$

g)  $\text{Arc sen}(-0,6439) = -40^\circ 5'$

b)  $\text{Arc cos } 0,4000 = 66^\circ 25'$

h)  $\text{Arc cos}(-0,4519) = 116^\circ 52'$

c)  $\text{Arc tan } 1,5000 = 56^\circ 19'$

i)  $\text{Arc tan}(-1,4400) = -55^\circ 13'$

d)  $\text{Arc cot } 1,1875 = 40^\circ 6'$

j)  $\text{Arc cot}(-0,7340) = 126^\circ 17'$

e)  $\text{Arc sec } 1,0324 = 14^\circ 24'$

k)  $\text{Arc sec}(-1,2067) = -145^\circ 58'$

f)  $\text{Arc csc } 1,5082 = 41^\circ 32'$

l)  $\text{Arc csc}(-4,1923) = -166^\circ 12'$

3. Verificar cada una de las siguientes igualdades.

a)  $\text{sen}(\text{Arc sen } 1/2) = \text{sen } \pi/6 = 1/2$

e)  $\text{Arc cos}[\text{cos}(-\pi/4)] = \text{Arc cos } \sqrt{2}/2 = \pi/4$

b)  $\text{cos}[\text{Arc cos}(-1/2)] = \text{cos } 2\pi/3 = -1/2$

f)  $\text{Arc sen}(\text{tan } 3\pi/4) = \text{Arc sen}(-1) = -\pi/2$

c)  $\text{cos}[\text{Arc sen}(-\sqrt{2}/2)] = \text{cos}(-\pi/4) = \sqrt{2}/2$

g)  $\text{Arc cos}[\text{tan}(-5\pi/4)] = \text{Arc cos}(-1) = \pi$

d)  $\text{Arc sen}(\text{sen } \pi/3) = \text{Arc sen } \sqrt{3}/2 = \pi/3$

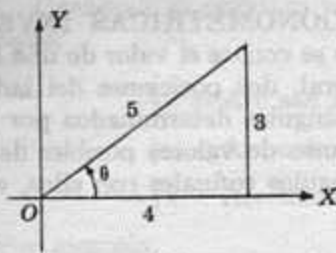
4. Verificar cada una de las siguientes igualdades.

a)  $\text{Arc sen } \sqrt{2}/2 - \text{Arc sen } 1/2 = \pi/4 - \pi/6 = \pi/12$

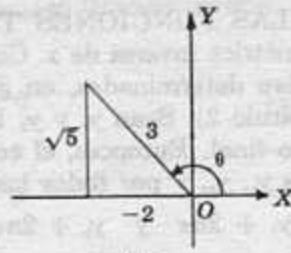
b)  $\text{Arc cos } 0 + \text{Arc tan}(-1) = \pi/2 + (-\pi/4) = \pi/4 = \text{Arc tan } 1$

5. Evaluar cada una de las siguientes expresiones:

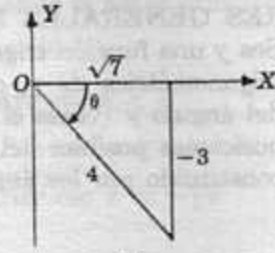
a)  $\text{cos}(\text{Arc sen } 3/5)$ , b)  $\text{sen}[\text{Arc cos}(-2/3)]$ , c)  $\text{tan}[\text{Arc sen}(-3/4)]$ .



(a)



(b)



(c)

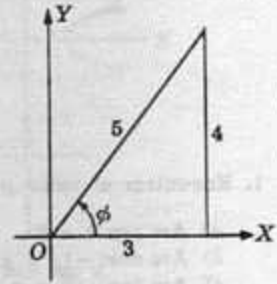
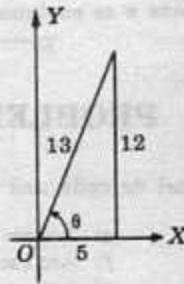
- a) Sea  $\theta = \text{Arc sen } 3/5$ ; entonces  $\text{sen } \theta = 3/5$ ,  $\theta$  en el primer cuadrante. Según la Fig. (a),  
 $\cos(\text{Arc sen } 3/5) = \cos \theta = 4/5$ .
- b) Sea  $\theta = \text{Arc cos}(-2/3)$ ; entonces  $\cos \theta = -2/3$ ,  $\theta$  en el segundo cuadrante. Según la Fig. (b),  
 $\text{sen}[\text{Arc cos}(-2/3)] = \text{sen } \theta = \sqrt{5}/3$ .
- c) Sea  $\theta = \text{Arc sen}(-3/4)$ ; entonces  $\text{sen } \theta = -3/4$ ,  $\theta$  en el cuarto cuadrante. Según la Fig. (c),  
 $\tan[\text{Arc sen}(-3/4)] = \tan \theta = -3/\sqrt{7} = -3\sqrt{7}/7$ .

6. Evaluar  $\text{sen}(\text{Arc sen } 12/13 + \text{Arc sen } 4/5)$ .

$$\text{Sea } \theta = \text{Arc sen } 12/13 \text{ y} \\ \phi = \text{Arc sen } 4/5.$$

Entonces  $\text{sen } \theta = 12/13$  y  $\text{sen } \phi = 4/5$ ,  $\theta$  y  $\phi$  en el primer cuadrante. Según las figuras adjuntas,

$$\begin{aligned} \text{sen}(\text{Arc sen } 12/13 + \text{Arc sen } 4/5) &= \text{sen}(\theta + \phi) \\ &= \text{sen } \theta \cos \phi + \cos \theta \text{sen } \phi \\ &= \frac{12}{13} \cdot \frac{3}{5} + \frac{5}{13} \cdot \frac{4}{5} = \frac{56}{65}. \end{aligned}$$

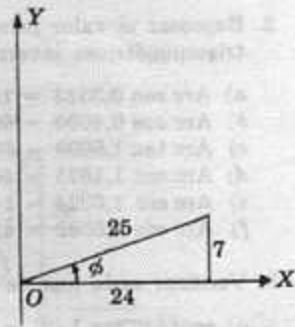
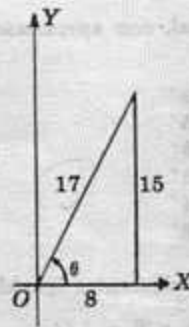


7. Evaluar  $\cos(\text{Arc tan } 15/8 - \text{Arc sen } 7/25)$ .

$$\text{Sea } \theta = \text{Arc tan } 15/8 \text{ y} \\ \phi = \text{Arc sen } 7/25.$$

Entonces  $\tan \theta = 15/8$  y  $\text{sen } \phi = 7/25$ ,  $\theta$  y  $\phi$  en el primer cuadrante. Según las figuras adjuntas,

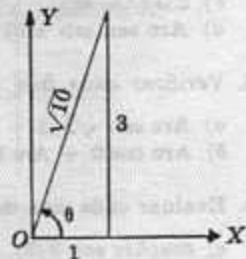
$$\begin{aligned} \cos(\text{Arc tan } 15/8 - \text{Arc sen } 7/25) &= \cos(\theta - \phi) \\ &= \cos \theta \cos \phi + \text{sen } \theta \text{sen } \phi \\ &= \frac{8}{17} \cdot \frac{24}{25} + \frac{15}{17} \cdot \frac{7}{25} = \frac{297}{425}. \end{aligned}$$



8. Evaluar  $\text{sen}(2 \text{ Arc tan } 3)$ .

Sea  $\theta = \text{Arc tan } 3$ ; entonces  $\tan \theta = 3$ ,  $\theta$  en el primer cuadrante. Según la figura adjunta,  $\text{sen}(2 \text{ Arc tan } 3) = \text{sen } 2\theta$

$$\begin{aligned} &= 2 \text{sen } \theta \cos \theta \\ &= 2(3/\sqrt{10})(1/\sqrt{10}) \\ &= 3/5 \end{aligned}$$

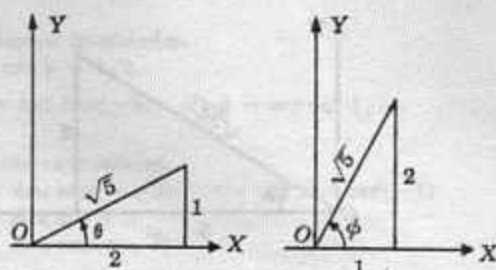


9. Demostrar que  $\text{Arc sen } 1/\sqrt{5} + \text{Arc sen } 2/\sqrt{5} = \pi/2$ .

Sean  $\theta = \text{Arc sen } 1/\sqrt{5}$  y  $\phi = \text{Arc sen } 2/\sqrt{5}$ ; entonces  $\text{sen } \theta = 1/\sqrt{5}$  y  $\text{sen } \phi = 2/\sqrt{5}$ , con lo que ambos ángulos pertenecen al primer cuadrante. Hay que probar que  $\theta + \phi = \pi/2$  ó, que  $\text{sen}(\theta + \phi) = \text{sen } \pi/2$ , ya que los senos de ángulos iguales son iguales.

Según las figuras adjuntas,

$$\begin{aligned} \text{sen}(\theta + \phi) &= \text{sen } \theta \cos \phi + \cos \theta \text{sen } \phi \\ &= \frac{1}{\sqrt{5}} \cdot \frac{1}{\sqrt{5}} + \frac{2}{\sqrt{5}} \cdot \frac{2}{\sqrt{5}} = 1 \text{ sen } \pi/2 \end{aligned}$$



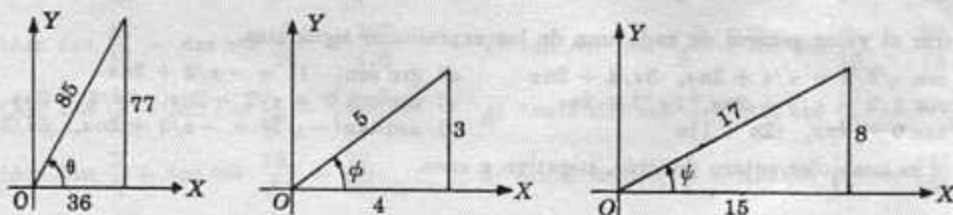
10. Demostrar que  $2 \text{ Arc tan } 1/2 = \text{Arc tan } 4/3$ .

Sean  $\theta = \text{Arc tan } 1/2$  y  $\phi = \text{Arc tan } 4/3$ ; entonces  $\text{tan } \theta = 1/2$  y  $\text{tan } \phi = 4/3$ .

Hay que probar que  $2\theta = \phi$  ó, que  $\text{tan } 2\theta = \text{tan } \phi$ , ya que las tangentes de ángulos iguales son iguales.

$$\text{Ahora bien, } \text{tan } 2\theta = \frac{2 \text{tan } \theta}{1 - \text{tan}^2 \theta} = \frac{2(1/2)}{1 - (1/2)^2} = 4/3 = \text{tan } \phi.$$

11. Demostrar que  $\text{Arc sen } 77/85 - \text{Arc sen } 3/5 = \text{Arc cos } 15/17$ .



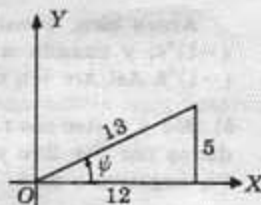
Sean  $\theta = \text{Arc sen } 77/85$ ,  $\phi = \text{Arc sen } 3/5$  y  $\psi = \text{Arc cos } 15/17$ ; entonces,  $\text{sen } \theta = 77/85$ ,  $\text{sen } \phi = 3/5$  y  $\text{cos } \psi = 15/17$ , con lo que todos los ángulos pertenecen al primer cuadrante. Si se aplica la función seno a cada miembro de la relación, bastará demostrar que  $\text{sen}(\theta - \phi) = \text{sen } \psi$ . Según las figuras

$$\text{sen}(\theta - \phi) = \text{sen } \theta \cos \phi - \cos \theta \text{sen } \phi = \frac{77}{85} \cdot \frac{4}{5} - \frac{36}{85} \cdot \frac{3}{5} = \frac{8}{17} = \text{sen } \psi.$$

12. Demostrar que  $\text{Arc cot } 43/32 - \text{Arc tan } 1/4 = \text{Arc cos } 12/13$ .

Sean  $\theta = \text{Arc cot } 43/32$ ,  $\phi = \text{Arc tan } 1/4$  y  $\psi = \text{Arc cos } 12/13$ ; entonces  $\text{cot } \theta = 43/32$ ,  $\text{tan } \phi = 1/4$  y  $\text{cos } \psi = 12/13$ , con lo que todos los ángulos pertenecen al primer cuadrante. Si se aplica la función tangente a cada miembro de la relación dada, bastará probar que  $\text{tan}(\theta - \phi) = \text{tan } \psi$ .

$$\text{tan}(\theta - \phi) = \frac{\text{tan } \theta - \text{tan } \phi}{1 + \text{tan } \theta \text{tan } \phi} = \frac{32/43 - 1/4}{1 + (32/43)(1/4)} = \frac{5}{12} = \text{tan } \psi.$$



13. Demostrar que  $\text{Arc tan } 1/2 + \text{Arc tan } 1/5 + \text{Arc tan } 1/8 = \pi/4$ .

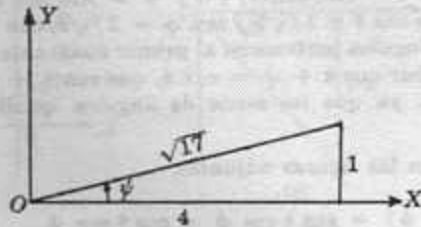
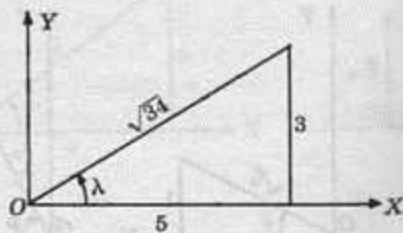
Se probará que  $\text{Arc tan } 1/2 + \text{Arc tan } 1/5 = \pi/4 - \text{Arc tan } 1/8$ .

$$\text{tan}(\text{Arc tan } 1/2 + \text{Arc tan } 1/5) = \frac{1/2 + 1/5}{1 - (1/2)(1/5)} = \frac{7}{9}$$

y

$$\text{tan}(\pi/4 - \text{Arc tan } 1/8) = \frac{1 - 1/8}{1 + 1/8} = \frac{7}{9}$$

- 14) Demostrar que  $2 \operatorname{Arc} \tan 1/3 + \operatorname{Arc} \tan 1/7 = \operatorname{Arc} \sec \sqrt{34}/5 + \operatorname{Arc} \csc \sqrt{17}$ .



Sean  $\theta = \operatorname{Arc} \tan 1/3$ ,  $\phi = \operatorname{Arc} \tan 1/7$ ,  $\lambda = \operatorname{Arc} \sec \sqrt{34}/5$  y  $\psi = \operatorname{Arc} \csc \sqrt{17}$ ; entonces  $\tan \theta = 1/3$ ,  $\tan \phi = 1/7$ ,  $\sec \lambda = \sqrt{34}/5$  y  $\csc \psi = \sqrt{17}$ , con lo que todos los ángulos pertenecen al primer cuadrante.

Si se aplica la función tangente a cada miembro de la relación dada, bastará demostrar que

$$\tan(2\theta + \phi) = \tan(\lambda + \psi).$$

Ahora bien, 
$$\tan 2\theta = \frac{2 \tan \theta}{1 - \tan^2 \theta} = \frac{2(1/3)}{1 - (1/3)^2} = 3/4,$$

$$\tan(2\theta + \phi) = \frac{\tan 2\theta + \tan \phi}{1 - \tan 2\theta \tan \phi} = \frac{3/4 + 1/7}{1 - (3/4)(1/7)} = 1$$

y, según las figuras, 
$$\tan(\lambda + \psi) = \frac{3/5 + 1/4}{1 - (3/5)(1/4)} = 1.$$

15. Encontrar el valor general de cada una de las expresiones siguientes.

a)  $\operatorname{arc} \sin \sqrt{2}/2 = \pi/4 + 2n\pi, 3\pi/4 + 2n\pi$

d)  $\operatorname{arc} \sin(-1) = -\pi/2 + 2n\pi$

b)  $\operatorname{arc} \cos 1/2 = \pi/3 + 2n\pi, 5\pi/3 + 2n\pi$

e)  $\operatorname{arc} \cos 0 = \pi/2 + 2n\pi, 3\pi/2 + 2n\pi$

c)  $\operatorname{arc} \tan 0 = 2n\pi, (2n+1)\pi$

f)  $\operatorname{arc} \tan(-\sqrt{3}) = -\pi/3 + 2n\pi, 2\pi/3 + 2n\pi$

donde  $n$  es cualquier entero positivo, negativo o cero.

16. Demostrar que el valor general de a)  $\operatorname{arc} \sin x = n\pi + (-1)^n \operatorname{Arc} \sin x$ ,

b)  $\operatorname{arc} \cos x = 2n\pi \pm \operatorname{Arc} \cos x$ ,

c)  $\operatorname{arc} \tan x = n\pi + \operatorname{Arc} \tan x$ ,

donde  $n$  es cualquier entero positivo, negativo o cero.

a) Sea  $\theta = \operatorname{Arc} \sin x$ . Entonces, puesto que  $\sin(\pi - \theta) = \sin \theta$ , todos los valores de  $\operatorname{arc} \sin x$  vienen dados por

$$1) \theta + 2m\pi \quad \text{y} \quad 2) \pi - \theta + 2m\pi = (2m+1)\pi - \theta.$$

Ahora bien, cuando  $n = 2m$ ,  $n$  es un entero par y 1) puede expresarse como  $n\pi + \theta = n\pi + (-1)^n \theta$ ; y cuando  $n = 2m+1$ ,  $n$  es un entero impar, y 2) puede expresarse como  $n\pi - \theta = n\pi + (-1)^n \theta$ . Así,  $\operatorname{arc} \sin x = n\pi + (-1)^n \operatorname{Arc} \sin x$ , donde  $n$  es cualquier entero positivo, negativo o cero.

b) Sea  $\theta = \operatorname{Arc} \cos x$ . Entonces, puesto que  $\cos(-\theta) = \cos \theta$ , todos los valores de  $\operatorname{arc} \cos x$  vienen dados por  $\theta + 2n\pi$  y  $-\theta + 2n\pi$  ó  $2n\pi \pm \theta = 2n\pi \pm \operatorname{Arc} \cos x$ , donde  $n$  es cualquier entero positivo, negativo o cero.

c) Sea  $\theta = \operatorname{Arc} \tan x$ . Entonces, puesto que  $\tan(\pi + \theta) = \tan \theta$ , todos los valores de  $\operatorname{arc} \tan x$  vienen dados por  $\theta + 2m\pi$  y  $(\pi + \theta) + 2m\pi = \theta + (2m+1)\pi$  ó, como en a), por  $n\pi + \operatorname{Arc} \tan x$ , donde  $n$  es cualquier entero positivo, negativo o cero.

17. Expresar el valor general de cada una de las funciones del problema 15 mediante las formas utilizadas en el problema 16.

a)  $\operatorname{arc} \sin \sqrt{2}/2 = n\pi + (-1)^n \pi/4$

d)  $\operatorname{arc} \sin(-1) = n\pi + (-1)^n (-\pi/2)$

b)  $\operatorname{arc} \cos 1/2 = 2n\pi \pm \pi/3$

e)  $\operatorname{arc} \cos 0 = 2n\pi \pm \pi/2$

c)  $\operatorname{arc} \tan 0 = n\pi$

f)  $\operatorname{arc} \tan(-\sqrt{3}) = n\pi - \pi/3$

donde  $n$  es cualquier entero positivo, negativo o cero.

PROBLEMAS PROPUESTOS

18. Expresar como funciones inversas cada una de las siguientes igualdades.

- a)  $\sin \theta = 3/4$ , b)  $\cos x = -1$ , c)  $\tan x = -2$ , d)  $\cot \beta = 1/2$ .

Resp. a)  $\theta = \arcsin 3/4$ , b)  $x = \arccos(-1)$ , c)  $x = \arctan(-2)$ , d)  $\beta = \text{arc cot } 1/2$

19. Encontrar el valor principal de cada una de las siguientes expresiones.

- a)  $\text{Arc sen } \sqrt{3}/2$       d)  $\text{Arc cot } 1$       g)  $\text{Arc tan } (-\sqrt{3})$       j)  $\text{Arc csc } (-1)$   
 b)  $\text{Arc cos } (-\sqrt{2}/2)$       e)  $\text{Arc sen } (-1/2)$       h)  $\text{Arc cot } 0$   
 c)  $\text{Arc tan } 1/\sqrt{3}$       f)  $\text{Arc cos } (-1/2)$       i)  $\text{Arc sec } (-\sqrt{2})$

Resp. a)  $\pi/3$ , b)  $3\pi/4$ , c)  $\pi/6$ , d)  $\pi/4$ , e)  $-\pi/6$ , f)  $2\pi/3$ , g)  $-\pi/3$ , h)  $\pi/2$ , i)  $-3\pi/4$ , j)  $-\pi/2$

20. Evaluar cada una de las siguientes expresiones.

- a)  $\text{sen} [\text{Arc sen } (-1/2)]$       f)  $\text{sen} [\text{Arc cos } 4/5]$       k)  $\text{Arc tan} (\cot 230^\circ)$   
 b)  $\text{cos} [\text{Arc cos } \sqrt{3}/2]$       g)  $\text{cos} [\text{Arc sen } (-12/13)]$       l)  $\text{Arc cot} (\tan 100^\circ)$   
 c)  $\text{tan} [\text{Arc tan } (-1)]$       h)  $\text{sen} (\text{Arc tan } 2)$       m)  $\text{sen} (2 \text{ Arc sen } 2/3)$   
 d)  $\text{sen} [\text{Arc cos } (-\sqrt{3}/2)]$       i)  $\text{Arc cos} (\text{sen } 220^\circ)$       n)  $\text{cos} (2 \text{ Arc sen } 3/5)$   
 e)  $\text{tan} (\text{Arc sen } 0)$       j)  $\text{Arc sen} [\text{cos} (-105^\circ)]$       o)  $\text{sen} (\frac{1}{2} \text{ Arc cos } 4/5)$

Resp. a)  $-1/2$ , b)  $\sqrt{3}/2$ , c)  $-1$ , d)  $1/2$ , e)  $0$ , f)  $3/5$ , g)  $5/13$ , h)  $2/\sqrt{5}$   
 i)  $130^\circ$ , j)  $-15^\circ$ , k)  $40^\circ$ , l)  $170^\circ$ , m)  $4\sqrt{5}/9$ , n)  $7/25$ , o)  $1/\sqrt{10}$

21. Demostrar que

- a)  $\text{sen} (\text{Arc sen } \frac{5}{13} + \text{Arc sen } \frac{4}{5}) = \frac{63}{65}$       e)  $\text{cos} (\text{Arc tan } \frac{-4}{3} + \text{Arc sen } \frac{12}{13}) = \frac{63}{65}$   
 b)  $\text{cos} (\text{Arc cos } \frac{15}{17} - \text{Arc cos } \frac{7}{25}) = \frac{297}{425}$       f)  $\text{tan} (\text{Arc sen } \frac{-3}{5} - \text{Arc cos } \frac{5}{13}) = \frac{63}{16}$   
 c)  $\text{sen} (\text{Arc sen } \frac{1}{2} - \text{Arc cos } \frac{1}{3}) = \frac{1-2\sqrt{6}}{6}$       g)  $\text{tan} (2 \text{ Arc sen } \frac{4}{5} + \text{Arc cos } \frac{12}{13}) = -\frac{253}{204}$   
 d)  $\text{tan} (\text{Arc tan } \frac{3}{4} + \text{Arc cot } \frac{15}{8}) = \frac{77}{36}$       h)  $\text{sen} (2 \text{ Arc sen } \frac{4}{5} - \text{Arc cos } \frac{12}{13}) = \frac{323}{325}$

22. Demostrar que

- a)  $\text{Arc tan } \frac{1}{2} + \text{Arc tan } \frac{1}{3} = \frac{\pi}{4}$       e)  $\text{Arc cos } \frac{12}{13} + \text{Arc tan } \frac{1}{4} = \text{Arc cot } \frac{43}{32}$   
 b)  $\text{Arc sen } \frac{4}{5} + \text{Arc tan } \frac{3}{4} = \frac{\pi}{2}$       f)  $\text{Arc sen } \frac{3}{5} + \text{Arc sen } \frac{15}{17} = \text{Arc cos } \frac{-13}{85}$   
 c)  $\text{Arc tan } \frac{4}{3} - \text{Arc tan } \frac{1}{7} = \frac{\pi}{4}$       g)  $\text{Arc tan } a + \text{Arc tan } \frac{1}{a} = \frac{\pi}{2} \quad (a > 0)$   
 d)  $2 \text{ Arc tan } \frac{1}{3} + \text{Arc tan } \frac{1}{7} = \frac{\pi}{4}$

23. Demostrar que, en un círculo de radio  $r$ , el área del segmento determinado por una cuerda cuya distancia al centro es  $d$  viene dada por  $K = r^2 \text{Arc cos } \frac{d}{r} - d\sqrt{r^2 - d^2}$ .



## CAPITULO 17

### Ecuaciones trigonométricas

**LAS ECUACIONES TRIGONOMETRICAS**, es decir, las ecuaciones que contienen funciones trigonométricas de ángulos desconocidos, reciben el nombre de:

- a) ecuaciones idénticas o *identidades*, cuando son válidas para todos los valores de los ángulos desconocidos en los que estén definidas las funciones;
- b) ecuaciones condicionales o *ecuaciones*, si son válidas únicamente para determinados valores de los ángulos desconocidos.

Por ejemplo: a)  $\operatorname{sen} x \operatorname{csc} x = 1$  es una identidad porque se cumple para todos los valores de  $x$  en los que  $\operatorname{csc} x$  está definida;

b)  $\operatorname{sen} x = 0$  es una ecuación condicional porque no se cumple para  $x = \frac{1}{4}\pi$  ó  $\frac{3}{4}\pi$ .

En este capítulo se utilizará la palabra "ecuación" en vez de "ecuación condicional"

**UNA SOLUCION DE UNA ECUACION TRIGONOMETRICA**, como  $\operatorname{sen} x = 0$ , es un valor del ángulo  $x$  que satisface la ecuación. Dos soluciones de  $\operatorname{sen} x = 0$  son  $x = 0$  y  $x = \pi$ .

Cuando una ecuación dada tiene una solución, tiene, en general, un conjunto infinito de soluciones. Así, el conjunto de soluciones de  $\operatorname{sen} x = 0$  viene dado por

$$x = 0 + 2n\pi, \quad x = \pi + 2n\pi$$

donde  $n$  es cualquier entero positivo, negativo o cero.

En este capítulo se ofrecerán únicamente las soluciones particulares en las que  $0 \leq x < 2\pi$ .

**PROCEDIMIENTOS PARA RESOLVER ECUACIONES TRIGONOMETRICAS.** No existe un método general para resolver las ecuaciones trigonométricas. A continuación se dan tres procedimientos que pueden servir de modelo y, en los problemas resueltos, aparecen otros.

A) La ecuación puede descomponerse en factores.

**EJEMPLO 1.** Resolver  $\operatorname{sen} x - 2 \operatorname{sen} x \cos x = 0$ .

Al descomponer en factores  $\operatorname{sen} x - 2 \operatorname{sen} x \cos x = \operatorname{sen} x (1 - 2 \cos x) = 0$ , e igualar cada factor a cero, se tiene

$$\operatorname{sen} x = 0 \quad \text{y} \quad x = 0, \pi;$$

$$1 - 2 \cos x = 0 \quad \text{ó} \quad \cos x = \frac{1}{2} \quad \text{y} \quad x = \frac{\pi}{3}, \frac{5\pi}{3}$$

Comprobación. Para  $x = 0$ ,  $\operatorname{sen} x - 2 \operatorname{sen} x \cos x = 0 - 2(0)(1) = 0$ ;  
 para  $x = \pi/3$ ,  $\operatorname{sen} x - 2 \operatorname{sen} x \cos x = \frac{1}{2} - 2(\frac{1}{2})(\frac{1}{2}) = 0$ ;  
 para  $x = \pi$ ,  $\operatorname{sen} x - 2 \operatorname{sen} x \cos x = 0 - 2(0)(-1) = 0$ ;  
 para  $x = 5\pi/3$ ,  $\operatorname{sen} x - 2 \operatorname{sen} x \cos x = -\frac{1}{2} - 2(-\frac{1}{2})(\frac{1}{2}) = 0$ .

Así, las soluciones buscadas ( $0 \leq x < 2\pi$ ) son  $x = 0, \pi, \frac{\pi}{3}, \frac{5\pi}{3}$ .

B) Las distintas funciones que aparecen en la ecuación se pueden expresar en términos de una sola función.

EJEMPLO 2. Resolver  $2 \tan^2 x + \sec^2 x = 2$ . Al sustituir  $\sec^2 x$  por  $1 + \tan^2 x$ , se tiene

$$2 \tan^2 x + (1 + \tan^2 x) = 2, \quad 3 \tan^2 x = 1 \quad \text{y} \quad \tan x = \pm 1/\sqrt{3}.$$

De  $\tan x = 1/\sqrt{3}$ ,  $x = \pi/6$  y  $7\pi/6$ ; de  $\tan x = -1/\sqrt{3}$ ,  $x = 5\pi/6$  y  $11\pi/6$ . Después de comprobar cada uno de estos valores en la ecuación original, se encuentra que las soluciones buscadas ( $0 \leq x < 2\pi$ ) son  $x = \pi/6, 5\pi/6, 7\pi/6, 11\pi/6$ .

En el ejemplo siguiente se ilustra la necesidad de efectuar la comprobación.

EJEMPLO 3. Resolver  $\sec x + \tan x = 0$ .

Al multiplicar la ecuación  $\sec x + \tan x = \frac{1}{\cos x} + \frac{\operatorname{sen} x}{\cos x} = 0$  por  $\cos x$ , se tiene

$1 + \operatorname{sen} x = 0$  ó  $\operatorname{sen} x = -1$ ; entonces  $x = 3\pi/2$ . Sin embargo, ni  $\sec x$  ni  $\tan x$  están definidas cuando  $x = 3\pi/2$ , con lo que la ecuación no tiene solución.

C) Ambos miembros de la ecuación se elevan al cuadrado.

EJEMPLO 4. Resolver  $\operatorname{sen} x + \cos x = 1$ .

Si se aplicara el procedimiento utilizado en B), habría que sustituir  $\operatorname{sen} x$  por  $\pm \sqrt{1 - \cos^2 x}$  o  $\cos x$  por  $\pm \sqrt{1 - \operatorname{sen}^2 x}$ , lo que introduciría radicales en la ecuación. Para evitar esta dificultad, se escribe la ecuación en la forma  $\operatorname{sen} x = 1 - \cos x$  y se elevan ambos miembros al cuadrado. Entonces,

$$\begin{aligned} 1) \quad & \operatorname{sen}^2 x = 1 - 2 \cos x + \cos^2 x, \\ & 1 - \cos^2 x = 1 - 2 \cos x + \cos^2 x, \\ & 2 \cos^2 x - 2 \cos x = 2 \cos x (\cos x - 1) = 0. \end{aligned}$$

De  $\cos x = 0$ ,  $x = \pi/2, 3\pi/2$ ; de  $\cos x = 1$ ,  $x = 0$ .

Comprobación. Para  $x = 0$ ,  $\operatorname{sen} x + \cos x = 0 + 1 = 1$ ;  
para  $x = \pi/2$ ,  $\operatorname{sen} x + \cos x = 1 + 0 = 1$ ;  
para  $x = 3\pi/2$ ,  $\operatorname{sen} x + \cos x = -1 + 0 \neq 1$ .

Así, las soluciones buscadas son  $x = 0, \pi/2$ .

El valor  $x = 3\pi/2$ , llamado *solución extraña*, se introdujo cuando se elevaron al cuadrado ambos miembros de la ecuación. Obsérvese que también se obtiene 1) cuando ambos miembros de  $\operatorname{sen} x = \cos x - 1$  se elevan al cuadrado y que  $x = 3\pi/2$  satisface esta última relación.

## PROBLEMAS RESUELTOS

Resolver las ecuaciones trigonométricas 1-22 para todos los valores de  $x$  tales que  $0 \leq x < 2\pi$ . (Si se buscan todas las soluciones, añádase  $+2n\pi$ , a cada resultado obtenido, donde  $n$  es cualquier entero positivo, negativo o cero.) En algunos problemas se han omitido los detalles de la comprobación.

1.  $2 \operatorname{sen} x - 1 = 0$ .

Aquí,  $\operatorname{sen} x = 1/2$  y  $x = \pi/6, 5\pi/6$ .

2.  $\operatorname{sen} x \cos x = 0$ .

De  $\operatorname{sen} x = 0$ ,  $x = 0, \pi$ ; de  $\cos x = 0$ ,  $x = \pi/2, 3\pi/2$ .  
Las soluciones buscadas son  $x = 0, \pi/2, \pi, 3\pi/2$ .

3.  $(\tan x - 1)(4 \operatorname{sen}^2 x - 3) = 0$ .

De  $\tan x - 1 = 0$ ,  $\tan x = 1$  y  $x = \pi/4, 5\pi/4$ ; de  $4 \operatorname{sen}^2 x - 3 = 0$ ,  $\operatorname{sen} x = \pm \sqrt{3}/2$   
y  $x = \pi/3, 2\pi/3, 4\pi/3, 5\pi/3$ .

Las soluciones buscadas son  $x = \pi/4, \pi/3, 2\pi/3, 5\pi/4, 4\pi/3, 5\pi/3$ .

4.  $\operatorname{sen}^2 x + \operatorname{sen} x - 2 = 0.$

Se descompone en factores:  $(\operatorname{sen} x + 2)(\operatorname{sen} x - 1) = 0.$

De  $\operatorname{sen} x + 2 = 0$ ,  $\operatorname{sen} x = -2$  y no existe solución; de  $\operatorname{sen} x - 1 = 0$ ,  $\operatorname{sen} x = 1$  y  $x = \pi/2$ . La solución buscada es  $x = \pi/2$ .

5.  $3 \cos^2 x = \operatorname{sen}^2 x.$

*Primera solución.* Al sustituir  $\operatorname{sen}^2 x$  por  $1 - \cos^2 x$ , se obtiene  $3 \cos^2 x = 1 - \cos^2 x$  ó  $4 \cos^2 x = 1$ . Entonces  $\cos x = \pm 1/2$  y las soluciones buscadas son  $x = \pi/3, 2\pi/3, 4\pi/3, 5\pi/3$ .

*Segunda solución.* Al dividir la ecuación por  $\cos^2 x$ , se obtiene  $3 = \tan^2 x$ . Entonces  $\tan x = \pm \sqrt{3}$  y se llega a las mismas soluciones obtenidas anteriormente.

6.  $2 \operatorname{sen} x - \operatorname{csc} x = 1.$

Se multiplica la ecuación por  $\operatorname{sen} x$ ,  $2 \operatorname{sen}^2 x - 1 = \operatorname{sen} x$ , y se reordenan los términos para obtener

$$2 \operatorname{sen}^2 x - \operatorname{sen} x - 1 = (2 \operatorname{sen} x + 1)(\operatorname{sen} x - 1) = 0.$$

De  $2 \operatorname{sen} x + 1 = 0$ ,  $\operatorname{sen} x = -1/2$  y  $x = 7\pi/6, 11\pi/6$ ; de  $\operatorname{sen} x - 1 = 0$ ,  $x = \pi/2$ .

Comprobación. Para  $x = \pi/2$ ,  $2 \operatorname{sen} x - \operatorname{csc} x = 2(1) - 1 = 1$ ;

$$\text{para } x = 7\pi/6 \text{ y } 11\pi/6, 2 \operatorname{sen} x - \operatorname{csc} x = 2(-1/2) - (-2) = 1.$$

Las soluciones son  $x = \pi/2, 7\pi/6, 11\pi/6$ .

7.  $2 \sec x = \tan x + \cot x.$

Se expresan las funciones en términos de senos y cosenos y se simplifican las fracciones para obtener

$$\frac{2}{\cos x} = \frac{\operatorname{sen} x}{\cos x} + \frac{\cos x}{\operatorname{sen} x} \quad \text{ó} \quad 2 \operatorname{sen} x = \operatorname{sen}^2 x + \cos^2 x = 1.$$

Entonces  $\operatorname{sen} x = 1/2$  y  $x = \pi/6, 5\pi/6$ .

8.  $\tan x + 3 \cot x = 4.$

Se multiplica por  $\tan x$  y se reordenan los términos:

$$\tan^2 x - 4 \tan x + 3 = (\tan x - 1)(\tan x - 3) = 0.$$

De  $\tan x - 1 = 0$ ,  $\tan x = 1$  y  $x = \pi/4, 5\pi/4$ ; de  $\tan x - 3 = 0$ ,  $\tan x = 3$  y  $x = 71^\circ 34', 251^\circ 34'$

Comprobación. Para  $x = \pi/4$  y  $5\pi/4$ ,  $\tan x + 3 \cot x = 1 + 3(1) = 4$ ;

$$\text{para } x = 71^\circ 34' \text{ y } 251^\circ 34', \tan x + 3 \cot x = 3 + 3(1/3) = 4.$$

Las soluciones son  $45^\circ, 71^\circ 34', 225^\circ, 251^\circ 34'$ .

9.  $\operatorname{csc} x + \cot x = \sqrt{3}.$

*Primera solución.* Escribese la ecuación en la forma  $\operatorname{csc} x = \sqrt{3} - \cot x$  y elévese al cuadrado para obtener

$$\operatorname{csc}^2 x = 3 - 2\sqrt{3} \cot x + \cot^2 x.$$

Substitúyase  $\operatorname{csc}^2 x$  por  $1 + \cot^2 x$  y reagrupense los resultados para llegar a  $2\sqrt{3} \cot x - 2 = 0$ . Entonces  $\cot x = 1/\sqrt{3}$  y  $x = \pi/3, 4\pi/3$ .

Comprobación. Para  $x = \pi/3$ ,  $\operatorname{csc} x + \cot x = 2/\sqrt{3} + 1/\sqrt{3} = \sqrt{3}$ ;

$$\text{para } x = 4\pi/3, \operatorname{csc} x + \cot x = -2/\sqrt{3} + 1/\sqrt{3} \neq \sqrt{3}. \text{ La solución buscada es } x = \pi/3.$$

*Segunda solución.* Al efectuar las sustituciones indicadas, la ecuación se transforma en

$$\frac{1}{\operatorname{sen} x} + \frac{\cos x}{\operatorname{sen} x} = \sqrt{3} \text{ y, al simplificar las fracciones, } 1 + \cos x = \sqrt{3} \operatorname{sen} x.$$

Al elevar al cuadrado ambos miembros, se obtiene  $1 + 2 \cos x + \cos^2 x = 3 \operatorname{sen}^2 x = 3(1 - \cos^2 x)$  ó  $4 \cos^2 x + 2 \cos x - 2 = 2(2 \cos x - 1)(\cos x + 1) = 0$ .

De  $2 \cos x - 1 = 0$ ,  $\cos x = 1/2$  y  $x = \pi/3, 5\pi/3$ ; de  $\cos x + 1 = 0$ ,  $\cos x = -1$  y  $x = \pi$ .

Ahora bien,  $x = \pi/3$  es la solución, porque los valores  $x = \pi$  y  $5\pi/3$  han de desecharse puesto que  $\operatorname{csc} \pi$  no está definida y  $\operatorname{csc} 5\pi/3$  y  $\cot 5\pi/3$  son ambas negativas.

10.  $\cos x - \sqrt{3} \sin x = 1$ .

*Primera solución.* Si se expresa la ecuación en la forma  $\cos x - 1 = \sqrt{3} \sin x$  y se eleva al cuadrado, se obtiene

$$\cos^2 x - 2 \cos x + 1 = 3 \sin^2 x = 3(1 - \cos^2 x);$$

después, se reagrupa y se descompone en factores:

$$4 \cos^2 x - 2 \cos x - 2 = 2(2 \cos x + 1)(\cos x - 1) = 0.$$

De  $2 \cos x + 1 = 0$ ,  $\cos x = -1/2$  y  $x = 2\pi/3, 4\pi/3$ ; de  $\cos x - 1 = 0$ ,  $\cos x = 1$  y  $x = 0$ .

Comprobación. Para  $x = 0$ ,  $\cos x - \sqrt{3} \sin x = 1 - \sqrt{3}(0) = 1$ ;

para  $x = 2\pi/3$ ,  $\cos x - \sqrt{3} \sin x = -1/2 - \sqrt{3}(\sqrt{3}/2) \neq 1$ ;

para  $x = 4\pi/3$ ,  $\cos x - \sqrt{3} \sin x = -1/2 - \sqrt{3}(-\sqrt{3}/2) = 1$ .

Las soluciones buscadas son  $x = 0, 4\pi/3$ .

*Segunda solución.* Se escribe el miembro izquierdo de la ecuación en la forma

$$\sin \theta \cos x + \cos \theta \sin x = \sin(\theta + x),$$

en la que  $\theta$  es un ángulo conocido, y se divide la ecuación por  $r > 0$ ,  $\frac{1}{r} \cos x + (\frac{-\sqrt{3}}{r}) \sin x = \frac{1}{r}$ ,

donde  $\sin \theta = \frac{1}{r}$  y  $\cos \theta = \frac{-\sqrt{3}}{r}$ . Como  $\sin^2 \theta + \cos^2 \theta = 1$ ,  $(\frac{1}{r})^2 + (\frac{-\sqrt{3}}{r})^2 = 1$  y  $r = 2$ . Puesto que

$\sin \theta = 1/2$ ,  $\cos \theta = -\sqrt{3}/2$  de modo que la ecuación dada puede expresarse como  $\sin(\theta + x) = 1/2$  con  $\theta = 5\pi/6$ . Entonces  $\theta + x = 5\pi/6 + x = \arcsin 1/2 = \pi/6, 5\pi/6, 13\pi/6, 17\pi/6, \dots$  y  $x = -2\pi/3, 0, 4\pi/3, 2\pi, \dots$ . Como antes, las soluciones buscadas son  $x = 0, 4\pi/3$ .

Obsérvese que  $r$  es la raíz cuadrada positiva de la suma de los cuadrados de los coeficientes de  $\cos x$  y  $\sin x$  cuando la ecuación se escribe en la forma  $a \cos x + b \sin x = c$ , esto es,

$$r = \sqrt{a^2 + b^2}.$$

La ecuación no tiene solución si  $\frac{c}{\sqrt{a^2 + b^2}}$  es mayor que 1 o menor que -1.

11.  $2 \cos x = 1 - \sin x$ .

*Primera solución.* Como en el problema 10, se tiene

$$4 \cos^2 x = 1 - 2 \sin x + \sin^2 x,$$

$$4(1 - \sin^2 x) = 1 - 2 \sin x + \sin^2 x,$$

$$5 \sin^2 x - 2 \sin x - 3 = (5 \sin x + 3)(\sin x - 1) = 0.$$

De  $5 \sin x + 3 = 0$ ,  $\sin x = -3/5 = -0,6000$  y  $x = 216^\circ 52', 323^\circ 8'$ ; de  $\sin x - 1 = 0$ ,  $\sin x = 1$  y  $x = \pi/2$ .

Comprobación. Para  $x = \pi/2$ ,  $2(0) = 1 - 1$ ;

para  $x = 216^\circ 52'$ ,  $2(-4/5) = 1 - (-3/5)$ ;

para  $x = 323^\circ 8'$ ,  $2(4/5) = 1 - (-3/5)$ .

Las soluciones buscadas son  $x = 90^\circ, 323^\circ 8'$ .

*Segunda solución.* Al escribir la ecuación en la forma  $2 \cos x + \sin x = 1$  y dividir por  $r = \sqrt{2^2 + 1^2} = \sqrt{5}$ , se obtiene

$$1) \quad \frac{2}{\sqrt{5}} \cos x + \frac{1}{\sqrt{5}} \sin x = \frac{1}{\sqrt{5}}.$$

Sea  $\sin \theta = 2/\sqrt{5}$ ,  $\cos \theta = 1/\sqrt{5}$ ; entonces 1) se convierte en

$$\sin \theta \cos x + \cos \theta \sin x = \sin(\theta + x) = \frac{1}{\sqrt{5}}$$

donde  $\theta = 63^\circ 26'$ . Por tanto,  $\theta + x = 63^\circ 26' + x = \arcsin(1/\sqrt{5}) = \arcsin(0,4472) = 26^\circ 34', 153^\circ 26', 386^\circ 34', \dots$  y  $x = 90^\circ, 323^\circ 8'$  como anteriormente.

Ecuaciones que contienen ángulos múltiples.

12.  $\operatorname{sen} 3x = -\frac{1}{2}\sqrt{2}$ .

Como se buscan valores de  $x$  tales que  $0 \leq x < 2\pi$ ,  $3x$  tiene que ser tal que  $0 \leq 3x < 6\pi$ .

Entonces  $3x = 5\pi/4, 7\pi/4, 13\pi/4, 15\pi/4, 21\pi/4, 23\pi/4$  y

$x = 5\pi/12, 7\pi/12, 13\pi/12, 5\pi/4, 7\pi/4, 23\pi/12$ . Cada uno de estos valores es una solución.

13.  $\cos \frac{1}{2}x = \frac{1}{2}$ .

Como se buscan valores de  $x$  tales que  $0 \leq x < 2\pi$ ,  $\frac{1}{2}x$  tiene que ser tal que  $0 \leq \frac{1}{2}x < \pi$ .

Entonces  $\frac{1}{2}x = \pi/3$  y  $x = 2\pi/3$ .

14.  $\operatorname{sen} 2x + \cos x = 0$ .

Se efectúa la sustitución correspondiente a  $\operatorname{sen} 2x$ , y se obtiene

$$2 \operatorname{sen} x \cos x + \cos x = \cos x (2 \operatorname{sen} x + 1) = 0.$$

De  $\cos x = 0$ ,  $x = \pi/2, 3\pi/2$ ; de  $\operatorname{sen} x = -1/2$ ,  $x = 7\pi/6, 11\pi/6$ .

Las soluciones buscadas son  $x = \pi/2, 7\pi/6, 3\pi/2, 11\pi/6$ .

15.  $2 \cos^2 \frac{1}{2}x = \cos^2 x$ .

Si se escribe  $1 + \cos x$  en vez de  $2 \cos^2 \frac{1}{2}x$ , la ecuación se transforma en  $\cos^2 x - \cos x - 1 = 0$ ; entonces  $\cos x = \frac{1 \pm \sqrt{5}}{2} = 1,6180, -0,6180$ . Puesto que  $\cos x$  no puede ser mayor que 1, se considera únicamente  $\cos x = -0,6180$  con lo que se obtienen las soluciones  $x = 128^\circ 10', 231^\circ 50'$ .

Nota. Para resolver  $\sqrt{2} \cos \frac{1}{2}x = \cos x$  y  $\sqrt{2} \cos \frac{1}{2}x = -\cos x$ , se elevan al cuadrado ambas igualdades y se obtienen las ecuaciones de este problema. La solución de la primera de estas ecuaciones es  $231^\circ 50'$  y la solución de la segunda es  $128^\circ 10'$ .

16.  $\cos 2x + \cos x + 1 = 0$ .

Si se escribe  $2 \cos^2 x - 1$  en vez de  $\cos 2x$ , se tiene  $2 \cos^2 x + \cos x = \cos x (2 \cos x + 1) = 0$ .

De  $\cos x = 0$ ,  $x = \pi/2, 3\pi/2$ ; de  $\cos x = -1/2$ ,  $x = 2\pi/3, 4\pi/3$ .

Las soluciones buscadas son  $x = \pi/2, 2\pi/3, 3\pi/2, 4\pi/3$ .

17.  $\tan 2x + 2 \operatorname{sen} x = 0$ .

Mediante  $\tan 2x = \frac{\operatorname{sen} 2x}{\cos 2x} = \frac{2 \operatorname{sen} x \cos x}{\cos 2x}$ , se llega a

$$\frac{2 \operatorname{sen} x \cos x}{\cos 2x} + 2 \operatorname{sen} x = 2 \operatorname{sen} x \left( \frac{\cos x}{\cos 2x} + 1 \right) = 2 \operatorname{sen} x \left( \frac{\cos x + \cos 2x}{\cos 2x} \right) = 0.$$

De  $\operatorname{sen} x = 0$ ,  $x = 0, \pi$ ; de  $\cos x + \cos 2x = \cos x + 2 \cos^2 x - 1 = (2 \cos x - 1)(\cos x + 1) = 0$ ,  $x = \pi/3, 5\pi/3$ , y  $\pi$ . Las soluciones buscadas son  $x = 0, \pi/3, \pi, 5\pi/3$ .

18.  $\operatorname{sen} 2x = \operatorname{csc} 2x$ .

Primera solución. Tómese  $2x = \theta$ ; entonces, es necesario resolver  $\operatorname{sen} \theta = \operatorname{csc} \theta$  para  $0 \leq \theta < 4\pi$ . Entonces  $\theta = \pi/4, 5\pi/4, 9\pi/4, 13\pi/4$  y  $x = \theta/2 = \pi/8, 5\pi/8, 9\pi/8, 13\pi/8$  son las soluciones.

Segunda solución. Dividida por  $\cos 2x$ , la ecuación se transforma en  $\tan 2x = 1$  con lo que  $2x = \pi/4, 5\pi/4, 9\pi/4, 13\pi/4$ , como en la primera solución.

19.  $\text{sen } 2x = \cos 4x$ .

Como  $\cos 4x = \cos 2(2x) = 1 - 2 \text{sen}^2 2x$ , la ecuación puede expresarse en la forma  $2 \text{sen}^2 2x + \text{sen } 2x - 1 = (2 \text{sen } 2x - 1)(\text{sen } 2x + 1) = 0$ .

De  $2 \text{sen } 2x - 1 = 0$  ó  $\text{sen } 2x = 1/2$ ,  $2x = \pi/6, 5\pi/6, 13\pi/6, 17\pi/6$  y  $x = \pi/12, 5\pi/12, 13\pi/12, 17\pi/12$ ; de  $\text{sen } 2x + 1 = 0$  ó  $\text{sen } 2x = -1$ ,  $2x = 3\pi/2, 7\pi/2$  y  $x = 3\pi/4, 7\pi/4$ .

Todos estos valores son soluciones.

$$2x = \frac{\pi}{2} - 4x \quad 6x = -\frac{\pi}{2} \quad \frac{\pi}{12}$$

20.  $\text{sen } 3x = \cos 2x$ .

Para evitar la sustitución de  $\text{sen } 3x$ , se puede utilizar uno de los procedimientos siguientes:

*Primera solución.* Ya que  $\cos 2x = \text{sen}(\frac{1}{2}\pi - 2x)$  y además,  $\cos 2x = \text{sen}(\frac{1}{2}\pi + 2x)$ , considérese

- a)  $\text{sen } 3x = \text{sen}(\frac{1}{2}\pi - 2x)$ , puesto que  $3x = \pi/2 - 2x, 5\pi/2 - 2x, 9\pi/2 - 2x, \dots$  y
- b)  $\text{sen } 3x = \text{sen}(\frac{1}{2}\pi + 2x)$ , puesto que  $3x = \pi/2 + 2x, 5\pi/2 + 2x, 9\pi/2 + 2x, \dots$

De a),  $5x = \pi/2, 5\pi/2, 9\pi/2, 13\pi/2, 17\pi/2$  (puesto que  $5x < 10\pi$ ); y de b),  $x = \pi/2$ . Las soluciones buscadas son  $x = \pi/10, \pi/2, 9\pi/10, 13\pi/10, 17\pi/10$ .

*Segunda solución.* Ya que  $\text{sen } 3x = \cos(\frac{1}{2}\pi - 3x)$  y  $\cos 2x = \cos(-2x)$ , considérese

- c)  $\cos 2x = \cos(\frac{1}{2}\pi - 3x)$ , puesto que  $5x = \pi/2, 5\pi/2, 9\pi/2, 13\pi/2, 17\pi/2$ , y
- d)  $\cos(-2x) = \cos(\frac{1}{2}\pi - 3x)$ , puesto que  $x = \pi/2$ , como antes.

21.  $\tan 4x = \cot 6x$ .

Como  $\cot 6x = \tan(\frac{1}{2}\pi - 6x)$ , considérese la ecuación  $\tan 4x = \tan(\frac{1}{2}\pi - 6x)$ .

Entonces,  $4x = \pi/2 - 6x, 3\pi/2 - 6x, 5\pi/2 - 6x, \dots$ , porque el período de la función  $\tan \theta$  es  $\pi$ .

Así,  $10x = \pi/2, 3\pi/2, 5\pi/2, 7\pi/2, 9\pi/2, \dots, 39\pi/2$  y las soluciones buscadas son  $x = \pi/20, 3\pi/20, \pi/4, 7\pi/20, \dots, 39\pi/20$ .

22.  $\text{sen } 5x - \text{sen } 3x - \text{sen } x = 0$ .

Se sustituye  $\text{sen } 5x - \text{sen } 3x$  por  $2 \cos 4x \text{sen } x$  (capítulo 12), para transformar la ecuación dada en  $2 \cos 4x \text{sen } x - \text{sen } x = \text{sen } x (2 \cos 4x - 1) = 0$ .

De  $\text{sen } x = 0$ ,  $x = 0, \pi$ ; de  $2 \cos 4x - 1 = 0$  ó  $\cos 4x = 1/2$ ,  $4x = \pi/3, 5\pi/3, 7\pi/3, 11\pi/3, 13\pi/3, 17\pi/3, 19\pi/3, 23\pi/3$  y  $x = \pi/12, 5\pi/12, 7\pi/12, 11\pi/12, 13\pi/12, 17\pi/12, 19\pi/12, 23\pi/12$ . Cada uno de los valores obtenidos es una solución.

23. Resolver el sistema  $(1) r \text{sen } \theta = 2$   
 $(2) r \cos \theta = 3$  para  $r > 0$  y  $0 \leq \theta < 2\pi$ .

Se eleva al cuadrado cada ecuación y, después, se suman las ecuaciones resultantes, con lo que  $r^2 \text{sen}^2 \theta + r^2 \cos^2 \theta = r^2 = 13$  y  $r = \sqrt{13} = 3,606$ .

Cuando  $r > 0$ ,  $\text{sen } \theta$  y  $\cos \theta$  son ambos  $> 0$  y  $\theta$  es agudo.

Si se divide (1) por (2),  $\tan \theta = 2/3 = 0,6667$  y  $\theta = 33^\circ 41'$ .

24. Resolver el sistema  $(1) r \text{sen } \theta = 3$   
 $(2) r = 4(1 + \text{sen } \theta)$  para  $r > 0$  y  $0 \leq \theta < 2\pi$ .

Si se divide (2) por (1),  $\frac{1}{\text{sen } \theta} = \frac{4(1 + \text{sen } \theta)}{3}$  ó  $4 \text{sen}^2 \theta + 4 \text{sen } \theta - 3 = 0$  y

$$(2 \text{sen } \theta + 3)(2 \text{sen } \theta - 1) = 0$$

De  $2 \text{sen } \theta - 1 = 0$ ,  $\text{sen } \theta = 1/2$ ,  $\theta = \pi/6$  y  $5\pi/6$ ; según (1),  $r(1/2) = 3$  y  $r = 6$ . Obsérvese que no se considera  $2 \text{sen } \theta + 3 = 0$  porque, cuando  $r > 0$ ,  $\text{sen } \theta > 0$  por (1).

Las soluciones buscadas son  $\theta = \pi/6, r = 6$  y  $\theta = 5\pi/6, r = 6$ .

25. Resolver el sistema  $\begin{cases} (1) \operatorname{sen} x + \operatorname{sen} y = 1,2 \\ (2) \operatorname{cos} x + \operatorname{cos} y = 1,5 \end{cases}$  para  $0 \leq x, y < 2\pi$ .

Como cada una de las sumas que aparecen en el miembro izquierdo de cada ecuación es mayor que 1, todas las funciones son positivas y tanto  $x$  como  $y$  son agudos.

Aplicadas las fórmulas convenientes del capítulo 12, se obtiene

$$(1') \quad 2 \operatorname{sen} \frac{1}{2}(x+y) \operatorname{cos} \frac{1}{2}(x-y) = 1,2$$

$$(2') \quad 2 \operatorname{cos} \frac{1}{2}(x+y) \operatorname{cos} \frac{1}{2}(x-y) = 1,5.$$

Si se divide (1') por (2'),  $\frac{\operatorname{sen} \frac{1}{2}(x+y)}{\operatorname{cos} \frac{1}{2}(x+y)} = \tan \frac{1}{2}(x+y) = \frac{1,2}{1,5} = 0,8000$  y  $\frac{1}{2}(x+y) = 38^\circ 40'$  porque  $\frac{1}{2}(x+y)$  es también agudo.

La sustitución de  $\operatorname{sen} \frac{1}{2}(x+y) = 0,6248$  en (1'), lleva a  $\operatorname{cos} \frac{1}{2}(x-y) = \frac{0,6}{0,6248} = 0,9603$  y  $\frac{1}{2}(x-y) = 16^\circ 12'$ .

$$\text{Entonces } x = \frac{1}{2}(x+y) + \frac{1}{2}(x-y) = 54^\circ 52' \quad \text{y} \quad y = \frac{1}{2}(x+y) - \frac{1}{2}(x-y) = 22^\circ 28'.$$

26. Resolver  $\operatorname{Arc} \cos 2x = \operatorname{Arc} \operatorname{sen} x$ .

Si  $x$  es positivo,  $\alpha = \operatorname{Arc} \cos 2x$  y  $\beta = \operatorname{Arc} \operatorname{sen} x$  pertenecen al cuadrante I; si  $x$  es negativo,  $\alpha$  pertenece al cuadrante II y  $\beta$  pertenece al cuadrante IV. Así,  $x$  ha de ser positivo.

Para  $x$  positivo,  $\operatorname{sen} \beta = x$  y  $\operatorname{cos} \beta = \sqrt{1-x^2}$ . Si ahora se expresan los cosenos de ambos miembros de la ecuación dada, se obtiene

$$\operatorname{cos}(\operatorname{Arc} \cos 2x) = \operatorname{cos}(\operatorname{Arc} \operatorname{sen} x) = \operatorname{cos} \beta \quad \text{ó} \quad 2x = \sqrt{1-x^2}.$$

Al elevar al cuadrado,  $4x^2 = 1 - x^2$ ,  $5x^2 = 1$  y  $x = \sqrt{5}/5 = 0,4472$ .

Comprobación.  $\operatorname{Arc} \cos 2x = \operatorname{Arc} \cos 0,8944 = 26^\circ 30' = \operatorname{Arc} \operatorname{sen} 0,4472$ , donde el arco está expresado con una aproximación de  $10'$ .

27. Resolver  $\operatorname{Arc} \cos(2x^2 - 1) = 2 \operatorname{Arc} \cos \frac{1}{2}$ .

Sea  $\alpha = \operatorname{Arc} \cos(2x^2 - 1)$  y  $\beta = \operatorname{Arc} \cos \frac{1}{2}$ ; entonces  $\operatorname{cos} \alpha = 2x^2 - 1$  y  $\operatorname{cos} \beta = \frac{1}{2}$ .

Si se escriben los cosenos de ambos miembros de la ecuación dada, se obtiene

$$\operatorname{cos} \alpha = 2x^2 - 1 = \operatorname{cos} 2\beta = 2 \operatorname{cos}^2 \beta - 1 = 2\left(\frac{1}{2}\right)^2 - 1 = -\frac{1}{2}.$$

Entonces  $2x^2 = \frac{1}{2}$  y  $x = \pm \frac{1}{2}$ .

Comprobación. Para  $x = \pm \frac{1}{2}$ ,  $\operatorname{Arc} \cos\left(-\frac{1}{2}\right) = 2 \operatorname{Arc} \cos \frac{1}{2}$  ó  $120^\circ = 2(60^\circ)$ .

28. Resolver  $\operatorname{Arc} \cos 2x - \operatorname{Arc} \cos x = \pi/3$ .

Si  $x$  es positivo,  $0 < \operatorname{Arc} \cos 2x < \operatorname{Arc} \cos x$ ; si  $x$  es negativo,  $\operatorname{Arc} \cos 2x > \operatorname{Arc} \cos x > 0$ .

Entonces,  $x$  ha de ser negativo.

Tómese  $\alpha = \operatorname{Arc} \cos 2x$  y  $\beta = \operatorname{Arc} \cos x$ ; entonces  $\operatorname{cos} \alpha = 2x$ ,  $\operatorname{sen} \alpha = \sqrt{1-4x^2}$ ,  $\operatorname{cos} \beta = x$  y  $\operatorname{sen} \beta = \sqrt{1-x^2}$  porque tanto  $\alpha$  como  $\beta$  pertenecen al cuadrante II.

Si se expresan los cosenos de ambos miembros de la ecuación dada,

$$\operatorname{cos}(\alpha - \beta) = \operatorname{cos} \alpha \operatorname{cos} \beta + \operatorname{sen} \alpha \operatorname{sen} \beta = 2x + \sqrt{1-4x^2} \sqrt{1-x^2} = \operatorname{cos} \pi/3 = \frac{1}{2}$$

$$\text{o} \quad \sqrt{1-4x^2} \sqrt{1-x^2} = \frac{1}{2} - 2x^2.$$

Al elevar al cuadrado  $1 - 5x^2 + 4x^4 = \frac{1}{4} - 2x^2 + 4x^4$ ,  $3x^2 = \frac{1}{4}$  y  $x = -\frac{1}{2}$ .

Comprobación.  $\operatorname{Arc} \cos(-1) - \operatorname{Arc} \cos\left(-\frac{1}{2}\right) = \pi - 2\pi/3 = \pi/3$ .

29. Resolver  $\text{Arc sen } 2x = \frac{1}{4}\pi - \text{Arc sen } x$ .

Tómese  $\alpha = \text{Arc sen } 2x$  y  $\beta = \text{Arc sen } x$ ; entonces  $\text{sen } \alpha = 2x$  y  $\text{sen } \beta = x$ . Si  $x$  es negativo,  $\alpha$  y  $\beta$  pertenecen al cuadrante IV. Así,  $x$  ha de ser positivo y  $\beta$  ha de ser agudo.

Si se escriben los senos de ambos miembros de la ecuación dada,

$$\text{sen } \alpha = \text{sen}(\frac{1}{4}\pi - \beta) = \text{sen } \frac{1}{4}\pi \cos \beta - \cos \frac{1}{4}\pi \text{sen } \beta$$

o 
$$2x = \frac{1}{2}\sqrt{2} \sqrt{1-x^2} - \frac{1}{2}\sqrt{2}x \quad \text{y} \quad (2\sqrt{2}+1)x = \sqrt{1-x^2}$$

Al elevar al cuadrado,  $(8+4\sqrt{2}+1)x^2 = 1-x^2$ ,  $x^2 = 1/(10+4\sqrt{2})$ , y  $x = 0,2527$ .

Comprobación.  $\text{Arc sen } 0,5054 = 30^\circ 22'$ ;  $\text{Arc sen } 0,2527 = 14^\circ 38'$  y  $\frac{1}{4}\pi - 14^\circ 38' = 30^\circ 22'$ .

30. Resolver  $\text{Arc tan } x + \text{Arc tan}(1-x) = \text{Arc tan } 4/3$ .

Tómese  $\alpha = \text{Arc tan } x$  y  $\beta = \text{Arc tan}(1-x)$ ; entonces  $\text{tan } \alpha = x$  y  $\text{tan } \beta = 1-x$ .

Si se expresan las tangentes de ambos miembros de la ecuación dada,

$$\text{tan}(\alpha + \beta) = \frac{\text{tan } \alpha + \text{tan } \beta}{1 - \text{tan } \alpha \text{tan } \beta} = \frac{x + (1-x)}{1 - x(1-x)} = \frac{1}{1-x+x^2} = \text{tan}(\text{Arc tan } 4/3) = 4/3.$$

Entonces  $3 = 4 - 4x + 4x^2$ ,  $4x^2 - 4x + 1 = (2x-1)^2 = 0$  y  $x = \frac{1}{2}$ .

Comprobación.  $\text{Arc tan } \frac{1}{2} + \text{Arc tan}(1 - \frac{1}{2}) = 2 \text{Arc tan } 0,5000 = 53^\circ 8'$  y  
 $\text{Arc tan } 4/3 = \text{Arc tan } 1,3333 = 53^\circ 8'$ .

### PROBLEMAS PROPUESTOS

Resolver cada una de las siguientes ecuaciones para todos los valores de  $x$  tales que  $0 \leq x < 2\pi$ .

- |   |   |
|---|---|
| 31. $\text{sen } x = \sqrt{3}/2$ .                        | Resp. $\pi/3, 2\pi/3$                                       |
| 32. $\text{cos}^2 x = 1/2$ .                              | Resp. $\pi/4, 3\pi/4, 5\pi/4, 7\pi/4$                       |
| 33. $\text{sen } x \cos x = 0$ .                          | Resp. $0, \pi/2, \pi, 3\pi/2$                               |
| 34. $(\text{tan } x - 1)(2 \text{sen } x + 1) = 0$ .      | Resp. $\pi/4, 7\pi/6, 5\pi/4, 11\pi/6$                      |
| 35. $2 \text{sen}^2 x - \text{sen } x - 1 = 0$ .          | Resp. $\pi/2, 7\pi/6, 11\pi/6$                              |
| 36. $\text{sen } 2x + \text{sen } x = 0$ .                | Resp. $0, 2\pi/3, \pi, 4\pi/3$                              |
| 37. $\text{cos } x + \text{cos } 2x = 0$ .                | Resp. $\pi/3, \pi, 5\pi/3$                                  |
| 38. $2 \text{tan } x \text{sen } x - \text{tan } x = 0$ . | Resp. $0, \pi/6, 5\pi/6, \pi$                               |
| 39. $2 \text{cos } x + \sec x = 3$ .                      | Resp. $0, \pi/3, 5\pi/3$                                    |
| 40. $2 \text{sen } x + \csc x = 3$ .                      | Resp. $\pi/6, \pi/2, 5\pi/6$                                |
| 41. $\text{sen } x + 1 = \text{cos } x$ .                 | Resp. $0, 3\pi/2$   |
| 42. $\sec x - 1 = \text{tan } x$ .                        | Resp. $0$   |
| 43. $2 \text{cos } x + 3 \text{sen } x = 2$ .             | Resp. $0^\circ, 112^\circ 37'$                              |
| 44. $3 \text{sen } x + 5 \text{cos } x + 5 = 0$ .         | Resp. $180^\circ, 241^\circ 56'$                            |
| 45. $1 + \text{sen } x = 2 \text{cos } x$ .               | Resp. $36^\circ 52', 270^\circ$                             |
| 46. $3 \text{sen } x + 4 \text{cos } x = 2$ .             | Resp. $103^\circ 18', 330^\circ 27'$                        |
| 47. $\text{sen } 2x = -\sqrt{3}/2$ .                      | Resp. $2\pi/3, 5\pi/6, 5\pi/3, 11\pi/6$                     |
| 48. $\text{tan } 3x = 1$ .                                | Resp. $\pi/12, 5\pi/12, 3\pi/4, 13\pi/12, 17\pi/12, 7\pi/4$ |
| 49. $\text{cos } x/2 = \sqrt{3}/2$ .                      | Resp. $\pi/3$   |
| 50. $\cot x/3 = -1/\sqrt{3}$ .                            | Resp. No existe solución en el intervalo dado               |



51.  $\text{sen } x \cos x = 1/2$ . Resp.  $\pi/4, 5\pi/4$   
 52.  $\text{sen } x/2 + \cos x = 1$ . Resp.  $0, \pi/3, 5\pi/3$   
 53.  $\text{sen } 3x + \text{sen } x = 0$ . Resp.  $0, \pi/2, \pi, 3\pi/2$   
 54.  $\cos 2x + \cos 3x = 0$ . Resp.  $\pi/5, 3\pi/5, \pi, 7\pi/5, 9\pi/5$   
 55.  $\text{sen } 2x + \text{sen } 4x = 2 \text{sen } 3x$ . Resp.  $0, \pi/3, 2\pi/3, \pi, 4\pi/3, 5\pi/3$   
 56.  $\cos 5x + \cos x = 2 \cos 2x$ . Resp.  $0, \pi/4, 2\pi/3, 3\pi/4, 5\pi/4, 4\pi/3, 7\pi/4$   
 57.  $\text{sen } x + \text{sen } 3x = \cos x + \cos 3x$ . Resp.  $\pi/8, \pi/2, 5\pi/8, 9\pi/8, 3\pi/2, 13\pi/8$

Resolver cada uno de los siguientes sistemas para  $r \geq 0$  y  $0 \leq \theta < 2\pi$ .

58.  $r = a \text{sen } \theta$   
 $r = a \cos 2\theta$  Resp.  $\theta = \pi/6, r = a/2$   
 $\theta = 5\pi/6, r = a/2; \theta = 3\pi/2, r = -a$   
 59.  $r = a \cos \theta$   
 $r = a \text{sen } 2\theta$  Resp.  $\theta = 0 = \pi/2, r = 0; \theta = 3\pi/2, r = 0$   
 $\theta = \pi/6, r = \sqrt{3}a/2$   
 $\theta = 5\pi/6, r = -\sqrt{3}a/2$   
 60.  $r = 4(1 + \cos \theta)$   
 $r = 3 \text{sec } \theta$  Resp.  $\theta = \pi/3, r = 6$   
 $\theta = 5\pi/3, r = 6$

Resolver cada una de las siguientes ecuaciones.

61.  $\text{Arc tan } 2x + \text{Arc tan } x = \pi/4$ . Resp.  $x = 0,281$   
 62.  $\text{Arc sen } x + \text{Arc tan } x = \pi/2$ . Resp.  $x = 0,786$   
 63.  $\text{Arc cos } x + \text{Arc tan } x = \pi/2$ . Resp.  $x = 0$

## PROBLEMAS PROPUESTOS

- Investigando cada una de las siguientes ecuaciones para todos los valores de  $x$  que satisficieran la ecuación.
31.  $\text{sen } x = \sqrt{3}/2$   
 32.  $\cos x = 1/2$   
 33.  $\text{sen } x = \sqrt{2}/2$   
 34.  $(\text{sen } x - 1) \text{sen } x = 0$   
 35.  $\text{sen } x - \cos x = 0$   
 36.  $\text{sen } x + \cos x = 0$   
 37.  $\cos x + \cos 2x = 0$   
 38.  $2 \text{sen } x \cos x - \text{sen } x = 0$   
 39.  $2 \text{sen } x + \cos x = 0$   
 40.  $2 \text{sen } x + \cos x = 2$   
 41.  $\text{sen } x + 1 = \cos x$   
 42.  $\cos x = 1 - \text{sen } x$   
 43.  $\text{sen } x + 2 \cos x = 2$   
 44.  $2 \text{sen } x + 2 \cos x + 8 = 0$   
 45.  $1 + \cos x = 2 \text{sen } x$   
 46.  $2 \text{sen } x + \cos x = \sqrt{2}$   
 47.  $\text{sen } x = -\sqrt{3}/2$   
 48.  $\text{sen } x = 1$   
 49.  $\cos x = \sqrt{3}/2$   
 50.  $\cos x = -\sqrt{3}/2$

## Números complejos

**NUMEROS IMAGINARIOS PUROS.** La raíz cuadrada de un número negativo (por ejemplo,  $\sqrt{-1}$ ,  $\sqrt{-5}$ ,  $\sqrt{-9}$ ) recibe el nombre de *número imaginario puro*. Como, por definición,  $\sqrt{-5} = \sqrt{5} \cdot \sqrt{-1}$  y  $\sqrt{-9} = \sqrt{9} \cdot \sqrt{-1} = 3\sqrt{-1}$ , es conveniente utilizar el símbolo  $i = \sqrt{-1}$  y adoptar  $\sqrt{-5} = i\sqrt{5}$  y  $\sqrt{-9} = 3i$  como la forma normal de expresar estos números.

El símbolo  $i$  tiene la siguiente propiedad  $i^2 = -1$ . Para potencias enteras mayores se tiene que  $i^3 = i^2 \cdot i = (-1)i = -i$ ,  $i^4 = (i^2)^2 = (-1)^2 = 1$ ,  $i^5 = i^4 \cdot i = i$ , etc.

El uso de la forma normal simplifica las operaciones con los números imaginarios puros y evita la posibilidad de cometer ciertos errores comunes. Así,  $\sqrt{-9} \cdot \sqrt{4} = \sqrt{-36} = 6i$  porque  $\sqrt{-9} \cdot \sqrt{4} = 3i(2) = 6i$  pero  $\sqrt{-9} \cdot \sqrt{4} \neq \sqrt{36}$  ya que  $\sqrt{-9} \cdot \sqrt{4} = (3i)(2) = 6i^2 = -6$ .

**NUMEROS COMPLEJOS.** Un número de la forma  $a + bi$ , donde  $a$  y  $b$  son números reales, recibe el nombre de *número complejo*. El primer término,  $a$ , es la *parte real* del número complejo, y el segundo término,  $bi$ , es la *parte imaginaria pura*.

Puede considerarse que en los números complejos están incluidos todos los números reales y todos los números imaginarios puros. Por ejemplo,  $5 = 5 + 0i$  y  $3i = 0 + 3i$ .

Dos números complejos  $a + bi$  y  $c + di$  son *iguales* solamente si  $a = c$  y  $b = d$ .

El *conjugado* de un número complejo  $a + bi$  es el número complejo  $a - bi$ . Así,  $2 + 3i$  y  $2 - 3i$ ,  $-3 + 4i$  y  $-3 - 4i$  son pares de números complejos conjugados.

## OPERACIONES ALGEBRAICAS.

1) *Adición.* Para sumar dos números complejos, se suman, separadamente, sus partes reales y sus partes imaginarias puras.

EJEMPLO 1.  $(2 + 3i) + (4 - 5i) = (2 + 4) + (3 - 5)i = 6 - 2i$ .

2) *Sustracción.* Para restar dos números complejos, se restan, separadamente, las partes reales y las partes imaginarias puras.

EJEMPLO 2.  $(2 + 3i) - (4 - 5i) = (2 - 4) + [3 - (-5)]i = -2 + 8i$ .

3) *Multipliación.* Para multiplicar dos números complejos, se efectúa la operación como si fueran dos binomios algebraicos corrientes, y se sustituye  $i^2$  por  $-1$ .

EJEMPLO 3.  $(2 + 3i)(4 - 5i) = 8 + 2i - 15i^2 = 8 + 2i - 15(-1) = 23 + 2i$ .

4) *División.* Para dividir dos números complejos, se multiplican el numerador y el denominador de la fracción por el conjugado del denominador.

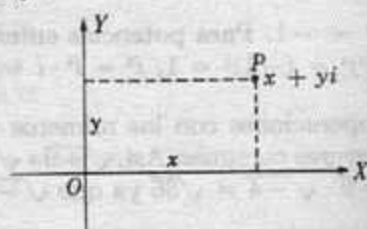
EJEMPLO 4.  $\frac{2 + 3i}{4 - 5i} = \frac{(2 + 3i)(4 + 5i)}{(4 - 5i)(4 + 5i)} = \frac{(8 - 15) + (10 + 12)i}{16 + 25} = -\frac{7}{41} + \frac{22}{41}i$ .

(Obsérvese la forma del resultado; no es  $-\frac{7 + 22i}{41}$  ni  $\frac{1}{41}(-7 + 22i)$ .)

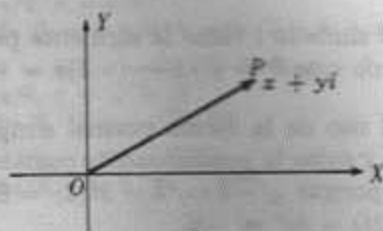
(Véanse los problemas 1-9.)

**REPRESENTACION GRAFICA DE LOS NUMEROS COMPLEJOS.** El número complejo  $x + yi$  se puede representar gráficamente por el punto  $P$  (véase la Fig. 18-A) cuyas coordenadas rectangulares son  $(x, y)$ .

El punto  $O$ , cuyas coordenadas son  $(0, 0)$  representa el número complejo  $0 + 0i$ . Todos los puntos situados en el eje de las  $X$  tienen coordenadas de la forma  $(x, 0)$  y corresponden a los números reales  $x + 0i = x$ . Por esta razón, el eje de las  $X$  se llama *eje real*. Todos los puntos situados en el eje de las  $Y$  tienen coordenadas de la forma  $(0, y)$  y corresponden a los números imaginarios puros  $0 + yi = yi$ . El eje de las  $Y$  es el *eje imaginario*. Al plano en que se representan los números complejos se llama *plano complejo*.



(Fig. 18-A)



(Fig. 18-B)

Todo número complejo se puede representar en el plano complejo no solamente mediante un punto  $P$  sino también (véase la Fig. 18-B) mediante un segmento de recta dirigido o vector  $OP$ .

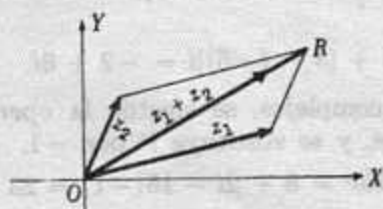
### REPRESENTACION GRAFICA DE LA ADICION Y DE LA SUSTRACCION.

Sean  $z_1 = x_1 + iy_1$  y  $z_2 = x_2 + iy_2$  dos números complejos. La representación vectorial de estos números (Fig. 18-C) sugiere la conocida ley del paralelogramo para determinar gráficamente la suma  $z_1 + z_2 = (x_1 + iy_1) + (x_2 + iy_2)$ .

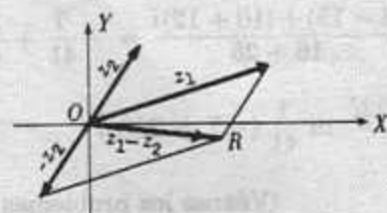
Puesto que  $z_1 - z_2 = (x_1 + iy_1) - (x_2 + iy_2) = (x_1 + iy_1) + (-x_2 - iy_2)$ , la diferencia  $z_1 - z_2$  de los dos números complejos se puede obtener gráficamente mediante la aplicación de la ley del paralelogramo a  $x_1 + iy_1$  y  $-x_2 - iy_2$ . (Véase la Fig. 18-D.)

La Fig. 18-E ilustra la suma  $OR = z_1 + z_2$  y la diferencia  $OS = z_1 - z_2$ . Obsérvese que los segmentos  $OS$  y  $P_2P_1$  (la otra diagonal  $OP_1P_2$ ) son iguales.

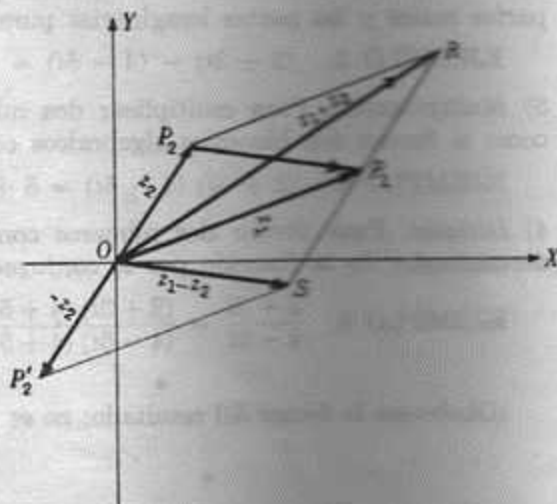
(Véase el problema 11.)



(Fig. 18-C)



(Fig. 18-D)

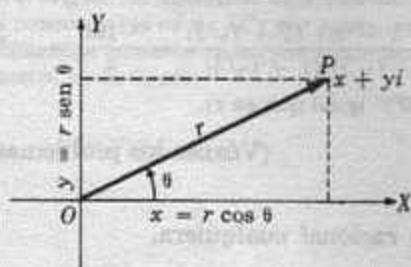


(Fig. 18-E)

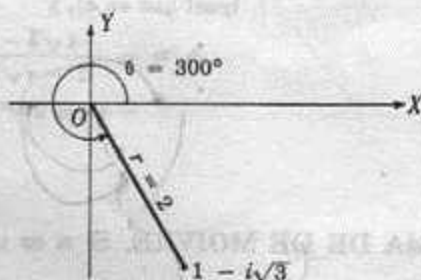
FORMA POLAR O TRIGONOMETRICA DE LOS NUMEROS COMPLEJOS.

Considérese el número complejo  $x + yi$  representado (Fig. 18-F) por el vector  $OP$ . Este vector (y, por tanto, el número complejo) puede expresarse en términos de la longitud  $r$  del vector y de *cualquier* ángulo positivo  $\theta$  formado por el vector y el semi-eje positivo de las  $X$  (semi-eje real positivo). El número  $r = \sqrt{x^2 + y^2}$  es el *módulo* o *valor absoluto* del número complejo. El ángulo  $\theta$ , llamado *argumento* del número complejo, se escoge, generalmente, como el menor ángulo positivo tal que  $\tan \theta = y/x$ , aunque, a veces, puede ser más conveniente escoger algún otro ángulo cofinal con él.

De acuerdo a la Fig. 18-F,  $x = r \cos \theta$  y  $y = r \sin \theta$ ; entonces  $z = x + yi = r \cos \theta + ir \sin \theta = r(\cos \theta + i \sin \theta)$ . La expresión  $z = r(\cos \theta + i \sin \theta)$  se denomina *forma polar* o *trigonométrica*, y la expresión  $z = x + yi$  se denomina *forma binómica* del número complejo  $z$ .



(Fig. 18-F)



(Fig. 18-G)

EJEMPLO 5. Expresar  $z = 1 - i\sqrt{3}$  en forma polar. (Véase la Fig. 18-G.)

El módulo es  $r = \sqrt{(1)^2 + (-\sqrt{3})^2} = 2$ . Como  $\tan \theta = y/x = -\sqrt{3}/1 = -\sqrt{3}$ , el argumento  $\theta$  puede ser  $120^\circ$  ó  $300^\circ$ . Ahora bien, sabemos que  $P$  pertenece al cuadrante IV; entonces,  $\theta = 300^\circ$  y la forma polar buscada es  $z = r(\cos \theta + i \sin \theta) = 2(\cos 300^\circ + i \sin 300^\circ)$ . Obsérvese que  $z$  puede representarse también por la forma polar  $z = 2[\cos(300^\circ + n360^\circ) + i \sin(300^\circ + n360^\circ)]$ , donde  $n$  es un entero cualquiera.

EJEMPLO 6. Expresar el número complejo  $z = 8(\cos 210^\circ + i \sin 210^\circ)$  en forma binómica.

Como  $\cos 210^\circ = -\sqrt{3}/2$  y  $\sin 210^\circ = -1/2$ ,

$$z = 8(\cos 210^\circ + i \sin 210^\circ) = 8[-\sqrt{3}/2 + i(-1/2)] = -4\sqrt{3} - 4i$$

es la forma binómica buscada.

(Véanse los problemas 12-13.)

MULTIPLICACION Y DIVISION EN FORMA POLAR.

*Multiplicación.* El módulo del producto de dos números complejos es el producto de sus módulos, y el argumento del producto es la suma de sus argumentos.

*División.* El módulo del cociente de dos números complejos es igual al módulo del dividendo dividido por el módulo del divisor, y el argumento del cociente es igual al argumento del dividendo menos el argumento del divisor. Para las demostraciones de estos teoremas véase el problema 14.

EJEMPLO 7. Encontrar a) el producto  $z_1 z_2$ , b) el cociente  $z_1/z_2$  y c) el cociente  $z_2/z_1$ , si  $z_1 = 2(\cos 300^\circ + i \sin 300^\circ)$  y  $z_2 = 8(\cos 210^\circ + i \sin 210^\circ)$ .

a) El módulo del producto es  $2(8) = 16$ . El argumento es  $300^\circ + 210^\circ = 510^\circ$  pero, conforme a lo convenido, se debe tomar el menor ángulo positivo cofinal,  $510^\circ - 360^\circ = 150^\circ$ . Así,  $z_1 z_2 = 16(\cos 150^\circ + i \sin 150^\circ)$ .

b) El módulo del cociente  $z_1/z_2$  es  $2/8 = \frac{1}{4}$  y el argumento es  $300^\circ - 210^\circ = 90^\circ$ . Así,  $z_1/z_2 = \frac{1}{4}(\cos 90^\circ + i \operatorname{sen} 90^\circ)$ .

c) El módulo del cociente  $z_2/z_1$  es  $8/2 = 4$ .

El argumento es  $210^\circ - 300^\circ = -90^\circ$ , pero se debe tomar el menor ángulo positivo cofinal,  $-90^\circ + 360^\circ = 270^\circ$ . Así,

$$z_2/z_1 = 4(\cos 270^\circ + i \operatorname{sen} 270^\circ).$$

Nota. Según los ejemplos 5 y 6 los números son

$$z_1 = 1 - i\sqrt{3} \text{ y } z_2 = -4\sqrt{3} - 4i$$

en forma binómica. Entonces

$$z_1 z_2 = (1 - i\sqrt{3})(-4\sqrt{3} - 4i) = -8\sqrt{3} + 8i = 16(\cos 150^\circ + i \operatorname{sen} 150^\circ)$$

igual que en a), y

$$\begin{aligned} z_2/z_1 &= \frac{-4\sqrt{3} - 4i}{1 - i\sqrt{3}} = \frac{(-4\sqrt{3} - 4i)(1 + i\sqrt{3})}{(1 - i\sqrt{3})(1 + i\sqrt{3})} = \frac{-16i}{4} = -4i \\ &= 4(\cos 270^\circ + i \operatorname{sen} 270^\circ) \text{ igual que en c).} \end{aligned}$$

(Véanse los problemas 15-16.)

**TEOREMA DE DE MOIVRE.** Si  $n$  es un número racional cualquiera,

$$\{r(\cos \theta + i \operatorname{sen} \theta)\}^n = r^n(\cos n\theta + i \operatorname{sen} n\theta).$$

La demostración de este teorema está fuera de los objetivos de este libro; en el problema 17 aparece una verificación para  $n = 2$  y  $n = 3$ .

$$\begin{aligned} \text{EJEMPLO 8. } (\sqrt{3} - i)^{10} &= \{2(\cos 330^\circ + i \operatorname{sen} 330^\circ)\}^{10} \\ &= 2^{10}(\cos 10 \cdot 330^\circ + i \operatorname{sen} 10 \cdot 330^\circ) \\ &= 1024(\cos 60^\circ + i \operatorname{sen} 60^\circ) = 1024(1/2 + i\sqrt{3}/2) \\ &= 512 + 512i\sqrt{3}. \end{aligned}$$

(Véase el problema 18.)

**RAICES DE NUMEROS COMPLEJOS.** Se establece, sin demostración, el siguiente teorema: Un número complejo  $a + bi = r(\cos \theta + i \operatorname{sen} \theta)$  tiene exactamente  $n$  raíces  $n$ -ésimas.

El procedimiento para calcular estas raíces aparece en el ejemplo 9.

**EJEMPLO 9.** Encontrar todas las raíces quintas de  $4 - 4i$ .

La forma polar usual para representar  $4 - 4i$  es  $4\sqrt{2}(\cos 315^\circ + i \operatorname{sen} 315^\circ)$ , pero aquí se necesitará la forma más general

$$4\sqrt{2}[\cos(315^\circ + k360^\circ) + i \operatorname{sen}(315^\circ + k360^\circ)],$$

donde  $k$  es un entero cualquiera, incluido el cero.

Según el teorema de De Moivre, una raíz quinta de  $4 - 4i$  viene dada por

$$\begin{aligned} &(4\sqrt{2}[\cos(315^\circ + k360^\circ) + i \operatorname{sen}(315^\circ + k360^\circ)])^{1/5} \\ &= (4\sqrt{2})^{1/5} \left( \cos \frac{315^\circ + k360^\circ}{5} + i \operatorname{sen} \frac{315^\circ + k360^\circ}{5} \right) \\ &= \sqrt{2}[\cos(63^\circ + k72^\circ) + i \operatorname{sen}(63^\circ + k72^\circ)]. \end{aligned}$$

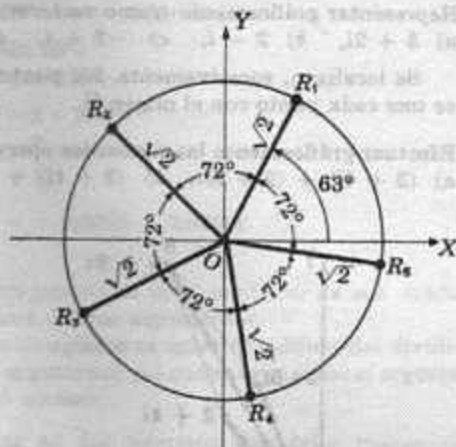
Cuando se toman, sucesivamente, los valores  $k = 0, 1, 2, \dots$ , se tiene

$$\begin{aligned}
 k = 0: & \sqrt{2} (\cos 63^\circ + i \operatorname{sen} 63^\circ) = R_1 \\
 k = 1: & \sqrt{2} (\cos 135^\circ + i \operatorname{sen} 135^\circ) = R_2 \\
 k = 2: & \sqrt{2} (\cos 207^\circ + i \operatorname{sen} 207^\circ) = R_3 \\
 k = 3: & \sqrt{2} (\cos 279^\circ + i \operatorname{sen} 279^\circ) = R_4 \\
 k = 4: & \sqrt{2} (\cos 351^\circ + i \operatorname{sen} 351^\circ) = R_5 \\
 k = 5: & \sqrt{2} (\cos 423^\circ + i \operatorname{sen} 423^\circ) \\
 & = \sqrt{2} (\cos 63^\circ + i \operatorname{sen} 63^\circ) = R_1, \text{ etc.}
 \end{aligned}$$

Así, cuando se le dan a  $k$  los valores 0,1,2,3,4 (p. ej. 0,1,2,3,...,  $n-1$ ), se obtienen las cinco raíces quintas buscadas.

(Véase también el problema 19.)

El módulo de cada una de las raíces es  $\sqrt{2}$ ; de donde se deduce que las raíces son puntos de una circunferencia cuyo radio es  $\sqrt{2}$  y cuyo centro coincide con el origen. La diferencia de argumentos entre dos raíces consecutivas es de  $72^\circ$ ; por tanto, las raíces están separadas unas de otras por arcos iguales, como se muestra en la figura.



### PROBLEMAS RESUELTOS

En los problemas 1-6, efectúense las operaciones indicadas, simplifíquese, y exprésese el resultado en la forma  $a + bi$ .

1.  $(3 - 4i) + (-5 + 7i) = (3 - 5) + (-4 + 7)i = -2 + 3i$

2.  $(4 + 2i) - (-1 + 3i) = [4 - (-1)] + (2 - 3)i = 5 - i$

3.  $(2 + i)(3 - 2i) = (6 + 2) + (-4 + 3)i = 8 - i$

4.  $(3 + 4i)(3 - 4i) = 9 + 16 = 25$

5.  $\frac{1 + 3i}{2 + i} = \frac{(1 + 3i)(2 - i)}{(2 + i)(2 - i)} = \frac{(2 + 3) + (-1 + 6)i}{4 + 1} = 1 + i$

6.  $\frac{3 - 2i}{2 - 3i} = \frac{(3 - 2i)(2 + 3i)}{(2 - 3i)(2 + 3i)} = \frac{(6 + 6) + (9 - 4)i}{4 + 9} = \frac{12}{13} + \frac{5}{13}i$

7. Encontrar valores de  $x$  y  $y$  tales que  $2x - yi = 4 + 3i$ .

Aquí  $2x = 4$  y  $-y = 3$ ; entonces  $x = 2$  y  $y = -3$ .

8. Demostrar que los números complejos  $2 + i$  y  $2 - i$  son raíces de la ecuación cuadrática

$$x^2 - 4x + 5 = 0.$$

Para  $x = 2 + i$ :  $(2 + i)^2 - 4(2 + i) + 5 = 4 + 4i + i^2 - 8 - 4i + 5 = 0.$

Para  $x = 2 - i$ :  $(2 - i)^2 - 4(2 - i) + 5 = 4 - 4i + i^2 - 8 + 4i + 5 = 0.$

Cada uno de los números dados es raíz de la ecuación porque cada uno de ellos la satisface.

9. Demostrar que el conjugado de la suma de dos números complejos es igual a la suma de los conjugados de dichos números.

Sean  $a + bi$  y  $c + di$  dos números complejos cualesquiera. Su suma es  $(a + c) + (b + d)i$ , y el conjugado de la suma es  $(a + c) - (b + d)i$ .

Los conjugados de los dos números son, respectivamente  $a - bi$  y  $c - di$ , y la suma de estos conjugados es

$$(a + c) + (-b - d)i = (a + c) - (b + d)i.$$

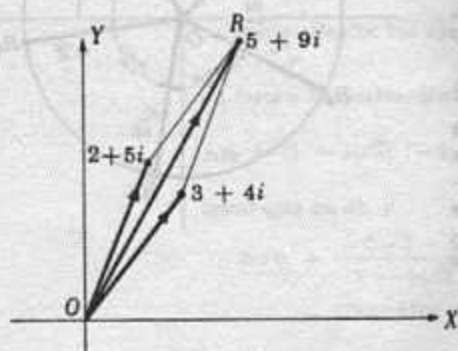
10. Representar gráficamente (como vectores) los siguientes números complejos:

- a)  $3 + 2i$ , b)  $2 - i$ , c)  $-2 + i$ , d)  $-1 - 3i$ .

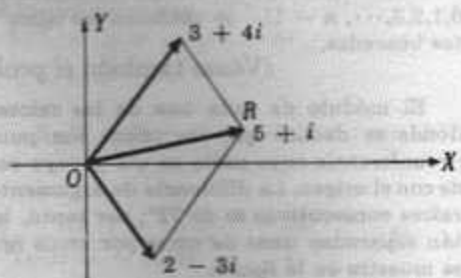
Se localizan, sucesivamente, los puntos cuyas coordenadas son  $(3, 2)$ ,  $(2, -1)$ ,  $(-2, 1)$ ,  $(-1, -3)$ , y se une cada punto con el origen  $O$ .

11. Efectuar gráficamente las siguientes operaciones:

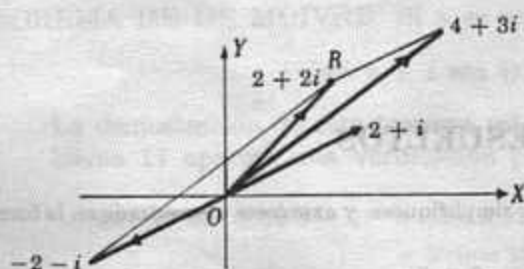
- a)  $(3 + 4i) + (2 + 5i)$ , b)  $(3 + 4i) + (2 - 3i)$ , c)  $(4 + 3i) - (2 + i)$ , d)  $(4 + 3i) - (2 - i)$ .



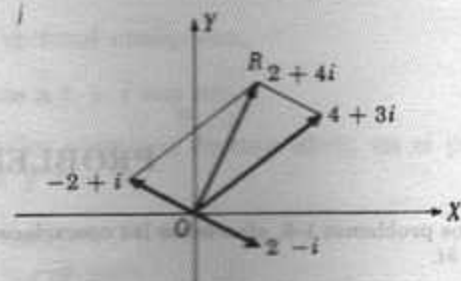
(a)



(b)



(c)



(d)

Para a) y b), trácense los dos vectores, como se indica en las figuras (a) y (b), y aplíquese la ley del paralelogramo.

Para c), trácense los vectores correspondientes a  $4 + 3i$  y  $-2 - i$  y aplíquese la ley del paralelogramo, como se indica en la Fig. (c).

Para d), trácense los vectores correspondientes a  $4 + 3i$  y  $-2 + i$  y aplíquese la ley del paralelogramo, como se indica en la Fig. (d).

12. Expresar en forma polar cada uno de los siguientes números complejos  $z$ :

- a)  $-1 + i\sqrt{3}$ , b)  $6\sqrt{3} + 6i$ , c)  $2 - 2i$ , d)  $-3 = -3 + 0i$ , e)  $4i = 0 + 4i$ , f)  $-3 - 4i$ .

a)  $P$  pertenece al segundo cuadrante;  $r = \sqrt{(-1)^2 + (\sqrt{3})^2} = 2$ ;  $\tan \theta = \sqrt{3}/-1 = -\sqrt{3}$  y  $\theta = 120^\circ$ . Así,  $z = 2(\cos 120^\circ + i \sin 120^\circ)$ .

b)  $P$  pertenece al primer cuadrante;  $r = \sqrt{(6\sqrt{3})^2 + 6^2} = 12$ ;  $\tan \theta = 6/6\sqrt{3} = 1/\sqrt{3}$  y  $\theta = 30^\circ$ . Así,  $z = 12(\cos 30^\circ + i \sin 30^\circ)$ .

c)  $P$  pertenece al cuarto cuadrante;  $r = \sqrt{2^2 + (-2)^2} = 2\sqrt{2}$ ;  $\tan \theta = -2/2 = -1$  y  $\theta = 315^\circ$ . Así,  $z = 2\sqrt{2}(\cos 315^\circ + i \sin 315^\circ)$ .

d)  $P$  es un punto del semi-eje negativo de las  $X$  y  $\theta = 180^\circ$ ;  $r = \sqrt{(-3)^2 + 0^2} = 3$ . Así,  $z = 3(\cos 180^\circ + i \sin 180^\circ)$ .

e)  $P$  es un punto del semi-eje positivo de las  $Y$  y  $\theta = 90^\circ$ ;  $r = \sqrt{0^2 + 4^2} = 4$ . Así,  $z = 4(\cos 90^\circ + i \sin 90^\circ)$ .

f)  $P$  pertenece al tercer cuadrante;  $r = \sqrt{(-3)^2 + (-4)^2} = 5$ ;  $\tan \theta = -4/-3 = 1,3333$ ,  $\theta = 233^\circ 8'$ . Así,  $z = 5(\cos 233^\circ 8' + i \sin 233^\circ 8')$ .

13. Expresar en forma binómica cada uno de los siguientes números complejos  $z$ :

- a)  $4(\cos 240^\circ + i \operatorname{sen} 240^\circ)$                       c)  $3(\cos 90^\circ + i \operatorname{sen} 90^\circ)$   
 b)  $2(\cos 315^\circ + i \operatorname{sen} 315^\circ)$                       d)  $5(\cos 128^\circ + i \operatorname{sen} 128^\circ)$ .
- a)  $4(\cos 240^\circ + i \operatorname{sen} 240^\circ) = 4[-1/2 + i(-\sqrt{3}/2)] = -2 - 2i\sqrt{3}$   
 b)  $2(\cos 315^\circ + i \operatorname{sen} 315^\circ) = 2[1/\sqrt{2} + i(-1/\sqrt{2})] = \sqrt{2} - i\sqrt{2}$   
 c)  $3(\cos 90^\circ + i \operatorname{sen} 90^\circ) = 3[0 + i(1)] = 3i$   
 d)  $5(\cos 128^\circ + i \operatorname{sen} 128^\circ) = 5[-0,6157 + i(0,7880)] = -3,0785 + 3,9400i$ .

14. Demostrar que: a) El módulo del producto de dos números complejos es el producto de sus módulos, y el argumento del producto es la suma de sus argumentos.  
 b) El módulo del cociente de dos números complejos es igual al módulo del dividendo dividido por el módulo del divisor, y el argumento del cociente es igual al argumento del dividendo menos el argumento del divisor.

Sean  $z_1 = r_1(\cos \theta_1 + i \operatorname{sen} \theta_1)$  y  $z_2 = r_2(\cos \theta_2 + i \operatorname{sen} \theta_2)$  dos números complejos cualesquiera.

a)  $z_1 z_2 = r_1(\cos \theta_1 + i \operatorname{sen} \theta_1) \cdot r_2(\cos \theta_2 + i \operatorname{sen} \theta_2)$   
 $= r_1 r_2 [(\cos \theta_1 \cos \theta_2 - \operatorname{sen} \theta_1 \operatorname{sen} \theta_2) + i(\operatorname{sen} \theta_1 \cos \theta_2 + \cos \theta_1 \operatorname{sen} \theta_2)]$   
 $= r_1 r_2 [\cos(\theta_1 + \theta_2) + i \operatorname{sen}(\theta_1 + \theta_2)].$

b)  $\frac{r_1(\cos \theta_1 + i \operatorname{sen} \theta_1)}{r_2(\cos \theta_2 + i \operatorname{sen} \theta_2)} = \frac{r_1(\cos \theta_1 + i \operatorname{sen} \theta_1)(\cos \theta_2 - i \operatorname{sen} \theta_2)}{r_2(\cos \theta_2 + i \operatorname{sen} \theta_2)(\cos \theta_2 - i \operatorname{sen} \theta_2)}$   
 $= \frac{r_1}{r_2} \cdot \frac{(\cos \theta_1 \cos \theta_2 + \operatorname{sen} \theta_1 \operatorname{sen} \theta_2) + i(\operatorname{sen} \theta_1 \cos \theta_2 - \cos \theta_1 \operatorname{sen} \theta_2)}{\cos^2 \theta_2 + \operatorname{sen}^2 \theta_2}$   
 $= \frac{r_1}{r_2} [\cos(\theta_1 - \theta_2) + i \operatorname{sen}(\theta_1 - \theta_2)].$

15. Efectúense las operaciones indicadas y exprese el resultado en forma polar y en forma binómica.

- a)  $5(\cos 170^\circ + i \operatorname{sen} 170^\circ) \cdot 3(\cos 55^\circ + i \operatorname{sen} 55^\circ)$   
 b)  $2(\cos 50^\circ + i \operatorname{sen} 50^\circ) \cdot 3(\cos 40^\circ + i \operatorname{sen} 40^\circ)$   
 c)  $6(\cos 110^\circ + i \operatorname{sen} 110^\circ) \cdot \frac{1}{2}(\cos 212^\circ + i \operatorname{sen} 212^\circ)$   
 d)  $10(\cos 305^\circ + i \operatorname{sen} 305^\circ) \div 2(\cos 65^\circ + i \operatorname{sen} 65^\circ)$   
 e)  $4(\cos 220^\circ + i \operatorname{sen} 220^\circ) \div 2(\cos 40^\circ + i \operatorname{sen} 40^\circ)$   
 f)  $6(\cos 230^\circ + i \operatorname{sen} 230^\circ) \div 3(\cos 75^\circ + i \operatorname{sen} 75^\circ)$
- a) El módulo del producto es  $5(3) = 15$  y el argumento es  $170^\circ + 55^\circ = 225^\circ$ .  
 El producto, en forma polar, es  $15(\cos 225^\circ + i \operatorname{sen} 225^\circ)$  y, en forma binómica, es  $15(-\sqrt{2}/2 - i\sqrt{2}/2) = -5\sqrt{2}/2 - 5i\sqrt{2}/2$ .
- b) El módulo del producto es  $2(3) = 6$  y el argumento es  $50^\circ + 40^\circ = 90^\circ$ .  
 El producto, en forma polar, es  $6(\cos 90^\circ + i \operatorname{sen} 90^\circ)$  y, en forma binómica, es  $6(0 + i) = 6i$ .
- c) El módulo del producto es  $6(\frac{1}{2}) = 3$  y el argumento es  $110^\circ + 212^\circ = 322^\circ$ .  
 El producto, en forma polar, es  $3(\cos 322^\circ + i \operatorname{sen} 322^\circ)$  y, en forma binómica, es  $3(0,7880 - 0,6157i) = 2,3640 - 1,8471i$ .
- d) El módulo del cociente es  $10/2 = 5$  y el argumento es  $305^\circ - 65^\circ = 240^\circ$ .  
 El cociente, en forma polar, es  $5(\cos 240^\circ + i \operatorname{sen} 240^\circ)$  y, en forma binómica, es  $5(-1/2 - i\sqrt{3}/2) = -5/2 - 5i\sqrt{3}/2$ .
- e) El módulo del cociente es  $4/2 = 2$  y el argumento es  $220^\circ - 40^\circ = 180^\circ$ .  
 El cociente, en forma polar, es  $2(\cos 180^\circ + i \operatorname{sen} 180^\circ)$  y, en forma binómica, es  $2(-1 + 0i) = -2$ .
- f) El módulo del cociente es  $6/3 = 2$  y el argumento es  $230^\circ - 75^\circ = 155^\circ$ .  
 El cociente, en forma polar, es  $2(\cos 155^\circ + i \operatorname{sen} 155^\circ)$  y, en forma binómica, es  $2(-0,9063 + 0,4226i) = -1,8126 + 0,8452i$ .

16. Expresar cada número en forma polar, efectuar las operaciones indicadas y dar el resultado en forma binómica.

- a)  $(-1 + i\sqrt{3})(\sqrt{3} + i)$                       d)  $-2 + (-\sqrt{3} + i)$                       g)  $(3 + 2i)(2 + i)$   
 b)  $(3 - 3i\sqrt{3})(-2 - 2i\sqrt{3})$                       e)  $6i + (-3 - 3i)$                       h)  $(2 + 3i) + (2 - 3i)$   
 c)  $(4 - 4i\sqrt{3}) \div (-2\sqrt{3} + 2i)$                       f)  $(1 + i\sqrt{3})(1 + i\sqrt{3})$



- a)  $(-1 + i\sqrt{3})(\sqrt{3} + i) = 2(\cos 120^\circ + i \operatorname{sen} 120^\circ) \cdot 2(\cos 30^\circ + i \operatorname{sen} 30^\circ)$   
 $= 4(\cos 150^\circ + i \operatorname{sen} 150^\circ) = 4(-\sqrt{3}/2 + \frac{1}{2}i) = -2\sqrt{3} + 2i$
- b)  $(3 - 3i\sqrt{3})(-2 - 2i\sqrt{3}) = 6(\cos 300^\circ + i \operatorname{sen} 300^\circ) \cdot 4(\cos 240^\circ + i \operatorname{sen} 240^\circ)$   
 $= 24(\cos 540^\circ + i \operatorname{sen} 540^\circ) = 24(-1 + 0i) = -24$
- c)  $(4 - 4i\sqrt{3}) + (-2\sqrt{3} + 2i) = 8(\cos 300^\circ + i \operatorname{sen} 300^\circ) + 4(\cos 150^\circ + i \operatorname{sen} 150^\circ)$   
 $= 2(\cos 150^\circ + i \operatorname{sen} 150^\circ) = 2(-\sqrt{3}/2 + \frac{1}{2}i) = -\sqrt{3} + i$
- d)  $-2 + (-\sqrt{3} + i) = 2(\cos 180^\circ + i \operatorname{sen} 180^\circ) + 2(\cos 150^\circ + i \operatorname{sen} 150^\circ)$   
 $= \cos 30^\circ + i \operatorname{sen} 30^\circ = \frac{1}{2}\sqrt{3} + \frac{1}{2}i$
- e)  $6i + (-3 - 3i) = 6(\cos 90^\circ + i \operatorname{sen} 90^\circ) + 3\sqrt{2}(\cos 225^\circ + i \operatorname{sen} 225^\circ)$   
 $= \sqrt{2}(\cos 225^\circ + i \operatorname{sen} 225^\circ) = -1 - i$
- f)  $(1 + i\sqrt{3})(1 + i\sqrt{3}) = 2(\cos 60^\circ + i \operatorname{sen} 60^\circ) \cdot 2(\cos 60^\circ + i \operatorname{sen} 60^\circ)$   
 $= 4(\cos 120^\circ + i \operatorname{sen} 120^\circ) = 4(-\frac{1}{2} + \frac{1}{2}i\sqrt{3}) = -2 + 2i\sqrt{3}$
- g)  $(3 + 2i)(2 + i) = \sqrt{13}(\cos 33^\circ 41' + i \operatorname{sen} 33^\circ 41') \cdot \sqrt{5}(\cos 26^\circ 34' + i \operatorname{sen} 26^\circ 34')$   
 $= \sqrt{65}(\cos 60^\circ 15' + i \operatorname{sen} 60^\circ 15')$   
 $= \sqrt{65}(0,4962 + 0,8682i) = 4,001 + 7,000i = 4 + 7i$
- h)  $\frac{2 + 3i}{2 - 3i} = \frac{\sqrt{13}(\cos 56^\circ 19' + i \operatorname{sen} 56^\circ 19')}{\sqrt{13}(\cos 303^\circ 41' + i \operatorname{sen} 303^\circ 41')} = \frac{\cos 416^\circ 19' + i \operatorname{sen} 416^\circ 19'}{\cos 303^\circ 41' + i \operatorname{sen} 303^\circ 41'}$   
 $= \cos 112^\circ 38' + i \operatorname{sen} 112^\circ 38' = -0,3849 + 0,9230i$

17. Verificar el teorema de De Moivre para  $n = 2$  y  $n = 3$ .

Sea  $z = r(\cos \theta + i \operatorname{sen} \theta)$  un número complejo cualquiera.

$$\text{Para } n = 2: z^2 = [r(\cos \theta + i \operatorname{sen} \theta)][r(\cos \theta + i \operatorname{sen} \theta)] \\ = r^2[(\cos \theta - \operatorname{sen} \theta) + i(2 \operatorname{sen} \theta \cos \theta)] = r^2(\cos 2\theta + i \operatorname{sen} 2\theta)$$

$$\text{Para } n = 3: z^3 = z^2 \cdot z = [r^2(\cos 2\theta + i \operatorname{sen} 2\theta)][r(\cos \theta + i \operatorname{sen} \theta)] \\ = r^3[(\cos 2\theta \cos \theta - \operatorname{sen} 2\theta \operatorname{sen} \theta) + i(\operatorname{sen} 2\theta \cos \theta + \cos 2\theta \operatorname{sen} \theta)] \\ = r^3(\cos 3\theta + i \operatorname{sen} 3\theta).$$

Por inducción matemática se puede demostrar el teorema para cualquier entero positivo  $n$ .

18. Evaluar, mediante el teorema de De Moivre, cada una de las siguientes expresiones y dar el resultado en forma binómica: a)  $(1 + i\sqrt{3})^4$ , b)  $(\sqrt{3} - i)^8$ , c)  $(-1 + i)^{10}$ , d)  $(2 + 3i)^4$ .

- a)  $(1 + i\sqrt{3})^4 = [2(\cos 60^\circ + i \operatorname{sen} 60^\circ)]^4 = 2^4(\cos 4 \cdot 60^\circ + i \operatorname{sen} 4 \cdot 60^\circ)$   
 $= 2^4(\cos 240^\circ + i \operatorname{sen} 240^\circ) = -8 - 8i\sqrt{3}$
- b)  $(\sqrt{3} - i)^8 = [2(\cos 330^\circ + i \operatorname{sen} 330^\circ)]^8 = 32(\cos 1650^\circ + i \operatorname{sen} 1650^\circ)$   
 $= 32(\cos 210^\circ + i \operatorname{sen} 210^\circ) = -16\sqrt{3} - 16i$
- c)  $(-1 + i)^{10} = [\sqrt{2}(\cos 135^\circ + i \operatorname{sen} 135^\circ)]^{10} = 32(\cos 270^\circ + i \operatorname{sen} 270^\circ) = -32i$
- d)  $(2 + 3i)^4 = [\sqrt{13}(\cos 56^\circ 19' + i \operatorname{sen} 56^\circ 19')]^4 = 13^2(\cos 225^\circ 16' + i \operatorname{sen} 225^\circ 16')$   
 $= 169(-0,7038 - 0,7104i) = -118,9 - 120,1i$

19. Encontrar las raíces en forma binómica, excepto en los casos en que se requiera el uso de tablas.

- a) Las raíces cuadradas de  $2 - 2i\sqrt{3}$       e) Las raíces cuartas de  $i$   
 b) Las raíces cuartas de  $-8 - 8i\sqrt{3}$       f) Las raíces sextas de  $-1$   
 c) Las raíces cúbicas de  $-4\sqrt{2} + 4i\sqrt{2}$       g) Las raíces cuartas de  $-16i$   
 d) Las raíces cúbicas de  $1$       h) Las raíces quintas de  $1 + 3i$

a)  $2 - 2i\sqrt{3} = 4[\cos(300^\circ + k 360^\circ) + i \operatorname{sen}(300^\circ + k 360^\circ)]$   
 y  $(2 - 2i\sqrt{3})^{1/2} = 2[\cos(150^\circ + k 180^\circ) + i \operatorname{sen}(150^\circ + k 180^\circ)]$

Para  $k = 0$  y  $1$ , las raíces buscadas son

$$R_1 = 2(\cos 150^\circ + i \operatorname{sen} 150^\circ) = 2(-\frac{1}{2}\sqrt{3} + \frac{1}{2}i) = -\sqrt{3} + i$$

$$R_2 = 2(\cos 330^\circ + i \operatorname{sen} 330^\circ) = 2(\frac{1}{2}\sqrt{3} - \frac{1}{2}i) = \sqrt{3} - i$$

b)  $-8 - 8i\sqrt{3} = 16[\cos(240^\circ + k 360^\circ) + i \operatorname{sen}(240^\circ + k 360^\circ)]$   
 y  $(-8 - 8i\sqrt{3})^{1/4} = 2[\cos(60^\circ + k 90^\circ) + i \operatorname{sen}(60^\circ + k 90^\circ)]$

Para  $k = 0, 1, 2, 3$ , las raíces buscadas son

$$R_1 = 2(\cos 60^\circ + i \operatorname{sen} 60^\circ) = 2(\frac{1}{2} + \frac{1}{2}i\sqrt{3}) = 1 + i\sqrt{3}$$

$$R_1 = 2(\cos 150^\circ + i \operatorname{sen} 150^\circ) = 2(-\frac{1}{2}\sqrt{3} + \frac{1}{2}i) = -\sqrt{3} + i$$

$$R_2 = 2(\cos 240^\circ + i \operatorname{sen} 240^\circ) = 2(-\frac{1}{2} - i\frac{1}{2}\sqrt{3}) = -1 - i\sqrt{3}$$

$$R_3 = 2(\cos 330^\circ + i \operatorname{sen} 330^\circ) = 2(\frac{1}{2}\sqrt{3} - \frac{1}{2}i) = \sqrt{3} - i.$$

c)  $-4\sqrt{2} + 4i\sqrt{2} = 8[\cos(135^\circ + k 360^\circ) + i \operatorname{sen}(135^\circ + k 360^\circ)]$

y  $(-4\sqrt{2} + 4i\sqrt{2})^{1/3} = 2[\cos(45^\circ + k 120^\circ) + i \operatorname{sen}(45^\circ + k 120^\circ)].$

Para  $k = 0, 1, 2$ , las raíces buscadas son

$$R_1 = 2(\cos 45^\circ + i \operatorname{sen} 45^\circ) = 2(1/\sqrt{2} + i/\sqrt{2}) = \sqrt{2} + i\sqrt{2}$$

$$R_2 = 2(\cos 165^\circ + i \operatorname{sen} 165^\circ)$$

$$R_3 = 2(\cos 285^\circ + i \operatorname{sen} 285^\circ).$$

d)  $1 = \cos(0^\circ + k 360^\circ) + i \operatorname{sen}(0^\circ + k 360^\circ)$  y  $1^{1/3} = \cos(k 120^\circ) + i \operatorname{sen}(k 120^\circ).$

Para  $k = 0, 1, 2$ , las raíces buscadas son

$$R_1 = \cos 0^\circ + i \operatorname{sen} 0^\circ = 1$$

$$R_2 = \cos 120^\circ + i \operatorname{sen} 120^\circ = -\frac{1}{2} + i\frac{1}{2}\sqrt{3}$$

$$R_3 = \cos 240^\circ + i \operatorname{sen} 240^\circ = -\frac{1}{2} - i\frac{1}{2}\sqrt{3}.$$

Obsérvese que  $R_2^2 = \cos 2(120^\circ) + i \operatorname{sen} 2(120^\circ) = R_3$ ,

$$R_3^2 = \cos 2(240^\circ) + i \operatorname{sen} 2(240^\circ) = R_2, \text{ y}$$

$$R_2 R_3 = (\cos 120^\circ + i \operatorname{sen} 120^\circ)(\cos 240^\circ + i \operatorname{sen} 240^\circ) = \cos 0^\circ + i \operatorname{sen} 0^\circ = R_1.$$

e)  $i = \cos(90^\circ + k 360^\circ) + i \operatorname{sen}(90^\circ + k 360^\circ)$  y  $i^{1/4} = \cos(22\frac{1}{2}^\circ + k 90^\circ) + i \operatorname{sen}(22\frac{1}{2}^\circ + k 90^\circ).$

Así, las raíces buscadas son

$$R_1 = \cos 22\frac{1}{2}^\circ + i \operatorname{sen} 22\frac{1}{2}^\circ \quad R_2 = \cos 202\frac{1}{2}^\circ + i \operatorname{sen} 202\frac{1}{2}^\circ$$

$$R_3 = \cos 112\frac{1}{2}^\circ + i \operatorname{sen} 112\frac{1}{2}^\circ \quad R_4 = \cos 292\frac{1}{2}^\circ + i \operatorname{sen} 292\frac{1}{2}^\circ.$$

f)  $-1 = \cos(180^\circ + k 360^\circ) + i \operatorname{sen}(180^\circ + k 360^\circ)$  y  $(-1)^{1/6} = \cos(30^\circ + k 60^\circ) + i \operatorname{sen}(30^\circ + k 60^\circ)$

Así, las raíces buscadas son

$$R_1 = \cos 30^\circ + i \operatorname{sen} 30^\circ = \frac{1}{2}\sqrt{3} + \frac{1}{2}i$$

$$R_2 = \cos 90^\circ + i \operatorname{sen} 90^\circ = i$$

$$R_3 = \cos 150^\circ + i \operatorname{sen} 150^\circ = -\frac{1}{2}\sqrt{3} + \frac{1}{2}i$$

$$R_4 = \cos 210^\circ + i \operatorname{sen} 210^\circ = -\frac{1}{2}\sqrt{3} - \frac{1}{2}i$$

$$R_5 = \cos 270^\circ + i \operatorname{sen} 270^\circ = -i$$

$$R_6 = \cos 330^\circ + i \operatorname{sen} 330^\circ = \frac{1}{2}\sqrt{3} - \frac{1}{2}i.$$

Obsérvese que  $R_2^2 = R_3^2 = \cos 180^\circ + i \operatorname{sen} 180^\circ$  con lo que  $R_2$  y  $R_3$  son las raíces cuadradas de  $-1$ ; que  $R_1^3 = R_2^3 = R_3^3 = \cos 90^\circ + i \operatorname{sen} 90^\circ = i$  con lo que  $R_1, R_2, R_3$  son las raíces cúbicas de  $i$ ; y que  $R_4^3 = R_5^3 = R_6^3 = \cos 270^\circ + i \operatorname{sen} 270^\circ = -i$  con lo que  $R_4, R_5, R_6$  son las raíces cúbicas de  $-i$ .

g)  $-16i = 16[\cos(270^\circ + k 360^\circ) + i \operatorname{sen}(270^\circ + k 360^\circ)]$  y

$(-16i)^{1/4} = 2[\cos(67\frac{1}{2}^\circ + k 90^\circ) + i \operatorname{sen}(67\frac{1}{2}^\circ + k 90^\circ)].$  Así, las raíces buscadas son

$$R_1 = 2(\cos 67\frac{1}{2}^\circ + i \operatorname{sen} 67\frac{1}{2}^\circ) \quad R_2 = 2(\cos 247\frac{1}{2}^\circ + i \operatorname{sen} 247\frac{1}{2}^\circ)$$

$$R_3 = 2(\cos 157\frac{1}{2}^\circ + i \operatorname{sen} 157\frac{1}{2}^\circ) \quad R_4 = 2(\cos 337\frac{1}{2}^\circ + i \operatorname{sen} 337\frac{1}{2}^\circ).$$

h)  $1 + 3i = \sqrt{10}[\cos(71^\circ 34' + k 360^\circ) + i \operatorname{sen}(71^\circ 34' + k 360^\circ)]$  y

$(1 + 3i)^{1/5} = \sqrt[5]{10}[(\cos 14^\circ 19' + k 72^\circ) + i \operatorname{sen}(14^\circ 19' + k 72^\circ)].$  Las raíces buscadas son

$$R_1 = \sqrt[5]{10}(\cos 14^\circ 19' + i \operatorname{sen} 14^\circ 19')$$

$$R_2 = \sqrt[5]{10}(\cos 86^\circ 19' + i \operatorname{sen} 86^\circ 19')$$

$$R_3 = \sqrt[5]{10}(\cos 158^\circ 19' + i \operatorname{sen} 158^\circ 19')$$

$$R_4 = \sqrt[5]{10}(\cos 230^\circ 19' + i \operatorname{sen} 230^\circ 19')$$

$$R_5 = \sqrt[5]{10}(\cos 302^\circ 19' + i \operatorname{sen} 302^\circ 19').$$

## PROBLEMAS PROPUESTOS

20. Efectuar las operaciones indicadas y expresar los resultados en la forma  $a + bi$ .

$$\begin{array}{ll} a) (6 - 2i) + (2 + 3i) = 8 + i & k) (2 + \sqrt{-5})(3 - 2\sqrt{-4}) = (6 + 4\sqrt{5}) + (3\sqrt{5} - 8)i \\ b) (6 - 2i) - (2 + 3i) = 4 - 5i & l) (1 + 2\sqrt{-3})(2 - \sqrt{-3}) = 8 + 3\sqrt{3}i \\ c) (3 + 2i) + (-4 - 3i) = -1 - i & m) (2 - i)^2 = 3 - 4i \\ d) (3 - 2i) - (4 - 3i) = -1 + i & n) (4 + 2i)^2 = 12 + 16i \\ e) 3(2 - i) = 6 - 3i & o) (1 + i)^2(2 + 3i) = -6 + 4i \\ f) 2i(3 + 4i) = -8 + 6i & p) \frac{2 + 3i}{1 + i} = \frac{5}{2} + \frac{1}{2}i \\ g) (2 + 3i)(1 + 2i) = -4 + 7i & q) \frac{3 - 2i}{3 - 4i} = \frac{17}{25} + \frac{6}{25}i \quad r) \frac{3 - 2i}{2 + 3i} = -i \\ h) (2 - 3i)(5 + 2i) = 16 - 11i & \\ i) (3 - 2i)(-4 + i) = -10 + 11i & \\ j) (2 + 3i)(3 + 2i) = 13i & \end{array}$$

21. Demostrar que  $3 + 2i$  y  $3 - 2i$  son raíces de  $x^2 - 6x + 13 = 0$ .

22. Efectuar gráficamente las siguientes operaciones.

$$\begin{array}{ll} a) (2 + 3i) + (1 + 4i) & c) (2 + 3i) - (1 + 4i) \\ b) (4 - 2i) + (2 + 3i) & d) (4 - 2i) - (2 + 3i) \end{array}$$

23. Expresar en forma polar cada uno de los siguientes números complejos.

$$\begin{array}{ll} a) 3 + 3i = 3\sqrt{2}(\cos 45^\circ + i \operatorname{sen} 45^\circ) & e) -8 = 8(\cos 180^\circ + i \operatorname{sen} 180^\circ) \\ b) 1 + \sqrt{3}i = 2(\cos 60^\circ + i \operatorname{sen} 60^\circ) & f) -2i = 2(\cos 270^\circ + i \operatorname{sen} 270^\circ) \\ c) -2\sqrt{3} - 2i = 4(\cos 210^\circ + i \operatorname{sen} 210^\circ) & g) -12 + 5i = 13(\cos 157^\circ 23' + i \operatorname{sen} 157^\circ 23') \\ d) \sqrt{2} - i\sqrt{2} = 2(\cos 315^\circ + i \operatorname{sen} 315^\circ) & h) -4 - 3i = 5(\cos 216^\circ 52' + i \operatorname{sen} 216^\circ 52') \end{array}$$

24. Efectuar las operaciones indicadas y expresar los resultados en la forma  $a + bi$ .

$$\begin{array}{l} a) 3(\cos 25^\circ + i \operatorname{sen} 25^\circ) 8(\cos 200^\circ + i \operatorname{sen} 200^\circ) = -12\sqrt{2} - 12\sqrt{2}i \\ b) 4(\cos 50^\circ + i \operatorname{sen} 50^\circ) 2(\cos 100^\circ + i \operatorname{sen} 100^\circ) = -4\sqrt{3} + 4i \\ c) \frac{4(\cos 190^\circ + i \operatorname{sen} 190^\circ)}{2(\cos 70^\circ + i \operatorname{sen} 70^\circ)} = -1 + i\sqrt{3} \\ d) \frac{12(\cos 200^\circ + i \operatorname{sen} 200^\circ)}{3(\cos 350^\circ + i \operatorname{sen} 350^\circ)} = -2\sqrt{3} - 2i \end{array}$$

25. Utilícese la forma polar para encontrar cada uno de los siguientes productos y cocientes, y exprese cada resultado en la forma  $a + bi$ .

$$\begin{array}{ll} a) (1 + i)(\sqrt{2} - i\sqrt{2}) = 2\sqrt{2} & b) (-1 - i\sqrt{3})(-4\sqrt{3} + 4i) = 8\sqrt{3} + 8i \\ c) \frac{1 - i}{1 + i} = -i & d) \frac{4 + 4\sqrt{3}i}{\sqrt{3} + i} = 2\sqrt{3} + 2i \\ e) \frac{-1 + i\sqrt{3}}{\sqrt{2} + i\sqrt{2}} = 0,2588 + 0,9659i & f) \frac{3 + i}{2 + i} = 1,4 - 0,2i \end{array}$$

26. Utilizar el teorema de De Moivre para evaluar cada una de las siguientes expresiones y dar cada resultado en la forma  $a + bi$ .

$$\begin{array}{l} a) [2(\cos 6^\circ + i \operatorname{sen} 6^\circ)]^2 = 16\sqrt{3} + 16i \\ b) [\sqrt{2}(\cos 75^\circ + i \operatorname{sen} 75^\circ)]^2 = 2 - 2\sqrt{3}i \\ c) (1 + i)^4 = 16 \\ d) (1 - i)^4 = 8i \\ e) (1/2 - i\sqrt{3}/2)^{20} = -1/2 - i\sqrt{3}/2 \\ f) (\sqrt{3}/2 + i/2)^8 = -i \\ g) (3 + 4i)^4 = -526,9 - 336,1i \\ h) \frac{(1 - i\sqrt{3})^2}{(-2 + 2i)^4} = \frac{1}{8} \quad i) \frac{(1 + i)(\sqrt{3} + i)^2}{(1 - i\sqrt{3})^2} = 1 - i \end{array}$$

$$\begin{array}{l} (\sqrt{2} \cos 45^\circ)^2 (\cos 45^\circ) \\ 2\sqrt{2} \cos 45^\circ + 4i \\ 2\sqrt{2} \cos 90^\circ \\ 2\sqrt{2} [\cos 90^\circ + i \operatorname{sen} 90^\circ] \\ 2\sqrt{2}i \end{array}$$

27. Encontrar todas las raíces indicadas y expresar los resultados en la forma  $a + bi$ , excepto en los casos en que se requiera el uso de tablas.
- a) Las raíces cuadradas de  $i$ . Resp.  $\sqrt{2}/2 + i\sqrt{2}/2, -\sqrt{2}/2 - i\sqrt{2}/2$
- b) Las raíces cuadradas de  $1 + i\sqrt{3}$ . Resp.  $\sqrt{6}/2 + i\sqrt{2}/2, -\sqrt{6}/2 - i\sqrt{2}/2$
- c) Las raíces cúbicas de  $-8$ . Resp.  $1 + i\sqrt{3}, -2, 1 - i\sqrt{3}$
- d) Las raíces cúbicas de  $27i$ . Resp.  $3\sqrt{3}/2 + 3i/2, -3\sqrt{3}/2 + 3i/2, -3i$
- e) Las raíces cúbicas de  $-4\sqrt{3} + 4i$ .  
Resp.  $2(\cos 50^\circ + i \sin 50^\circ), 2(\cos 170^\circ + i \sin 170^\circ), 2(\cos 290^\circ + i \sin 290^\circ)$
- f) Las raíces quintas de  $1 + i$ . Resp.  $\sqrt[5]{2}(\cos 9^\circ + i \sin 9^\circ), \sqrt[5]{2}(\cos 81^\circ + i \sin 81^\circ), \text{etc.}$
- g) Las raíces sextas de  $-\sqrt{3} + i$ . Resp.  $\sqrt[6]{2}(\cos 25^\circ + i \sin 25^\circ), \sqrt[6]{2}(\cos 85^\circ + i \sin 85^\circ), \text{etc.}$
28. Encontrar las raíces décimas de 1 y demostrar que el producto de dos cualesquiera de ellas es, a su vez, una de las raíces décimas de 1.
29. Demostrar que el inverso de cualquiera de las raíces décimas de 1 es, a su vez, una raíz décima de 1.
30. Simbolícese una de las raíces cúbicas complejas de 1 (problema 19d) por  $\omega_1$ , y la otra por  $\omega_2$ . Demostrar que  $\omega_1^2\omega_2 = \omega_1$  y  $\omega_1\omega_2^2 = \omega_2$ .
31. Demostrar que  $(\cos \theta + i \sin \theta)^{-n} = \cos n\theta - i \sin n\theta$ .
32. A partir de la igualdad de los segmentos  $OS$  y  $P_2P_1$  de la Fig. 18-E encontrar un segundo procedimiento que permita la construcción de la diferencia  $OS = z_1 - z_2$  de dos números complejos  $z_1$  y  $z_2$ .



## Conceptos sobre geometría del espacio

EL PUNTO DE INTERSECCION de una recta y un plano se llama *pie* de la recta.

Una recta dada es perpendicular a un plano dado si la recta corta al plano y si, además, toda recta del plano que pasa por el pie de la recta dada es perpendicular a ella.

Si una recta es perpendicular a dos rectas secantes cualesquiera en su punto de intersección, es perpendicular al plano que contiene a las dos rectas. Véase la Fig. 19-A.

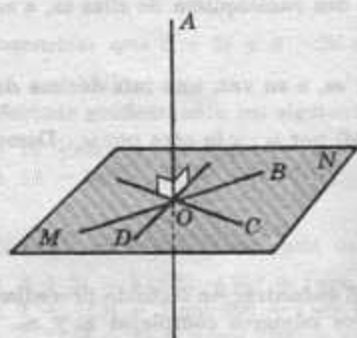


Fig. 19-A




Fig. 19-B

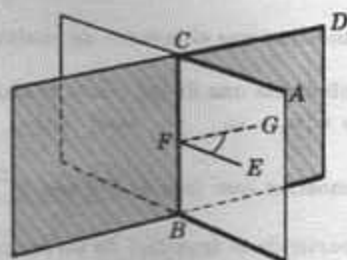


Fig. 19-C

ANGULOS DIEDROS. Cuando dos rectas tienen un solo punto común (Fig. 19-B), determinan cuatro ángulos planos. Cuando dos planos tienen una sola recta común, determinan cuatro *ángulos diedros*. Aquí, se considerará únicamente el ángulo diedro  $A-BC-D$  que se señala con líneas gruesas en la Fig. 19-C. Los planos  $ABC$  y  $DBC$  reciben el nombre de *caras* del ángulo diedro, y la recta de intersección  $BC$  recibe el nombre de *arista* del ángulo diedro.

El ángulo plano formado por dos rectas que pertenecen a caras distintas de un ángulo diedro y que son perpendiculares a la arista es el *ángulo plano* del ángulo diedro. El ángulo plano, como el  $\angle EFG$  de la Fig. 19-C, se toma como medida del ángulo diedro  $A-BC-D$ .

Los ángulos diedros son agudos, rectos u obtusos si sus correspondientes ángulos planos son, respectivamente, agudos, rectos u obtusos.

ANGULOS TRIEDROS. Cuando tres planos tienen un solo punto común determinan ocho *ángulos triedros*. Aquí se considerará únicamente el ángulo triedro  $O-XYZ$  que se señala con líneas gruesas en la Fig. 19-D. El punto común  $O$  es el *vértice* del ángulo triedro, y los planos  $OXY$ ,  $OYZ$  y  $OZX$  son las *caras*. Las caras, tomadas de dos en dos, forman tres ángulos diedros cuyas aristas  $OX$ ,  $OY$  y  $OZ$  son las aristas del ángulo triedro. Los ángulos planos  $XOY$ ,  $YOZ$  y  $ZOX$ , en las caras del ángulo triedro, son *los ángulos de sus caras*.

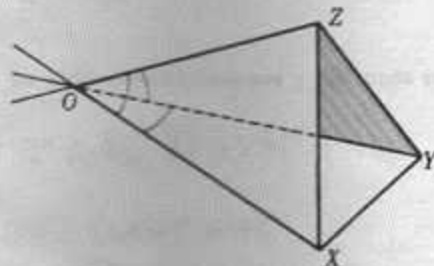


Fig. 19-D

La suma de los ángulos de dos caras cualesquiera de un ángulo triedro es mayor que el ángulo de la tercera cara. Véase la demostración en el problema 1.

La suma de los ángulos de las caras de un ángulo triedro es menor que  $360^\circ$ . Véase la demostración en el problema 2.

**ANGULOS ESFERICOS.** La intersección de un plano y una esfera es una circunferencia (Fig. 19-E) que recibe el nombre de *circunferencia máxima* si el plano secante pasa por el centro de la esfera; en los demás casos, se llama *circunferencia menor*. Los polos de tales circunferencias (máximas o menores) son los puntos de intersección de la esfera y el diámetro que es perpendicular al plano de las circunferencias. Obsérvese que, mientras  $P$  es el polo de muchas circunferencias menores (de todas las circunferencias menores determinadas por planos a  $MM'$ ), lo es, sin embargo, de una sola circunferencia máxima.

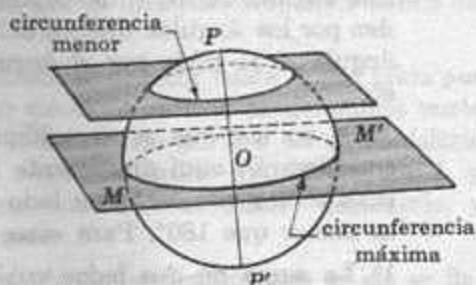


Fig. 19-E

Dos puntos diferentes de una esfera (como  $A$  y  $B$  en la Fig. 19-F) que no son extremos de un diámetro pertenecen a una sola circunferencia máxima. El menor arco  $AB$  de esta circunferencia máxima es la curva más corta que puede trazarse sobre la esfera para unir los puntos  $A$  y  $B$ .

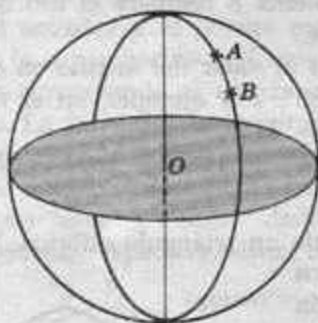


Fig. 19-F

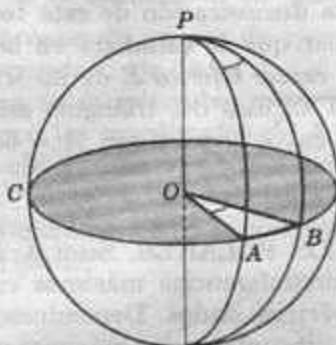


Fig. 19-G

El ángulo formado en una esfera por dos arcos secantes de circunferencias máximas se denomina *ángulo esférico*. Los arcos de las circunferencias máximas son los *lados* del ángulo esférico, y el punto de intersección de los arcos es el *vértice*. La medida de un ángulo esférico viene dada por el ángulo diedro formado por los planos de las circunferencias máximas cuyos arcos constituyen los *lados* del ángulo esférico. En la Fig. 19-G,  $APB$  es un ángulo esférico de la esfera del centro  $O$ , y la circunferencia  $ABC$  es la circunferencia máxima cuyo polo es el vértice  $P$  del ángulo esférico. Como la medida del ángulo diedro  $A-PO-B$  corresponde a la medida del ángulo plano  $AOB$  que, a su vez, tiene por medida la del arco  $AB$ , se sigue que la medida de un ángulo esférico está dada por el arco determinado por los lados sobre la circunferencia máxima cuyo polo es el vértice del ángulo.

**TRIANGULOS ESFERICOS.** La región de la superficie de una esfera limitada por los arcos de tres circunferencias máximas se denomina *triángulo esférico*. Los arcos son los *lados* del triángulo esférico, y los vértices de los tres ángulos esféricos son los *vértices* del triángulo esférico. Generalmente, los ángulos se denominan  $A, B, C$ , y los respectivos lados opuestos  $a, b, c$ .

Cuando se unen los vértices  $A, B, C$  de un triángulo esférico con el centro de la esfera (Fig. 19-H) se forma un ángulo triedro  $O-ABC$ . Los lados  $a, b, c$  del triángulo esférico se miden por los ángulos de las caras  $BOC, COA, AOB$  de este triángulo triedro. Los ángulos  $A, B, C$  del triángulo esférico se miden por los ángulos diedros del ángulo triedro — el ángulo  $A$  se mide por el ángulo diedro  $B-OA-C$ , etc.

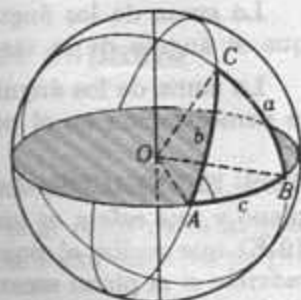


Fig. 19-H

A no ser que se especifique lo contrario, se considerarán aquí únicamente los triángulos esféricos en los que cualquier lado y cualquier ángulo es menor que  $180^\circ$ . Para estos triángulos:

- 1) La suma de dos lados cualesquiera es mayor que el tercer lado.
- 2) La suma de los tres lados es menor que  $360^\circ$ .  
(Estos teoremas se derivan de los correspondientes teoremas referentes a los ángulos de las caras de un ángulo triedro.)
- 3) Si dos lados son iguales, los ángulos opuestos son iguales, y recíprocamente.
- 4) Si dos lados son desiguales, los ángulos opuestos son desiguales, y el ángulo mayor se opone al lado mayor, y recíprocamente.  
(Estos teoremas son evidentes intuitivamente y no se dará una demostración formal de ellos.)
- 5) La suma de los tres ángulos es mayor que  $180^\circ$  y menor que  $540^\circ$ .  
(La demostración de este teorema en el problema 8 requiere el uso del triángulo polar que se estudiará en la sección siguiente.)

El *exceso esférico*  $E$  de un triángulo esférico es el valor del ángulo en que la suma de los ángulos del triángulo esférico excede a  $180^\circ$ . Por ejemplo, en el triángulo esférico cuyos ángulos son  $A = 65^\circ, B = 75^\circ, C = 112^\circ$ ,

$$E = 65^\circ + 75^\circ + 112^\circ - 180^\circ = 72^\circ.$$

**TRIANGULOS POLARES.** Sean  $A, B, C$  los vértices de un triángulo esférico. Trácese las tres circunferencias máximas cuyos polos son los tres vértices dados. Denomínese  $A'$  la intersección de las circunferencias máximas cuyos polos son  $B$  y  $C$  y que se encuentra, respecto de  $BC$ , al mismo lado que  $A$ ;  $B'$  la intersección de las circunferencias máximas cuyos polos son  $C$  y  $A$  y que se encuentra, respecto de  $CA$ , al mismo lado que  $B$ ;  $C'$  la intersección de las circunferencias máximas cuyos polos son  $A$  y  $B$  y que se encuentra, respecto de  $AB$ , al mismo lado que  $C$ . El triángulo esférico  $A'B'C'$  es el *triángulo polar* de  $ABC$ . Sus lados se denominarán  $a', b', c'$ , como en la Fig. 19-I.

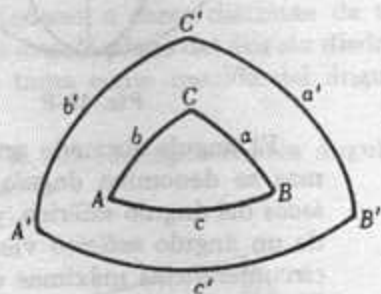


Fig. 19-I

Los teoremas fundamentales referentes a los triángulos polares son:

- 1) Si  $A'B'C'$  es el triángulo polar de  $ABC$ , entonces  $ABC$  es el triángulo polar de  $A'B'C'$ . (Véase una demostración en el problema 5.)
- 2) Dados un triángulo y su triángulo polar, cada ángulo de cualquiera de los triángulos dados es igual al suplemento del lado correspondiente del otro triángulo; así,

$$\begin{array}{lll} A = 180^\circ - a' & B = 180^\circ - b' & C = 180^\circ - c' \\ A' = 180^\circ - a & B' = 180^\circ - b & C' = 180^\circ - c. \end{array}$$

(Véase una demostración en el problema 6.)

**APLICACIONES.** Para simplificar algunos cálculos, se acostumbra a considerar la Tierra como una esfera. El eje de rotación de esta esfera interseca la superficie de ésta en los polos *norte* y *sur*,  $P_n$  y  $P_s$  de la Fig. 19-J. La circunferencia máxima cuyos polos son  $P_n$  y  $P_s$  recibe el nombre de *ecuador*. Dado un punto cualquiera  $A$ , de la superficie de la Tierra, diferente de los polos, se llama *meridiano* de  $A$  a la semi-circunferencia  $P_nAP_s$ . El *primer meridiano* o *meridiano cero* pasa por el observatorio astronómico de Greenwich, Inglaterra.

La *latitud* (lat.) de  $A$  es la distancia angular desde el ecuador hasta  $A$ . Se mide por el ángulo  $A'OA$  o por el arco  $A'A$  del meridiano de  $A$ . La latitud se denomina *norte* o *sur* según que el punto dado se encuentre en el hemisferio norte o en el hemisferio sur. La diferencia de latitud entre dos puntos cuyas latitudes respectivas son  $L_1$  y  $L_2$ , ( $L_1 > L_2$ ), es  $L_1 - L_2$  si ambos puntos se encuentran en el mismo hemisferio, y es  $L_1 + L_2$  si se encuentran en hemisferios diferentes.

Las circunferencias menores determinadas por planos perpendiculares al eje se llaman *paralelos de latitud* o *paralelos*. Todos los puntos de un mismo paralelo tienen la misma latitud.

La *longitud* (long.) de  $A$  es el ángulo (no mayor que  $180^\circ$ ) entre el primer meridiano y el meridiano de  $A$ . Se mide por el arco  $G'A'$  determinado en el ecuador por los dos meridianos o por el ángulo esférico  $G'P_nA'$ . La longitud se denomina *este* u *oeste* según que el punto dado se encuentre al este o al oeste del primer meridiano. La diferencia de longitud entre dos puntos cuyas longitudes respectivas son  $\lambda_1$  y  $\lambda_2$ , ( $\lambda_1 > \lambda_2$ ), es  $\lambda_1 - \lambda_2$  si ambos puntos se encuentran hacia un mismo lado del primer meridiano y es menor que  $\lambda_1 + \lambda_2$  y es  $360^\circ - (\lambda_1 + \lambda_2)$  si se encuentran en lados diferentes.

El ecuador y el primer meridiano hacen las veces de un par de ejes coordenados sobre la superficie de la Tierra; el ecuador corresponde al eje de las  $X$  y el primer meridiano corresponde al eje de las  $Y$  de un sistema de coordenadas rectangulares en un plano. La latitud y la longitud de un punto  $A$  son las coordenadas de  $A$  con respecto a estos ejes; la latitud corresponde a la coordenada  $Y$ , mientras que la longitud corresponde a la coordenada  $X$ . Las denominaciones "norte" y "sur" dadas a las latitudes, y las de "este" y "oeste" dadas a las longitudes corresponden a la coordenada positiva y negativa, respectivamente, de un punto en un plano.

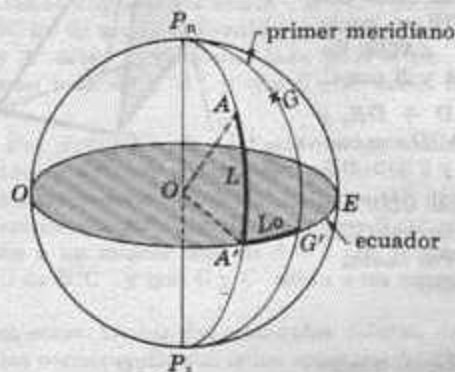


Fig. 19-J

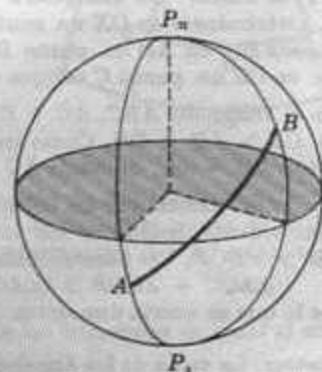


Fig. 19-K

Los meridianos que pasan por dos puntos de la superficie de la Tierra y los arcos de la circunferencia menor que unen dichos puntos (Fig. 19-K) determinan dos triángulos esféricos  $AP_nB$  y  $AP_sB$ . Uno de estos triángulos se utilizará en un capítulo posterior para determinar la distancia a lo largo de una circunferencia máxima, (longitud del arco  $AB$ ) entre los dos puntos. Estas distancias a lo largo de un arco de circunferencia máxima se expresan, generalmente, en millas náuticas. Por definición,

$$1' \text{ de un arco de circunferencia máxima} = 1 \text{ milla náutica} = 6080 \text{ pies.}$$



Cuando un barco o un aeroplano recorre un arco de circunferencia máxima entre dos puntos, su *rumbo* es el ángulo que el recorrido forma con el meridiano del barco o del aeroplano. En náutica y en aeronáutica, el rumbo se mide a partir del norte y con el sentido dirigido hacia el este.

- EJEMPLO.** a) En la Fig. 19-L, un barco ha de navegar desde A hasta B. El rumbo inicial (rumbo en A) es el ángulo  $P_n AB$  y el rumbo de llegada (rumbo en B) es el ángulo  $P_n BC$  como aparece señalado.
- b) En la Fig. 19-M, un barco ha de navegar desde B hasta A. El rumbo inicial (en B) es el ángulo  $P_n BA$  y el rumbo de llegada (en A) es el ángulo  $P_n AC$  como aparece señalado.

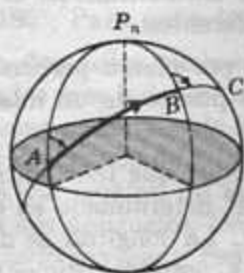


Fig. 19-L

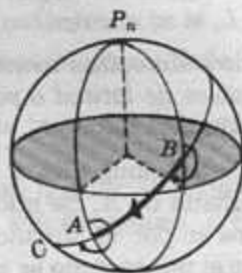


Fig. 19-M

## PROBLEMAS RESUELTOS

1. Demostrar: La suma de los ángulos de dos caras cualesquiera de un ángulo triedro es mayor que el ángulo de la tercera cara.

El teorema es verdadero si los ángulos de las tres caras son iguales. Considérese entonces un ángulo triedro  $O-XYZ$  en el que el  $\angle XOY$  es mayor que cualquiera de los ángulos de las otras dos caras. Determínese en  $OX$  un punto cualquiera A, en  $OY$  un punto cualquiera B y en  $AB$  un punto D tal que  $\angle AOD = \angle XOZ$ . Señálese en  $OZ$  un punto C tal que  $OC = OD$ . Unanse A y B con C.

En el triángulo  $ABC$ ,  $AC + CB > AB$ ,  $AB = AD + DB$ , y  $AC + CB > AD + DB$ . Como los triángulos  $AOC$  y  $AOD$  son congruentes,  $AD = AC$ ; de donde  $AC + CB > AC + DB$  y  $CB > DB$ .

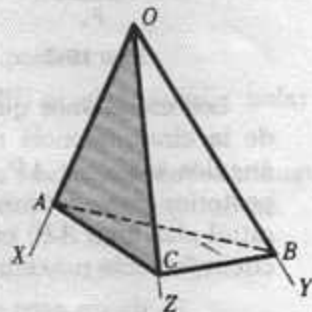
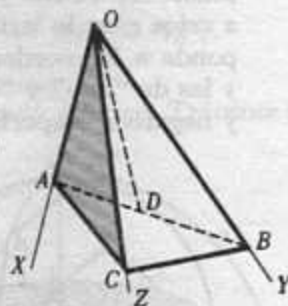
Entonces, puesto que los lados  $OD$  y  $OB$  del triángulo  $ODB$  son respectivamente iguales a los lados  $OC$  y  $OB$  del triángulo  $OCB$ ,  $\angle COB > \angle DOB$ . Por construcción  $\angle AOC = \angle AOD$ . Por tanto,  $\angle AOC + \angle COB > \angle AOD + \angle DOB = \angle AOB$  que es lo que se quería demostrar.

2. Demostrar: La suma de los ángulos de las caras de un ángulo triedro es menor que  $360^\circ$ .

Señálense tres puntos cualesquiera A, B y C en las aristas del triángulo triedro  $O-XYZ$ . Obsérvese, en primer lugar, que existen tres triángulos con vértice en O y que la suma de los ángulos de estos triángulos es  $3 \cdot 180^\circ = 540^\circ$ ; esto es,

$$\begin{aligned} &\angle AOB + \angle BOC + \angle COA + (\angle OAB + \angle OAC) \\ &+ (\angle OBA + \angle OBC) + (\angle OCA + \angle OCB) = 540^\circ. \end{aligned}$$

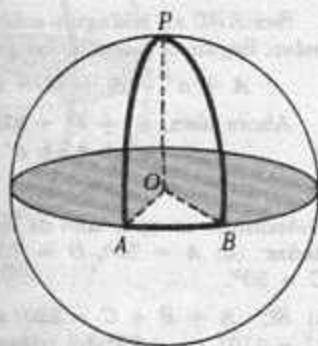
Por el problema 1,  $\angle OAB + \angle OAC > \angle BAC$ ,  
 $\angle OBA + \angle OBC > \angle ABC$ , y  
 $\angle OCA + \angle OCB > \angle ACB$ .



Entonces  $\angle AOB + \angle BOC + \angle COA + \angle BAC + \angle ABC + \angle ACB < 540^\circ$  o  
 $\angle AOB + \angle BOC + \angle COA < 540^\circ - (\angle BAC + \angle ABC + \angle ACB)$ .

Como la suma contenida en los paréntesis es la suma de los ángulos del triángulo  $ABC$ ,  
 $\angle AOB + \angle BOC + \angle COA < 540^\circ - 180^\circ = 360^\circ$  que es lo que se quería probar.

3. Sean  $A$  y  $B$  dos puntos cualesquiera de una circunferencia de una esfera de centro  $O$ , y sea  $P$  el polo de la circunferencia máxima. Constrúyase y resuélvase el triángulo esférico  $ABP$  cuando (a)  $AB = 75^\circ$  y (b)  $AB = 90^\circ$ .



Unanse  $A$  y  $B$  con  $P$ , mediante arcos de circunferencias máximas. Como todos los puntos de una circunferencia máxima distan  $90^\circ$  del polo correspondiente,  $AP = BP = 90^\circ$ . El ángulo esférico  $PAB$  o  $A$  y el ángulo esférico  $PBA$  o  $B$  se miden por los ángulos diedros  $P-AO-B$  y  $P-BO-A$  cuyas respectivas caras son planos perpendiculares entre sí. Entonces,  $A = B = 90^\circ$ .

a) El ángulo esférico  $APB$  o  $P$  se mide por el ángulo plano  $AOB$  que tiene la misma medida que el arco  $AB$ . Los lados del triángulo  $APB$  son  $AP = BP = 90^\circ$ ,  $AB = 75^\circ$ ; y los ángulos son  $A = B = 90^\circ$ ,  $P = 75^\circ$ .

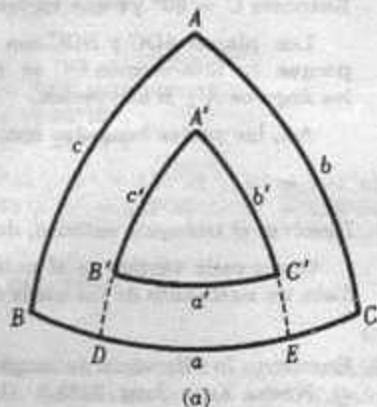
b) En el triángulo esférico  $APB$ ,  $AP = BP = AB = 90^\circ$  y  $A = B = P = 90^\circ$ .

4. Determinar en cada uno de los siguientes casos si existe un triángulo esférico  $ABC$  cuyas partes sean las dadas: (a)  $AB = 50^\circ$ ,  $BC = 70^\circ$ ,  $CA = 100^\circ$ ; (b)  $AB = 35^\circ$ ,  $BC = 65^\circ$ ,  $CA = 120^\circ$ ; (c)  $AB = 150^\circ$ ,  $BC = 100^\circ$ ,  $CA = 120^\circ$ .

- a) Sí;  $AB + BC + CA < 360^\circ$  y la suma de dos lados cualesquiera es mayor que el tercer lado.  
 b) No;  $AB + BC < CA$ .  
 c) No;  $AB + BC + CA > 360^\circ$ .

5. Demostrar: Si  $A'B'C'$  es el triángulo polar de  $ABC$ , entonces  $ABC$  es el triángulo polar de  $A'B'C'$ .

Como  $A$  es el polo de  $B'C'$  y  $C$  es el polo de  $A'B'$ ,  $B'$  dista un cuadrante ( $90^\circ$ ) de  $A$  y de  $C$ . Así,  $B'$  es el polo del arco  $AC$ . Del mismo modo se puede demostrar que  $A'$  es el polo del arco  $BC$  y que  $C'$  es el polo del arco  $AB$ . Entonces, el triángulo  $ABC$  es uno de los ocho triángulos determinados por las circunferencias máximas cuyos polos son  $A', B', C'$ . Si de los ocho triángulos,  $ABC$  ha de ser el triángulo polar de  $A'B'C'$ , será necesario que  $A$  y  $A'$  estén a un mismo lado de  $B'C'$ , que  $B$  y  $B'$  estén a un mismo lado de  $C'A'$ , y que  $C$  y  $C'$  estén a un mismo lado de  $A'B'$ .



Por definición,  $B$  y  $B'$  están a un mismo lado de  $AC$ , y la distancia entre  $B$  y cualquier punto de  $AC$  es menor que  $180^\circ$ .

Entonces, puesto que  $B'$  (el polo de  $AC$ ) dista  $90^\circ$  de cualquier punto de  $AC$ , la distancia entre  $B$  y  $B'$  es menor que  $90^\circ$ . Por último, como  $B$  (el polo de  $A'C'$ ) dista  $90^\circ$  de cualquier punto de  $A'C'$ ,  $B$  y  $B'$  están a un mismo lado de  $A'C'$ . Del mismo modo se puede demostrar que  $A$  y  $A'$  están a un mismo lado de  $B'C'$ , y que  $C$  y  $C'$  están a un mismo lado de  $A'B'$ .

6. Demostrar: Dados dos triángulos polares, cada ángulo de uno de los triángulos es igual al suplemento de los correspondientes lados opuestos del otro triángulo.

En los triángulos polares  $ABC$  y  $A'B'C'$  de la Fig. (a), se demostrará que  $A' = 180^\circ - a$ .

Prolónguense los arcos  $A'B'$  y  $A'C'$  hasta que corten  $BC$  en  $D$  y  $E$  respectivamente. Entonces, el arco  $DE$  es la medida del ángulo  $A'$ . Ahora  $BE + DC = BC + DE = a + A'$  y, puesto que  $B$  es el polo de  $A'E$  y  $C$  es el polo de  $A'D$ ,  $BE = DC = 90^\circ$ . Así,  $a + A' = 180^\circ$  y  $A' = 180^\circ - a$ .

7. Encontrar las partes del triángulo polar del triángulo esférico en el que:

- a)  $A = 156^\circ 56'$ ,  $B = 83^\circ 11'$ ,  $C = 90^\circ$ ;  $a = 157^\circ 55'$ ,  $b = 72^\circ 22'$ ,  $c = 106^\circ 18'$ .  
 b)  $A = 44^\circ 59'$ ,  $B = 112^\circ 47'$ ,  $C = 85^\circ 7'$ ;  $a = 43^\circ 17'$ ,  $b = 116^\circ 36'$ ,  $c = 105^\circ 15'$ .

Según el teorema del problema 6:

- a)  $A' = 180^\circ - a = 22^\circ 5'$ ,  $B' = 180^\circ - b = 107^\circ 38'$ ,  $C' = 180^\circ - c = 73^\circ 42'$ ;

$$a' = 180^\circ - A = 23^\circ 4', \quad b' = 180^\circ - B = 96^\circ 49', \quad c' = 180^\circ - C = 90^\circ.$$

$$b) \quad A' = 180^\circ - a = 136^\circ 43', \quad B' = 180^\circ - b = 63^\circ 24', \quad C' = 180^\circ - c = 74^\circ 45';$$

$$a' = 180^\circ - A = 135^\circ 1', \quad b' = 180^\circ - B = 67^\circ 13', \quad c' = 180^\circ - C = 94^\circ 53'.$$

8. Demostrar: La suma de los ángulos de un triángulo esférico es mayor que  $180^\circ$  y menor que  $540^\circ$ .

Sea  $ABC$  el triángulo esférico dado (véase la Fig. (a) del problema 6), y sea  $A'B'C'$  su triángulo polar. Según el teorema del problema 6,

$$A + a' = B + b' = C + c' = 180^\circ; \text{ de donde, } A + B + C + a' + b' + c' = 540^\circ.$$

Ahora bien,  $a' + b' + c' > 0^\circ$  tal que  $A + B + C < 540^\circ$   
 y  $a' + b' + c' < 360^\circ$  tal que  $A + B + C > 180^\circ$ .

9. Determinar en cada uno de los siguientes casos si existe un triángulo esférico  $ABC$  cuyas partes sean las dadas: (a)  $A = 60^\circ, B = 70^\circ, C = 90^\circ$ ; (b)  $A = 60^\circ, B = 115^\circ, C = 145^\circ$ ; (c)  $A = 60^\circ, B = 20^\circ, C = 90^\circ$ .

a) Sí;  $A + B + C = 220^\circ$  es un valor comprendido entre  $180^\circ$  y  $540^\circ$  y, además, los lados  $a' = 120^\circ, b' = 110^\circ, c' = 90^\circ$  del triángulo polar cumplen la condición que la suma de dos cualesquiera de ellos es mayor que el tercer lado.

b) No; los lados  $a' = 120^\circ, b' = 65^\circ, c' = 35^\circ$  del triángulo polar no cumplen la condición  $b' + c' > a'$ .

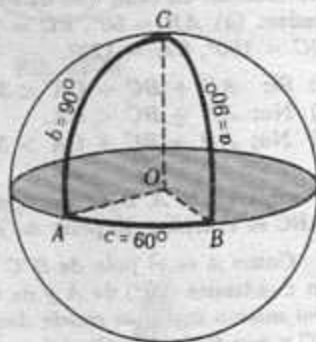
c) No;  $A + B + C < 180^\circ$ .

10. Resolver el triángulo esférico, dados  $a = b = 90^\circ, c = 60^\circ$ .

Supóngase que el triángulo esférico pertenece a una esfera de centro  $O$ . Ahora bien,  $C$  dista un cuadrante de  $A$  y de  $B$ ,  $C$  es el polo de la circunferencia máxima de la que  $AB = c$  es un arco. Entonces  $C = 60^\circ$  ya que su medida es la del arco  $AB$ .

Los planos  $AOC$  y  $BOC$  son perpendiculares al plano  $AOB$  porque su intersección  $OC$  es perpendicular a  $AOB$ ; por tanto, los ángulos  $A$  y  $B$  son rectos.

Así, las partes buscadas son:  $A = B = 90^\circ, C = 60^\circ$ .



11. Resolver el triángulo esférico, dados  $A = B = C = 90^\circ$ .

Como cada vértice es el polo de la circunferencia máxima que pasa por los otros dos, cada vértice dista un cuadrante de los otros dos vértices. Así,  $a = b = c = 90^\circ$ .

12. Encontrar la diferencia de longitud entre:

a) Nueva York (long.  $74^\circ 1,0'$  O) y Pearl Harbor (long.  $157^\circ 58,3'$  O).

b) Nueva York y Moscú (long.  $37^\circ 34,3'$  E).

c) Nueva York y Sydney (long.  $151^\circ 13,0'$  E).

d) Sydney y Moscú.

Las distancias buscadas son:

a)  $\lambda_1 - \lambda_2 = 157^\circ 58,3' - 74^\circ 1,0' = 83^\circ 57,3'$ , puesto que ambas son oeste.

b)  $\lambda_1 + \lambda_2 = 74^\circ 1,0' + 37^\circ 34,3' = 111^\circ 35,3'$ , porque una es este y la otra es oeste.

c)  $360^\circ - (\lambda_1 + \lambda_2) = 360^\circ - (151^\circ 13,0' + 74^\circ 1,0') = 134^\circ 46,0'$ .

d)  $\lambda_1 - \lambda_2 = 151^\circ 13,0' - 37^\circ 34,3' = 113^\circ 38,7'$ .

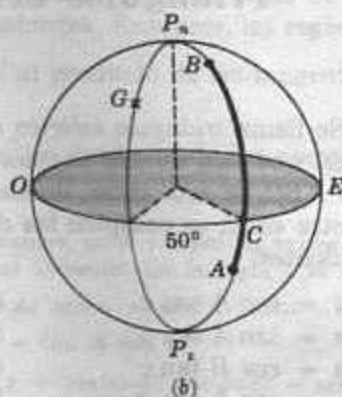
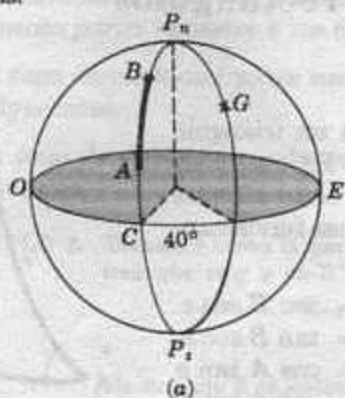
13. Encontrar la distancia (en millas náuticas) entre cada uno de los siguientes pares de puntos de la superficie terrestre:

a)  $A$  (lat.  $30^\circ 25'$  N, long.  $40^\circ$  O) y  $B$  (lat.  $75^\circ 10'$  N, long.  $40^\circ$  O).

b)  $A$  (lat.  $30^\circ 25'$  S, long.  $50^\circ$  E) y  $B$  (lat.  $75^\circ 10'$  N, long.  $50^\circ$  E).

a) En la Fig. (a),  $CA = 30^\circ 25', CB = 75^\circ 10'$  y  $AB = CB - CA = 44^\circ 45' = 2685' = 2685$  millas náuticas.

- b) En la Fig. (b),  $CA = 30^{\circ}25'$ ,  $CB = 75^{\circ}10'$  y  $AB = CA + CB = 105^{\circ}35' = 6335' = 6335$  millas náuticas.



### PROBLEMAS PROPUESTOS

14. Probar que cualquier ángulo de la cara de un ángulo triedro es mayor que la diferencia de los otros dos ángulos de la cara. Sugerencia: Empléese  $A + B > C$ .
15. ¿Qué puede decirse del tercer ángulo de la cara de un ángulo triedro, si:
- dos de los ángulos de la cara miden  $70^{\circ}$  y  $50^{\circ}$  respectivamente? Resp.  $> 20^{\circ}$ ;  $< 120^{\circ}$
  - dos de los ángulos de la cara miden  $130^{\circ}$  y  $150^{\circ}$  respectivamente? Resp.  $> 20^{\circ}$ ;  $< 80^{\circ}$
16. ¿Es posible obtener un triángulo esférico  $ABC$  cuyos lados son:
- $160^{\circ}$ ,  $110^{\circ}$ ,  $85^{\circ}$ ? b)  $170^{\circ}$ ,  $150^{\circ}$ ,  $10^{\circ}$ ? c)  $170^{\circ}$ ,  $150^{\circ}$ ,  $50^{\circ}$ ? d)  $30^{\circ}$ ,  $50^{\circ}$ ,  $70^{\circ}$ ?
- Resp. a) sí; b) no; c) no; d) sí
17. Encontrar las partes del triángulo polar  $A'B'C'$  del triángulo esférico  $ABC$  para el cual:
- $A = 67^{\circ}19'$ ,  $B = 48^{\circ}29'$ ,  $C = 77^{\circ}17'$ ;  $a = 43^{\circ}18'$ ,  $b = 33^{\circ}49'$ ,  $c = 46^{\circ}28'$ .
  - $A = 122^{\circ}7'$ ,  $B = 32^{\circ}24'$ ,  $C = 41^{\circ}36'$ ;  $a = 73^{\circ}44'$ ,  $b = 37^{\circ}25'$ ,  $c = 48^{\circ}48'$ .
- Resp. a)  $A' = 136^{\circ}42'$ ,  $B' = 146^{\circ}11'$ ,  $C' = 133^{\circ}32'$ ;  $a' = 112^{\circ}41'$ ,  $b' = 131^{\circ}31'$ ,  $c' = 102^{\circ}43'$   
 b)  $A' = 106^{\circ}16'$ ,  $B' = 142^{\circ}35'$ ,  $C' = 131^{\circ}12'$ ;  $a' = 57^{\circ}53'$ ,  $b' = 147^{\circ}36'$ ,  $c' = 138^{\circ}24'$
18. ¿Es posible obtener un triángulo esférico  $ABC$  cuyos ángulos sean:
- $30^{\circ}$ ,  $37^{\circ}$ ,  $128^{\circ}$ ? b)  $30^{\circ}$ ,  $37^{\circ}$ ,  $111^{\circ}$ ? c)  $37^{\circ}$ ,  $51^{\circ}$ ,  $131^{\circ}$ ? d)  $40^{\circ}$ ,  $85^{\circ}$ ,  $140^{\circ}$ ?
- Resp. a) sí; b) no; c) sí; d) no
19. El área de la superficie de una esfera de radio  $R$  es igual a  $4\pi R^2$ . El área  $K$  de un triángulo esférico sobre esta esfera está dada por  $K = \pi R^2 E / 180$ , donde  $E$ , es el exceso esférico en grados del triángulo. ¿Qué parte del área de una esfera de radio 10 está limitada por cada uno de los triángulos esféricos con ángulos:
- $A = B = C = 110^{\circ}$ ? Resp.  $K = 250\pi/3$ ;  $5/24$
  - $A = 150^{\circ}$ ,  $B = 138^{\circ}$ ,  $C = 132^{\circ}$ ? Resp.  $K = 400\pi/3$ ;  $1/3$
20. Encontrar la diferencia en longitudes entre
- San Francisco (long.  $122^{\circ}15,7'$  O) y Dakar (long.  $17^{\circ}25,0'$  O),
  - San Francisco y Melbourne (long.  $144^{\circ}58,5'$  E),
  - Dakar y Cape Town (long.  $18^{\circ}26,0'$  E),
  - Melbourne y Cape Town.
- Resp. a)  $104^{\circ}50,7'$ , b)  $92^{\circ}45,8'$ , c)  $35^{\circ}51,0'$ , d)  $126^{\circ}32,5'$
21. Encontrar la distancia (en millas náuticas) sobre la superficie de la Tierra de cada par de puntos siguientes:
- A (lat.  $46^{\circ}40'$  N; long.  $120^{\circ}$  O) y B (lat.  $75^{\circ}25'$  N; long.  $120^{\circ}$  O).  
Resp. 2085 millas náuticas
  - A (lat.  $50^{\circ}20'$  N; long.  $80^{\circ}$  O) y B (lat.  $30^{\circ}50'$  S; long.  $80^{\circ}$  O).  
Resp. 4870 millas náuticas
  - A (lat.  $10^{\circ}30'$  S; long.  $40^{\circ}$  E) y B (lat.  $50^{\circ}20'$  S; long.  $40^{\circ}$  E).  
Resp. 2390 millas náuticas

## Triángulos esféricos rectángulos

**FORMULAS.** Se llama *triángulo esférico rectángulo* a un triángulo esférico tal que uno de sus ángulos sea recto. En cualquier triángulo  $ABC$  de esta clase, donde el ángulo recto *siempre* se encuentra en  $C$ , se cumplen las diez relaciones fundamentales siguientes:

- |  |   |
|--|---|
| (1) $\text{sen } a = \text{sen } A \text{ sen } c$ | (6) $\text{sen } b = \text{sen } B \text{ sen } c$  |
| (2) $\text{tan } a = \text{tan } A \text{ sen } b$ | (7) $\text{tan } b = \text{tan } B \text{ sen } a$  |
| (3) $\text{tan } a = \text{cos } B \text{ tan } c$ | (8) $\text{tan } b = \text{cos } A \text{ tan } c$  |
| (4) $\text{cos } c = \text{cos } b \text{ cos } a$ | (9) $\text{cos } c = \text{cot } A \text{ cot } B$  |
| (5) $\text{cos } A = \text{sen } B \text{ cos } a$ | (10) $\text{cos } B = \text{sen } A \text{ cos } b$ |

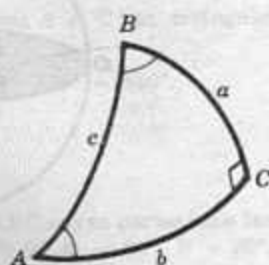


Fig. 20-A

La deducción de estas fórmulas aparece en el problema 1.

**LEYES DE LOS CUADRANTES.** Si en un triángulo esférico rectángulo se conocen los elementos  $A$  y  $c$ , el valor de  $\text{sen } a$  viene dado por la fórmula (1),  $\text{sen } a = \text{sen } A \text{ sen } c$ . Sin embargo, para determinar si  $a$  es menor o mayor que  $90^\circ$  se necesita una información adicional. Esta información se obtiene de la ley de los cuadrantes:

1. El lado  $a$  y el ángulo  $A$  (lo mismo que el lado  $b$  y el ángulo  $B$ ) pertenecen al mismo cuadrante.
2. Si  $c < 90^\circ$ , entonces los lados  $a$  y  $b$  (lo mismo que los ángulos  $A$  y  $B$ ) pertenecen al mismo cuadrante; si  $c > 90^\circ$ , entonces los lados  $a$  y  $b$  (lo mismo que los ángulos  $A$  y  $B$ ) pertenecen a cuadrantes diferentes. (Para la demostración de estas leyes, véase el problema 2.)

**EJEMPLO 1.** (a) Si  $A < 90^\circ$  y  $c < 90^\circ$  entonces  $a, b, B$  son  $< 90^\circ$  pero si  $c > 90^\circ$  entonces  $a < 90^\circ$  y  $b, B$  son  $> 90^\circ$ .

(b) Si  $A > 90^\circ$  y  $c < 90^\circ$  entonces  $a, b, B$  son  $> 90^\circ$  pero si  $c > 90^\circ$  entonces  $a > 90^\circ$  y  $b, B$  son  $< 90^\circ$ .

**REGLAS DE NEPER.** Mediante cualquiera de los recursos que aparecen en las figuras 20-B y 20-C, Neper ofrece reglas para expresar las diez fórmulas fundamentales. La figura 20-B muestra un triángulo esquemático obtenido del triángulo esférico de la figura 20-A mediante la sustitución de  $c$  por  $\text{co-}c = 90^\circ - c$ , de  $A$  por  $\text{co-}A = 90^\circ - A$ , y  $B$  por  $\text{co-}B = 90^\circ - B$ . Obsérvese que se ha omitido la letra  $C$ . La figura 20-C muestra las cinco partes esenciales de la figura 20-B dispuestas en forma de círculo.

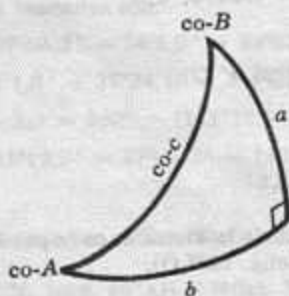


Fig. 20-B

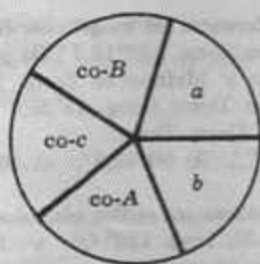


Fig. 20-C

Escójase una cualquiera de las cinco partes y denomínese *parte media*; llámense *partes adyacentes* a los elementos que se encuentran a ambos lados de la parte media, y llámense *partes opuestas* a los elementos restantes. Entonces, las reglas de Neper son:

1. El seno de cualquier parte media es igual al producto de las tangentes de las partes adyacentes.
2. El seno de cualquier parte media es igual al producto de los cosenos de las partes opuestas.

EJEMPLO 2. Tómesese  $b$  como la parte media; entonces,  $\text{co-}A$  y  $a$  son las partes adyacentes, mientras que  $\text{co-}c$  y  $\text{co-}B$  son las partes opuestas. De la regla 1 se obtiene

$$\text{sen } b = \tan(\text{co-}A) \tan a = \cot A \tan a$$

$$\text{o (2) } \quad \tan a = \tan A \text{ sen } b.$$

De la regla 2 se obtiene (6):  $\text{sen } b = \cos(\text{co-}B) \cos(\text{co-}c) = \text{sen } B \text{ sen } c.$

EJEMPLO 3. Tómesese  $\text{co-}B$  como la parte media; entonces  $\text{co-}c$  y  $a$  son las partes adyacentes y  $\text{co-}A$  y  $b$  son las partes opuestas. De la regla 1, se obtiene

$$\text{sen}(\text{co-}B) = \tan(\text{co-}c) \tan a$$

$$\text{Entonces, } \quad \cos B = \cot c \tan a$$

$$\text{o (3) } \quad \tan a = \cos B \tan c.$$

De la regla 2,  $\text{sen}(\text{co-}B) = \cos(\text{co-}A) \cos b$  o (10)  $\cos B = \text{sen } A \cos b.$

Al considerar sucesivamente como parte media cada una de las cinco partes se obtienen, de modo análogo al utilizado en los ejemplos 2 y 3 analizados anteriormente, las diez fórmulas fundamentales. Véanse los problemas 3-4.

**RESOLUCIONES DE TRIANGULOS ESFERICOS RECTANGULOS.** Para que un triángulo esférico rectángulo quede determinado es necesario que se conozcan, además del ángulo recto, otras dos partes del mismo. Sin embargo, cuando se escogen al azar dos medidas correspondientes a dichas partes, puede suceder que no quede determinado triángulo alguno, o que quede determinado un solo triángulo o que queden determinados dos triángulos. Solamente es posible la determinación de dos triángulos (caso ambiguo) cuando las partes dadas son un lado ( $a$  o  $b$ ) y el ángulo opuesto. Véanse los problemas 5-6.

Para llegar a la solución de triángulos esféricos rectángulos se sugieren los pasos siguientes:

- A) Constrúyase un triángulo esquemático (Fig. 20-B) y rodéense con una circunferencia las partes dadas.
- B) Escríbase una fórmula que relacione las dos partes dadas con una de las partes desconocidas de acuerdo con la conveniente regla de Neper.
- C) Escríbase una fórmula de comprobación que relacione las tres partes desconocidas.
- D) Aplíquense las leyes de los cuadrantes, especialmente cuando se utiliza el seno para encontrar una parte desconocida.

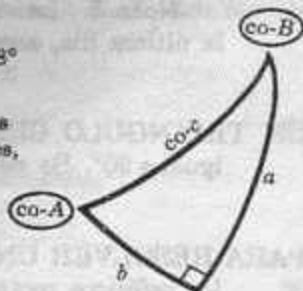
EJEMPLO 4. Supónganse conocidos los elementos  $A = 65^\circ$  y  $B = 118^\circ$  de un triángulo esférico rectángulo  $ABC$ .

Para encontrar  $a$ : Considérense  $a$ ,  $\text{co-}A$  y  $\text{co-}B$ ;  $\text{co-}A$  es la parte media, y  $a$  y  $\text{co-}B$  son las partes opuestas. Entonces,

$$\text{sen}(\text{co-}A) = \cos a \cos(\text{co-}B),$$

$$\cos A = \cos a \text{ sen } B,$$

$$\text{y (a) } \quad \cos a = \cos A \csc B.$$



Para encontrar  $b$ : Considérense  $b$ ,  $co-A$  y  $co-B$ ;  $co-B$  es la parte media, y  $b$  y  $co-A$  son las partes opuestas. Entonces,

$$\text{sen}(co-B) = \cos b \cos(co-A), \quad \cos B = \cos b \text{ sen } A,$$

y (b)  $\cos b = \cos B \text{ csc } A.$

Para encontrar  $c$ : Considérense  $co-c$ ,  $co-A$  y  $co-B$ ;  $co-c$  es la parte media, y  $co-A$  y  $co-B$  son las partes adyacentes. Entonces,

$$\text{sen}(co-c) = \tan(co-A) \tan(co-B),$$

y (c)  $\cos c = \cot A \cot B.$

Para la comprobación: Considérense las partes desconocidas  $a$ ,  $b$  y  $co-c$ ;  $co-c$  es la parte media y  $a$  y  $b$  son las partes opuestas. Entonces,  $\text{sen}(co-c) = \cos a \cos b,$

y  $\cos c = \cos a \cos b.$

Para los cálculos se utilizará en este libro el siguiente modelo que se encuentra en las publicaciones oficiales del Departamento Naval de los Estados Unidos.

	(a)	(b)	(c)
$A = 65^\circ$	1 cos	1 csc	1 cot
$B = 118^\circ$	1 csc	1 cos	(n) 1 cot
$a =$	1 cos	(n) 1 cos	(n)
$b =$	1 cos	(n) 1 cos	(n)
$c =$	1 cos	(n)	1 cos (n)

Nota 1. Este modelo se llena por *filas* (horizontales).

Nota 2. Después de los logaritmos de los números menores que 1 se omitirá  $-10$ .

Nota 3. Si las tablas no contienen  $\log \sec \theta$  y  $\log \csc \theta$ , tómense

$$\log \sec \theta = \log \frac{1}{\cos \theta} = \text{colog } \cos \theta$$

y  $\log \csc \theta = \log \frac{1}{\text{sen } \theta} = \text{colog } \text{sen } \theta.$

Nota 4. La letra (n) que aparece a continuación de algunos logaritmos indica que el antilogaritmo (la función natural) es negativo. Cuando no aparece esta letra, el antilogaritmo es positivo;  $\cos A$  y  $\csc B$  son positivos en el cálculo de  $a$ ; por tanto, su producto,  $\cos a$ , es positivo y  $a < 90^\circ$ . En el cálculo de  $b$ , se tiene que  $\csc A$  es positiva y  $\cos B$ , es negativo; por tanto, su producto,  $\cos b$  es negativo y  $b > 90^\circ$ . En el cálculo de  $c$  se tiene que  $\cot A$  es positiva y  $\cot B$  es negativa; por tanto, su producto,  $\cos c$ , es negativo y  $c > 90^\circ$ .

Nota 5. La comprobación, que se obtiene de la comparación de dos elementos de la última fila, asegura que los logaritmos de las partes desconocidas son correctos.

(Véanse los problemas 7-10.)

UN TRIANGULO CUADRANTAL es un triángulo esférico tal que uno de sus lados es igual a  $90^\circ$ . Se resuelve mediante su triángulo polar (un triángulo esférico rectángulo).

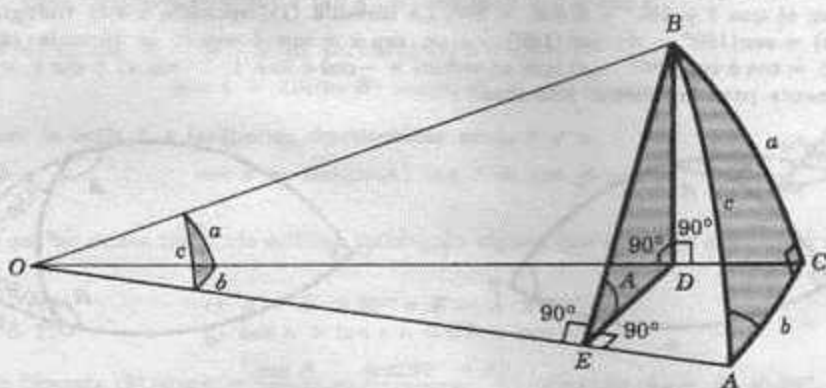
(Véase el problema 11.)

PARA RESOLVER UN TRIANGULO ESFERICO ISOSCELES se divide en dos triángulos esféricos rectángulos.

(Véase el problema 12.)

PROBLEMAS RESUELTOS

1. Deducir las diez fórmulas fundamentales de los triángulos esféricos rectángulos.



Sobre una esfera de centro  $O$ , determínese un triángulo esférico rectángulo cuyos lados  $a$  y  $b$  sean menores que  $90^\circ$ . Unase  $O$  con los vértices del triángulo para formar el ángulo triedro  $O-ABC$ . Considérese el plano perpendicular a  $OA$  que pasa por  $B$ . Este plano corta a  $OC$  en  $D$ , y a  $OA$  en  $E$ .

Puesto que  $OE$  es perpendicular al plano  $BDE$ , es perpendicular a las rectas  $EB$  y  $ED$ . Entonces, los triángulos  $BEO$  y  $DEO$  son rectángulos, y su ángulo recto se encuentra en  $E$ . Además,  $\angle BED$  es un ángulo plano del ángulo diedro  $B-OA-C$  y, por tanto, sirve de medida al ángulo  $A$  del triángulo esférico.

Como el plano  $BDE$  es perpendicular a  $OE$ , es perpendicular al plano  $OAC$  que pasa por  $OE$ . Por otra parte,  $BD$ , intersección de los planos  $OBC$  y  $BDE$  perpendiculares al plano  $OAC$ , es, a su vez, perpendicular a  $OAC$ . Por tanto, los triángulos  $BDO$  y  $BDE$  son rectángulos, y su ángulo recto se encuentra en  $D$ .

En los triángulos rectángulos  $BDO$ ,  $BDE$  y  $BEO$ :  $\text{sen } a = \frac{DB}{OB} = \frac{DB}{EB} \cdot \frac{EB}{OB} = \text{sen } A \text{ sen } c$  (1)

En los triángulos rectángulos  $BDO$ ,  $BDE$  y  $DEO$ :  $\text{tan } a = \frac{DB}{OD} = \frac{DB}{ED} \cdot \frac{ED}{OD} = \text{tan } A \text{ sen } b$  (2)

En los triángulos rectángulos  $BEO$ ,  $DEO$  y  $BDO$ :  $\text{cos } c = \frac{OE}{OB} = \frac{OE}{OD} \cdot \frac{OD}{OB} = \text{cos } b \text{ cos } a$  (4)

En los triángulos rectángulos  $DEO$ ,  $BDE$  y  $BEO$ :  $\text{tan } b = \frac{ED}{OE} = \frac{ED}{EB} \cdot \frac{EB}{OE} = \text{cos } A \text{ tan } c$  (8)

Si ahora se considera el plano que pasa por  $A$  y que es perpendicular a  $OB$  y se discurre como anteriormente, se obtiene un conjunto de cuatro fórmulas que pueden deducirse de las anteriores con sólo intercambiar  $a$  y  $b$ , y  $A$  y  $B$ . Obsérvese que con este intercambio la fórmula (4) no produce una nueva fórmula, pero, sin embargo, de (1) se obtiene (6), de (2) se obtiene (7), y de (8) se obtiene (3).

El producto de (2) y (7) es:  $\text{tan } a \text{ tan } b = \text{tan } A \text{ tan } B \text{ sen } a \text{ sen } b$ . Si se sustituye  $\text{tan } a$  por  $\frac{\text{sen } a}{\text{cos } a}$  y  $\text{tan } b$  por  $\frac{\text{sen } b}{\text{cos } b}$ , y se divide por  $\text{sen } a \text{ sen } b$ , se llega a  $\frac{1}{\text{cos } a \text{ cos } b} = \text{tan } A \text{ tan } B$ . Esta fórmula cuando se utiliza la igualdad (4), se transforma en  $\frac{1}{\text{cos } c} = \text{tan } A \text{ tan } B$  o

$$\text{cos } c = \text{cot } A \text{ cot } B. \tag{9}$$

El producto de (6) y (8) es:  $\text{sen } b \text{ cos } A \text{ tan } c = \text{tan } b \text{ sen } B \text{ sen } c$ . Entonces,

$$\text{cos } A = \frac{\text{sen } B \text{ tan } b \text{ sen } c}{\text{sen } b \text{ tan } c} = \frac{\text{sen } B \text{ cos } c}{\text{cos } b} = \frac{\text{sen } B (\text{cos } a \text{ cos } b)}{\text{cos } b}$$

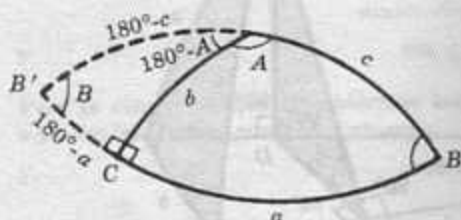
$$\text{cos } A = \text{sen } B \text{ cos } a. \tag{5}$$



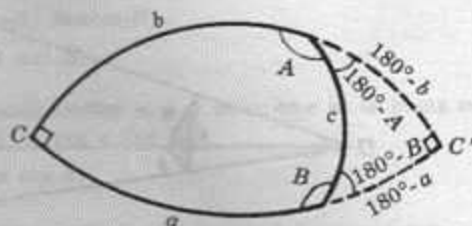
Del mismo modo, del producto de (1) y (3) se obtiene

$$\cos B = \operatorname{sen} A \cos b. \quad (10)$$

A continuación, considérese un triángulo esférico rectángulo en el que  $a > 90^\circ$  y  $b < 90^\circ$ , como se muestra en la Fig. (a). Describáanse los arcos  $BA$  y  $BC$  que se intersecan en  $B'$  y considérese el triángulo  $AB'C$  en el que  $b$  y  $180^\circ - a$  son  $< 90^\circ$ . La fórmula (1), aplicada a este triángulo, expresa que  $\operatorname{sen}(180^\circ - a) = \operatorname{sen}(180^\circ - A) \operatorname{sen}(180^\circ - c)$  o  $\operatorname{sen} a = \operatorname{sen} A \operatorname{sen} c$ ; la fórmula (4) expresa que  $\cos(180^\circ - c) = \cos b \cos(180^\circ - a)$  que se reduce a  $-\cos c = \cos b (-\cos a)$  o  $\cos c = \cos b \cos a$ ; y así sucesivamente para las demás fórmulas.



(a)



(b)

Por último, considérese un triángulo esférico rectángulo en el que  $a$  y  $b$  son  $> 90^\circ$ , como se muestra en la Fig. (b). Describáanse los arcos  $CB$  y  $CA$  que se cortan en  $C'$  y considérese el triángulo esférico rectángulo  $ABC'$  en el que  $180^\circ - a$  y  $180^\circ - b$  son  $< 90^\circ$ . La fórmula (1), aplicada a este triángulo, expresa que  $\operatorname{sen}(180^\circ - a) = \operatorname{sen}(180^\circ - A) \operatorname{sen} c$  o  $\operatorname{sen} a = \operatorname{sen} A \operatorname{sen} c$ ; la fórmula (4) expresa que  $\cos c = \cos(180^\circ - b) \cos(180^\circ - a) = (-\cos b)(-\cos a) = \cos b \cos a$ ; y así sucesivamente para las demás fórmulas.

## 2. Deducir la ley de los cuadrantes.

De la fórmula (5),  $\operatorname{sen} B = \frac{\cos A}{\cos a}$ . Como  $B < 180^\circ$ ,  $\operatorname{sen} B$  es positivo; entonces  $\cos a$  y  $\cos A$  son positivos (es decir, tanto  $a$  como  $A$  son  $< 90^\circ$ ) o ambos son negativos (es decir, tanto  $a$  como  $A$  son  $> 90^\circ$ ). Del mismo modo, mediante la fórmula (10) se confirma la segunda parte de la primera ley.

De la fórmula (4),  $\cos c = \cos b \cos a$ . Si  $c > 90^\circ$ ,  $\cos c$  es negativo; por tanto,  $\cos b$  y  $\cos a$  son ambos positivos o ambos negativos (es decir,  $a$  y  $b$  están en el mismo cuadrante). Si  $c < 90^\circ$ ,  $\cos c$  es positivo; por tanto,  $\cos b$  y  $\cos a$  tienen signos opuestos (es decir,  $a$  y  $b$  están en distintos cuadrantes).

## 3. Escribir las fórmulas que permitan hallar $b$ , $B$ y $c$ cuando se conocen $a$ y $A$ . Además, la fórmula que relaciona las tres partes buscadas.

Para  $b$ : Al aplicar la regla 1 a las partes  $\operatorname{co}-A$ ,  $b$  y  $a$ ,

$$\operatorname{sen} b = \tan(\operatorname{co}-A) \tan a = \cot A \tan a.$$

Para  $B$ : Al aplicar la regla 2 a las partes  $\operatorname{co}-B$ ,  $\operatorname{co}-A$  y  $a$ ,

$$\operatorname{sen}(\operatorname{co}-A) = \cos(\operatorname{co}-B) \cos a.$$

$$\text{Entonces} \quad \cos A = \operatorname{sen} B \cos a$$

$$\text{y} \quad \operatorname{sen} B = \cos A \operatorname{sec} a.$$

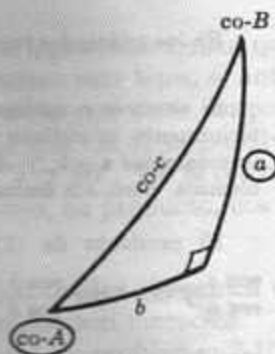
Para  $c$ : Al aplicar la regla 2 a las partes  $\operatorname{co}-A$ ,  $a$  y  $\operatorname{co}-c$ ,

$$\operatorname{sen} a = \cos(\operatorname{co}-A) \cos(\operatorname{co}-c) = \operatorname{sen} A \operatorname{sen} c$$

$$\text{y} \quad \operatorname{sen} c = \operatorname{sen} a \operatorname{csc} A.$$

Aplicando la regla 2 a las partes buscadas  $\operatorname{co}-B$ ,  $b$  y  $\operatorname{co}-c$ ,

$$\operatorname{sen} b = \cos(\operatorname{co}-B) \cos(\operatorname{co}-c) = \operatorname{sen} B \operatorname{sen} c.$$



## 4. Escribir las fórmulas que permiten encontrar $a$ , $A$ y $b$ cuando $c$ y $B$ son conocidos. Además, la fórmula que relaciona las tres partes buscadas.

Para  $A$ : Al aplicar la regla 1 a las partes  $\operatorname{co}-A$ ,  $\operatorname{co}-c$  y  $\operatorname{co}-B$ ,

$$\operatorname{sen}(\operatorname{co}-c) = \tan(\operatorname{co}-A) \tan(\operatorname{co}-B).$$

Entonces,  $\cos c = \cot A \cot B$  y  $\cot A = \cos c \tan B$ .

Para  $a$ : Al aplicar la regla 1 a las partes  $\text{co-c}$ ,  $\text{co-B}$  y  $a$ ,

$$\text{sen}(\text{co-B}) = \tan(\text{co-c}) \tan a.$$

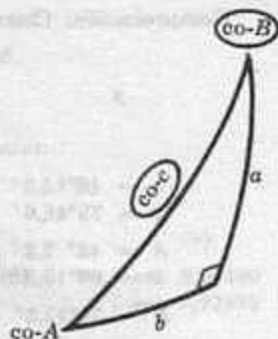
Entonces,  $\cos B = \cot c \tan a$  y  $\tan a = \cos B \tan c$ .

Para  $b$ : Al aplicar la regla 2 a las partes  $\text{co-B}$ ,  $b$  y  $\text{co-c}$ ,

$$\text{sen } b = \cos(\text{co-B}) \cos(\text{co-c}) = \text{sen } B \text{ sen } c.$$

Al aplicar la regla 1 a las partes desconocidas  $\text{co-A}$ ,  $b$  y  $a$ ,

$$\text{sen } b = \tan(\text{co-A}) \tan a = \cot A \tan a.$$



5. Demostrar que no existe triángulo esférico rectángulo alguno que satisfaga cualquiera de las condiciones siguientes:

- a)  $A + B < 90^\circ$
- b)  $A + B > 270^\circ$
- c)  $A - B > 90^\circ$  o  $B - A > 90^\circ$
- d)  $\text{sen } a > \text{sen } c$  o  $\text{sen } b > \text{sen } c$ .

a) Según la fórmula (5),  $\cos a = \frac{\cos A}{\text{sen } B} = \frac{\text{sen}(90^\circ - A)}{\text{sen } B}$ . Cuando  $A + B < 90^\circ$ ,  $90^\circ - A > B$ .

Puesto que  $90^\circ - A$  es agudo,  $\text{sen}(90^\circ - A) > \text{sen } B$ ; entonces,  $\cos a > 1$  y, por tanto, el triángulo no existe.

b) Según la fórmula (5),  $\cos a = \frac{\cos A}{\text{sen } B} = -\frac{\cos(180^\circ - A)}{\cos(B - 90^\circ)}$ . Cuando  $A + B > 270^\circ$ ,  $A$  y  $B$  son obtusos; entonces,  $180^\circ - A$  y  $B - 90^\circ$  son agudos. Ahora, si cada miembro de la desigualdad dada

se resta de  $180^\circ + B$ , se obtiene  $180^\circ - A < B - 90^\circ$ . Entonces  $\frac{\cos(180^\circ - A)}{\cos(B - 90^\circ)} > 1$  y, por tanto, el triángulo no existe.

c) Según la fórmula (10),  $\cos b = \frac{\cos B}{\text{sen } A} = \frac{\text{sen}(90^\circ - B)}{\text{sen}(180^\circ - A)}$ . Cuando  $A > 90^\circ + B$ ,  $180^\circ - A < 90^\circ - B$ ;

entonces  $\cos b > 1$  y, por tanto, no se determina triángulo alguno. Del mismo modo, la fórmula (5), permite demostrar que no existe un triángulo cuando  $B > 90^\circ + A$ .

d) Según la fórmula (1),  $\text{sen } A = \text{sen } a / \text{sen } c$ . Cuando  $\text{sen } a > \text{sen } c$ ,  $\text{sen } A > 1$  y, por tanto, el triángulo no existe. De modo semejante, mediante la fórmula (6) se puede demostrar que no existe un triángulo cuando  $b > \text{sen } c$ .

6. Demostrar que, dados  $a$  y  $A$  (o  $b$  y  $B$ ), tales que ambos sean  $< 90^\circ$  o ambos  $> 90^\circ$ , se pueden determinar dos triángulos esféricos rectángulos.

Según la fórmula (1),  $\text{sen } c = \text{sen } a / \text{sen } A$ . Cuando  $\text{sen } a < \text{sen } A$ ,  $\text{sen } c < 1$  quedan determinados dos valores de  $c$ , uno  $< 90^\circ$ , y otro  $> 90^\circ$ . Las leyes de los cuadrantes prueban que, si en un triángulo ocurre  $c < 90^\circ$ , entonces  $b$  y  $B$  terminan en el mismo cuadrante que  $a$  y  $A$ , mientras que, si  $c > 90^\circ$ , entonces  $b$  y  $a$  (también  $B$  y  $A$ ) terminan en cuadrantes diferentes.

7. Resolver el triángulo esférico rectángulo  $ABC$ , dados  $a = 46^\circ 12,3'$ ,  $c = 75^\circ 48,6'$ .

Para  $A$ : Con  $a$  como parte media y  $\text{co-A}$  y  $\text{co-c}$  como partes opuestas,

$$\text{sen } a = \cos(\text{co-A}) \cos(\text{co-c}) = \text{sen } A \text{ sen } c$$

y 
$$\text{sen } A = \text{sen } a \csc c.$$

Para  $B$ : Con  $\text{co-B}$  como parte media y  $\text{co-c}$  y  $a$  como partes adyacentes,

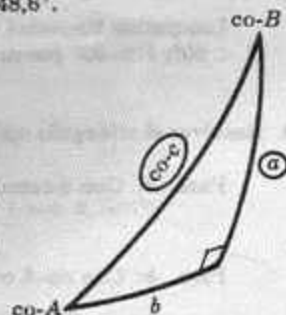
$$\text{sen}(\text{co-B}) = \tan(\text{co-c}) \tan a$$

y 
$$\cos B = \cot c \tan a.$$

Para  $b$ : Con  $\text{co-c}$  como parte media y  $b$  y  $a$  como partes opuestas,

$$\text{sen}(\text{co-c}) = \cos b \cos a, \quad \cos c = \cos b \cos a,$$

y 
$$\cos b = \cos c \sec a.$$



Comprobación: Con  $\text{co-B}$  como parte media y  $\text{co-A}$  y  $b$  como partes opuestas,

$$\text{sen}(\text{co-B}) = \cos(\text{co-A}) \cos b$$

y

$$\cos B = \text{sen } A \cos b.$$

	(A)	(b)	(B)
$a = 46^{\circ}12,3'$	l sen 9,85843	l sec 0,15984	l tan 0,01828
$c = 75^{\circ}48,6'$	l csc 0,01346	l cos 9,38941	l cot 9,40287
$A = 48^{\circ}7,2'$	l sen 9,87189		
$b = 69^{\circ}15,3'$	l cos 9,54925	l cos 9,54925	
$B = 74^{\circ}42,5'$	l cos 9,42114		l cos 9,42115

Como  $c < 90^{\circ}$ , todas las partes pertenecen al mismo cuadrante que  $a$ .

Nota. La fórmula de comprobación determina el orden de las columnas; la parte del triángulo que aparece a la izquierda de la fórmula de comprobación se encuentra en la última columna del modelo utilizado para los cálculos.

8. Resolver el triángulo esférico rectángulo  $ABC$ , dados  $a = 109^{\circ}15,8'$ ,  $B = 38^{\circ}45,4'$ .

Para  $A$ : Con  $\text{co-A}$  como parte media y  $\text{co-B}$  y  $a$  como partes opuestas,

$$\text{sen}(\text{co-A}) = \cos(\text{co-B}) \cos a$$

y

$$\cos A = \text{sen } B \cos a.$$

Para  $b$ : Con  $a$  como parte media y  $\text{co-B}$  y  $b$  como partes adyacentes,

$$\text{sen } a = \tan(\text{co-B}) \tan b, \quad \text{sen } a = \cot B \tan b,$$

y

$$\tan b = \text{sen } a \tan B.$$

Para  $c$ : Con  $\text{co-B}$  como parte media y  $\text{co-c}$  y  $a$  como partes adyacentes,

$$\text{sen}(\text{co-B}) = \tan a \tan(\text{co-c}), \quad \cos B = \tan a \cot c,$$

y

$$\cot c = \cos B \cot a.$$

Comprobación: Con  $\text{co-A}$  como parte media y  $b$  y  $\text{co-c}$  como partes adyacentes,

$$\text{sen}(\text{co-A}) = \tan b \tan(\text{co-c})$$

y

$$\cos A = \tan b \cot c.$$

	(b)	(c)	(A)
$a = 109^{\circ}15,8'$	l sen 9,97498	l cot 9,54342 (n)	l cos 9,51840 (n)
$B = 38^{\circ}45,4'$	l tan 9,90459	l cos 9,89199	l sen 9,79658
$b = 37^{\circ}9,3'$	l tan 9,87957		
$c = 105^{\circ}14,7'$	l cot 9,43541 (n)	l cot 9,43541 (n)	
$A = 101^{\circ}55,1'$	l cos 9,31498 (n)		l cos 9,31498 (n)

Las partes buscadas están de acuerdo con los cuadrantes:  $A > 90^{\circ}$  porque  $a > 90^{\circ}$ ;  $b < 90^{\circ}$  porque  $B < 90^{\circ}$ ;  $c > 90^{\circ}$  porque  $a$  y  $b$  terminan en cuadrantes diferentes.

9. Resolver el triángulo esférico rectángulo  $ABC$ , dados  $c = 72^{\circ}12,5'$ ,  $A = 156^{\circ}17,2'$ .

Para  $a$ : Con  $a$  como parte media y  $\text{co-A}$  y  $\text{co-c}$  como partes opuestas,

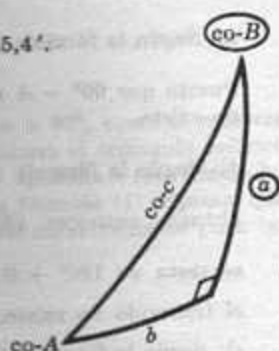
$$\text{sen } a = \cos(\text{co-A}) \cos(\text{co-c}) = \text{sen } A \text{ sen } c.$$

Para  $b$ : Con  $\text{co-A}$  como parte media y  $b$  y  $\text{co-c}$  como partes adyacentes,

$$\text{sen}(\text{co-A}) = \tan b \tan(\text{co-c}), \quad \cos A = \tan b \cot c,$$

y

$$\tan b = \cos A \tan c.$$



Para  $B$ : Con  $co-c$  como parte media y  $co-A$  y  $co-B$  como partes adyacentes,

$$\text{sen}(co-c) = \tan(co-A) \tan(co-B), \quad \cos c = \cot A \cot B,$$

y  $\cot B = \cos c \tan A.$

Comprobación: Con  $a$  como parte media y  $co-B$  y  $b$  como partes adyacentes,

$$\text{sen } a = \tan(co-B) \tan b = \cot B \tan b.$$

	(B)	(b)	(a)
$A = 156^{\circ}17,2'$	$l \tan 9,64271$ (n)	$l \cos 9,96169$ (n)	$l \text{sen } 9,60440$
$c = 72^{\circ}12,5'$	$l \cos 9,48510$	$l \tan 0,49362$	$l \text{sen } 9,97872$
$B = 97^{\circ}38,7'$	$l \cot 9,12781$ (n)		
$b = 109^{\circ}19,0'$	$l \tan 0,45531$ (n)	$l \tan 0,45531$ (n)	
$a = 157^{\circ}29,1'$	$l \text{sen } 9,58312$		$l \text{sen } 9,58312$

Nota.  $a > 90^{\circ}$  porque  $A > 90^{\circ}$ .

10. Resolver el triángulo esférico rectángulo  $ABC$ , dados  $b = 138^{\circ}46,4'$ ,  $B = 125^{\circ}10,6'$ .

Para  $a$ : Con  $a$  como parte media y  $co-B$  y  $b$  como partes adyacentes,

$$\text{sen } a = \tan(co-B) \tan b = \cot B \tan b.$$

Para  $A$ : Con  $co-B$  como parte media y  $co-A$  y  $b$  como partes opuestas,

$$\text{sen}(co-B) = \cos(co-A) \cos b, \quad \cos B = \text{sen } A \cos b,$$

y  $\text{sen } A = \cos B \text{sec } b.$

Para  $c$ : Con  $b$  como parte media y  $co-c$  y  $co-B$  como partes opuestas,

$$\text{sen } b = \cos(co-c) \cos(co-B) = \text{sen } c \text{sen } B$$

y  $\text{sen } c = \text{sen } b \text{csc } B.$



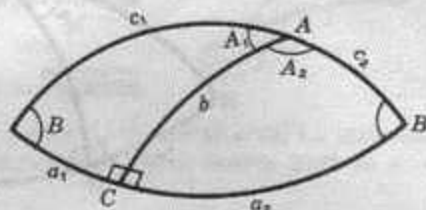
Comprobación: Con  $a$  como parte media y  $co-A$  y  $co-c$  como partes opuestas,

$$\text{sen } a = \cos(co-A) \cos(co-c) = \text{sen } A \text{sen } c.$$

Como cada una de las partes buscadas ha de calcularse por el valor de su seno, se obtienen dos valores en cada caso. Los dos triángulos se muestran en la figura adjunta.

Como  $b > 90^{\circ}$ ,  $a_1, A_1 < 90^{\circ}$  y  $c_1 > 90^{\circ}$

$$a_2, A_2 > 90^{\circ} \text{ y } c_2 < 90^{\circ};$$



	(A)	(c)	(a)
$b = 138^{\circ}46,4'$	$l \text{sec } 0,12372$ (n)	$l \text{sen } 9,81891$	$l \tan 9,94263$ (n)
$B = 125^{\circ}10,6'$	$l \cos 9,76050$ (n)	$l \text{csc } 0,08757$	$l \cot 9,84807$ (n)
$A_1 = 49^{\circ}59,7'$	$l \text{sen } 9,88422$		
$A_2 = 130^{\circ} 0,3'$			
$c_1 = 53^{\circ}44,0'$	$l \text{sen } 9,90648$	$l \text{sen } 9,90648$	
$c_2 = 126^{\circ}16,0'$			
$a_1 = 38^{\circ} 8,4'$	$l \text{sen } 9,79070$		$l \text{sen } 9,79070$
$a_2 = 141^{\circ}51,6'$			

11. Resolver el triángulo esférico cuadrantal  $ABC$ , dados  $a = 115^{\circ}24,6'$ ,  $b = 60^{\circ}18,4'$ ,  $c = 90^{\circ}$ .

Primero resolvemos el triángulo polar  $A'B'C'$  del triángulo dado  $C' = 180^{\circ} - c = 90^{\circ}$ ,  $A' = 180^{\circ} - a = 64^{\circ}35,4'$  y  $B' = 180^{\circ} - b = 119^{\circ}41,6'$ .

Para  $a'$ : Con  $\text{co-}A'$  como parte media y  $a'$  y  $\text{co-}B'$  como partes opuestas,

$$\text{sen}(\text{co-}A') = \cos a' \cos(\text{co-}B'), \quad \cos A' = \cos a' \text{sen } B',$$

$$\text{y} \quad \cos a' = \cos A' \text{csc } B'.$$

Para  $b'$ : Con  $\text{co-}B'$  como parte media y  $b'$  y  $\text{co-}A'$  como partes opuestas,

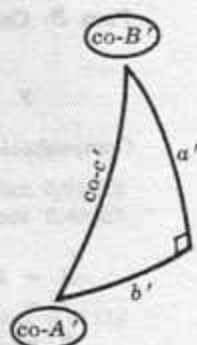
$$\text{sen}(\text{co-}B') = \cos b' \cos(\text{co-}A'), \quad \cos B' = \cos b' \text{sen } A',$$

$$\text{y} \quad \cos b' = \cos B' \text{csc } A'.$$

Para  $c'$ : Con  $\text{co-}c'$  como parte media y  $\text{co-}A'$  y  $\text{co-}B'$  como partes adyacentes,

$$\text{sen}(\text{co-}c') = \tan(\text{co-}A') \tan(\text{co-}B')$$

$$\text{y} \quad \cos c' = \cot A' \cot B'.$$



Comprobación: Con  $\text{co-}c'$  como parte media y  $a'$  y  $b'$  como partes opuestas,

$$\text{sen}(\text{co-}c') = \cos a' \cos b'$$

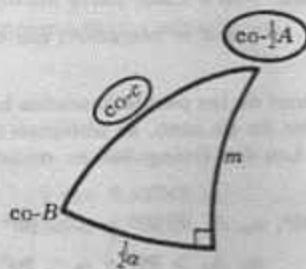
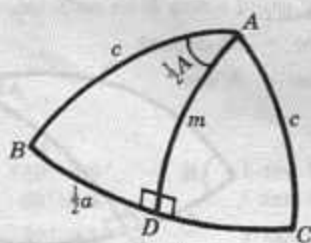
$$\text{y} \quad \cos c' = \cos a' \cos b'.$$

	( $a'$ )	( $b'$ )	( $c'$ )
$A' = 64^{\circ}35,4'$	1 cos 9,63255	1 csc 0,04419	1 cot 9,67674
$B' = 119^{\circ}41,6'$	1 csc 0,06113	1 cos 9,69492 (n)	1 cot 9,75605 (n)
$a' = 60^{\circ}24,0'$	1 cos 9,69368		
$b' = 123^{\circ}15,5'$	1 cos 9,73911 (n)	1 cos 9,73911 (n)	
$c' = 105^{\circ}43,0'$	1 cos 9,43279 (n)		1 cos 9,43279 (n)

Las partes buscadas del triángulo  $ABC$  son:

$$A = 180^{\circ} - a' = 119^{\circ}36,0', \quad B = 180^{\circ} - b' = 56^{\circ}44,5', \quad C = 180^{\circ} - c' = 74^{\circ}17,0'.$$

12. Resolver el triángulo esférico isósceles  $ABC$ , dados  $b = c = 54^{\circ}28,4'$ ,  $A = 112^{\circ}36,2'$ .



Considérese la circunferencia máxima que pasa por  $A$  y que, perpendicular a  $BC$ , corta a  $BC$  en  $D$ . Considérese, además, el triángulo esférico rectángulo  $ABD$  cuyo ángulo recto está en  $D$ .

Para  $B$ : Con  $\text{co-}c$  como parte media y  $\text{co-}\frac{1}{2}A$  y  $\text{co-}B$  como partes adyacentes,

$$\text{sen}(\text{co-}c) = \tan(\text{co-}\frac{1}{2}A) \tan(\text{co-}B), \quad \cos c = \cot \frac{1}{2}A \cot B,$$

$$\text{y} \quad \cot B = \cos c \tan \frac{1}{2}A.$$

Para  $\frac{1}{2}a$ : Con  $\frac{1}{2}a$  como parte media y  $\text{co-}c$  y  $\text{co-}\frac{1}{2}A$  como partes opuestas,

$$\text{sen} \frac{1}{2}a = \cos(\text{co-}\frac{1}{2}A) \cos(\text{co-}c) = \text{sen} \frac{1}{2}A \text{sen } c.$$

Para  $m$ : Con  $\text{co-}\frac{1}{2}A$  como parte media y  $\text{co-}c$  y  $m$  como partes adyacentes,

$$\text{sen}(\text{co-}\frac{1}{2}A) = \tan(\text{co-}c) \tan m, \quad \cos \frac{1}{2}A = \cot c \tan m,$$

$$\text{y} \quad \tan m = \cos \frac{1}{2}A \tan c.$$

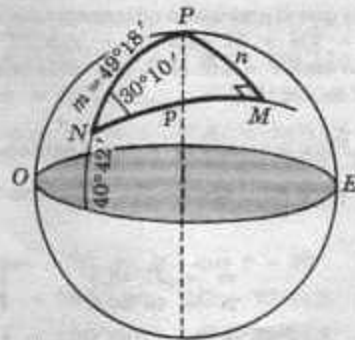
Comprobación: Con  $\frac{1}{2}a$  como parte media y  $\text{co-}B$  y  $m$  como partes adyacentes,

$$\text{sen } \frac{1}{2}a = \tan(\text{co-}B) \tan m = \cot B \tan m.$$

	(B)	(m)	( $\frac{1}{2}a$ )
$\frac{1}{2}A = 56^{\circ}18,1'$	1 tan 0,17596	1 cos 9,74415	1 sen 9,92011
$c = 54^{\circ}28,4'$	1 cos 9,76424	1 tan 0,14630	1 sen 9,91055
$B = 48^{\circ}55,9'$	1 cot 9,94020		
$m = 37^{\circ}51,0'$	1 tan 9,89045	1 tan 9,89045	
$\frac{1}{2}a = 42^{\circ}37,1'$	1 sen 9,83065		1 sen 9,83066

Las partes buscadas del triángulo isósceles son:  $B = C = 48^{\circ}55,9'$  y  $a = 85^{\circ}14,2'$ .

13. El rumbo inicial de un derrotero a lo largo de una circunferencia máxima, a partir de Nueva York (lat.  $40^{\circ}42,0'$  N, long.  $74^{\circ}1,0'$  O) es  $N 30^{\circ}10,0'$  E o  $30^{\circ}10,0'$ . Localizar el punto  $M$  del recorrido más cercano al polo norte, y calcular (en millas náuticas) las distancias, en las circunferencias máximas, desde  $M$  hasta el polo y hasta Nueva York.



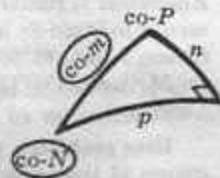
La distancia mínima entre el recorrido y el polo norte  $P$  se mide a lo largo del meridiano que es perpendicular a la ruta. En el triángulo esférico  $NPM$ ,  $M = 90^{\circ}$ ,  $m = NP = 90^{\circ} - 40^{\circ}42,0' = 49^{\circ}18,0'$  y  $N = 30^{\circ}10,0'$ ;  $P$ ,  $n$  y  $p$  son las partes buscadas.

Para  $n$ :  $\text{sen } n = \cos(\text{co-}m) \cos(\text{co-}N)$   
 $= \text{sen } m \text{ sen } N.$

Para  $P$ :  $\text{sen}(\text{co-}m) = \tan(\text{co-}N) \tan(\text{co-}P)$  y  $\cot P = \cos m \tan N.$

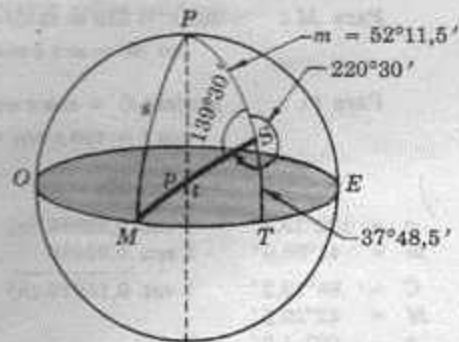
Para  $p$ :  $\text{sen}(\text{co-}N) = \tan(\text{co-}m) \tan p$  y  $\tan p = \tan m \cos N.$

	(n)	(P)	(p)
$m = 49^{\circ}18,0'$	1 sen 9,87975	1 cos 9,81431	1 tan 0,06543
$N = 30^{\circ}10,0'$	1 sen 9,70115	1 tan 9,76435	1 cos 9,93680
$n = 22^{\circ}23,6'$	1 sen 9,58090		
$P = 69^{\circ}14,6'$		1 cot 9,57866	
$p = 45^{\circ}8,8'$			1 tan 0,00223



La latitud de  $M$  es  $90^{\circ} - n = 67^{\circ}36,4'$  N; la longitud es  $74^{\circ}1,0' - P = 4^{\circ}46,4'$  O. La distancia de  $M$  a  $P$  es  $n = 22^{\circ}23,6' = 1343,6' = 1343,6$  millas, y la distancia de  $M$  a Nueva York es  $p = 45^{\circ}8,8' = 2708,8$  millas.

14. El rumbo inicial de un derrotero a lo largo de una circunferencia máxima, a partir de San Francisco (lat.  $37^{\circ}48,5'$  N, long.  $122^{\circ}24,0'$  O) es  $S 40^{\circ}30,0'$  O o  $220^{\circ}30,0'$ . Localizar el punto  $M$  donde el recorrido corta el ecuador, y calcular la distancia, en la circunferencia máxima, desde  $M$  hasta San Francisco.

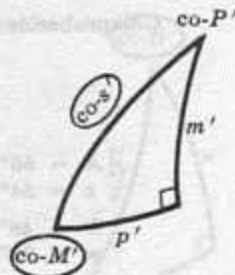


SOLUCION 1. En el triángulo esférico  $MSP$ ,  $s = MP = 90^{\circ}$ ,  $S = 360^{\circ} - 220^{\circ}30,0' = 139^{\circ}30,0'$ , y  $m = SP = 90^{\circ} - 37^{\circ}48,5' = 52^{\circ}11,5'$ ;  $P$  y  $p$  son las partes buscadas. Como este triángulo es cuadrantal, se puede utilizar su triángulo polar (rectángulo)  $M'S'P'$ , en el que  $S' = 90^{\circ}$ ,  $s' = 180^{\circ} - S = 40^{\circ}30,0'$  y  $M' = 180^{\circ} - m = 127^{\circ}48,5'$  para encontrar  $p'$  y  $P'$ .

Para  $p'$ :  $\text{sen}(\text{co-}M') = \tan p' \tan(\text{co-}s')$   
 y  $\tan p' = \cos M' \tan s'.$

Para  $P'$ :  $\text{sen}(\text{co-}s') = \tan(\text{co-}M') \tan(\text{co-}P')$   
 y  $\cot P' = \tan M' \cos s'$ .

	( $p'$ )	( $P'$ )
$M' = 127^\circ 48,5'$	l cos 9,78748 (n)	l tan 0,11019 (n)
$s' = 40^\circ 30,0'$	l tan 9,93150	l cos 9,88105
$p' = 152^\circ 21,9'$	l tan 9,71898 (n)	
$P' = 134^\circ 25,3'$		l cot 9,99124 (n)



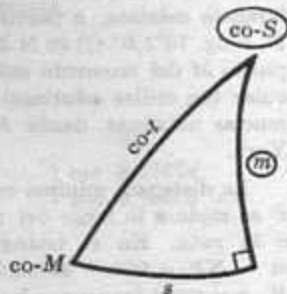
Entonces,  $P = 180^\circ - p' = 27^\circ 38,1'$  y  $p = 180^\circ - P' = 45^\circ 34,7'$ . La longitud de  $M$  es  $122^\circ 24,0' + 27^\circ 38,1' = 150^\circ 2,1' O$  y la distancia desde  $M$  hasta San Francisco es  $p = 45^\circ 34,7' = 2734,7$  millas.

SOLUCION 2. Puede obtenerse un procedimiento algo más sencillo que el empleado anteriormente si se utiliza el triángulo  $SMT$  en que  $m = TS = 37^\circ 48,5'$ ,  $S = \angle MST = 40^\circ 30,0'$  y  $T = 90^\circ$ . En este caso sean  $s = \text{arc } MT$ , que mide la diferencia de longitud entre  $M$  y  $S$ , y  $t = \text{arc } MS$ .

Para  $s$ :  $\text{sen } m = \tan s \tan(\text{co-}S)$  y  $\tan s = \text{sen } m \tan S$ .

Para  $t$ :  $\text{sen}(\text{co-}S) = \tan(\text{co-}t) \tan m$  y  $\cot t = \cot m \cos S$ .

	( $s$ )	( $t$ )
$m = 37^\circ 48,5'$	l sen 9,78748	l cot 0,11019
$S = 40^\circ 30,0'$	l tan 9,93150	l cos 9,88105
$s = 27^\circ 38,1'$	l tan 9,71898	
$t = 45^\circ 34,7'$		l cot 9,99124



La longitud de  $M$  es  $122^\circ 24,0' + 27^\circ 38,1' = 150^\circ 2,1' O$  y la distancia buscada es  $t = 45^\circ 34,7' = 2734,7$  millas, como antes.

15. Encontrar el rumbo inicial y el rumbo de llegada de un derrotero, a lo largo de una circunferencia máxima que, a partir de Chicago (lat.  $41^\circ 50,0' N$ , long.  $87^\circ 31,7' O$ ) corta el ecuador en  $M$  (long.  $170^\circ 15,0' E$ ). Encontrar la distancia entre  $M$  y Chicago.

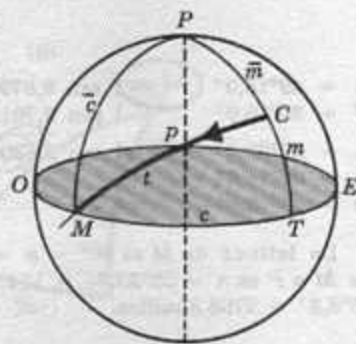
Este problema puede resolverse como el problema 14 mediante el triángulo polar (rectángulo) del triángulo cuadrantal  $MCP$ , o mediante el triángulo  $MCT$ . En este último caso,  $m = \text{arc } TC = 41^\circ 50,0'$  y  $c = \text{arc } MT = 102^\circ 13,3'$ .

Para  $C$ :  $\text{sen } m = \tan c \tan(\text{co-}C)$  y  
 $\cot C = \cot c \text{sen } m$ .

Para  $M$ :  $\text{sen } c = \tan m \tan(\text{co-}M)$  y  
 $\cot M = \text{sen } c \cot m$ .

Para  $t$ :  $\text{sen}(\cot-t) = \cos c \cos m$  y  
 $\cos t = \cos c \cos m$ .

	( $C$ )	( $M$ )	( $t$ )
$c = 102^\circ 13,3'$	l cot 9,33566 (n)	l sen 9,99004	l cos 9,32571 (n)
$m = 41^\circ 50,0'$	l sen 9,82410	l cot 0,04810	l cos 9,87221
$C = 98^\circ 13,2'$	l cot 9,15976 (n)		
$M = 42^\circ 29,2'$		l cot 0,03814	
$t = 99^\circ 4,5'$			l cos 9,19792 (n)



El rumbo inicial es  $180^\circ + 98^\circ 13,2' = 278^\circ 13,2'$ , el rumbo de llegada es  $270^\circ - 42^\circ 29,2' = 227^\circ 30,8'$ , y la distancia es  $t = 99^\circ 4,5' = 5944,5$  millas.

PROBLEMAS PROPUESTOS

Resolver cada uno de los siguientes triángulos esféricos rectángulos  $ABC$ , en los que  $C = 90^\circ$ .

- |   |  |
|---|--|
| 16. $A = 125^\circ 24,8'$ , $b = 32^\circ 16,5'$  | <i>Resp.</i> $A = 110^\circ 47,4'$ , $B = 37^\circ 46,4'$ , $c = 119^\circ 20,2'$  |
| 17. $a = 30^\circ 45,3'$ , $B = 135^\circ 24,4'$  | <i>Resp.</i> $A = 52^\circ 53,4'$ , $b = 153^\circ 14,7'$ , $c = 140^\circ 7,0'$   |
| 18. $c = 70^\circ 25,2'$ , $A = 52^\circ 54,8'$   | <i>Resp.</i> $a = 48^\circ 43,7'$ , $b = 59^\circ 28,0'$ , $B = 66^\circ 5,5'$   |
| 19. $a = 35^\circ 34,6'$ , $c = 45^\circ 48,2'$   | <i>Resp.</i> $A = 54^\circ 14,4'$ , $B = 45^\circ 55,8'$ , $b = 31^\circ 0,4'$   |
| 20. $a = 46^\circ 46,4'$ , $A = 57^\circ 28,3'$   | <i>Resp.</i> $b_1 = 42^\circ 43,6'$ , $c_1 = 59^\circ 47,7'$ , $B_1 = 51^\circ 43,8'$<br>$b_2 = 137^\circ 16,4'$ , $c_2 = 120^\circ 12,3'$ , $B_2 = 128^\circ 16,2'$ |
| 21. $A = 67^\circ 38,8'$ , $B = 155^\circ 12,6'$  | <i>Resp.</i> $a = 24^\circ 54,2'$ , $b = 169^\circ 0,0'$ , $c = 152^\circ 55,2'$   |
| 22. $a = 40^\circ 44,6'$ , $b = 64^\circ 48,3'$   | <i>Resp.</i> $A = 43^\circ 35,5'$ , $B = 72^\circ 55,8'$ , $c = 71^\circ 11,1'$  |
| 23. $b = 121^\circ 42,5'$ , $A = 154^\circ 8,6'$  | <i>Resp.</i> $a = 157^\circ 35,7'$ , $c = 60^\circ 55,6'$ , $B = 103^\circ 15,1'$  |
| 24. $c = 152^\circ 24,4'$ , $B = 68^\circ 38,2'$  | <i>Resp.</i> $a = 169^\circ 13,2'$ , $b = 25^\circ 33,2'$ , $A = 156^\circ 11,1'$  |
| 25. $b = 158^\circ 22,4'$ , $c = 122^\circ 36,7'$ | <i>Resp.</i> $a = 54^\circ 34,0'$ , $A = 75^\circ 18,3'$ , $B = 154^\circ 3,2'$  |
| 26. $b = 162^\circ 53,4'$ , $B = 138^\circ 14,9'$ | <i>Resp.</i> $a_1 = 20^\circ 10,4'$ , $c_1 = 153^\circ 46,8'$ , $A_1 = 51^\circ 18,8'$<br>$a_2 = 159^\circ 49,6'$ , $c_2 = 26^\circ 13,2'$ , $A_2 = 128^\circ 41,2'$ |
| 27. $A = 33^\circ 50,5'$ , $B = 72^\circ 24,2'$   | <i>Resp.</i> $a = 29^\circ 23,1'$ , $b = 57^\circ 7,3'$ , $c = 61^\circ 46,2'$   |

Resolver cada uno de los siguientes triángulos esféricos cuadrantales  $ABC$ , en los que  $c = 90^\circ$ .

- |  |  |
|--|--|
| 28. $a = 60^\circ 34,9'$ , $B = 122^\circ 18,8'$ | <i>Resp.</i> $b = 117^\circ 45,0'$ , $A = 56^\circ 17,3'$ , $C = 72^\circ 44,5'$   |
| 29. $A = 32^\circ 53,6'$ , $B = 115^\circ 24,9'$ | <i>Resp.</i> $a = 35^\circ 36,3'$ , $b = 104^\circ 28,2'$ , $C = 68^\circ 52,7'$   |
| 30. $a = 69^\circ 15,2'$ , $A = 56^\circ 45,4'$  | <i>Resp.</i> $b_1 = 40^\circ 15,3'$ , $B_1 = 35^\circ 18,2'$ , $C_1 = 116^\circ 34,5'$<br>$b_2 = 139^\circ 44,7'$ , $B_2 = 144^\circ 41,8'$ , $C_2 = 63^\circ 25,5'$ |

Resolver cada uno de los siguientes triángulos esféricos isósceles  $ABC$ .

- |  |   |
|--|---|
| 31. $a = b = 78^\circ 23,5'$ , $C = 118^\circ 54,6'$ | <i>Resp.</i> $A = B = 71^\circ 10,3'$ , $c = 115^\circ 2,8'$  |
| 32. $B = C = 38^\circ 52,5'$ , $a = 132^\circ 15,0'$ | <i>Resp.</i> $b = c = 70^\circ 59,2'$ , $A = 150^\circ 34,0'$ |

33. Un barco parte de Nueva York (lat.  $40^\circ 42,0' N$ , long.  $74^\circ 1,0' O$ ) con un rumbo inicial hacia el este a lo largo de una circunferencia máxima. Encontrar su rumbo y posición cuando ha recorrido 525 millas náuticas. *Resp.* Rumbo,  $97^\circ 27,3'$ ; lat.  $40^\circ 7,7' N$ , long.  $62^\circ 32,4' O$
34. El rumbo inicial a lo largo de una circunferencia máxima, a partir de Yokohama (lat.  $35^\circ 37,0' N$ , long.  $139^\circ 39,0' E$ ) es  $40^\circ 40,0'$ . Localizar el punto del recorrido más cercano al polo norte. *Resp.* lat.  $58^\circ 0,7' N$ , long.  $23^\circ 4,2' O$
35. Un barco que parte de  $A$  (lat.  $36^\circ 50,0' N$ , long.  $76^\circ 20,0' O$ ) y que navega a lo largo de una circunferencia máxima corta el ecuador en un punto cuya longitud es  $50^\circ 0,0' O$ . Encontrar el rumbo inicial y la distancia recorrida. *Resp.* Rumbo,  $140^\circ 27,3'$ ; distancia, 2649,9 millas náuticas



## Triángulos esféricos oblicuángulos—Soluciones normales

UN TRIANGULO ESFERICO OBLICUANGULO es un triángulo esférico tal que ninguno de sus ángulos es recto. Un triángulo esférico oblicuángulo queda determinado cuando se conocen tres cualesquiera de sus elementos, excepto en los casos posibles de ambigüedad que se estudiarán más adelante.

Hay que considerar seis casos:

Caso I : Dados los tres lados.

Caso II : Dados los tres ángulos.

Caso III: Dados dos lados y el ángulo comprendido.

Caso IV : Dados dos ángulos y el lado comprendido.

Caso V : Dados dos lados y un ángulo opuesto a uno de ellos.

Caso VI : Dados dos ángulos y un lado opuesto a uno de ellos.

EL PROCEDIMIENTO NORMAL para resolver y comprobar los distintos casos requiere fórmulas especiales que se exponen a continuación.

LEY DE LOS SENOS. En todo triángulo esférico  $ABC$ ,  $\frac{\sin a}{\sin A} = \frac{\sin b}{\sin B} = \frac{\sin c}{\sin C}$ .

La deducción se encuentra en el problema 1.

LEY DE LOS COSENOS PARA LOS LADOS. En todo triángulo esférico  $ABC$ ,

$$\begin{aligned}\cos a &= \cos b \cos c + \sin b \sin c \cos A \\ \cos b &= \cos c \cos a + \sin c \sin a \cos B \\ \cos c &= \cos a \cos b + \sin a \sin b \cos C.\end{aligned}$$

La deducción se encuentra en el problema 2.

LEY DE LOS COSENOS PARA LOS ANGULOS. En todo triángulo esférico  $ABC$ ,

$$\begin{aligned}\cos A &= -\cos B \cos C + \sin B \sin C \cos a \\ \cos B &= -\cos C \cos A + \sin C \sin A \cos b \\ \cos C &= -\cos A \cos B + \sin A \sin B \cos c.\end{aligned}$$

La deducción se encuentra en el problema 3.

FORMULAS PARA EL ANGULO MITAD. En todo triángulo esférico  $ABC$ ,

$$\tan \frac{1}{2}A = \frac{\tan r}{\sin(s-a)}, \quad \tan \frac{1}{2}B = \frac{\tan r}{\sin(s-b)}, \quad \tan \frac{1}{2}C = \frac{\tan r}{\sin(s-c)}$$

$$\text{donde } s = \frac{1}{2}(a+b+c) \text{ y } \tan r = \sqrt{\frac{\sin(s-a) \sin(s-b) \sin(s-c)}{\sin s}}.$$

La deducción se encuentra en el problema 4.

FORMULAS PARA EL SEMI-LADO. En todo triángulo esférico  $ABC$ ,

$$\cot \frac{1}{2}a = \frac{\tan R}{\cos(S - A)}, \quad \cot \frac{1}{2}b = \frac{\tan R}{\cos(S - B)}, \quad \cot \frac{1}{2}c = \frac{\tan R}{\cos(S - C)}$$

$$\text{donde } S = \frac{1}{2}(A + B + C) \text{ y } \tan R = \sqrt{\frac{\cos(S - A) \cos(S - B) \cos(S - C)}{-\cos S}}$$

La deducción se encuentra en el problema 5.

ANALOGIAS DE GAUSS O DE DELAMBRE. En todo triángulo esférico  $ABC$ ,

$$\frac{\sin \frac{1}{2}(A - B)}{\cos \frac{1}{2}C} = \frac{\sin \frac{1}{2}(a - b)}{\sin \frac{1}{2}c} \qquad \frac{\sin \frac{1}{2}(A + B)}{\cos \frac{1}{2}C} = \frac{\cos \frac{1}{2}(a - b)}{\cos \frac{1}{2}c}$$

$$\frac{\cos \frac{1}{2}(A - B)}{\sin \frac{1}{2}C} = \frac{\sin \frac{1}{2}(a + b)}{\sin \frac{1}{2}c} \qquad \frac{\cos \frac{1}{2}(A + B)}{\sin \frac{1}{2}C} = \frac{\cos \frac{1}{2}(a + b)}{\cos \frac{1}{2}c}$$

y las otras fórmulas se obtienen mediante un intercambio cíclico de las letras.

La deducción se encuentra en el problema 6.

ANALOGIAS DE NEPER. En todo triángulo esférico  $ABC$ ,

$$\frac{\tan \frac{1}{2}(A - B)}{\cot \frac{1}{2}C} = \frac{\sin \frac{1}{2}(a - b)}{\sin \frac{1}{2}(a + b)} \qquad \frac{\tan \frac{1}{2}(a - b)}{\tan \frac{1}{2}c} = \frac{\sin \frac{1}{2}(A - B)}{\sin \frac{1}{2}(A + B)}$$

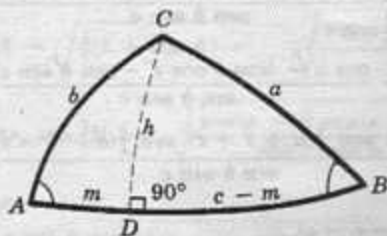
$$\frac{\tan \frac{1}{2}(A + B)}{\cot \frac{1}{2}C} = \frac{\cos \frac{1}{2}(a - b)}{\cos \frac{1}{2}(a + b)} \qquad \frac{\tan \frac{1}{2}(a + b)}{\tan \frac{1}{2}c} = \frac{\cos \frac{1}{2}(A - B)}{\cos \frac{1}{2}(A + B)}$$

y las otras fórmulas se obtienen mediante un intercambio cíclico de las letras.

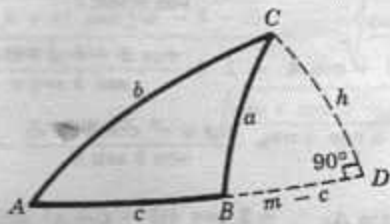
La deducción se encuentra en el problema 7.

### PROBLEMAS RESUELTOS

1. Deducir la ley de los senos.



(a)



(b)

Sea  $ABC$  un triángulo esférico cualquiera. [Véanse las figuras (a) y (b).] Por  $C$  pasa una circunferencia máxima que corta perpendicularmente a  $AB$  en  $D$ . Sea  $CD = h$ .

En el triángulo rectángulo  $ACD$ ,  $\text{sen } h = \text{sen } b \text{ sen } A$ . En el triángulo rectángulo  $BCD$ ,  $\text{sen } h = \text{sen } a \text{ sen } B$ . Entonces,

$$\text{sen } a \text{ sen } B = \text{sen } b \text{ sen } A \text{ y } \frac{\text{sen } a}{\text{sen } A} = \frac{\text{sen } b}{\text{sen } B}$$

Del mismo modo, como por  $B$  pasa una circunferencia máxima perpendicular a  $AC$ , se tiene

$$\frac{\operatorname{sen} a}{\operatorname{sen} A} = \frac{\operatorname{sen} c}{\operatorname{sen} C}$$

$$\text{Así, } \frac{\operatorname{sen} a}{\operatorname{sen} A} = \frac{\operatorname{sen} b}{\operatorname{sen} B} = \frac{\operatorname{sen} c}{\operatorname{sen} C}$$

2. Deducir la ley de los cosenos para los lados.

En las figuras (a) y (b) precedentes, sea  $AD = m$ . En el triángulo rectángulo  $ACD$ ,

$$(1) \operatorname{sen} m = \tan h \cot A, \quad (2) \operatorname{sen} h = \operatorname{sen} b \operatorname{sen} A, \quad (3) \cos b = \cos h \cos m.$$

En el triángulo rectángulo  $BCD$ ,

$$(4) \cos a = \cos h \cos(c - m) = \cos h (\cos c \cos m + \operatorname{sen} c \operatorname{sen} m), \text{ puesto que } \cos(c - m) = \cos(m - c).$$

Ahora, si en (4) se utiliza (1) para remplazar  $\operatorname{sen} m$  y (3) para remplazar  $\cos m$ , se obtiene

$$\cos a = \cos h \left( \cos c \frac{\cos b}{\cos h} + \operatorname{sen} c \tan h \cot A \right) = \cos c \cos b + \operatorname{sen} c \operatorname{sen} h \cot A; \text{ y si se utiliza (2)}$$

para sustituir a  $\operatorname{sen} h$ , se llega a,

$$\begin{aligned} \cos a &= \cos c \cos b + \operatorname{sen} c \operatorname{sen} b \operatorname{sen} A \cot A \\ &= \cos b \cos c + \operatorname{sen} b \operatorname{sen} c \cos A. \end{aligned}$$

Las otras fórmulas se obtienen mediante un intercambio cíclico de las letras.

3. Deducir la ley de los cosenos para los ángulos.

Considérese el triángulo polar  $A'B'C'$ , correspondiente al triángulo  $ABC$ , en el que  $a' = 180^\circ - A$ ,  $A' = 180^\circ - a$ , etc. Al aplicar a este triángulo la fórmula deducida en el problema 2, se tiene que,

$$\cos a' = \cos b' \cos c' + \operatorname{sen} b' \operatorname{sen} c' \cos A'$$

y, puesto que,  $\operatorname{sen}(180^\circ - \theta) = \operatorname{sen} \theta$  y  $\cos(180^\circ - \theta) = -\cos \theta$ , se obtiene

$$-\cos A = (-\cos B)(-\cos C) + \operatorname{sen} B \operatorname{sen} C (-\cos a)$$

o

$$\cos A = -\cos B \cos C + \operatorname{sen} B \operatorname{sen} C \cos a.$$

Las otras fórmulas se obtienen mediante un intercambio cíclico de las letras.

4. Deducir las fórmulas del ángulo mitad.

De la ley de los cosenos para los lados (problema 2),  $\cos a = \cos b \cos c + \operatorname{sen} b \operatorname{sen} c \cos A$ ,

se tiene

$$\cos A = \frac{\cos a - \cos b \cos c}{\operatorname{sen} b \operatorname{sen} c}.$$

$$\text{Entonces, } 1 - \cos A = 1 - \frac{\cos a - \cos b \cos c}{\operatorname{sen} b \operatorname{sen} c} = \frac{\cos b \cos c + \operatorname{sen} b \operatorname{sen} c - \cos a}{\operatorname{sen} b \operatorname{sen} c}$$

$$= \frac{\cos(b - c) - \cos a}{\operatorname{sen} b \operatorname{sen} c} = \frac{-2 \operatorname{sen} \frac{1}{2}(b - c + a) \operatorname{sen} \frac{1}{2}(b - c - a)}{\operatorname{sen} b \operatorname{sen} c},$$

$$1 + \cos A = 1 + \frac{\cos a - \cos b \cos c}{\operatorname{sen} b \operatorname{sen} c} = \frac{\cos a - (\cos b \cos c - \operatorname{sen} b \operatorname{sen} c)}{\operatorname{sen} b \operatorname{sen} c}$$

$$= \frac{\cos a - \cos(b + c)}{\operatorname{sen} b \operatorname{sen} c} = \frac{-2 \operatorname{sen} \frac{1}{2}(a + b + c) \operatorname{sen} \frac{1}{2}(a - b - c)}{\operatorname{sen} b \operatorname{sen} c},$$

$$\text{y } \frac{1 - \cos A}{1 + \cos A} = \frac{-2 \operatorname{sen} \frac{1}{2}(b - c + a) \operatorname{sen} \frac{1}{2}(b - c - a)}{\operatorname{sen} b \operatorname{sen} c} \cdot \frac{\operatorname{sen} b \operatorname{sen} c}{-2 \operatorname{sen} \frac{1}{2}(a + b + c) \operatorname{sen} \frac{1}{2}(a - b - c)}$$

$$= \frac{\operatorname{sen} \frac{1}{2}(a + b - c) \operatorname{sen} \frac{1}{2}(c + a - b)}{\operatorname{sen} \frac{1}{2}(a + b + c) \operatorname{sen} \frac{1}{2}(b + c - a)}$$

puesto que  $\operatorname{sen} \frac{1}{2}(b - c - a) = -\operatorname{sen} \frac{1}{2}(c + a - b)$  y  $\operatorname{sen} \frac{1}{2}(a - b - c) = -\operatorname{sen} \frac{1}{2}(b + c - a)$ .

Sea  $s = \frac{1}{2}(a + b + c)$ . Entonces,  $\frac{1}{2}(a + b - c) = s - c$ ,  $\frac{1}{2}(c + a - b) = s - b$ ,  $\frac{1}{2}(b + c - a) = s - a$ , y

$$\tan \frac{1}{2}A = \sqrt{\frac{1 - \cos A}{1 + \cos A}} = \sqrt{\frac{\operatorname{sen}(s-c) \operatorname{sen}(s-b)}{\operatorname{sen} s \operatorname{sen}(s-a)}}} = \frac{1}{\operatorname{sen}(s-a)} \sqrt{\frac{\operatorname{sen}(s-a) \operatorname{sen}(s-b) \operatorname{sen}(s-c)}{\operatorname{sen} s}}$$

Finalmente, por la definición  $\sqrt{\frac{\operatorname{sen}(s-a) \operatorname{sen}(s-b) \operatorname{sen}(s-c)}{\operatorname{sen} s}} = \tan r$ , se llega a

$$\tan \frac{1}{2}A = \frac{\tan r}{\operatorname{sen}(s-a)}$$

Las otras fórmulas se obtienen mediante un intercambio cíclico de las letras. Obsérvese que un cambio cíclico de las letras no afecta la expresión correspondiente a  $\tan r$ .

#### 5. Deducir las fórmulas del semi-lado.

Considérese el triángulo polar  $A'B'C'$  correspondiente al triángulo  $ABC$ .

$$\text{Sea } s' = \frac{1}{2}(a' + b' + c') \text{ y } \tan r' = \sqrt{\frac{\operatorname{sen}(s' - a') \operatorname{sen}(s' - b') \operatorname{sen}(s' - c')}{\operatorname{sen} s'}}$$

Puesto que  $a' = 180^\circ - A$ ,  $A' = 180^\circ - a$ , etc.,

$$s' = \frac{1}{2}\{(180^\circ - A) + (180^\circ - B) + (180^\circ - C)\} = 270^\circ - \frac{1}{2}(A + B + C) = 270^\circ - S, \text{ donde } S = \frac{1}{2}(A + B + C).$$

Entonces,  $\operatorname{sen} s' = \operatorname{sen}(270^\circ - S) = -\cos S$ ,

$$\operatorname{sen}(s' - a') = \operatorname{sen}\{270^\circ - S - (180^\circ - A)\} = \operatorname{sen}\{90^\circ - (S - A)\} = \cos(S - A),$$

$$\operatorname{sen}(s' - b') = \cos(S - B),$$

$$\operatorname{sen}(s' - c') = \cos(S - C),$$

$$\text{y } \tan r' = \sqrt{\frac{\cos(S - A) \cos(S - B) \cos(S - C)}{-\cos S}} = \tan R.$$

Según el problema 4,  $\tan \frac{1}{2}A' = \frac{\tan r'}{\operatorname{sen}(s' - a')}$ . Entonces, puesto que  $A' = 180^\circ - a$ ,

$$\tan \frac{1}{2}(180^\circ - a) = \cot \frac{1}{2}a = \frac{\tan R}{\cos(S - A)}$$

y de modo semejante se obtienen las otras fórmulas.

#### 6. Deducir las analogías de Gauss o de Delambre.

Según el problema 4,

$$\operatorname{sen} \frac{1}{2}A = \sqrt{\frac{1 - \cos A}{2}} = \sqrt{\frac{-\operatorname{sen} \frac{1}{2}(b - c + a) \operatorname{sen} \frac{1}{2}(b - c - a)}{\operatorname{sen} b \operatorname{sen} c}} = \sqrt{\frac{\operatorname{sen}(s - b) \operatorname{sen}(s - c)}{\operatorname{sen} b \operatorname{sen} c}}$$

$$\text{y } \cos \frac{1}{2}A = \sqrt{\frac{1 + \cos A}{2}} = \sqrt{\frac{-\operatorname{sen} \frac{1}{2}(a + b + c) \operatorname{sen} \frac{1}{2}(a - b - c)}{\operatorname{sen} b \operatorname{sen} c}} = \sqrt{\frac{\operatorname{sen} s \operatorname{sen}(s - a)}{\operatorname{sen} b \operatorname{sen} c}}$$

$$\text{Similarmente, } \operatorname{sen} \frac{1}{2}B = \sqrt{\frac{\operatorname{sen}(s - c) \operatorname{sen}(s - a)}{\operatorname{sen} c \operatorname{sen} a}} \text{ y } \cos \frac{1}{2}B = \sqrt{\frac{\operatorname{sen} s \operatorname{sen}(s - b)}{\operatorname{sen} c \operatorname{sen} a}}$$

Entonces,

$$\begin{aligned} \operatorname{sen} \frac{1}{2}A \cos \frac{1}{2}B &= \sqrt{\frac{\operatorname{sen}(s - b) \operatorname{sen}(s - c)}{\operatorname{sen} b \operatorname{sen} c}} \sqrt{\frac{\operatorname{sen} s \operatorname{sen}(s - b)}{\operatorname{sen} c \operatorname{sen} a}} = \frac{\operatorname{sen}(s - b)}{\operatorname{sen} c} \sqrt{\frac{\operatorname{sen} s \operatorname{sen}(s - c)}{\operatorname{sen} a \operatorname{sen} b}} \\ &= \frac{\operatorname{sen}(s - b)}{\operatorname{sen} c} \cos \frac{1}{2}C, \end{aligned}$$

$$\begin{aligned} \cos \frac{1}{2}A \operatorname{sen} \frac{1}{2}B &= \sqrt{\frac{\operatorname{sen} s \operatorname{sen}(s - a)}{\operatorname{sen} b \operatorname{sen} c}} \sqrt{\frac{\operatorname{sen}(s - c) \operatorname{sen}(s - a)}{\operatorname{sen} c \operatorname{sen} a}} = \frac{\operatorname{sen}(s - a)}{\operatorname{sen} c} \sqrt{\frac{\operatorname{sen} s \operatorname{sen}(s - c)}{\operatorname{sen} a \operatorname{sen} b}} \\ &= \frac{\operatorname{sen}(s - a)}{\operatorname{sen} c} \cos \frac{1}{2}C, \end{aligned}$$

$$y \operatorname{sen} \frac{1}{2}(A - B) = \operatorname{sen} \frac{1}{2}A \cos \frac{1}{2}B - \cos \frac{1}{2}A \operatorname{sen} \frac{1}{2}B = \frac{\operatorname{sen}(s - b) - \operatorname{sen}(s - a)}{\operatorname{sen} c} \cos \frac{1}{2}C$$

$$= \frac{2 \cos \frac{1}{2}\{(s - b) + (s - a)\} \operatorname{sen} \frac{1}{2}\{(s - b) - (s - a)\}}{2 \operatorname{sen} \frac{1}{2}c \cos \frac{1}{2}c} \cos \frac{1}{2}C$$

$$= \frac{\cos \frac{1}{2}c \operatorname{sen} \frac{1}{2}(a - b)}{\operatorname{sen} \frac{1}{2}c \cos \frac{1}{2}c} \cos \frac{1}{2}C = \frac{\operatorname{sen} \frac{1}{2}(a - b)}{\operatorname{sen} \frac{1}{2}c} \cos \frac{1}{2}C$$

$$\text{Así, } \frac{\operatorname{sen} \frac{1}{2}(A - B)}{\cos \frac{1}{2}C} = \frac{\operatorname{sen} \frac{1}{2}(a - b)}{\operatorname{sen} \frac{1}{2}c}$$

De modo semejante se obtienen las fórmulas para  $\operatorname{sen} \frac{1}{2}(A + B)$ ,  $\cos \frac{1}{2}(A - B)$  y  $\cos \frac{1}{2}(A + B)$ .

### 7. Deducir las fórmulas de Neper.

Si se escogen las analogías de Delambre

$$\operatorname{sen} \frac{1}{2}(A - B) = \frac{\operatorname{sen} \frac{1}{2}(a - b)}{\operatorname{sen} \frac{1}{2}c} \cos \frac{1}{2}C \quad \text{y} \quad \cos \frac{1}{2}(A - B) = \frac{\operatorname{sen} \frac{1}{2}(a + b)}{\operatorname{sen} \frac{1}{2}c} \operatorname{sen} \frac{1}{2}C,$$

$$\tan \frac{1}{2}(A - B) = \frac{\operatorname{sen} \frac{1}{2}(A - B)}{\cos \frac{1}{2}(A - B)} = \frac{\operatorname{sen} \frac{1}{2}(a - b) \cos \frac{1}{2}C}{\operatorname{sen} \frac{1}{2}c} \cdot \frac{\operatorname{sen} \frac{1}{2}c}{\operatorname{sen} \frac{1}{2}(a + b) \operatorname{sen} \frac{1}{2}C} = \frac{\operatorname{sen} \frac{1}{2}(a - b)}{\operatorname{sen} \frac{1}{2}(a + b)} \cot \frac{1}{2}C$$

$$\text{y} \quad \frac{\tan \frac{1}{2}(A - B)}{\cot \frac{1}{2}C} = \frac{\operatorname{sen} \frac{1}{2}(a - b)}{\operatorname{sen} \frac{1}{2}(a + b)}$$

Si se escogen las analogías de Delambre

$$\operatorname{sen} \frac{1}{2}(a - b) = \frac{\operatorname{sen} \frac{1}{2}(A - B)}{\cos \frac{1}{2}C} \operatorname{sen} \frac{1}{2}c \quad \text{y} \quad \cos \frac{1}{2}(a - b) = \frac{\operatorname{sen} \frac{1}{2}(A + B)}{\cos \frac{1}{2}C} \cos \frac{1}{2}c,$$

$$\tan \frac{1}{2}(a - b) = \frac{\operatorname{sen} \frac{1}{2}(A - B) \operatorname{sen} \frac{1}{2}c}{\operatorname{sen} \frac{1}{2}(A + B) \cos \frac{1}{2}c} = \frac{\operatorname{sen} \frac{1}{2}(A - B)}{\operatorname{sen} \frac{1}{2}(A + B)} \tan \frac{1}{2}c \quad \text{y} \quad \frac{\tan \frac{1}{2}(a - b)}{\tan \frac{1}{2}c} = \frac{\operatorname{sen} \frac{1}{2}(A - B)}{\operatorname{sen} \frac{1}{2}(A + B)}$$

De modo semejante se obtienen las otras analogías.

## CASO I.

8. Resolver el triángulo esférico oblicuángulo  $ABC$ , dados  $a = 121^{\circ}15,4'$ ,  $b = 104^{\circ}54,7'$ ,  $c = 65^{\circ}42,5'$ .

$$(1) \tan r = \sqrt{\frac{\operatorname{sen}(s - a) \operatorname{sen}(s - b) \operatorname{sen}(s - c)}{\operatorname{sen} s}} \quad s = \frac{1}{2}(a + b + c) = 145^{\circ}56,3'$$

$$(2) \tan \frac{1}{2}A = \frac{\tan r}{\operatorname{sen}(s - a)} \quad (3) \tan \frac{1}{2}B = \frac{\tan r}{\operatorname{sen}(s - b)} \quad (4) \tan \frac{1}{2}C = \frac{\tan r}{\operatorname{sen}(s - c)}$$

$$\text{Comprobación: } \frac{\operatorname{sen} a}{\operatorname{sen} A} = \frac{\operatorname{sen} b}{\operatorname{sen} B} = \frac{\operatorname{sen} c}{\operatorname{sen} C}$$

	(1)	(2)	(3)	(4)
$s - a = 24^{\circ}40,9'$	l sen 9,62073	l csc 0,37927		
$s - b = 41^{\circ}1,6'$	l sen 9,81717		l csc 0,18283	
$s - c = 80^{\circ}13,8'$	l sen 9,99366			l csc 0,00634
$s = 145^{\circ}56,3'$	l csc 0,25175			
	2 <u>9,68331</u>			
tan $r$	log 9,84166	log 9,84166	log 9,84166	log 9,84166
$\frac{1}{2}A = 58^{\circ}59,0'$		l tan 0,22093		
$A = 117^{\circ}58,0'$				
$\frac{1}{2}B = 46^{\circ}36,9'$			l tan 0,02449	
$B = 93^{\circ}13,8'$				
$\frac{1}{2}C = 35^{\circ}10,3'$				l tan 9,84800
$C = 70^{\circ}20,6'$				

Comprobación:

$\alpha$	l sen 9,93189	$b$	l sen 9,98512	$c$	l sen 9,95974
$A$	l csc 0,05393	$B$	l csc 0,00069	$C$	l csc 0,02608
	<u>9,98582</u>		<u>9,98581</u>		<u>9,98582</u>

CASO II.

9. Resolver el triángulo esférico oblicuángulo ABC, dados  $A = 117^{\circ}22,8'$ ,  $B = 72^{\circ}38,6'$ ,  $C = 58^{\circ}21,2'$ .

Solución 1. (Fórmulas del semi-lado)

$$S = \frac{1}{2}(A + B + C) = 124^{\circ}11,3'$$

$$(1) \tan R = \sqrt{\frac{\cos(S - A) \cos(S - B) \cos(S - C)}{-\cos S}} = \sqrt{\frac{\cos(S - A) \cos(S - B) \cos(S - C)}{\cos(180^{\circ} - S)}}$$

$$(2) \cot \frac{1}{2}a = \frac{\tan R}{\cos(S - A)} \quad (3) \cot \frac{1}{2}b = \frac{\tan R}{\cos(S - B)} \quad (4) \cot \frac{1}{2}c = \frac{\tan R}{\cos(S - C)}$$

Comprobación:  $\frac{\text{sen } a}{\text{sen } A} = \frac{\text{sen } b}{\text{sen } B} = \frac{\text{sen } c}{\text{sen } C}$

	(1)	(2)	(3)	(4)
$S - A = 6^{\circ}48,5'$	l cos 9,99692	l sec 0,00308		
$S - B = 51^{\circ}32,7'$	l cos 9,79372		l sec 0,20628	
$S - C = 65^{\circ}50,1'$	l cos 9,61211			l sec 0,38789
$180^{\circ} - S = 55^{\circ}48,7'$	l sec 0,25033			
	2 <u>9,65308</u>			
tan $R$	log 9,82654	log 9,82654	log 9,82654	log 9,82654
$\frac{1}{2}a = 55^{\circ}57,7'$		l cot 9,82962		
$a = 111^{\circ}55,4'$				
$\frac{1}{2}b = 42^{\circ}50,2'$			l cot 0,03282	
$b = 85^{\circ}40,4'$				
$\frac{1}{2}c = 31^{\circ}23,8'$				l cot 0,21443
$c = 62^{\circ}47,6'$				

Comprobación:

$a$	l sen 9,96740	$b$	l sen 9,99876	$c$	l sen 9,94908
$A$	l csc 0,05160	$B$	l csc 0,02024	$C$	l csc 0,06992
	<u>0,01900</u>		<u>0,01900</u>		<u>0,01900</u>

Solución 2. (Triángulo polar)

Considérese el triángulo polar  $A'B'C'$  en el que  $a' = 62^{\circ}37,2'$ ,  $b' = 107^{\circ}21,4'$ ,  $c' = 121^{\circ}38,8'$ .

$$(1) \tan r' = \sqrt{\frac{\text{sen}(s' - a') \text{sen}(s' - b') \text{sen}(s' - c')}{\text{sen } s'}} \quad s' = \frac{1}{2}(a' + b' + c') = 145^\circ 48,7'$$

$$(2) \tan \frac{1}{2}A' = \frac{\tan r'}{\text{sen}(s' - a')} \quad (3) \tan \frac{1}{2}B' = \frac{\tan r'}{\text{sen}(s' - b')} \quad (4) \tan \frac{1}{2}C' = \frac{\tan r'}{\text{sen}(s' - c')}$$

$$\text{Comprobación: } \frac{\text{sen } a'}{\text{sen } A'} = \frac{\text{sen } b'}{\text{sen } B'} = \frac{\text{sen } c'}{\text{sen } C'}$$

	(1)	(2)	(3)	(4)
$s' - a' = 83^\circ 11,5'$	l sen 9,99692	l csc 0,00308		
$s' - b' = 38^\circ 27,3'$	l sen 9,79372		l csc 0,20628	
$s' - c' = 24^\circ 9,9'$	l sen 9,61211			l csc 0,38789
$s' = 145^\circ 48,7'$	l csc 0,25033			
	2 <u>9,65308</u>			
$\tan r'$	log 9,82654	log 9,82654	log 9,82654	log 9,82654
$\frac{1}{2}A' = 34^\circ 2,3'$		l tan 9,82962		
$A' = 68^\circ 4,6'$				
$\frac{1}{2}B' = 47^\circ 9,8'$			l tan 0,03282	
$B' = 94^\circ 19,6'$				
$\frac{1}{2}C' = 58^\circ 36,2'$				l tan 0,21443
$C' = 117^\circ 12,4'$				

Comprobación:

$a' \text{ l sen } 9,94840$	$b' \text{ l sen } 9,97976$	$c' \text{ l sen } 9,93008$
$A' \text{ l csc } 0,03260$	$B' \text{ l csc } 0,00124$	$C' \text{ l csc } 0,05092$
<u>9,98100</u>	<u>9,98100</u>	<u>9,98100</u>

Entonces,  $a = 180^\circ - A' = 111^\circ 55,4'$ ,  $b = 85^\circ 40,4'$ ,  $c = 62^\circ 47,6'$ .

## CASO III.

10. Resolver el triángulo esférico oblicuángulo  $ABC$ , dados  $a = 106^\circ 25,3'$ ,  $c = 42^\circ 16,7'$ ,  $B = 114^\circ 53,2'$ .

(Analogías de Neper)

Para  $A, C$ : (1)  $\tan \frac{1}{2}(A + C) = \cos \frac{1}{2}(a - c) \sec \frac{1}{2}(a + c) \cot \frac{1}{2}B$

(2)  $\tan \frac{1}{2}(A - C) = \text{sen } \frac{1}{2}(a - c) \text{csc } \frac{1}{2}(a + c) \cot \frac{1}{2}B$

Para  $b$ : (3)  $\tan \frac{1}{2}b = \tan \frac{1}{2}(a - c) \text{sen } \frac{1}{2}(A + C) \text{csc } \frac{1}{2}(A - C)$

Comprobación:  $\frac{\text{sen } a}{\text{sen } A} = \frac{\text{sen } b}{\text{sen } B} = \frac{\text{sen } c}{\text{sen } C}$

	(1)	(2)	(3)
$\frac{1}{2}(a - c) = 32^\circ 4,3'$	l cos 9,92808	l sen 9,72508	l tan 9,79699
$\frac{1}{2}(a + c) = 74^\circ 21,0'$	l sec 0,56902	l csc 0,01641	
$\frac{1}{2}B = 57^\circ 26,6'$	l cot 9,80513	l cot 9,80513	
$\frac{1}{2}(A + C) = 63^\circ 29,9'$	l tan 0,30223		l sen 9,95178
$\frac{1}{2}(A - C) = 19^\circ 23,7'$		l tan 9,54662	l csc 0,47876
$A = 82^\circ 53,6'$			
$C = 44^\circ 6,2'$			
$\frac{1}{2}b = 59^\circ 22,0'$			l tan 0,22753
$b = 118^\circ 44,0'$			

Comprobación:

$a$	$l \text{ sen } 9,98191$	$b$	$l \text{ sen } 9,94293$	$c$	$l \text{ sen } 9,82784$
$A$	$l \text{ csc } 0,00335$	$B$	$l \text{ csc } 0,04232$	$C$	$l \text{ csc } 0,15742$
	<u>9,98526</u>		<u>9,98525</u>		<u>9,98526</u>

11. Resolver el triángulo esférico oblicuángulo  $ABC$ , dados  $b = 119^\circ 41,4'$ ,  $c = 81^\circ 17,6'$ ,  $A = 66^\circ 37,8'$ .

(Analogías de Neper)

Para  $B, C$ : (1)  $\tan \frac{1}{2}(B + C) = \cos \frac{1}{2}(b - c) \sec \frac{1}{2}(b + c) \cot \frac{1}{2}A$

(2)  $\tan \frac{1}{2}(B - C) = \text{sen } \frac{1}{2}(b - c) \text{csc } \frac{1}{2}(b + c) \cot \frac{1}{2}A$

Para  $a$ : (3)  $\tan \frac{1}{2}a = \tan \frac{1}{2}(b - c) \text{sen } \frac{1}{2}(B + C) \text{csc } \frac{1}{2}(B - C)$

Comprobación:  $\frac{\text{sen } a}{\text{sen } A} = \frac{\text{sen } b}{\text{sen } B} = \frac{\text{sen } c}{\text{sen } C}$

	(1)	(2)	(3)
$\frac{1}{2}(b - c) = 19^\circ 11,9'$	$l \text{ cos } 9,97515$	$l \text{ sen } 9,51698$	$l \text{ tan } 9,54183$
$\frac{1}{2}(b + c) = 100^\circ 29,5'$	$l \text{ sec } 0,73971 \text{ (n)}$	$l \text{ csc } 0,00732$	
$\frac{1}{2}A = 33^\circ 18,9'$	$l \text{ cot } 0,18227$	$l \text{ cot } 0,18227$	
$\frac{1}{2}(B + C) = 97^\circ 13,3'$	$l \text{ tan } 0,89713 \text{ (n)}$		$l \text{ sen } 9,99654$
$\frac{1}{2}(B - C) = 26^\circ 58,1'$		$l \text{ tan } 9,70657$	$l \text{ csc } 0,34342$
$B = 124^\circ 11,4'$			
$C = 70^\circ 15,2'$			
$\frac{1}{2}a = 37^\circ 17,8'$			$l \text{ tan } 9,88179$
$a = 74^\circ 35,6'$			

Comprobación:

$a$	$l \text{ sen } 9,98411$	$b$	$l \text{ sen } 9,93888$	$c$	$l \text{ sen } 9,99496$
$A$	$l \text{ csc } 0,03717$	$B$	$l \text{ csc } 0,08240$	$C$	$l \text{ csc } 0,02632$
	<u>0,02128</u>		<u>0,02128</u>		<u>0,02128</u>

CASO IV.

12. Resolver el triángulo esférico oblicuángulo  $ABC$ , dados  $A = 48^\circ 44,6'$ ,  $B = 60^\circ 42,6'$ ,  $c = 76^\circ 22,4'$ .

Solución 1.

(Analogías de Neper)

Para  $a, b$ : (1)  $\tan \frac{1}{2}(b + a) = \cos \frac{1}{2}(B - A) \sec \frac{1}{2}(B + A) \tan \frac{1}{2}c$

(2)  $\tan \frac{1}{2}(b - a) = \text{sen } \frac{1}{2}(B - A) \text{csc } \frac{1}{2}(B + A) \tan \frac{1}{2}c$

Para  $C$ : (3)  $\cot \frac{1}{2}C = \text{sen } \frac{1}{2}(b + a) \text{csc } \frac{1}{2}(b - a) \tan \frac{1}{2}(B - A)$

Comprobación:  $\frac{\text{sen } a}{\text{sen } A} = \frac{\text{sen } b}{\text{sen } B} = \frac{\text{sen } c}{\text{sen } C}$

	(1)	(2)	(3)
$\frac{1}{2}(B - A) = 5^\circ 59,0'$	$l \text{ cos } 9,99763$	$l \text{ sen } 9,01803$	$l \text{ tan } 9,02040$
$\frac{1}{2}(B + A) = 54^\circ 43,6'$	$l \text{ sec } 0,23847$	$l \text{ csc } 0,08810$	
$\frac{1}{2}c = 38^\circ 11,2'$	$l \text{ tan } 9,89572$	$l \text{ tan } 9,89572$	
$\frac{1}{2}(b + a) = 53^\circ 33,9'$	$l \text{ tan } 0,13182$		$l \text{ sen } 9,90554$
$\frac{1}{2}(b - a) = 5^\circ 44,1'$		$l \text{ tan } 9,00185$	$l \text{ csc } 1,00031$
$a = 47^\circ 49,8'$			
$b = 59^\circ 18,0'$			
$\frac{1}{2}C = 49^\circ 50,5'$			$l \text{ cot } 9,92625$
$C = 99^\circ 41,0'$			



Comprobación:

$a$	$1 \text{ sen } 9,86991$	$b$	$1 \text{ sen } 9,93442$	$c$	$1 \text{ sen } 9,98760$
$A$	$1 \text{ csc } 0,12392$	$B$	$1 \text{ csc } 0,05941$	$C$	$1 \text{ csc } 0,00623$
	<u>9,99383</u>		<u>9,99383</u>		<u>9,99383</u>

Solución 2. (Triángulo polar)

Considérese el triángulo polar  $A'B'C'$  en el que  $a' = 131^\circ 15,4'$ ,  $b' = 119^\circ 17,4'$ ,  $C' = 103^\circ 37,6'$ .

(Analogías de Neper)

Para  $A', B'$ : (1)  $\tan \frac{1}{2}(A' + B') = \cos \frac{1}{2}(a' - b') \sec \frac{1}{2}(a' + b') \cot \frac{1}{2}C'$

(2)  $\tan \frac{1}{2}(A' - B') = \sin \frac{1}{2}(a' - b') \csc \frac{1}{2}(a' + b') \cot \frac{1}{2}C'$

Para  $c'$ : (3)  $\tan \frac{1}{2}c' = \tan \frac{1}{2}(a' - b') \sin \frac{1}{2}(A' + B') \csc \frac{1}{2}(A' - B')$

Comprobación:  $\frac{\text{sen } a'}{\text{sen } A'} = \frac{\text{sen } b'}{\text{sen } B'} = \frac{\text{sen } c'}{\text{sen } C'}$

	(1)	(2)	(3)
$\frac{1}{2}(a' - b')$	$= 5^\circ 59,0'$	$1 \text{ cos } 9,99763$	$1 \text{ sen } 9,01803$
$\frac{1}{2}(a' + b')$	$= 125^\circ 16,4'$	$1 \text{ sec } 0,23847 \text{ (n)}$	$1 \text{ csc } 0,08810$
$\frac{1}{2}C'$	$= 51^\circ 48,8'$	$1 \text{ cot } 9,89572$	$1 \text{ cot } 9,89572$
$\frac{1}{2}(A' + B')$	$= 126^\circ 26,1'$	$1 \text{ tan } 0,13182 \text{ (n)}$	$1 \text{ sen } 9,90554$
$\frac{1}{2}(A' - B')$	$= 5^\circ 44,1'$		$1 \text{ tan } 9,00185$
$A'$	$= 132^\circ 10,2'$		
$B'$	$= 120^\circ 42,0'$		
$\frac{1}{2}c'$	$= 40^\circ 9,5'$		$1 \text{ tan } 9,92625$
$c'$	$= 80^\circ 19,0'$		

Entonces los elementos buscados del triángulo  $ABC$  son:

$$a = 180^\circ - A' = 47^\circ 49,8', \quad b = 180^\circ - B' = 59^\circ 18,0', \quad C = 180^\circ - c' = 99^\circ 41,0'.$$

## CASO V.

13. Resolver el triángulo esférico oblicuángulo  $ABC$ , dados  $a = 80^\circ 26,2'$ ,  $c = 115^\circ 30,6'$ ,  $A = 72^\circ 24,4'$ .

Para  $C$ :  $\text{sen } C = \text{sen } c \text{ csc } a \text{ sen } A$

Para  $B$ :  $\cot \frac{1}{2}B = \text{sen } \frac{1}{2}(c + a) \csc \frac{1}{2}(c - a) \tan \frac{1}{2}(C - A)$

Para  $b$ :  $\tan \frac{1}{2}b = \text{sen } \frac{1}{2}(C + A) \csc \frac{1}{2}(C - A) \tan \frac{1}{2}(c - a)$

Comprobación:  $\text{sen } \frac{1}{2}(C - A) \text{ sen } \frac{1}{2}b = \text{sen } \frac{1}{2}(c - a) \cos \frac{1}{2}B$

$c = 115^\circ 30,6' \quad 1 \text{ sen } 9,95545$

$a = 80^\circ 26,2' \quad 1 \text{ csc } 0,00608$

$A = 72^\circ 24,4' \quad 1 \text{ sen } 9,97920$

$C = 119^\circ 15,4' \quad 1 \text{ sen } 9,94073$

Puesto que  $a < c$ , entonces  $A < C$ .  
Una solución única

$\frac{1}{2}(C + A) = 95^\circ 49,9' \quad 1 \text{ sen } 9,99775$

$\frac{1}{2}(C - A) = 23^\circ 25,5' \quad 1 \text{ tan } 9,63674 \quad 1 \text{ csc } 0,40061$

$\frac{1}{2}(c + a) = 97^\circ 58,4' \quad 1 \text{ sen } 9,99578$

$\frac{1}{2}(c - a) = 17^\circ 32,2' \quad 1 \text{ csc } 0,52098 \quad 1 \text{ tan } 9,49969$

$\frac{1}{2}B = 35^\circ 4,7' \quad 1 \text{ cot } 0,15350$

$B = 70^\circ 9,4'$

$\frac{1}{2}b = 38^\circ 20,2' \quad 1 \text{ tan } 9,89805$

$b = 76^\circ 40,4'$

Comprobación:

$$\begin{array}{l} \frac{1}{2}(C - A) = 23^{\circ}25,5' \quad | \text{sen } 9,59939 \\ \frac{1}{2}b = 38^{\circ}20,2' \quad | \text{sen } 9,79259 \\ \hline 9,39198 \end{array} \quad \begin{array}{l} \frac{1}{2}(c - a) = 17^{\circ}32,2' \quad | \text{sen } 9,47902 \\ \frac{1}{2}B = 35^{\circ}4,7' \quad | \text{cos } 9,91295 \\ \hline 9,39197 \end{array}$$

14. Resolver el triángulo esférico oblicuángulo ABC, dados  $b = 81^{\circ}42,3'$ ,  $c = 52^{\circ}19,8'$ ,  $C = 47^{\circ}25,1'$ .

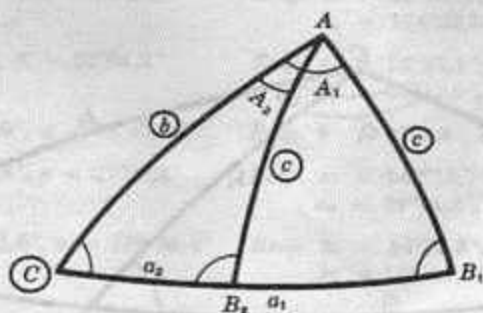
Para B:  $\text{sen } B = \text{sen } b \text{ csc } c \text{ sen } C$

Para A:  $\cot \frac{1}{2}A = \text{sen } \frac{1}{2}(b + c) \text{ csc } \frac{1}{2}(b - c) \tan \frac{1}{2}(B - C)$

Para a:  $\tan \frac{1}{2}a = \text{sen } \frac{1}{2}(B + C) \text{ csc } \frac{1}{2}(B - C) \tan \frac{1}{2}(b - c)$

Comprobación:  $\text{sen } \frac{1}{2}(B - C) \text{ sen } \frac{1}{2}a = \text{sen } \frac{1}{2}(b - c) \cos \frac{1}{2}A$

$b = 81^{\circ}42,3'$	sen 9,99544	
$c = 52^{\circ}19,8'$	csc 0,10153	
$C = 47^{\circ}25,1'$	sen 9,86706	Puesto que $b > c$ , entonces $B > C$ .
		Dos soluciones
$B_1 = 67^{\circ}0,0'$	sen 9,96403	
$B_2 = 113^{\circ}0,0'$		



	(A <sub>1</sub> )	(a <sub>1</sub> )	(A <sub>2</sub> )	(a <sub>2</sub> )
$\frac{1}{2}(B_1 + C) = 57^{\circ}12,6'$		sen 9,92462		
$\frac{1}{2}(B_1 - C) = 9^{\circ}47,4'$	tan 9,23691	csc 0,76946		
$\frac{1}{2}(b + c) = 67^{\circ}1,0'$	sen 9,96408		sen 9,96408	
$\frac{1}{2}(b - c) = 14^{\circ}41,2'$	csc 0,59596	tan 9,41846	csc 0,59596	tan 9,41846
$\frac{1}{2}A_1 = 57^{\circ}55,9'$	cot 9,79695			
$A_1 = 115^{\circ}51,8'$				
$\frac{1}{2}a_1 = 52^{\circ}20,5'$		tan 0,11254		
$a_1 = 104^{\circ}41,0'$				
$\frac{1}{2}(B_2 + C) = 80^{\circ}12,6'$				sen 9,99363
$\frac{1}{2}(B_2 - C) = 32^{\circ}47,4'$			tan 9,80903	csc 0,26635
$\frac{1}{2}A_2 = 23^{\circ}8,8'$			cot 0,36907	
$A_2 = 46^{\circ}17,6'$				
$\frac{1}{2}a_2 = 25^{\circ}29,8'$				tan 9,67844
$a_2 = 50^{\circ}59,6'$				

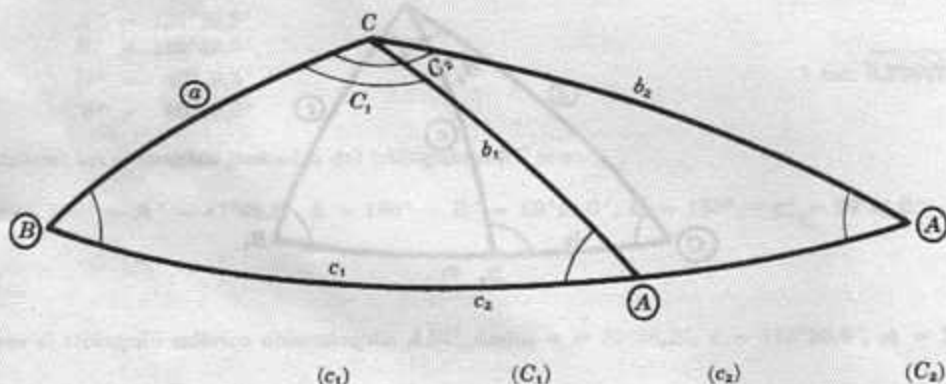
Comprobación:

$\frac{1}{2}(B_1 - C) = 9^\circ 47,4'$	$1 \text{ sen } 9,23054$	$\frac{1}{2}(b - c) = 14^\circ 41,2'$	$1 \text{ sen } 9,40404$
$\frac{1}{2}a_1 = 52^\circ 20,5'$	$1 \text{ sen } 9,89854$	$\frac{1}{2}A_1 = 57^\circ 55,9'$	$1 \text{ cos } 9,72504$
	<u>9,12908</u>		<u>9,12908</u>
$\frac{1}{2}(B_2 - C) = 32^\circ 47,4'$	$1 \text{ sen } 9,73365$	$\frac{1}{2}(b - c) = 14^\circ 41,2'$	$1 \text{ sen } 9,40404$
$\frac{1}{2}a_2 = 25^\circ 29,8'$	$1 \text{ sen } 9,63393$	$\frac{1}{2}A_2 = 23^\circ 8,8'$	$1 \text{ cos } 9,96355$
	<u>9,36758</u>		<u>9,36758</u>

## CASO VI.

15. Resolver el triángulo esférico oblicuángulo  $ABC$ , dados  $A = 35^\circ 52,5'$ ,  $B = 56^\circ 10,7'$ ,  $a = 40^\circ 38,6'$ .Para  $b$ :  $\text{sen } b = \text{sen } B \text{ csc } A \text{ sen } a$ Para  $c$ :  $\tan \frac{1}{2}c = \text{sen } \frac{1}{2}(B + A) \text{ csc } \frac{1}{2}(B - A) \tan \frac{1}{2}(b - a)$ Para  $C$ :  $\cot \frac{1}{2}C = \text{sen } \frac{1}{2}(b + a) \text{ csc } \frac{1}{2}(b - a) \tan \frac{1}{2}(B - A)$ Comprobación:  $\cos \frac{1}{2}(B + A) \cos \frac{1}{2}c = \cos \frac{1}{2}(b + a) \text{ sen } \frac{1}{2}C$ 

$B = 56^\circ 10,7'$	$1 \text{ sen } 9,91948$	
$A = 35^\circ 52,5'$	$1 \text{ csc } 0,23209$	
$a = 40^\circ 38,6'$	$1 \text{ sen } 9,81381$	Puesto que $A < B$ , entonces $a < b$ .
		Dos soluciones
$b_1 = 67^\circ 25,5'$	$1 \text{ sen } 9,96538$	
$b_2 = 112^\circ 34,5'$		



$\frac{1}{2}(b_1 + a) = 54^\circ 2,0'$	$1 \text{ sen } 9,90814$		
$\frac{1}{2}(b_1 - a) = 13^\circ 23,4'$	$1 \text{ tan } 9,37666$	$1 \text{ csc } 0,63530$	
$\frac{1}{2}(B + A) = 46^\circ 1,6'$	$1 \text{ sen } 9,85713$		$1 \text{ sen } 9,85713$
$\frac{1}{2}(B - A) = 10^\circ 9,1'$	$1 \text{ csc } 0,75386$	$1 \text{ tan } 9,25299$	$1 \text{ csc } 0,75386$
$\frac{1}{2}c_1 = 44^\circ 11,1'$	$1 \text{ tan } 9,98765$		$1 \text{ tan } 9,25299$
$c_1 = 88^\circ 22,2'$			
$\frac{1}{2}C_1 = 57^\circ 57,7'$		$1 \text{ cot } 9,79643$	
$C_1 = 115^\circ 55,4'$			
$\frac{1}{2}(b_2 + a) = 76^\circ 36,6'$			$1 \text{ sen } 9,98803$
$\frac{1}{2}(b_2 - a) = 35^\circ 58,0'$		$1 \text{ tan } 9,86073$	$1 \text{ csc } 0,23113$
$\frac{1}{2}c_2 = 71^\circ 21,0'$		$1 \text{ tan } 0,47172$	
$c_2 = 142^\circ 42,0'$			
$\frac{1}{2}C_2 = 73^\circ 28,8'$			$1 \text{ cot } 9,47215$
$C_2 = 146^\circ 57,6'$			

Se han omitido los detalles de la comprobación.

PROBLEMAS PROPUESTOS

Resolver los siguientes triángulos esféricos oblicuángulos ABC.

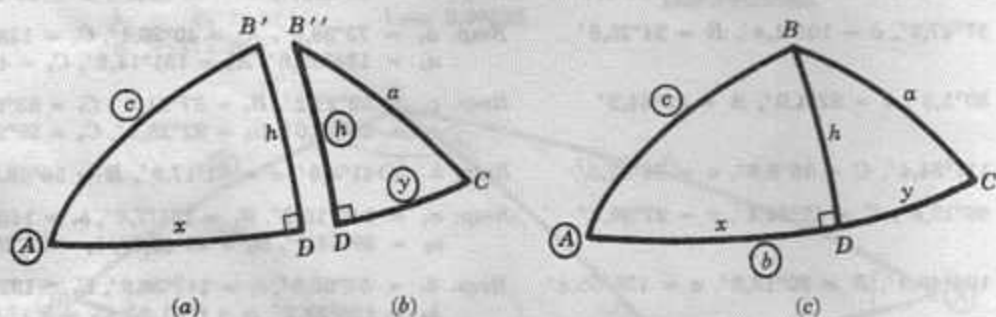
- |   |  |
|---|--|
| 16. $a = 56^{\circ}22,3'$ , $b = 65^{\circ}54,9'$ , $c = 78^{\circ}27,4'$   | Resp. $A = 58^{\circ}8,4'$ , $B = 68^{\circ}37,8'$ , $C = 91^{\circ}57,2'$   |
| 17. $a = 108^{\circ}56,4'$ , $b = 58^{\circ}34,8'$ , $c = 122^{\circ}15,6'$ | Resp. $A = 93^{\circ}40,8'$ , $B = 64^{\circ}12,4'$ , $C = 116^{\circ}51,0'$   |
| 18. $a = 126^{\circ}29,6'$ , $b = 128^{\circ}1,6'$ , $c = 30^{\circ}46,6'$  | Resp. $A = 99^{\circ}20,9'$ , $B = 104^{\circ}47,7'$ , $C = 38^{\circ}54,4'$   |
| 19. $A = 71^{\circ}2,8'$ , $B = 119^{\circ}25,2'$ , $C = 60^{\circ}45,6'$   | Resp. $a = 83^{\circ}35,4'$ , $b = 113^{\circ}45,8'$ , $c = 66^{\circ}28,0'$   |
| 20. $A = 116^{\circ}1,8'$ , $B = 103^{\circ}17,6'$ , $C = 94^{\circ}21,2'$  | Resp. $a = 115^{\circ}44,2'$ , $b = 102^{\circ}40,6'$ , $c = 88^{\circ}21,8'$  |
| 21. $A = 138^{\circ}40,7'$ , $B = 67^{\circ}23,8'$ , $C = 101^{\circ}50,4'$ | Resp. $a = 156^{\circ}42,2'$ , $b = 33^{\circ}34,4'$ , $c = 144^{\circ}6,6'$   |
| 22. $a = 136^{\circ}2,9'$ , $c = 21^{\circ}46,3'$ , $B = 75^{\circ}31,4'$   | Resp. $b = 27^{\circ}10,4'$ , $A = 122^{\circ}30,1'$ , $C = 26^{\circ}47,3'$   |
| 23. $b = 86^{\circ}45,2'$ , $c = 108^{\circ}36,8'$ , $A = 67^{\circ}40,2'$  | Resp. $a = 70^{\circ}2,2'$ , $B = 79^{\circ}17,1'$ , $C = 111^{\circ}8,7'$   |
| 24. $a = 61^{\circ}51,7'$ , $c = 67^{\circ}55,4'$ , $B = 111^{\circ}57,9'$  | Resp. $b = 97^{\circ}37,5'$ , $A = 55^{\circ}36,0'$ , $C = 60^{\circ}7,3'$   |
| 25. $B = 66^{\circ}42,7'$ , $C = 84^{\circ}57,5'$ , $a = 107^{\circ}8,4'$   | Resp. $b = 67^{\circ}8,4'$ , $c = 92^{\circ}7,6'$ , $A = 107^{\circ}43,4'$   |
| 26. $A = 47^{\circ}13,3'$ , $B = 120^{\circ}9,9'$ , $c = 123^{\circ}31,6'$  | Resp. $a = 37^{\circ}43,7'$ , $b = 133^{\circ}52,9'$ , $C = 90^{\circ}31,8'$   |
| 27. $B = 104^{\circ}30,7'$ , $C = 62^{\circ}52,1'$ , $a = 56^{\circ}6,4'$   | Resp. $b = 88^{\circ}20,8'$ , $c = 66^{\circ}46,0'$ , $A = 53^{\circ}30,4'$  |
| 28. $a = 98^{\circ}53,2'$ , $c = 64^{\circ}35,8'$ , $A = 95^{\circ}23,4'$   | Resp. $b = 99^{\circ}29,6'$ , $C = 65^{\circ}32,3'$ , $B = 96^{\circ}21,0'$  |
| 29. $b = 37^{\circ}47,2'$ , $c = 103^{\circ}1,4'$ , $B = 24^{\circ}25,6'$   | Resp. $a_1 = 73^{\circ}58,0'$ , $A_1 = 40^{\circ}26,4'$ , $C_1 = 138^{\circ}53,2'$<br>$a_2 = 134^{\circ}32,6'$ , $A_2 = 151^{\circ}14,8'$ , $C_2 = 41^{\circ}6,8'$ |
| 30. $a = 80^{\circ}5,3'$ , $b = 82^{\circ}4,0'$ , $A = 83^{\circ}34,2'$     | Resp. $c_1 = 52^{\circ}27,2'$ , $B_1 = 87^{\circ}34,5'$ , $C_1 = 53^{\circ}6,6'$<br>$c_2 = 25^{\circ}12,0'$ , $B_2 = 92^{\circ}25,5'$ , $C_2 = 25^{\circ}26,2'$    |
| 31. $A = 117^{\circ}54,4'$ , $C = 45^{\circ}8,6'$ , $a = 76^{\circ}37,5'$   | Resp. $b = 41^{\circ}4,6'$ , $c = 51^{\circ}17,9'$ , $B = 36^{\circ}38,8'$   |
| 32. $A = 96^{\circ}12,8'$ , $C = 45^{\circ}34,4'$ , $c = 27^{\circ}20,3'$   | Resp. $a_1 = 140^{\circ}15,7'$ , $B_1 = 121^{\circ}7,6'$ , $b_1 = 146^{\circ}36,0'$<br>$a_2 = 39^{\circ}44,3'$ , $B_2 = 44^{\circ}53,8'$ , $b_2 = 28^{\circ}59,6'$ |
| 33. $A = 104^{\circ}40,0'$ , $B = 80^{\circ}13,6'$ , $a = 126^{\circ}50,4'$ | Resp. $b_1 = 54^{\circ}36,8'$ , $c_1 = 147^{\circ}36,8'$ , $C_1 = 139^{\circ}39,0'$<br>$b_2 = 125^{\circ}23,2'$ , $c_2 = 6^{\circ}51,2'$ , $C_2 = 8^{\circ}17,6'$  |

## Triángulos esféricos oblicuángulos—Soluciones alternas

**LAS SOLUCIONES ALTERNAS** que se estudian en este capítulo requieren el uso de una función adicional, llamada función semisenverso, y la división de un triángulo esférico oblicuángulo en dos triángulos esféricos rectángulos.

Una desventaja del uso del semisenverso es que, además de las tablas corrientes de las funciones trigonométricas, se necesitan tablas de los valores naturales de la función semisenverso y de sus correspondientes logaritmos. Una ventaja es, sin embargo, que resulta imposible caer en el error de situar un ángulo o un lado en un cuadrante incorrecto puesto que solamente existe un ángulo positivo menor que  $180^\circ$  que tenga un semisenverso dado.

La importancia de la descomposición en triángulos rectángulos radica en que las soluciones de los triángulos esféricos rectángulos pueden calcularse fácilmente y utilizarse para resolver triángulos esféricos oblicuángulos. Por ejemplo, una vez planteadas las soluciones de los triángulos rectángulos de las Fig. (a) y (b), cuyos elementos conocidos aparecen dentro de círculos, se puede encontrar la solución del triángulo oblicuángulo de la Fig. (c) de la siguiente manera:



1. Obténganse los valores de  $x$ ,  $h$  y  $B'$  del triángulo de la Fig. (a).
2. En la Fig. (b) se conocen  $h$  y  $y = b - x$ . Obténganse los valores de  $a$ ,  $C$  y  $B''$ .
3. Los elementos buscados del triángulo oblicuángulo de la Fig. (c) son  $a$ ,  $C$  y  $B = B' + B''$ .

**LA FUNCION SEMISENVERSO.** El *semisenverso* de un ángulo  $\theta$ , ( $\text{ssv } \theta$ ), se define mediante la relación

$$\text{ssv } \theta = \frac{1}{2}(1 - \cos \theta).$$

En el problema 1 aparecen algunas propiedades de esta función.

La función semisenverso se aplica directamente en la solución de los casos I y III, y en la solución del triángulo polar asociado de los casos II y IV. Para ello se necesitan las siguientes fórmulas:

$$\begin{aligned} 1) \quad & \text{ssv } A = \text{sen}(s - b) \text{ sen}(s - c) \text{ csc } b \text{ csc } c, \\ & \text{ssv } B = \text{sen}(s - c) \text{ sen}(s - a) \text{ csc } c \text{ csc } a, \\ & \text{ssv } C = \text{sen}(s - a) \text{ sen}(s - b) \text{ csc } a \text{ csc } b, \end{aligned}$$

donde  $s = \frac{1}{2}(a + b + c)$ , y

$$\begin{aligned}
 & \text{ssv } a = \text{ssv}(b - c) + \text{sen } b \text{ sen } c \text{ ssv } A, \\
 2) \quad & \text{ssv } b = \text{ssv}(c - a) + \text{sen } c \text{ sen } a \text{ ssv } B, \\
 & \text{ssv } c = \text{ssv}(a - b) + \text{sen } a \text{ sen } b \text{ ssv } C.
 \end{aligned}$$

Para las deducciones de estas fórmulas, véanse los problemas 2 y 3.

El uso del logaritmo de un semisenverso se ilustra en el

**EJEMPLO 1.** Utilícese  $\text{ssv } A = \text{sen}(s - b) \text{ sen}(s - c) \text{ csc } b \text{ csc } c$  para encontrar  $A$  cuando  $a = 55^\circ 28,0'$ ,  $b = 77^\circ 6,0'$  y  $c = 49^\circ 18,0'$ .

$a = 55^\circ 28,0'$	$s - b = 13^\circ 50,0'$	$l \text{ sen } 9,37858$
$b = 77^\circ 6,0'$	$s - c = 41^\circ 38,0'$	$l \text{ sen } 9,82240$
$c = 49^\circ 18,0'$	$b = 77^\circ 6,0'$	$l \text{ csc } 0,01110$
$2s = 181^\circ 52,0'$	$c = 49^\circ 18,0'$	$l \text{ csc } 0,12025$
$s = 90^\circ 56,0'$	$A = 55^\circ 14,5'$	$l \text{ ssv } 9,33233$

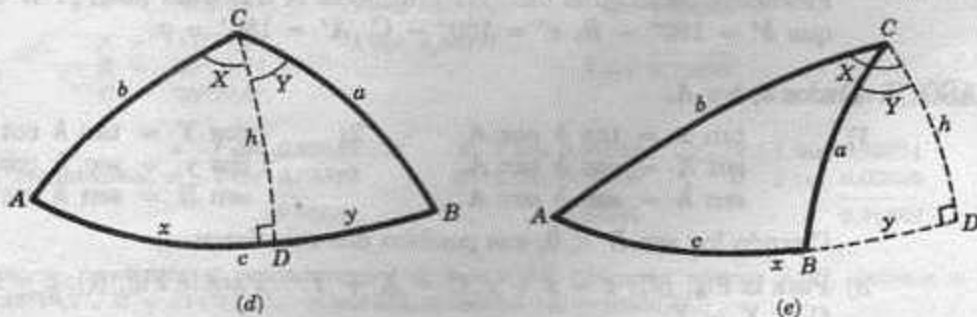
Cuando se utilizan las fórmulas 2) son necesarios los valores naturales de los semisenversos y los valores de sus correspondientes logaritmos.

**EJEMPLO 2.** Utilícese  $\text{ssv } a = \text{ssv}(b - c) + \text{sen } b \text{ sen } c \text{ ssv } A$  para encontrar  $a$  cuando  $b = 132^\circ 46,7'$ ,  $c = 59^\circ 50,1'$  y  $A = 56^\circ 28,4'$ .

Por conveniencia, tórnese  $x = \text{sen } b \text{ sen } c \text{ ssv } A$  de modo que la fórmula anterior se transforme en  $\text{ssv } a = \text{ssv}(b - c) + x$ .

$x = \text{sen } b \text{ sen } c \text{ ssv } A$	$\text{ssv } a = \text{ssv}(b - c) + x$
$b = 132^\circ 46,7'$ $l \text{ sen } 9,86569$	$b - c = 72^\circ 56,6'$ $\text{ssv } 0,35334$
$c = 59^\circ 50,1'$ $l \text{ sen } 9,93681$	$x$ $0,14205$
$A = 56^\circ 28,4'$ $l \text{ ssv } 9,34993$	$a = 89^\circ 28,3'$ $\text{ssv } 0,49539$
$x = 0,14205$ $\log 9,15243$	

**METODO DEL TRIANGULO RECTANGULO.** Este método de resolución de triángulos esféricos oblicuángulos consiste en la aplicación de las reglas de Neper a cada uno de los dos triángulos esféricos rectángulos que se forman cuando, por uno de los vértices de un triángulo esférico oblicuángulo dado, se traza una circunferencia máxima perpendicular al lado opuesto. Como este lado es un arco de circunferencia máxima, la perpendicular trazada corta a esta circunferencia máxima en dos puntos. Puesto que los lados de un triángulo esférico oblicuángulo son arcos menores que  $180^\circ$ , puede suceder que ambos puntos se encuentren fuera del triángulo o que sólo uno de ellos pertenezca al triángulo. Las Fig. (d) y (e) ilustran estas dos posibilidades. En el primer caso, el punto de intersección  $D$  pertenece al triángulo, y se determinan los triángulos rectángulos  $ACD$  y  $BCD$ ; en el segundo caso, ninguno de los puntos de intersección pertenece al triángulo y cualquiera de ellos puede ser  $D$ . En la Fig. (e), la primera intersección que se encuentra en el sentido de  $A$  hacia  $B$  se ha denominado  $D$  y los triángulos formados son, nuevamente  $ACD$  y  $BCD$ .



Para conveniencia del lector se ofrecen a continuación las fórmulas necesarias para la resolución de los seis casos de triángulos oblicuángulos. En el problema 6 se encuentra la deducción de las fórmulas correspondientes al caso I. Obsérvese que las fórmulas requeridas en los casos III y V no son sino las fórmulas necesarias para resolver completamente los dos triángulos rectángulos.

#### CASO I. Dados $a$ , $b$ y $c$ .

$$1) \quad \tan \frac{1}{2}(b+a) \tan \frac{1}{2}(b-a) = \tan \frac{1}{2}(x+y) \tan \frac{1}{2}(x-y)$$

En la Fig. (d),  $\frac{1}{2}(x+y) = \frac{1}{2}c$  y hay que determinar  $\frac{1}{2}(x-y)$ ;

en la Fig. (e),  $\frac{1}{2}(x-y) = \frac{1}{2}c$  y hay que determinar  $\frac{1}{2}(x+y)$ .

$$2) \quad x = \frac{1}{2}(x+y) + \frac{1}{2}(x-y), \quad y = \frac{1}{2}(x+y) - \frac{1}{2}(x-y)$$

$$3) \quad \begin{array}{ll} \cos A = \tan x \cot b & \text{sen } X = \text{sen } x \csc b \\ \cos B = \tan y \cot a & \text{sen } Y = \text{sen } y \csc a \end{array} \quad \text{para la Fig. (d)}$$

$$\begin{array}{ll} \cos A = \tan x \cot b & \text{sen } X = \text{sen } x \csc b \\ \cos(180^\circ - B) = \tan y \cot a & \text{sen } Y = \text{sen } y \csc a \end{array} \quad \text{para la Fig. (e)}$$

$$4) \quad C = X + Y \text{ para la Fig. (d), } \quad C = X - Y \text{ para la Fig. (e)}$$

5) Comprobación: Utilícese la ley de los senos o trácese una perpendicular por  $A$  o por  $B$ .

#### CASO II. Dados $A$ , $B$ y $C$ .

Procédase como en el caso I y utilícese el triángulo polar  $A'B'C'$  en el que  $a' = 180^\circ - A$ ,  $b' = 180^\circ - B$ ,  $c' = 180^\circ - C$ .

#### CASO III. Dados $b$ , $c$ y $A$ .

$$1) \quad \begin{array}{l} \tan x = \tan b \cos A \\ \cot X = \cos b \tan A \\ \text{sen } h = \text{sen } b \text{ sen } A \end{array}$$

Para la Fig. (d)

Para la Fig. (e)

$$2) \quad y = c - x$$

$$y = x - c$$

$$3) \quad \cos a = \cos h \cos y$$

$$\cos a = \cos h \cos y$$

$$\cot Y = \text{sen } h \cot y$$

$$\cot Y = \text{sen } h \cot y$$

$$\cot B = \cot h \text{ sen } y$$

$$\cot(180^\circ - B) = \cot h \text{ sen } y$$

$$4) \quad C = X + Y$$

$$C = X - Y$$

5) Comprobación: Aplíquese la correspondiente fórmula de comprobación a cada uno de los triángulos rectángulos.

#### CASO IV. Dados $B$ , $C$ y $a$ .

Procédase como en el caso III y utilícese el triángulo polar  $A'B'C'$  en el que  $b' = 180^\circ - B$ ,  $c' = 180^\circ - C$ ,  $A' = 180^\circ - a$ .

#### CASO V. Dados $a$ , $b$ y $A$ .

$$1) \quad \begin{array}{l} \tan x = \tan b \cos A \\ \cot X = \cos b \tan A \\ \text{sen } h = \text{sen } b \text{ sen } A \end{array}$$

$$2) \quad \begin{array}{l} \cos Y = \tan h \cot a \\ \cos y = \sec h \cos a \\ \text{sen } B = \text{sen } h \csc a \end{array}$$

Cuando  $\log \text{sen } B < 0$ , son posibles dos soluciones.

3) Para la Fig. (d):  $c = x + y$ ,  $C = X + Y$ . Para la Fig. (e):  $c = x - y$ ,  $C = X - Y$ .

CASO VI. Dados  $A, B$  y  $a$ .

Procédase como en el caso V y utilícase el triángulo polar  $A'B'C'$  en el que  $a' = 180^\circ - A, b' = 180^\circ - B, A' = 180^\circ - a$ .

PROBLEMAS RESUELTOS

1. Demostrar: a)  $\text{ssv } 0^\circ = 0, b) \text{ssv } 180^\circ = 1, c) \text{ssv } (-\theta) = \text{ssv } \theta, d) \cos \theta = 1 - 2 \text{ssv } \theta.$

a)  $\text{ssv } 0^\circ = \frac{1}{2}(1 - \cos 0^\circ) = \frac{1}{2}(1 - 1) = 0$   
 b)  $\text{ssv } 180^\circ = \frac{1}{2}(1 - \cos 180^\circ) = \frac{1}{2}[1 - (-1)] = 1$   
 c)  $\text{ssv } (-\theta) = \frac{1}{2}[1 - \cos(-\theta)] = \frac{1}{2}(1 - \cos \theta) = \text{ssv } \theta$   
 d) Puesto que  $2 \text{ssv } \theta = 1 - \cos \theta = 1 - 2 \text{ssv } \theta.$

2. Demostrar:  $\text{ssv } A = \frac{\text{sen}(s-b) \text{sen}(s-c) \text{csc } b \text{csc } c}{\text{sen } b \text{sen } c}.$

Según el problema 6 del capítulo 21,  $\frac{1}{2}A = \frac{\sqrt{\text{sen}(s-b) \text{sen}(s-c)}}{\text{sen } b \text{sen } c}.$  Entonces

$\text{ssv } A = \frac{1}{2}(1 - \cos A) = \text{sen}^2 \frac{1}{2}A = \frac{\text{sen}(s-b) \text{sen}(s-c)}{\text{sen } b \text{sen } c} = \frac{\text{sen}(s-b) \text{sen}(s-c) \text{csc } b \text{csc } c}{\text{sen } b \text{sen } c}.$

3. Demostrar:  $\text{ssv } a = \text{ssv}(b-c) + \text{sen } b \text{sen } c \text{ssv } A.$

Utilizando la ley de los cosenos  $\cos a = \cos b \cos c + \text{sen } b \text{sen } c \cos A,$

$\text{ssv } a = \frac{1}{2}(1 - \cos a) = \frac{1}{2}(1 - \cos b \cos c - \text{sen } b \text{sen } c \cos A)$   
 $= \frac{1}{2}[1 - \cos b \cos c - \text{sen } b \text{sen } c (1 - 2 \text{ssv } A)]$   
 $= \frac{1}{2}[1 - (\cos b \cos c + \text{sen } b \text{sen } c) + 2 \text{sen } b \text{sen } c \text{ssv } A]$   
 $= \frac{1}{2}[1 - \cos(b-c) + 2 \text{sen } b \text{sen } c \text{ssv } A]$   
 $= \frac{1}{2}[2 \text{ssv}(b-c) + 2 \text{sen } b \text{sen } c \text{ssv } A] = \text{ssv}(b-c) + \text{sen } b \text{sen } c \text{ssv } A.$

4. Resolver, mediante semisenovero, el triángulo esférico  $ABC,$  dados  $a = 121^\circ 15,4', b = 104^\circ 54,7', c = 65^\circ 42,5'.$  (Caso I, problema 8, capítulo 21.)

Para A:  $\text{ssv } A = \frac{\text{sen}(s-b) \text{sen}(s-c) \text{csc } b \text{csc } c}{\text{sen } b \text{sen } c}$

Para B:  $\text{ssv } B = \frac{\text{sen}(s-c) \text{sen}(s-a) \text{csc } c \text{csc } a}{\text{sen } c \text{sen } a}$

Para C:  $\text{ssv } C = \frac{\text{sen}(s-a) \text{sen}(s-b) \text{csc } a \text{csc } b}{\text{sen } a \text{sen } b}$

Comprobación:  $\frac{\text{sen } a}{\text{sen } A} = \frac{\text{sen } b}{\text{sen } B} = \frac{\text{sen } c}{\text{sen } C}$

$s = \frac{1}{2}(a + b + c) = 145^\circ 56,3'$

	(A)	(B)	(C)
$a = 121^\circ 15,4'$		l csc 0,06811	l csc 0,06811
$b = 104^\circ 54,7'$	l csc 0,01488		l csc 0,01488
$c = 65^\circ 42,5'$	l csc 0,04026	l csc 0,04026	
$s-a = 24^\circ 40,9'$		l sen 9,62073	l sen 9,62073
$s-b = 41^\circ 1,6'$	l sen 9,81717		l sen 9,81717
$s-c = 80^\circ 13,8'$	l sen 9,99366	l sen 9,99366	
$A = 117^\circ 57,9'$	l ssv 9,86597		
$B = 93^\circ 13,7'$		l ssv 9,72276	
$C = 70^\circ 20,6'$			l ssv 9,52089

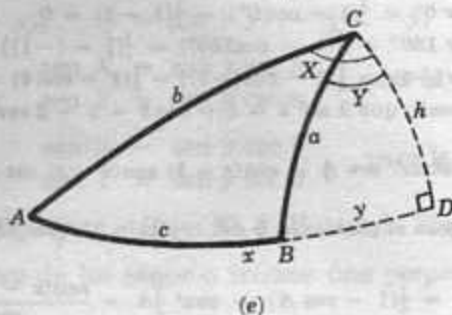
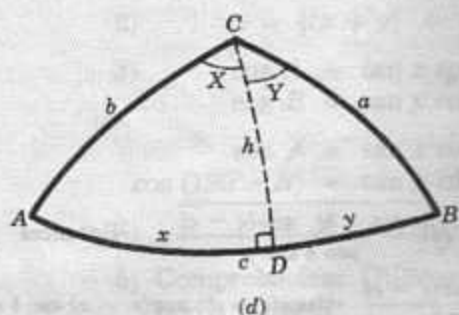
	$a$ l sen 9,93189	$b$ l sen 9,98512	$c$ l sen 9,95974
Comprobación: A	l csc 0,05392	B l csc 0,00069	C l csc 0,02608
	9,98581	9,98581	9,98582

5. Encontrar, mediante el semisenovero, el lado  $b$  del triángulo esférico  $ABC,$  dados  $a = 106^\circ 25,3', c = 42^\circ 16,7', B = 114^\circ 53,2'.$  (Caso III, problema 10, capítulo 21.)



$$\begin{aligned} \text{ssv } b &= \text{ssv}(a - c) + \text{sen } a \text{ sen } c \text{ ssv } B = \text{ssv}(a - c) + x \\ a &= 106^{\circ}25,3' & \text{l sen } 9,98191 \\ c &= 42^{\circ}16,7' & \text{l sen } 9,82784 \\ B &= 114^{\circ}53,2' & \text{l ssv } 9,85151 \\ x &= 0,45842 & \text{log } 9,66126 & 0,45842 \\ a - c &= 64^{\circ} 8,6' & & \text{ssv } 0,28194 \\ b &= 118^{\circ}43,9' & & \text{ssv } 0,74036 \end{aligned}$$

6. Deducir las fórmulas que se utilizan cuando se resuelve el caso I mediante el método del triángulo rectángulo.



La Fig. (d) ilustra el caso en que la perpendicular trazada por C corta al lado opuesto en un punto perteneciente al triángulo, y la Fig. (e) ilustra el caso en que la perpendicular corta la prolongación del lado opuesto.

En ambas figuras,  $\cos b = \cos h \cos x$  y  $\cos a = \cos h \cos y$ .

Entonces,  $\frac{\cos b}{\cos a} = \frac{\cos x}{\cos y}$ ,  $\frac{\cos b}{\cos a} \pm 1 = \frac{\cos x}{\cos y} \pm 1$ ,

$$\frac{\cos b + \cos a}{\cos a} = \frac{\cos x + \cos y}{\cos y}, \quad \frac{\cos b - \cos a}{\cos a} = \frac{\cos x - \cos y}{\cos y}$$

$$y \quad \frac{\cos b - \cos a}{\cos b + \cos a} = \frac{\cos x - \cos y}{\cos x + \cos y}$$

Conforme a las fórmulas del capítulo 12, estas fórmulas se transforman en

$$\frac{2 \operatorname{sen} \frac{1}{2}(b + a) \operatorname{sen} \frac{1}{2}(b - a)}{2 \cos \frac{1}{2}(b + a) \cos \frac{1}{2}(b - a)} = \frac{2 \operatorname{sen} \frac{1}{2}(x + y) \operatorname{sen} \frac{1}{2}(x - y)}{2 \cos \frac{1}{2}(x + y) \cos \frac{1}{2}(x - y)}$$

$$\text{o} \quad (A) \quad \tan \frac{1}{2}(b + a) \tan \frac{1}{2}(b - a) = \tan \frac{1}{2}(x + y) \tan \frac{1}{2}(x - y).$$

Para el caso ilustrado en la Fig. (d),  $\frac{1}{2}(x + y) = \frac{1}{2}c$ ; para el caso ilustrado en la Fig. (e),  $\frac{1}{2}(x - y) = \frac{1}{2}c$ . Una vez obtenidos  $\frac{1}{2}(x - y)$  ó  $\frac{1}{2}(x + y)$  mediante (A),

$$x = \frac{1}{2}(x + y) + \frac{1}{2}(x - y) \quad \text{y} \quad y = \frac{1}{2}(x + y) - \frac{1}{2}(x - y).$$

Entonces, en la Fig. (d),

$$\begin{aligned} \cos A &= \tan x \cot b, \quad \text{sen } X = \text{sen } x \csc b \quad (\text{triángulo } ACD) \\ \cos B &= \tan y \cot a, \quad \text{sen } Y = \text{sen } y \csc a \quad (\text{triángulo } BCD) \\ C &= X + Y \end{aligned}$$

y, en la Fig. (e),

$$\begin{aligned} \cos A &= \tan x \cot b, \quad \text{sen } X = \text{sen } x \csc b \quad (\text{triángulo } ACD) \\ \cos(180^{\circ} - B) &= \tan y \cot a, \quad \text{sen } Y = \text{sen } y \csc a \quad (\text{triángulo } BCD) \\ C &= X - Y. \end{aligned}$$

CASO I.

7. Resolver el triángulo esférico  $ABC$ , dados  $a = 121^{\circ}15,4'$ ,  $b = 104^{\circ}54,7'$ ,  $c = 65^{\circ}42,5'$ . (Problema 8, capítulo 21.)

$$\frac{1}{2}(x + y) = \frac{1}{2}c = 32^{\circ}51,2'$$

$$(1) \tan \frac{1}{2}(x - y) = \tan \frac{1}{2}(b + a) \tan \frac{1}{2}(b - a) \cot \frac{1}{2}(x + y)$$

Triángulo  $ACD$

Triángulo  $BCD$

$$(2) \cos A = \tan x \cot b$$

$$(4) \cos B = \tan y \cot a$$

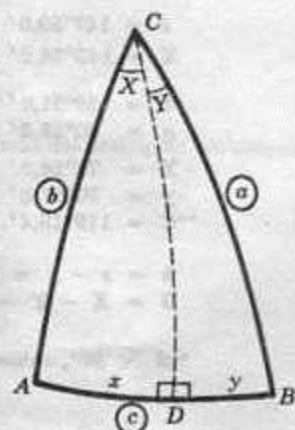
$$(3) \sin X = \sin x \csc b$$

$$(5) \sin Y = \sin y \csc a$$

$$C = X + Y$$

(1)

$\frac{1}{2}(b + a) = 113^{\circ} 5,0'$	$l \tan 0,37039 (n)$
$\frac{1}{2}(b - a) = -8^{\circ}10,4'$	$l \tan 9,15724 (n)$
$\frac{1}{2}(x + y) = 32^{\circ}51,2'$	$l \cot 0,18992$
$\frac{1}{2}(x - y) = 27^{\circ}33,5'$	$l \tan 9,71755$
$x = 60^{\circ}24,7'$	
$y = 5^{\circ}17,7'$	



(2)

(3)

$x = 60^{\circ}24,7'$	$l \tan 0,24580$	$l \sin 9,93932$
$b = 104^{\circ}54,7'$	$l \cot 9,42537 (n)$	$l \csc 0,01488$
$A = 117^{\circ}58,2'$	$l \cos 9,67117 (n)$	$l \sin 9,95420$
$X = 64^{\circ} 8,8'$		

(4)

(5)

$y = 5^{\circ}17,7'$	$l \tan 8,96698$	$l \sin 8,96512$
$a = 121^{\circ}15,4'$	$l \cot 9,78317 (n)$	$l \csc 0,06811$
$B = 93^{\circ}13,5'$	$l \cos 8,75015 (n)$	$l \sin 9,03323$
$Y = 6^{\circ}11,8'$		

$$C = X + Y = 70^{\circ}20,6'$$

CASO III.

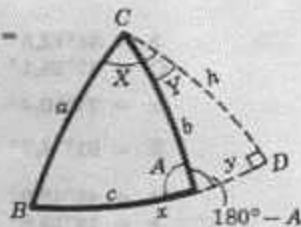
8. Resolver el triángulo esférico  $ABC$ , dados  $a = 106^{\circ}25,3'$ ,  $c = 42^{\circ}16,7'$ ,  $B = 114^{\circ}53,2'$ . (Problema 10, capítulo 21.)

Triángulo  $BCD$

$$\begin{aligned} \tan x &= \tan a \cos B \\ \cot X &= \cos a \tan B \\ \sin h &= \sin a \sin B \\ y &= x - c \end{aligned}$$

Triángulo  $ACD$

$$\begin{aligned} \cos b &= \cos h \cos y \\ \cot Y &= \sin h \cot y \\ \cot(180^{\circ} - A) &= \cot h \sin y \\ C &= X - Y \end{aligned}$$



$a = 106^{\circ}25,3'$	$l \tan 0,53058 (n)$	$l \cos 9,45133 (n)$	$l \sin 9,98191$
$B = 114^{\circ}53,2'$	$l \cos 9,62410 (n)$	$l \tan 0,33357 (n)$	$l \sin 9,95768$
$x = 54^{\circ}59,7'$	$l \tan 0,15468$		
$X = 58^{\circ}38,5'$		$l \cot 9,78490$	
$*h = 119^{\circ}31,5'$	$l \cos 9,69268 (n)$	$l \cot 9,75308 (n)$	$l \sin 9,93959$
$y = 12^{\circ}43,0'$	$l \cos 9,98921$	$l \sin 9,34268$	$l \cot 0,64653$
$b = 118^{\circ}44,0'$	$l \cos 9,68189 (n)$		
$180^{\circ} - A = 97^{\circ} 6,4'$		$l \cot 9,09576 (n)$	
$A = 82^{\circ}53,6'$			
$Y = 14^{\circ}32,3'$			$l \cot 0,58612$

$$C = X - Y = 44^{\circ}6,2'$$

\*  $a > 90^{\circ}$ ,  $x < 90^{\circ}$ ; entonces  $h > 90^{\circ}$  (véase la ley de los cuadrantes, capítulo 20).

## CASO V.

9. Resolver el triángulo esférico  $ABC$ , dados  $a = 80^{\circ}26,2'$ ,  $c = 115^{\circ}30,6'$ ,  $A = 72^{\circ}24,4'$ . (Problema 13, capítulo 21.)

Triángulo  $ABD$ 

$$\tan x = \tan c \cos A$$

$$\cot X = \cos c \tan A$$

$$\text{sen } h = \text{sen } c \text{ sen } A$$

$$b = x - y$$

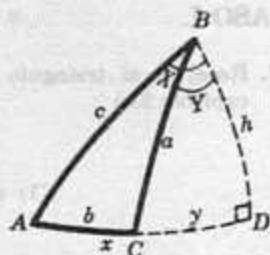
Triángulo  $BCD$ 

$$\cos Y = \tan h \cot a$$

$$\cos y = \sec h \cos a$$

$$\text{sen } C = \text{sen } h \csc a$$

$$B = X - Y$$



$c = 115^{\circ}30,6'$	$l \tan 0,32131 (n)$	$l \cos 9,63414 (n)$	$l \text{sen } 9,95545$
$A = 72^{\circ}24,4'$	$l \cos 9,48038$	$l \tan 0,49882$	$l \text{sen } 9,97920$
$x = 147^{\circ}39,0'$	$l \tan 9,80169 (n)$		
$X = 143^{\circ}38,2'$		$l \cot 0,13296 (n)$	
$^*h = 59^{\circ}21,0'$	$l \tan 0,22726$	$l \sec 0,29261$	$l \text{sen } 9,93465$
$a = 80^{\circ}26,2'$	$l \cot 9,22655$	$l \cos 9,22047$	$l \csc 0,00608$
$Y = 73^{\circ}28,9'$	$l \cos 9,45381$		
$y = 70^{\circ}58,8'$		$l \cos 9,51308$	
$^{**}C = 119^{\circ}15,4'$			$l \text{sen } 9,94073$

$$b = x - y = 76^{\circ}40,2'$$

$$B = X - Y = 70^{\circ}9,3'$$

$^*A < 90^{\circ}$ , entonces  $h < 90^{\circ}$ .  $^{**}c > a$ , entonces  $C > A$ ; existe una solución.

10. Resolver el triángulo esférico  $ABC$ , dados  $b = 81^{\circ}42,3'$ ,  $c = 52^{\circ}19,8'$ ,  $C = 47^{\circ}25,1'$ .

Triángulo  $ACD$ 

$$\tan x = \tan b \cos C$$

$$\cot X = \cos b \tan C$$

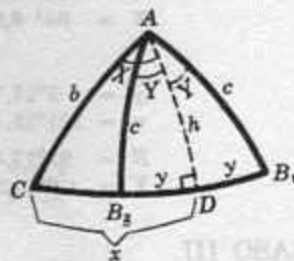
$$\text{sen } h = \text{sen } b \text{ sen } C$$

Triángulo  $ABD$ 

$$\cos Y = \tan h \cot c$$

$$\cos y = \sec h \cos c$$

$$\text{sen } B = \text{sen } h \csc c$$



$b = 81^{\circ}42,3'$	$l \tan 0,83626$	$l \cos 9,15918$	$l \text{sen } 9,99544$
$C = 47^{\circ}25,1'$	$l \cos 9,83036$	$l \tan 0,03670$	$l \text{sen } 9,86706$
$x = 77^{\circ}50,4'$	$l \tan 0,66662$		
$X = 81^{\circ}4,7'$		$l \cot 9,19588$	
$^*h = 46^{\circ}46,2'$	$l \tan 0,02685$	$l \sec 0,16436$	$l \text{sen } 9,86250$
$c = 52^{\circ}19,8'$	$l \cot 9,88764$	$l \cos 9,78612$	$l \csc 0,10153$
$Y = 34^{\circ}47,2'$	$l \cos 9,91449$		
$y = 26^{\circ}50,7'$		$l \cos 9,95048$	
$^{**}B = 67^{\circ}0,0'$			$l \text{sen } 9,96403$

$^*C < 90^{\circ}$ , entonces  $h < 90^{\circ}$ .  $^{**}h < 90^{\circ}$ , entonces  $B < 90^{\circ}$ .

Existen dos soluciones,  $ACB_1$  y  $ACB_2$ , como se muestra en la figura. Las partes buscadas son:

Triángulo  $ACB_1$ ,  $B_1 = 67^{\circ}0,0'$ ,  $a_1 = x + y = 104^{\circ}41,1'$ ,  $A_1 = X + Y = 115^{\circ}51,9'$ .

Triángulo  $ACB_2$ ,  $B_2 = 180^{\circ} - B_1 = 113^{\circ}0,0'$ ,  $a_2 = x - y = 50^{\circ}59,7'$ ,  $A_2 = X - Y = 46^{\circ}17,5'$ .

PROBLEMAS PROPUESTOS

Resolver mediante la aplicación del semisenverso.

- 11.  $a = 69^{\circ}23,6'$ ,  $b = 57^{\circ}51,3'$ ,  $c = 39^{\circ}39,7'$ . Resp.  $A = 96^{\circ}7,2'$ ,  $B = 64^{\circ}4,9'$ ,  $C = 42^{\circ}41,2'$
- 12.  $a = 59^{\circ}9,4'$ ,  $b = 101^{\circ}53,9'$ ,  $c = 98^{\circ}47,7'$ . Resp.  $A = 60^{\circ}9,7'$ ,  $B = 98^{\circ}39,7'$ ,  $C = 93^{\circ}13,2'$
- 13.  $A = 51^{\circ}44,4'$ ,  $B = 59^{\circ}31,8'$ ,  $C = 76^{\circ}20,2'$ . Resp.  $a = 28^{\circ}4,0'$ ,  $b = 31^{\circ}6,0'$ ,  $c = 35^{\circ}36,5'$
- 14.  $A = 134^{\circ}35,4'$ ,  $B = 108^{\circ}13,6'$ ,  $C = 79^{\circ}57,0'$ . Resp.  $a = 143^{\circ}59,9'$ ,  $b = 128^{\circ}22,3'$ ,  $c = 54^{\circ}22,2'$

Utilizar el semisenverso para encontrar el elemento pedido.

- 15.  $a = 103^{\circ}44,7'$ ,  $b = 64^{\circ}12,3'$ ,  $C = 98^{\circ}33,8'$ ; encontrar  $c = 103^{\circ}30,6'$ .
- 16.  $b = 156^{\circ}12,2'$ ,  $c = 112^{\circ}48,6'$ ,  $A = 76^{\circ}32,4'$ ; encontrar  $a = 63^{\circ}48,8'$ .
- 17.  $a = 67^{\circ}28,4'$ ,  $b = 34^{\circ}15,2'$ ,  $C = 24^{\circ}12,6'$ ; encontrar  $c = 37^{\circ}44,1'$ .

18. Resolver los problemas suplementarios 16-33, capítulo 21, mediante el método del triángulo rectángulo.



## CAPITULO 23

### Rumbo y distancia

DOS SON LOS PROBLEMAS DE NAVEGACION que se tratarán en este capítulo:

- a) Cuando se conocen la posición del punto de partida, el rumbo seguido y la distancia recorrida en determinado tiempo, encontrar la posición del punto de llegada.
- b) Cuando se conocen las posiciones de los puntos de partida y de llegada, encontrar la distancia entre los dos puntos y el rumbo necesario para ir de uno a otro.

(En este capítulo, la palabra "milla" significará milla náutica.)

#### NAVEGACION A LO LARGO DE UN PARALELO.

Supóngase que un barco navega  $p$  millas directamente hacia el este o directamente hacia el oeste (hacia el oeste en la figura adjunta) desde una posición conocida  $D$  hasta  $B$ . Como el viaje se realiza a lo largo de un paralelo de latitud, la latitud de  $B$  es la misma del punto  $D$ . Así, el problema a) se reduce a encontrar la longitud de  $B$ .

La *diferencia de longitud* entre  $B$  y  $D$  ( $DLo$ ) se mide mediante el arco  $FG$  determinado en el ecuador por los meridianos que pasan por  $D$  y  $B$ . La distancia recorrida al navegar desde  $D$  hasta  $B$  (esto es, la longitud en millas del arco  $DB$ ) recibe el nombre de "*departure*" ( $p$ ) de  $B$  hacia  $D$ . La diferencia de longitud se denomina este u oeste según que la "*departure*" sea hacia el este o hacia el oeste.

Para encontrar la longitud de  $B$  es necesario convertir  $p$  millas en minutos. (Obsérvese que la "*departure*" se mide, en este caso, a lo largo de una circunferencia menor; entonces, no es válida la relación 1 milla = 1 minuto.) En la figura, únense  $D$  y  $B$  con el centro  $C$  de la circunferencia menor (paralelo de latitud), únense  $D$ ,  $F$  y  $G$  con el centro  $O$  de la Tierra y trácese  $DH$  perpendicular a  $OF$ . Llámese  $L$  a  $\angle FOD$ , que mide la latitud de  $D$ . Como  $\angle FOG = \angle DCB$ , los arcos  $FG$  y  $DB$  son proporcionales a sus radios; por tanto,

$$\frac{\text{arc } FG}{\text{arc } DB} = \frac{OF}{CD} = \frac{OD}{OH} = \sec L, \quad \text{arc } FG = (\text{arc } DB) \sec L, \quad \text{o } DLo = p \sec L.$$

Así,

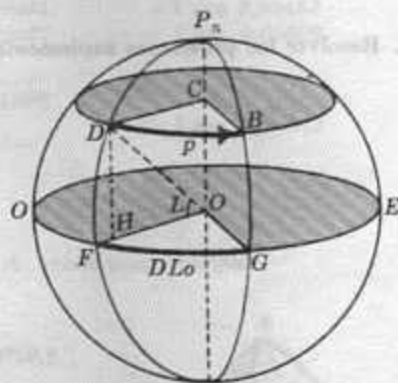
diferencia de longitud (minutos) = "*departure*" (millas)  $\times$  secante de la latitud.

**EJEMPLO 1.** Un barco navega 55 millas hacia el este en la latitud  $44^{\circ}30'$  N. Encontrar el cambio de longitud.

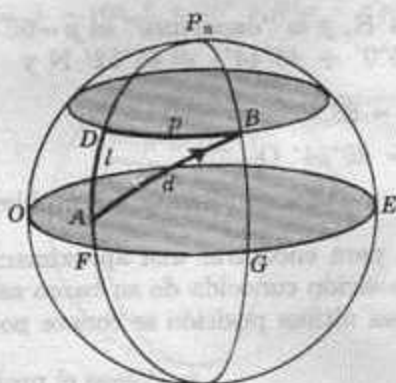
En relación con la figura anterior, la "*departure*" es  $p = 55$  millas E y  $L = 44^{\circ}30'$ .

Entonces,  $DLo = 55 \sec 44^{\circ}30' = 77,1$  millas E =  $77,1'$  E ó  $1^{\circ}17,1'$  E.

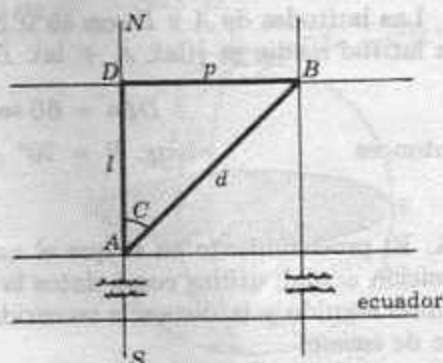
(Véanse, además, los problemas 1 y 2.)



**NAVEGACION EN UN PLANO.** Supóngase que un barco navega, a lo largo de una circunferencia máxima, una distancia de  $d$  millas desde  $A$  hasta  $B$ , como en la Fig. (a). Trácese por  $B$  el paralelo que corta en  $D$  al meridiano que pasa por  $A$ . Sean  $F$  y  $G$  los puntos donde los meridianos que pasan por  $A$  y  $B$  cortan el ecuador. Entonces,  $l = \text{arc } AD$  es el *cambio de latitud* y  $P = \text{arc } DB$  es la "departure".



(a)



(b)

Cuando las distancias relacionadas son relativamente pequeñas, se suele considerar la superficie de la Tierra como un plano, para poder aprovechar las fórmulas de la trigonometría plana que son más sencillas. Ahora se supondrá que todas las distancias son menores de 200 millas y que se está trabajando sobre un plano.

En este plano, el ecuador y los paralelos de latitud se representan mediante rectas horizontales, mientras que los meridianos, que son perpendiculares al ecuador, se representan mediante rectas paralelas verticales. En la Fig. (b),  $NAS$  es el meridiano que pasa por  $A$ , y  $DB$  es una parte del paralelo de latitud que pasa por  $B$ . Entonces,  $d = AB$  es la distancia,  $p = DB$  es la "departure",  $l$  es el cambio de latitud y  $C$  es el ángulo del rumbo.

En el triángulo rectángulo  $ABD$ :  $l = d \cos C$ ,  $p = d \sin C$ ,  $\tan C = p/l$ .

El cambio de latitud se designa  $N$  o  $S$  según que  $B$  esté al norte o al sur de  $A$ . En la Fig. (b), el cambio de latitud es  $l$  millas  $N$  o  $l$  minutos  $N$ , la "departure" es  $p$  millas  $E$  y el rumbo es  $N C^\circ E$ .

**EJEMPLO 2.** Un barco navega una distancia de 120 millas con un rumbo de  $30^\circ$  (o  $N 30^\circ E$ ) desde  $A$  (latitud  $45^\circ 0' N$ , longitud  $70^\circ 0' O$ ) hasta  $B$ . Encontrar la "departure" y la latitud de  $B$ .

En el triángulo rectángulo  $ABD$  de la Fig. (b),

$$p = d \sin C = 120 \sin 30^\circ = 60 \text{ millas } E$$

$$l = d \cos C = 120 \cos 30^\circ = 103,9 \text{ millas } N.$$

El cambio de latitud es  $103,9' = 1^\circ 44'$  y la latitud de  $B$  es  $45^\circ 0' + 1^\circ 44' = 46^\circ 44' N$ .

(Véanse, además, los problemas 3-5.)

**NAVEGACION POR LATITUD MEDIA.** Cuando el triángulo  $ABD$  de la Fig. (a) se transforma en el triángulo  $ABD$  de la Fig. (b), se alarga el arco  $DB$ . Entonces, cuando la "departure"  $p = DB$  se utiliza en la fórmula  $DLo = p \sec L$  de la navegación a lo largo de un paralelo, el valor de  $DLo$  es muy grande. Se obtiene una mejor aproximación si se considera la "departure" correspondiente al paralelo de la latitud media de los paralelos de  $A$  y  $B$ ; esto es,

$$DLo = p \sec \frac{1}{2}(\text{lat. } A + \text{lat. } B).$$

Este método, que consiste en convertir la "departure" en diferencia de longitud, se llama *navegación por latitud media*. Sin embargo, no debe aplicarse cuando la latitud media excede los  $60^\circ$ .

**EJEMPLO 3.** Encontrar la longitud de  $B$  del ejemplo 2 mediante el método de la navegación por latitud media.

Las latitudes de  $A$  y  $B$  son  $45^\circ 0' N$  y  $46^\circ 44' N$ , y la "departure" es  $p = 60$  millas E. La latitud media es  $\frac{1}{2}(\text{lat. } A + \text{lat. } B) = \frac{1}{2}(45^\circ 0' + 46^\circ 44') = 45^\circ 52' N$

$$DLo = 60 \sec 45^\circ 52' = 86,2'$$

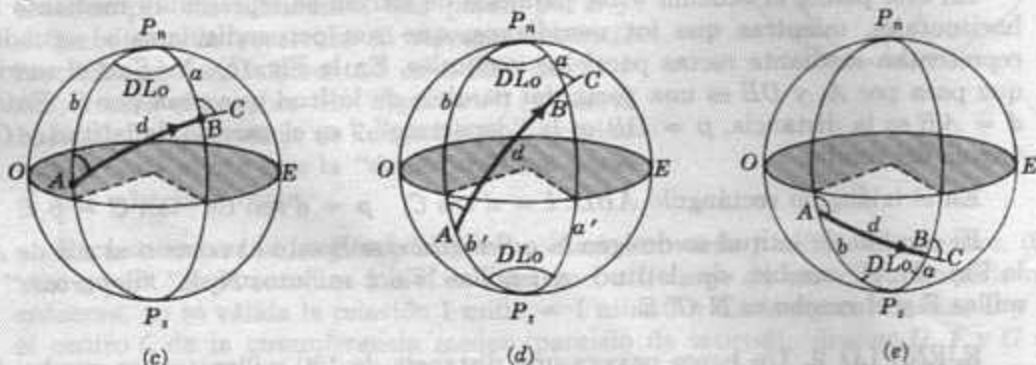
Entonces  $\text{long. } B = 70^\circ - 86,2' = 68^\circ 34' O$ .

(Véanse, además, los problemas 6-7.)

**ESTIMA.** El procedimiento en el que el navegante, para encontrar una aproximación de su posición actual, utiliza como datos la última posición conocida de su barco así como el rumbo seguido y la distancia recorrida desde esa última posición se conoce por el nombre de *estima*.

(Véase el problema 8.)

**NAVEGACION A LO LARGO DE UNA CIRCUNFERENCIA MAXIMA.** Al navegar a lo largo de una circunferencia máxima desde  $A$  hasta  $B$  (Fig. (c), (d), (e)), un barco recorre el menor de los arcos de la circunferencia máxima que pasa por  $A$  y  $B$ . Los problemas fundamentales de la navegación a lo largo de una circunferencia máxima son la determinación entre  $A$  y  $B$ , y la determinación de la dirección del recorrido en cualquiera de sus puntos.



Los problemas de la navegación a lo largo de una circunferencia máxima requieren la solución de un triángulo esférico (generalmente oblicuo) en el que uno de sus vértices es uno de los polos  $P_n$  o  $P_s$ . Si  $A$  y  $B$  se encuentran en el mismo hemisferio, se toma generalmente como vértice el polo de ese hemisferio; si  $A$  y  $B$  se encuentran en hemisferios diferentes, se puede tomar como vértice cualquiera de los dos polos. En la Fig. (c),  $A$  y  $B$  están en el hemisferio norte;  $b = \text{arc } AP_n = 90^\circ - \text{lat. } A = \text{colatitud } A$ ,  $a = \text{arc } BP_n = 90^\circ - \text{lat. } B = \text{colatitud } B$ , y  $DLo = \angle AP_n B$  igual a la diferencia de longitud entre  $A$  y  $B$ . En la Fig. (d),  $A$  está en el hemisferio sur y  $B$  está en el hemisferio norte. En el triángulo  $AP_n B$ ,  $b = \text{arc } AP_n = 90^\circ + \text{lat. } A$  y  $a = \text{arc } BP_n = 90^\circ - \text{lat. } B$  mientras que en el triángulo  $AP_s B$ ,  $b' = \text{arc } AP_s = 90^\circ - \text{lat. } A$  y  $a' = \text{arc } BP_s = 90^\circ + \text{lat. } B$ . En la Fig. (e),  $A$  y  $B$  se encuentran en el hemisferio sur. En el triángulo  $AP_s B$ ,  $b = \text{arc } AP_s = 90^\circ - \text{lat. } A$  y  $a = \text{arc } BP_s = 90^\circ - \text{lat. } B$ .

En cada una de las figuras,  $d = \text{arc } AB = \text{distancia a lo largo de la circunferencia máxima, entre } A \text{ y } B$ ,  $\angle P_n AB = \text{rumbo de salida}$  y  $\angle P_n BC = \text{rumbo de llegada}$ .

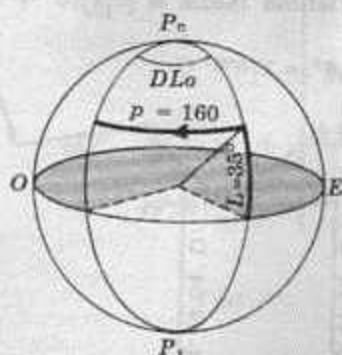
(Véanse los problemas 9-11.)

## PROBLEMAS RESUELTOS

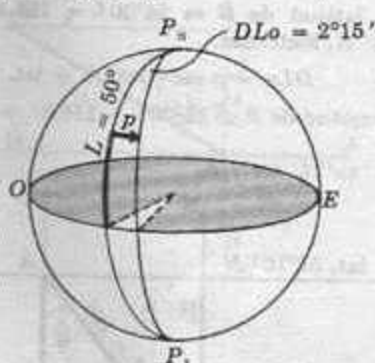
## NAVEGACION A LO LARGO DE UN PARALELO.

1. Un barco navega hacia el oeste una distancia de 160 millas en la latitud  $35^\circ$  N. Encontrar el cambio de longitud.

Aquí,  $p = 160$ ,  $L = 35^\circ$  y  $DLo = p \sec L = 160 \sec 35^\circ = 195,3' O$ .



Problema 1



Problema 2

2. Un barco cuya latitud es  $50^\circ$  N navega hacia el este hasta que alcanza una diferencia de longitud de  $2^\circ 15'$ . Encontrar la "departure".

Aquí,  $DLo = 2^\circ 15' = 135' E$ ,  $L = 50^\circ$  y, mediante  $DLo = p \sec L$ ,

$$p = DLo \cos L = 135 \cos 50^\circ = 86,8 \text{ millas E.}$$

## NAVEGACION EN UN PLANO.

3. Un barco navega 150 millas con un rumbo de  $245^\circ 10'$  (o  $S 65^\circ 10' O$ ) desde San Francisco (lat.  $37^\circ 50' N$ ). Encontrar la "departure" y la latitud alcanzada.

Sean  $A$  y  $B$  las posiciones inicial y final del barco. En el triángulo rectángulo  $ABD$ ,  $C = 65^\circ 10'$ ; entonces

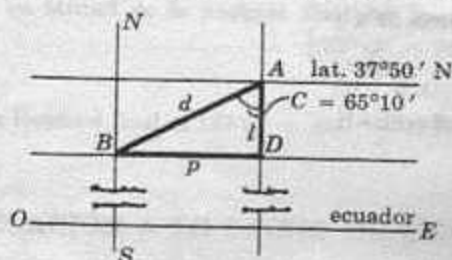
$$p = d \sin C = 150 \sin 65^\circ 10' = 136,1 \text{ millas O y}$$

$$l = d \cos C = 150 \cos 65^\circ 10' = 63,0' S.$$

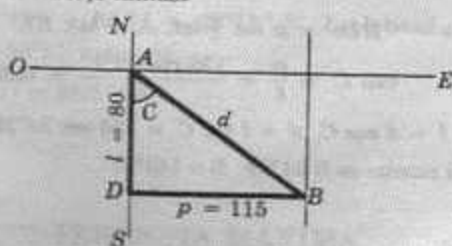
La latitud de  $B$  es  $37^\circ 50' - 63' = 36^\circ 47' N$ .

4. Un aeroplano vuela desde  $A$  hasta  $B$ . La consecuente diferencia de latitud es  $l = 80$  millas S, y la "departure" es 115 millas E. Encontrar el rumbo y la distancia.

En el triángulo rectángulo  $ABD$ :  $\tan C = p/l = 115/80 = 1,4375$ ,  $C = 55^\circ 11'$ , con lo que el rumbo es  $S 55^\circ 11' E$  o  $124^\circ 49'$ ;  $d = l \sec C = 80 \sec 55^\circ 11' = 140,1$  millas.



Problema 3



Problema 4

5. Un buque sigue un rumbo de  $160^\circ$  cuando navega desde  $A$  (lat.  $53^\circ 10' S$ ) hasta  $B$  (lat.  $55^\circ 40' S$ ). Encontrar la distancia y la "departure".

Aquí,  $l = 55^\circ 40' - 53^\circ 10' = 2^\circ 30' = 150$  millas,  $C = S 20^\circ E$ ; entonces

$$d = l \sec C = 150 \sec 20^\circ = 159,6 \text{ millas y}$$

$$p = l \tan C = 150 \tan 20^\circ = 54,6 \text{ millas E.}$$



## NAVEGACION POR LATITUD MEDIA.

6. Un buque que sale de A (lat.  $54^{\circ}10' N$ , long.  $156^{\circ}0' O$ ) y navega 165 millas con un rumbo de  $220^{\circ}$ . Encontrar la posición alcanzada B.

Aquí,  $C = S 40^{\circ} O$ ,  $d = 165$ ; entonces

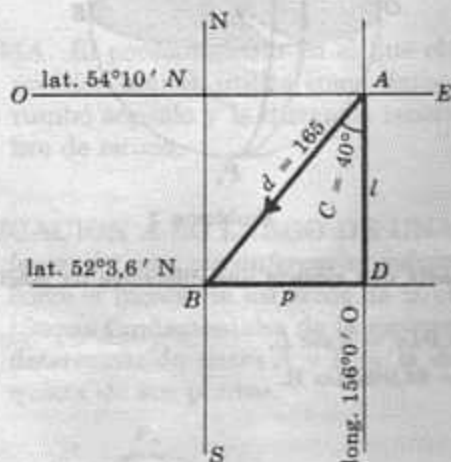
$$l = d \cos C = 165 \cos 40^{\circ} = 126,4' S \text{ y}$$

$$p = d \sin C = 165 \sin 40^{\circ} = 106,1 \text{ millas } O.$$

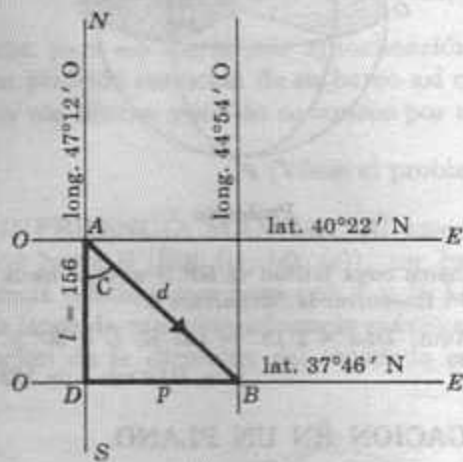
La latitud de B es  $54^{\circ}10' - 126,4' = 52^{\circ}3,6' N$ . La latitud media es  $\frac{1}{2}(54^{\circ}10' + 52^{\circ}3,6') = 53^{\circ}6,8' N$ . Entonces,

$$DLo = p \sec \frac{1}{2}(\text{lat. } A + \text{lat. } B) = 106,1 \sec 53^{\circ}6,8' = 176^{\circ}8' O$$

y la longitud de B es  $156^{\circ}0' + 176,8' = 158^{\circ}57' O$ .



Problema 6



Problema 7

7. Un barco parte de A (lat.  $40^{\circ}22' N$ , long.  $47^{\circ}12' O$ ) y llega a B (lat.  $37^{\circ}46' N$ , long.  $44^{\circ}54' O$ ). Encontrar, mediante navegación por latitud media, el rumbo y la distancia.

La diferencia de latitud es  $l = 40^{\circ}22' - 37^{\circ}46' = 2^{\circ}36' = 156' S$ .

La diferencia de longitud es  $DLo = 47^{\circ}12' - 44^{\circ}54' = 2^{\circ}18' = 138' E$ .

La latitud media es  $\frac{1}{2}(40^{\circ}22' + 37^{\circ}46') = 39^{\circ}4'$ .

De  $DLo = p \sec \frac{1}{2}(\text{lat. } A + \text{lat. } B)$ ,  $p = 138 \cos 39^{\circ}4'$ ;

$$\tan C = \frac{p}{l} = \frac{138 \cos 39^{\circ}4'}{156} = 0,6868 \text{ y } C = 34^{\circ}29'$$

y, de  $l = d \cos C$ ,  $d = l \sec C = 156 \sec 34^{\circ}29' = 189,3$  millas E.

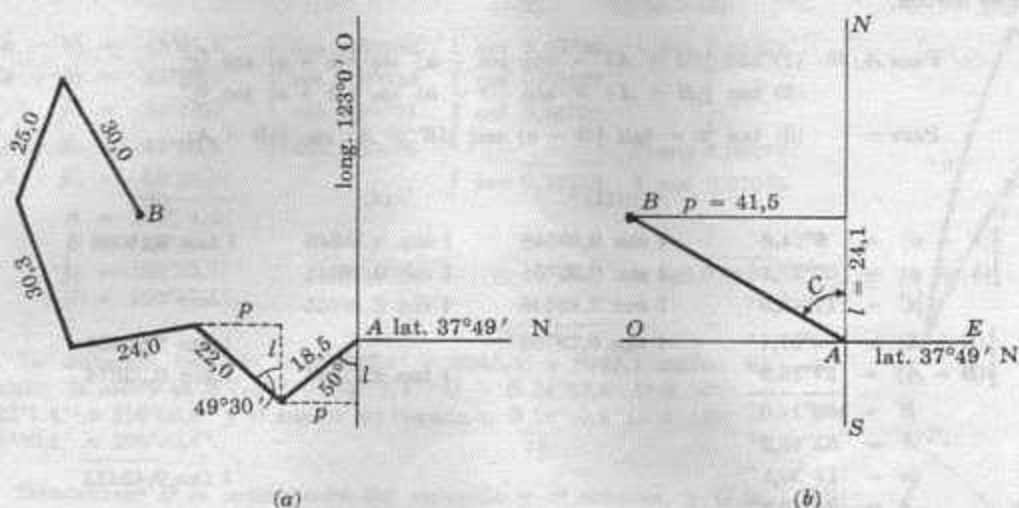
El rumbo es  $S 34^{\circ}29' E$  o  $145^{\circ}31'$ .

## ESTIMA.

8. Un barco parte de una posición A (lat.  $37^{\circ}49' N$ , long.  $123^{\circ}0' O$ ) y recorre las distancias siguientes con los rumbos indicados:

Rumbo	$230^{\circ}0'$	$310^{\circ}30'$	$260^{\circ}0'$	$340^{\circ}0'$	$20^{\circ}0'$	$150^{\circ}30'$
Distancia (millas)	18,5	22,0	24,0	30,3	25,0	30,0

Si la posición final del buque es B, encontrar la distancia entre A y B, el rumbo necesario para un viaje directo desde A hasta B, la latitud y la longitud de B.



En las dos primeras columnas de la tabla aparecen los datos. En las columnas encabezadas por CAMBIO DE LATITUD y "DEPARTURE" aparecen los resultados obtenidos de las fórmulas

$$l = d \cos C \quad \text{y} \quad p = d \sin C.$$

Por ejemplo,

primer rumbo:  $l = 18,5 \cos 50^\circ = 11,9' \text{ S}$  y  $p = 18,5 \sin 50^\circ = 14,2 \text{ mi O}$   
 segundo rumbo:  $l = 22,0 \cos 49^\circ 30' = 14,3' \text{ N}$  y  $p = 22,0 \sin 49^\circ 30' = 16,7 \text{ mi O}$ .

RUMBO	DISTANCIA	CAMBIO DE LATITUD	"DEPARTURE"
230°0'	18,5	11,9' S	14,2 O
310°30'	22,0	14,3' N	16,7 O
260°0'	24,0	4,2' S	23,6 O
340°0'	30,3	28,5' N	10,4 O
20°0'	25,0	23,5' N	8,6 E
150°30'	30,0	26,1' S	14,8 E
		Totales $\begin{cases} 66,3' \text{ N} \\ 42,2' \text{ S} \end{cases}$	Totales $\begin{cases} 64,9 \text{ O} \\ 23,4 \text{ E} \end{cases}$
		$l = 24,1' \text{ N}$	$p = 41,5 \text{ O}$

En la Fig. (b),  $\tan C = p/l = 41,5/24,1 = 1,7220$ ,  $C = 59^\circ 51'$  y el rumbo directo es  $300^\circ 9'$ .

La latitud de la posición final del buque es  $37^\circ 49' + 24,1' = 38^\circ 13' \text{ N}$ . La latitud media es  $\frac{1}{2}(37^\circ 49' + 38^\circ 13') = 38^\circ 1'$ ; entonces,

$$DLo = 41,5 \sec 38^\circ 1' = 52,7' \text{ O}$$

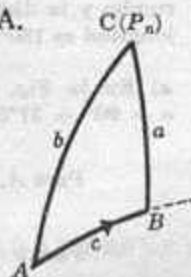
y la longitud final es  $123^\circ 0' + 52,7' = 123^\circ 53' \text{ O}$ .

## NAVEGACION A LO LARGO DE UNA CIRCUNFERENCIA MAXIMA.

9. Encontrar la distancia, el rumbo de salida y el rumbo de llegada correspondientes a un viaje desde Honolulu (lat.  $21^\circ 18,3' \text{ N}$ , long.  $157^\circ 52,3' \text{ O}$ ) hasta San Francisco (lat.  $37^\circ 47,5' \text{ N}$ , long.  $122^\circ 25,7' \text{ O}$ ).

En la figura, A es Honolulu y B es San Francisco.

Entonces,  $a = 90^\circ - 37^\circ 47,5' = 52^\circ 12,5'$ ,  $b = 90^\circ - 21^\circ 18,3' = 68^\circ 41,7'$  y  $C = 157^\circ 52,3' - 122^\circ 25,7' = 35^\circ 26,6'$ .



*Solución normal.*

$$\text{Para } A, B: (1) \tan \frac{1}{2}(B + A) = \cos \frac{1}{2}(b - a) \sec \frac{1}{2}(b + a) \cot \frac{1}{2}C$$

$$(2) \tan \frac{1}{2}(B - A) = \sin \frac{1}{2}(b - a) \csc \frac{1}{2}(b + a) \cot \frac{1}{2}C$$

$$\text{Para } c: (3) \tan \frac{1}{2}c = \tan \frac{1}{2}(b - a) \sin \frac{1}{2}(B + A) \csc \frac{1}{2}(B - A)$$

	(1)	(2)	(3)
$\frac{1}{2}(b - a) = 8^{\circ}14,6'$	l cos 9,99549	l sen 9,15648	l tan 9,16099
$\frac{1}{2}(b + a) = 60^{\circ}27,1'$	l sec 0,30701	l csc 0,06051	
$\frac{1}{2}C = 17^{\circ}43,3'$	l cot 0,49545	l cot 0,49545	
$\frac{1}{2}(B + A) = 80^{\circ}57,1'$	l tan 0,79795		l sen 9,99456
$\frac{1}{2}(B - A) = 27^{\circ}16,9'$		l tan 9,71244	l csc 0,33878
$B = 108^{\circ}14,0'$			
$A = 53^{\circ}40,2'$			
$\frac{1}{2}c = 17^{\circ}20,1'$			l tan 9,49433
$c = 34^{\circ}40,2'$			

La distancia buscada es  $34^{\circ}40,2' = 2080,2' = 2080,2$  millas. El rumbo de salida es N  $53^{\circ}40,2'$  E ó  $53^{\circ}40,2'$  y el rumbo de llegada es N  $(180^{\circ} - 108^{\circ}14,0')$  E = N  $71^{\circ}46,0'$  E ó  $71^{\circ}46,0'$ .

*Solución alterna.*

$$\text{ssv } c = \text{ssv}(b - a) + \text{sen } b \text{ sen } a \text{ ssv } C = \text{ssv}(b - a) + x$$

$$\text{ssv } A = \text{sen}(s - b) \text{ sen}(s - c) \text{ csc } b \text{ csc } c$$

$$\text{ssv } B = \text{sen}(s - c) \text{ sen}(s - a) \text{ csc } c \text{ csc } a$$

$b = 68^{\circ}41,7'$	l sen 9,96926		
$a = 52^{\circ}12,5'$	l sen 9,89776		
$C = 35^{\circ}26,6'$	l ssv 8,96687	$b - a = 16^{\circ}29,2'$	ssv 0,02056
$x = 0,06822$	log 8,83389		0,06822
$c = 34^{\circ}40,2'$			ssv 0,08878
$a = 52^{\circ}12,5'$	$s - a = 25^{\circ}34,7'$		l sen 9,63523
$b = 68^{\circ}41,7'$	$s - b = 9^{\circ} 5,5'$	l sen 9,19870	
$c = 34^{\circ}40,2'$	$s - c = 43^{\circ} 7,0'$	l sen 9,83473	l sen 9,83473
$2s = 155^{\circ}34,4'$	$a = 52^{\circ}12,5'$		l csc 0,10224
$s = 77^{\circ}47,2'$	$b = 68^{\circ}41,7'$	l csc 0,03074	
	$c = 34^{\circ}40,2'$	l csc 0,24500	l csc 0,24500
	$A = 53^{\circ}40,2'$	l ssv 9,30917	
	$B = 108^{\circ}14,0'$		l ssv 9,81720

La distancia buscada es 2080,2 millas. El rumbo de salida es  $53^{\circ}40,2'$  y el rumbo de llegada es  $71^{\circ}46,0'$ .

10. Un barco navega a lo largo de una circunferencia máxima desde Dutch Harbor (lat.  $53^{\circ}53,0'$  N, long.  $166^{\circ}35,0'$  O) hasta Melbourne (lat.  $37^{\circ}50,0'$  S, long.  $144^{\circ}59,0'$  E). (a) Encontrar la distancia, el rumbo de salida y el rumbo de llegada. (b) Localizar el punto donde el recorrido corta el ecuador. Encontrar el rumbo y la distancia desde este punto hasta Dutch Harbor. (c) Localizar el punto del recorrido cuya longitud es  $180^{\circ}$ . Encontrar el rumbo y la distancia desde este punto hasta Dutch Harbor.

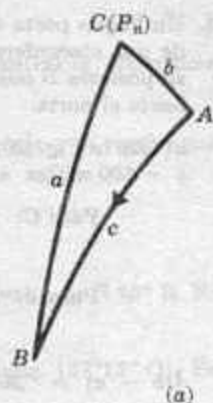
a) En la Fig. (a), A es Dutch Harbor y B es Melbourne. Entonces,  $b = 90^{\circ} - 53^{\circ}53,0' = 36^{\circ}7,0'$ ,  $a = 90^{\circ} + 37^{\circ}50,0' = 127^{\circ}50,0'$  y  $C = 360^{\circ} - (166^{\circ}35,0' + 144^{\circ}59,0') = 48^{\circ}26,0'$ .

$$\text{Para } A, B: (1) \tan \frac{1}{2}(A + B) = \cos \frac{1}{2}(a - b) \sec \frac{1}{2}(a + b) \cot \frac{1}{2}C$$

$$(2) \tan \frac{1}{2}(A - B) = \sin \frac{1}{2}(a - b) \csc \frac{1}{2}(a + b) \cot \frac{1}{2}C$$

$$\text{Para } c: (3) \tan \frac{1}{2}c = \tan \frac{1}{2}(a - b) \sin \frac{1}{2}(A + B) \csc \frac{1}{2}(A - B)$$

	(1)	(2)	(3)
$\frac{1}{2}(a - b) = 45^{\circ}51,5'$	l cos 9,84288	l sen 9,85590	l tan 0,01302
$\frac{1}{2}(a + b) = 81^{\circ}58,5'$	l sec 0,85510	l csc 0,00427	
$\frac{1}{2}C = 24^{\circ}13,0'$	l cot 0,34701	l cot 0,34701	
$\frac{1}{2}(A + B) = 84^{\circ}50,9'$	l tan 1,04499		l sen 9,99824
$\frac{1}{2}(A - B) = 58^{\circ}10,5'$		l tan 0,20718	l csc 0,07075
$A = 143^{\circ}1,4'$			
$B = 26^{\circ}40,4'$			
$\frac{1}{2}c = 50^{\circ}22,7'$			l tan 0,08201
$c = 100^{\circ}45,4'$			

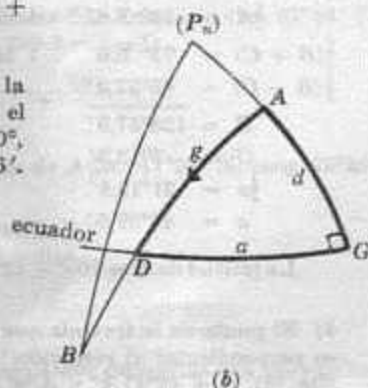


La distancia buscada es  $100^{\circ}45,4' = 6045,4' = 6045,4$  millas. El rumbo de salida es S  $(180^{\circ} - 143^{\circ}1,4')$  O = S  $36^{\circ}58,6'$  O ó  $360^{\circ} - 143^{\circ}1,4' = 216^{\circ}58,6'$  y el rumbo de llegada es S  $26^{\circ}40,4'$  O ó  $180^{\circ} + 26^{\circ}40,4' = 206^{\circ}40,4'$ .

b) Denomínese  $D$  la intersección del recorrido y el ecuador, y  $G$  la intersección del meridiano que pasa por  $A$  y el ecuador. Considérese el triángulo esférico rectángulo  $AGD$  de la Fig. (b) en el que  $G = 90^{\circ}$ ,  $d = \text{arc } GA = 53^{\circ}53,0'$  y  $A = \angle DAG = 180^{\circ} - 143^{\circ}1,4' = 36^{\circ}58,6'$ .

Para  $a$ : (4)  $\tan a = \text{sen } d \tan A$   
 Para  $D$ : (5)  $\cos D = \cos d \text{ sen } A$   
 Para  $g$ : (6)  $\tan g = \tan d \text{ sec } A$

	(4)	(5)	(6)
$d = 53^{\circ}53,0'$	l sen 9,90731	l cos 9,77043	l tan 0,13688
$A = 36^{\circ}58,6'$	l tan 9,87675	l sen 9,77923	l sec 0,09752
$a = 31^{\circ}18,5'$	l tan 9,78406		
$D = 69^{\circ}14,1'$		l cos 9,54966	
$g = 59^{\circ}45,7'$			l tan 0,23440

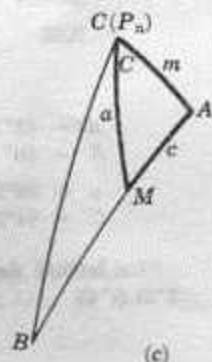


La longitud de  $D$  es  $166^{\circ}35,0' + 31^{\circ}18,5' = 197^{\circ}53,5'$  O =  $162^{\circ}6,5'$  E.  
 El rumbo desde  $D$  es S  $(90^{\circ} - 69^{\circ}14,1')$  O = S  $20^{\circ}45,9'$  O ó  $200^{\circ}45,9'$ .  
 La distancia entre  $D$  y Dutch Harbor es  $59^{\circ}45,7' = 3585,7' = 3585,7$  millas.

c) Denomínese  $M$  el punto del recorrido cuya longitud es  $180^{\circ}$  y considérese el triángulo esférico  $AMC$  de la Fig. (c) en el que  $C = 180^{\circ} - 166^{\circ}35,0' = 13^{\circ}25,0'$ .

Para  $a, c$ : (7)  $\tan \frac{1}{2}(a + c) = \cos \frac{1}{2}(A - C) \text{ sec } \frac{1}{2}(A + C) \tan \frac{1}{2}m$   
 (8)  $\tan \frac{1}{2}(a - c) = \text{sen } \frac{1}{2}(A - C) \text{ csc } \frac{1}{2}(A + C) \tan \frac{1}{2}m$   
 Para  $M$ : (9)  $\cot \frac{1}{2}M = \text{sen } \frac{1}{2}(a + c) \text{ csc } \frac{1}{2}(a - c) \tan \frac{1}{2}(A - C)$

	(7)	(8)	(9)
$\frac{1}{2}(A - C) = 64^{\circ}48,2'$	l cos 9,62913	l sen 9,95656	l tan 0,32745
$\frac{1}{2}(A + C) = 78^{\circ}13,2'$	l sec 0,69004	l csc 0,00924	
$\frac{1}{2}m = 18^{\circ}3,5'$	l tan 9,51328	l tan 9,51328	
$\frac{1}{2}(a + c) = 34^{\circ}12,7'$	l tan 9,83245		l sen 9,74993
$\frac{1}{2}(a - c) = 16^{\circ}46,3'$		l tan 9,47910	l csc 0,53976
$a = 50^{\circ}59,0'$			
$c = 17^{\circ}26,4'$			
$\frac{1}{2}M = 13^{\circ}34,5'$			l cot 0,61714
$M = 27^{\circ}9,0'$			



La latitud de  $M$  es  $(90^{\circ} - a)$  N =  $39^{\circ}1,0'$  N. El rumbo desde  $M$  es S  $27^{\circ}9,0'$  O ó  $207^{\circ}9,0'$  y la distancia entre  $M$  y Dutch Harbor es  $17^{\circ}26,4' = 1046,4$  millas.

11. Un buque parte de Nueva York (lat.  $40^{\circ}48,6' N$ , long.  $73^{\circ}57,5' O$ ) para efectuar una travesía a lo largo de una circunferencia máxima. El rumbo de salida es  $36^{\circ}0,0'$ . (a) Encontrar la latitud y la longitud de su posición  $B$  cuando ha recorrido 500 millas. (b) Localizar el punto de la travesía que se encuentra más hacia el norte.

a) En la Fig. (a),  $A$  es Nueva York. Entonces,  $b = 90^{\circ} - 40^{\circ}48,6' = 49^{\circ}11,4'$ ,  
 $c = 500$  millas  $= 8^{\circ}20,0'$  y  $A = 36^{\circ}0,0'$ .

Para  $C$ : (1)  $\tan \frac{1}{2}(B + C) = \cos \frac{1}{2}(b - c) \sec \frac{1}{2}(b + c) \cot \frac{1}{2}A$

(2)  $\tan \frac{1}{2}(B - C) = \sin \frac{1}{2}(b - c) \csc \frac{1}{2}(b + c) \cot \frac{1}{2}A$

Para  $a$ : (3)  $\tan \frac{1}{2}a = \tan \frac{1}{2}(b - c) \sin \frac{1}{2}(B + C) \csc \frac{1}{2}(B - C)$

	(1)	(2)	(3)
$\frac{1}{2}(b - c) = 20^{\circ}25,7'$	$1 \cos 9,97179$	$1 \sin 9,54287$	$1 \tan 9,57108$
$\frac{1}{2}(b + c) = 28^{\circ}45,7'$	$1 \sec 0,05819$	$1 \csc 0,31770$	
$\frac{1}{2}A = 18^{\circ}0,0'$	$1 \cot 0,48822$	$1 \cot 0,48822$	
$\frac{1}{2}(B + C) = 73^{\circ}5,6'$	$1 \tan 0,51720$		$1 \sin 9,98081$
$\frac{1}{2}(B - C) = 65^{\circ}52,3'$		$1 \tan 0,34879$	$1 \csc 0,03970$
$B = 138^{\circ}57,9'$			
$C = 7^{\circ}13,3'$			
$\frac{1}{2}a = 21^{\circ}19,8'$			$1 \tan 9,59159$
$a = 42^{\circ}39,6'$			



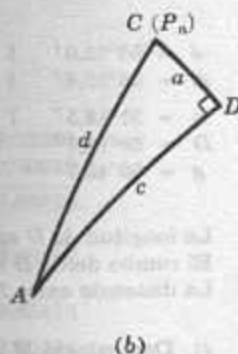
La latitud de  $B$  es  $(90^{\circ} - 42^{\circ}39,6') N = 47^{\circ}20,4' N$  y la longitud es  $(73^{\circ}57,5' - 7^{\circ}13,3') O = 66^{\circ}44,2' O$ .

- b) El punto de la travesía que se encuentra más al norte es  $D$ , cuyo meridiano es perpendicular al recorrido. En el triángulo esférico rectángulo  $ACD$  de la Fig. (b),  $d = 49^{\circ}11,4'$  y  $A = 36^{\circ}0,0'$ .

Para  $a$ : (4)  $\sin a = \sin d \sin A$

Para  $C$ : (5)  $\tan C = \sec d \cot A$

	(4)	(5)
$d = 49^{\circ}11,4'$	$1 \sin 9,87902$	$1 \sec 0,18472$
$A = 36^{\circ}0,0'$	$1 \sin 9,76922$	$1 \cot 0,13874$
$a = 26^{\circ}24,9'$	$1 \sin 9,64824$	
$C = 64^{\circ}36,0'$		$1 \tan 0,32346$



La latitud de  $D$  es  $(90^{\circ} - 26^{\circ}24,9') N = 63^{\circ}35,1' N$  y la longitud es  $(73^{\circ}57,5' - 64^{\circ}36,0') O = 9^{\circ}21,5' O$ .

## PROBLEMAS PROPUESTOS

### NAVEGACION A LARGO DE UN PARALELO.

12. Un barco navega 200 millas hacia el este a lo largo del paralelo de latitud  $42^{\circ} N$ . ¿Cuál es la longitud del punto de llegada si (a) parte de la longitud  $125^{\circ} O$ , (b) parte de la longitud  $160^{\circ} E$ ?  
 Resp. a)  $120^{\circ}30,9' O$ . b)  $164^{\circ}29,1' E$
13. Un barco navega hacia el oeste en la latitud  $42^{\circ} N$  hasta que alcanza una diferencia de longitud de  $3^{\circ}45'$ . Encontrar la "departure". Resp. 167,2 millas O
14. Un barco navega hacia el oeste en la latitud  $22^{\circ} N$  hasta que alcanza una diferencia de longitud de  $3^{\circ}45'$ . Encontrar la "departure". Resp. 208,6 millas O

## NAVEGACION EN UN PLANO.

15. Un barco navega 125 millas con un rumbo de  $42^{\circ}40'$  a partir de  $A$  (lat.  $40^{\circ}N$ ). Encontrar la "departure" y la latitud alcanzada. Resp.  $p = 84,7$  millas E, lat. =  $41^{\circ}32'N$
16.  $B$  se encuentra a 125 millas al oeste y a 90 millas al norte de  $A$ . Encontrar la distancia y el rumbo para navegar desde  $A$  hasta  $B$ . Resp.  $d = 154,0$  millas, rumbo =  $N 54^{\circ}15' O$

## NAVEGACION POR LATITUD MEDIA.

17. Un navío sale de  $A$  (lat.  $35^{\circ}38'N$ , long.  $64^{\circ}55'O$ ) y navega 175 millas con un rumbo de  $S 50^{\circ}E$ . Encontrar la posición alcanzada  $B$ . Resp.  $B$  (lat.  $33^{\circ}46'N$ , long.  $62^{\circ}12'O$ )
18. Un buque parte de  $A$  (lat.  $45^{\circ}15'N$ , long.  $140^{\circ}38'O$ ) y llega a  $B$  (lat.  $48^{\circ}45'N$ , long.  $137^{\circ}12'O$ ). Encontrar el rumbo y la distancia. Resp.  $33^{\circ}47'$ , 252,7 millas E
19. Un aeroplano vuela desde San Diego (lat.  $32^{\circ}42'N$ , long.  $117^{\circ}10'O$ ) hasta San Francisco (lat.  $37^{\circ}48'N$ , long.  $122^{\circ}24'O$ ). Encontrar el rumbo y la distancia. Resp.  $320^{\circ}2'$ , 399,3 millas O

## ESTIMA.

20. Encontrar el rumbo directo y la posición final  $B$  si un buque, que parte de  $A$  (lat.  $47^{\circ}24'N$ , long.  $75^{\circ}45'O$ ), sigue los siguientes rumbos:
- a) rumbo  $189^{\circ}0'$ , distancia 35,0 millas; rumbo  $330^{\circ}0'$ , distancia 50,0 millas.  
b) rumbo  $225^{\circ}0'$ , distancia 105,0 millas; rumbo  $50^{\circ}0'$ , distancia 125,0 millas.  
Resp. a)  $285^{\circ}55'$ ;  $47^{\circ}33'N$ ,  $76^{\circ}30'O$   
b)  $73^{\circ}59'$ ;  $47^{\circ}30'N$ ,  $75^{\circ}13'O$
21. Un barco que parte de  $A$  (lat.  $40^{\circ}50'N$ , long.  $125^{\circ}0'O$ ) y recorre las siguientes distancias con los rumbos indicados:

Rumbo	$35^{\circ}30'$	$130^{\circ}0'$	$255^{\circ}0'$	$340^{\circ}30'$	$110^{\circ}30'$
Distancia	30,0	45,0	100,0	40,0	30,0

Encontrar el rumbo directo y la posición final  $B$ .

Resp.  $96^{\circ}6'$ ;  $40^{\circ}47'N$ ,  $124^{\circ}20'O$

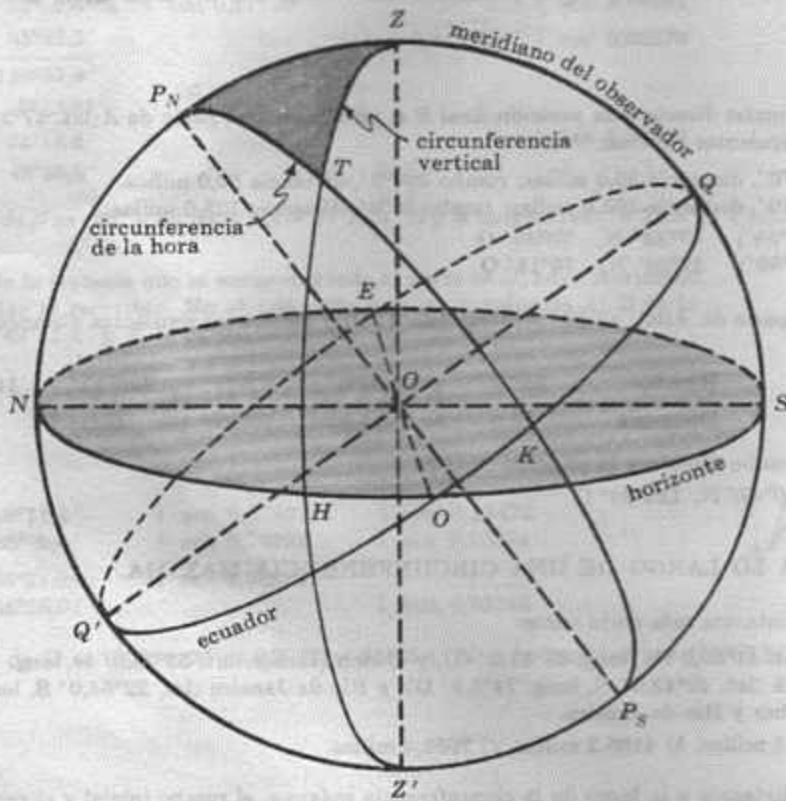
## NAVEGACION A LO LARGO DE UNA CIRCUNFERENCIA MAXIMA.

22. Encontrar la distancia más corta entre:
- a) Chicago (lat.  $41^{\circ}50,0'N$ , long.  $87^{\circ}37,0'O$ ), y Dutch Harbor (lat.  $53^{\circ}54,0'N$ , long.  $166^{\circ}30,0'O$ ),  
b) Nueva York (lat.  $40^{\circ}43,0'N$ , long.  $74^{\circ}0,0'O$ ), y Río de Janeiro (lat.  $22^{\circ}54,0'S$ , long.  $43^{\circ}11,0'O$ ),  
c) Dutch Harbor y Río de Janeiro.  
Resp. a) 3085,5 millas, b) 4186,2 millas, c) 7666,4 millas
23. Encontrar la distancia a lo largo de la circunferencia máxima, el rumbo inicial y el rumbo de llegada de un vuelo desde Washington (lat.  $38^{\circ}55,0'N$ , long.  $77^{\circ}4,0'O$ ) hasta Moscú (lat.  $55^{\circ}45,0'N$ , long.  $37^{\circ}34,0'E$ ). Resp. 4219,6 millas,  $32^{\circ}54,6'$ ,  $131^{\circ}18,8'$
24. Encontrar la distancia a lo largo de la circunferencia máxima, el rumbo inicial y el rumbo de llegada de un vuelo desde Calcuta (lat.  $22^{\circ}35,0'N$ , long.  $88^{\circ}27,0'E$ ) hasta Melbourne (lat.  $37^{\circ}48,0'S$ , long.  $144^{\circ}58,0'E$ ). Resp. 4822,6 millas,  $221^{\circ}56,7'$ ,  $231^{\circ}21,5'$
25. Localizar el punto del recorrido del problema 24 en que la travesía corta el ecuador y encontrar su distancia desde Calcuta. Resp. long.  $107^{\circ}29,4'E$ , 1752,8 millas
26. Un aeroplano sale de Honolulu (lat.  $21^{\circ}18,0'N$ , long.  $157^{\circ}52,0'O$ ) con un rumbo  $40^{\circ}43,0'$ .
- a) Localizar el punto del recorrido más próximo al polo norte.  
b) Encontrar la posición cuando la longitud es  $74^{\circ}0,0'O$ .  
Resp. a) lat.  $52^{\circ}34,4'N$ , long.  $85^{\circ}13,6'O$   
b) lat.  $52^{\circ}2,3'N$

## La esfera celeste

A UN OBSERVADOR SITUADO EN LA SUPERFICIE DE LA TIERRA le parece que se encuentra en el centro de una esfera de radio ilimitado en la que todos los otros cuerpos celestes se mueven de este a oeste. Tal esfera, de radio ilimitado pero con centro en el centro de la Tierra, es útil para resolver ciertos problemas de astronomía y navegación. A esta esfera se le da el nombre de *esfera celeste*.

Para localizar un cuerpo sobre la esfera celeste (más precisamente, para ubicar el punto donde una recta trazada desde el centro de la Tierra y que pasa por el centro del cuerpo celeste corta la esfera celeste) son necesarios ciertos puntos de referencia y circunferencias máximas.



Los puntos y circunferencias máximas independientes del observador son:

- 1) Los polos celestes  $P_N$  y  $P_S$ , que son los puntos de intersección del eje de la Tierra y la esfera celeste.
- 2) El ecuador celeste  $EQQ'$ , que es la intersección del plano del ecuador terrestre y la esfera celeste.
- 3) Los meridianos celestes que son las semi-circunferencias máximas que pasan por  $P_N$  y  $P_S$ .

Los puntos y circunferencias máximas que dependen de la posición del observador son:

- 1) El *cenit* (del observador) que es el punto  $Z$  de la esfera celeste situado directamente sobre el observador.
- 2) El *nadir* (del observador) que es el punto  $Z'$  diametralmente opuesto a  $Z$ . (Obsérvese que  $Z$  y  $Z'$  son los puntos de intersección de la esfera celeste y la recta que pasa por la posición del observador y por el centro de la Tierra.)
- 3) El *horizonte* (del observador) que es la circunferencia máxima  $NESO$  cuyo polo es  $Z$ .
- 4) El *meridiano celeste* (del observador) que es el meridiano  $P_N Z P_S$  que pasa por el cenit.

Dado un cuerpo celeste  $T$ :

- 1) La *circunferencia vertical* de  $T$  es la semi-circunferencia máxima  $ZTHZ'$ , donde  $H$  es su intersección con el horizonte.
- 2) La *altitud* de  $T$  es su distancia angular al horizonte. La altitud (arc  $HT$ ) es  $+ o -$  según la posición de  $T$  arriba o abajo del horizonte.
- 3) La *distancia cenital* de  $T$  es  $90^\circ -$  la altitud de  $T$ .
- 4) El *acimut* de  $T$  es el ángulo  $P_N ZT$  entre el meridiano del observador y la circunferencia vertical de  $T$ . Se mide, generalmente, a lo largo del horizonte desde el punto norte  $N$ , hacia el este, hasta  $H$ . Si el cuerpo se encuentra hacia el este, el acimut es  $< 180^\circ$ ; si se encuentra hacia el oeste, es  $> 180^\circ$ .
- 5) La *circunferencia de la hora* de  $T$  es la semi-circunferencia máxima  $P_N TKP_S$ , donde  $K$  es su intersección con el ecuador.
- 6) La *declinación* de  $T$  es su distancia angular al ecuador. La declinación (arc  $KT$ ) es  $+ o -$  según  $T$  se encuentre al norte o al sur del ecuador.
- 7) La *distancia polar* de  $T$  es  $90^\circ -$  la declinación de  $T$ .
- 8) El *ángulo de la hora* de  $T$  es el ángulo  $ZP_N T$  entre el meridiano del observador y la circunferencia de la hora de  $T$ . Se mide hacia el oeste desde  $0^\circ$  hasta  $360^\circ$ .

Debido a la rotación de la Tierra, una circunferencia de la hora parece variar  $15^\circ$  cada hora; por esta razón, el ángulo de la hora se puede medir en unidades de tiempo desde  $0^h$  hasta  $24^h$ .

**SISTEMAS DE COORDENADAS.** En el *sistema horizontal*, los ejes son el horizonte (del observador) y la circunferencia vertical del cuerpo celeste  $T$ . Las coordenadas de  $T$  son:

la altitud,  $HT$ , medida por un sextante o un teodolito;  
el acimut,  $\angle P_N ZT$  o arco  $NEH$ , medido por una brújula.

En el *sistema ecuatorial*, los ejes son el ecuador celeste y la circunferencia de la hora de  $T$ . Las coordenadas de  $T$  son:

la declinación  $KT$  y el ángulo de la hora  $\angle ZP_N T$ .

En el Almanaque Náutico Americano (American Nautical Almanac) se encuentran las declinaciones de algunos cuerpos celestes, así como los respectivos ángulos de la hora calculados para un observador situado en el meridiano de Greenwich.

**EL TRIANGULO ASTRONÓMICO** de un cuerpo celeste  $T$  es el triángulo esférico (celeste)  $P_N ZT$  determinado por el meridiano del observador  $P_N Z$ , la circunferencia de la hora  $P_N T$ , y la circunferencia vertical  $ZT$ . Las partes de este triángulo son:

- 1) lado  $TZ =$  distancia cenital de  $T = 90^\circ -$  la altitud de  $T$ ,



- 2) lado  $TP_N$  = distancia polar de  $T$  =  $90^\circ$  - la declinación de  $T$ ,
- 3) lado  $ZP_N$  = colatitud del observador =  $90 - QZ$   
 =  $90^\circ$  - latitud del observador (en el hemisferio norte)  
 =  $90^\circ +$  latitud del observador (en el hemisferio sur),
- 4) ángulo  $P_N ZT$  = acimut de  $T$ , si  $T$  se encuentra al este del meridiano del observador,  
 =  $360^\circ$  - acimut de  $T$ , si  $T$  se encuentra al oeste del meridiano del observador,
- 5) ángulo  $ZP_N T$  = ángulo de la hora de  $T$ , si  $T$  se encuentra al oeste del meridiano del observador  
 =  $360^\circ$  - ángulo de la hora de  $T$ , si  $T$  se encuentra al este del meridiano del observador,
- 6) ángulo  $ZTP_N$ , que no es de especial importancia.

**HORA SOLAR.** El *mediodía local solar* de un observador ocurre cuando el centro del Sol se encuentra sobre el meridiano del observador,  $\angle ZP_N T = 0^\circ$ .

La *hora aparente local* del observador en un momento cualquiera es  $12^h - \angle ZP_N T$  (del triángulo astronómico) cuando el Sol se encuentra hacia el este, y  $12^h + \angle ZP_N T$  cuando el Sol se encuentra hacia el oeste.

**EJEMPLO 1.** Encontrar la hora aparente local de Nueva York (lat.  $40^\circ 42,0' N$ ) en el momento (a) de la mañana y (b) de la tarde en que la altitud del Sol es  $34^\circ 32,0'$  y su declinación es  $+12^\circ 54,0'$ .

En el triángulo astronómico,  $TZ = 90^\circ -$  altitud =  $55^\circ 28,0'$ ,  
 $TP_N = 90^\circ -$  declinación =  $77^\circ 6,0'$  y  $ZP_N = 90^\circ -$  latitud =  $49^\circ 18,0'$ .

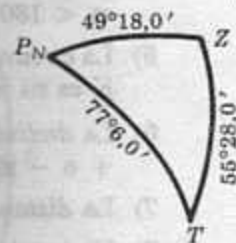
Según el ejemplo 1 del capítulo 22,  $ZP_N T = 55^\circ 14,5' = 3^h 40^m 58^s$ .

a) Por la mañana, la hora aparente local es

$$12^h - 3^h 40^m 58^s = 8^h 19^m 2^s = 8:19:2 \text{ AM.}$$

b) Por la tarde, la hora aparente local es

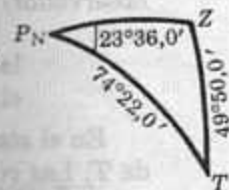
$$12^h + 3^h 40^m 58^s = 15^h 40^m 58^s = 3:40:58 \text{ PM.}$$



**LATITUD DE UN OBSERVADOR.** Cuando se conocen la altitud, la declinación y el ángulo de la hora (o acimut) de un cuerpo celeste, se puede calcular la latitud del observador mediante la resolución del triángulo astronómico.

**EJEMPLO 2.** Encontrar la latitud de un observador situado en el hemisferio norte si, cuando su hora aparente local es  $10:25:36$  AM, la altitud del Sol es  $40^\circ 10,0'$  y su declinación es  $+15^\circ 38,0'$ .

En el triángulo astronómico,  $TZ = 49^\circ 50,0'$ ,  $TP_N = 74^\circ 22,0'$ ,  
 y  $\angle ZP_N T = 12^h - 10^h 25^m 36^s = 1^h 34^m 24^s = 23^\circ 36,0'$ . Este es un triángulo del caso V en el que se busca el lado  $ZP_N$ .



$$\text{sen } P_N ZT = \text{sen } TP_N \text{ csc } TZ \text{ sen } ZP_N T$$

$$\tan \frac{1}{2} ZP_N = \text{sen } \frac{1}{2} (P_N ZT + ZP_N T) \text{ csc } \frac{1}{2} (P_N ZT - ZP_N T) \tan \frac{1}{2} (TP_N - TZ)$$

$TP_N = 74^\circ 22,0'$	1 sen 9,98363	$\frac{1}{2} (P_N ZT + TZ_N P) = 86^\circ 39,0'$	1 sen 9,99926
$TZ = 49^\circ 50,0'$	1 csc 0,11681	$\frac{1}{2} (P_N ZT - TZ_N P) = 63^\circ 3,0'$	1 csc 0,04998
$ZP_N T = 23^\circ 36,0'$	1 sen 9,60244	$\frac{1}{2} (TP_N - TZ) = 12^\circ 16,0'$	1 tan 9,33731
$*P_N ZT = 149^\circ 42,0'$	1 sen 9,70288	$\frac{1}{2} ZP_N = 13^\circ 41,1'$	1 tan 9,38650
		$ZP_N = 27^\circ 22,2'$	

\*La figura evidencia que  $\angle P_N ZT = 30^\circ 18,0'$  cuando el observador está en el hemisferio sur, y que es  $180^\circ - 30^\circ 18,0' = 149^\circ 42,0'$  cuando el observador está en el hemisferio norte.

La latitud del observador es  $90^\circ - ZP_N = 62^\circ 37,8' N$ .

PROBLEMAS RESUELTOS

1. Encontrar el acimut del Sol y la hora aparente local de Washington, D.C. (lat.  $38^{\circ}55,0' N$ ) en el momento de la tarde en que la altitud del Sol es  $25^{\circ}40,0' N$  y su declinación es  $-19^{\circ}15,0'$ .

En el triángulo astronómico,  $TZ = 90^{\circ}$  - la altitud del Sol =  $64^{\circ}20,0'$ ,  $TP_N = 90^{\circ}$  - la declinación del Sol =  $109^{\circ}15,0'$  y  $ZP_N = 90^{\circ}$  - la latitud del observador =  $51^{\circ}5,0'$ .

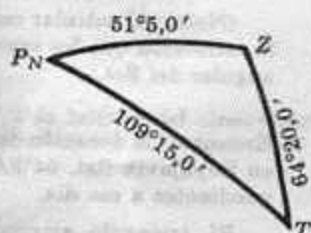
Solución normal.

$$(1) \tan r = \frac{\sqrt{\frac{\text{sen}(s - TZ) \text{sen}(s - TP_N) \text{sen}(s - ZP_N)}{\text{sen } s}}}}{\text{sen } s} \quad s = \frac{1}{2}(TZ + TP_N + ZP_N)$$

$$(2) \tan \frac{1}{2} ZP_N T = \frac{\tan r}{\text{sen}(s - TZ)}$$

$$(3) \tan \frac{1}{2} P_N ZT = \frac{\tan r}{\text{sen}(s - TP_N)}$$

	(1)	
$TZ = 64^{\circ}20,0'$	$s - TZ = 48^{\circ} 0,0'$	l sen 9,87107
$TP_N = 109^{\circ}15,0'$	$s - TP_N = 3^{\circ} 5,0'$	l sen 8,73069
$ZP_N = 51^{\circ} 5,0'$	$s - ZP_N = 61^{\circ}15,0'$	l sen 9,94286
$2s = 224^{\circ}40,0'$	$s = 112^{\circ}20,0'$	l csc 0,03386
$s = 112^{\circ}20,0'$		2 8,57848
	$r$	l tan 9,28924



(2)	
l tan r	9,28924
l sen(s - TZ)	9,87107
l tan $\frac{1}{2} ZP_N T$	9,41817
$\frac{1}{2} ZP_N T$	$14^{\circ}40,6'$
$ZP_N T$	$29^{\circ}21,2'$
	$= 1^{\text{h}}57^{\text{m}}25^{\text{s}}$

(3)	
l tan r	9,28924
l tan(s - TP_N)	8,73069
l tan $\frac{1}{2} P_N ZT$	0,55855
$\frac{1}{2} P_N ZT$	$74^{\circ}33,1'$
$P_N ZT$	$149^{\circ} 6,2'$

Cuando el Sol está al oeste, el acimut es  $360^{\circ} - P_N ZT = 210^{\circ}53,8'$  y la hora aparente local es 1:57:25 PM.

Solución por el semisenverso.  $s = \frac{1}{2}(TZ + TP_N + ZP_N)$

$$(1) \text{ssv } P_N ZT = \text{sen}(s - TZ) \text{sen}(s - ZP_N) \text{csc } TZ \text{csc } ZP_N$$

$$(2) \text{ssv } ZP_N T = \text{sen}(s - TP_N) \text{sen}(s - ZP_N) \text{csc } TP_N \text{csc } ZP_N$$

	(1)	(2)
$s - TZ = 48^{\circ} 0,0'$	l sen 9,87107	
$s - TP_N = 3^{\circ} 5,0'$		l sen 8,73069
$s - ZP_N = 61^{\circ}15,0'$	l sen 9,94286	l sen 9,94286
$TZ = 64^{\circ}20,0'$	l csc 0,04512	
$TP_N = 109^{\circ}15,0'$		l csc 0,02499
$ZP_N = 51^{\circ} 5,0'$	l csc 0,10899	l csc 0,10899
$P_N ZT = 149^{\circ} 6,2'$	l ssv 9,96804	
$ZP_N T = 29^{\circ}21,3'$		l ssv 8,80753
		$= 1^{\text{h}}57^{\text{m}}25^{\text{s}}$

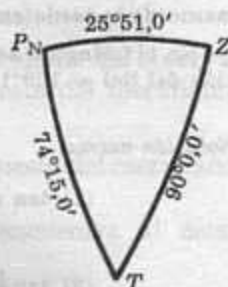
El acimut es  $210^{\circ}53,8'$  y la hora aparente local es 1:57:25 PM, como antes.

2. Encontrar la hora aparente local de Reykjavik, Islandia, (lat.  $64^{\circ}9,0' N$ ) y el acimut del Sol en el momento del orto y del ocaso, cuando la declinación del Sol es  $+15^{\circ}45,0'$ .

En el triángulo astronómico,  $TP_N = 74^{\circ}15,0'$ ,  $ZP_N = 25^{\circ}51,0'$ , y como a la salida y a la puesta del Sol, el centro del astro se encuentra en el horizonte,  $TZ = 90^{\circ}$ . Su triángulo polar  $Z'P'T'$  es un triángulo esférico rectángulo en el que  $\angle Z' = 105^{\circ}45,0'$ ,  $\angle T' = 154^{\circ}9,0'$ ,  $\angle P' = 90^{\circ}$ .

$$(1) \cos p' = \cot T' \cot Z' \quad (2) \cos z' = \csc T' \cos Z'$$

	(1)	(2)
$T' = 154^{\circ}9,0'$	$l \cot 0,31471 (n)$	$l \csc 0,36050$
$Z' = 105^{\circ}45,0'$	$l \cot 9,45029 (n)$	$l \cos 9,43367 (n)$
$p' = 54^{\circ}24,1'$	$l \cos 9,76500$	
$z' = 128^{\circ}30,1'$		$l \cos 9,79417 (n)$



Entonces,  $\angle ZP_N T = 125^{\circ}35,9' = 8^h 22^m 24^s$  y  $\angle P_N Z T = 51^{\circ}29,9'$ . A la salida del Sol, la hora aparente local =  $12^h - 8^h 22^m 24^s = 3:37:36$  AM y el acimut del Sol es  $51^{\circ}29,9'$ . A la puesta del Sol, la hora aparente local es  $8:22:24$  PM y el acimut es  $360^{\circ} - 51^{\circ}29,9' = 308^{\circ}30,1'$ .

(Nota. Al calcular cualquier hora aparente local es necesario hacer una corrección para compensar la refracción que los rayos del Sol sufren en la atmósfera terrestre y para compensar, además, el radio angular del Sol.)

3. Encontrar la duración del día más corto del año (declinación del Sol  $-23^{\circ}27,7'$ ) en Reykjavik (lat.  $64^{\circ}9,0' N$ ) y el acimut del Sol en el orto y el ocaso correspondientes a ese día.

El triángulo astronómico es cuadrangular con  $TP_N = 113^{\circ}27,7'$ ,  $ZP_N = 25^{\circ}51,0'$  y  $ZT = 90^{\circ}$ . Al resolver el triángulo polar  $Z'P'T'$  en el que  $T' = 154^{\circ}9,0'$  y  $Z' = 66^{\circ}32,3'$  como en el problema 2, se encuentra que  $p' = 153^{\circ}36,7'$  y  $z' = 24^{\circ}3,5'$ .

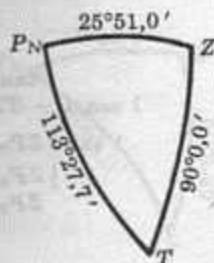
Entonces, en el triángulo cuadrangular,  $ZP_N T = 26^{\circ}23,3' = 1^h 45^m 33^s$  y  $P_N Z T = 155^{\circ}56,5'$ .

La hora aparente local de la salida del Sol es  $12^h - 1^h 45^m 33^s = 10:14:27$  AM y la de la puesta del Sol es  $1:45:33$  PM.

La duración del día más corto es  $2(1^h 45^m 33^s) = 3^h 31^m 6^s$ .

El acimut del Sol es  $155^{\circ}56,5'$  a la salida, y  $360^{\circ} - 155^{\circ}56,5' = 204^{\circ}3,5'$  a la puesta.

(Nota. La duración del día más largo del año es  $24^h - 3^h 31^m 6^s = 20^h 28^m 54^s$ .)



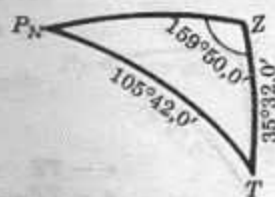
4. Encontrar la latitud de un observador situado en el hemisferio norte cuando la altitud del Sol es  $54^{\circ}28,0'$ , la declinación es  $-15^{\circ}42,0'$  y el acimut es  $200^{\circ}10,0'$ .

En el triángulo astronómico,  $TZ = 35^{\circ}32,0'$ ,  $TP_N = 105^{\circ}42,0'$  y  $P_N Z T = 360^{\circ} - 200^{\circ}10,0' = 159^{\circ}50,0'$  porque el Sol está hacia el oeste.

$$\text{sen } TP_N Z = \text{sen } P_N Z T \text{ sen } TZ \text{ csc } TP_N$$

$$\tan \frac{1}{2} ZP_N = \text{sen } \frac{1}{2} (P_N Z T + TP_N Z) \text{ csc } \frac{1}{2} (P_N Z T - TP_N Z) \tan \frac{1}{2} (TP_N - TZ)$$

$TZ = 35^{\circ}32,0'$	$l \text{ sen } 9,76431$	$\frac{1}{2} (P_N Z T + TP_N Z) = 85^{\circ}55,4'$	$l \text{ sen } 9,99890$
$TP_N = 105^{\circ}42,0'$	$l \text{ csc } 0,01651$	$\frac{1}{2} (P_N Z T - TP_N Z) = 73^{\circ}54,6'$	$l \text{ csc } 0,01736$
$P_N Z T = 159^{\circ}50,0'$	$l \text{ sen } 9,53751$	$\frac{1}{2} (TP_N - TZ) = 35^{\circ} 5,0'$	$l \text{ tan } 9,84657$
$TP_N Z = 12^{\circ} 0,8'$	$l \text{ sen } 9,31833$	$\frac{1}{2} ZP_N = 36^{\circ} 5,9'$	$l \text{ tan } 9,86283$
		$ZP_N = 72^{\circ}11,8'$	



Entonces, la latitud es  $90^{\circ} - 72^{\circ}11,8' = 17^{\circ}48,2' N$ .

## PROBLEMAS PROPUESTOS

5. Encontrar la hora aparente local y el acimut del Sol, por la mañana, en
- la latitud  $39^\circ$  N cuando la altitud del Sol es  $22^\circ$  y su declinación es  $+20^\circ$ ,
  - la latitud  $45^\circ 24'$  N cuando la altitud del Sol es  $24^\circ 12'$  y su declinación es  $+13^\circ 16'$ ,
  - la latitud  $25^\circ 14'$  N cuando la altitud del Sol es  $38^\circ 26'$  y su declinación es  $-18^\circ 16'$ .
- Resp.* a) 6:50 AM,  $81^\circ 31'$ , b) 7:25 AM,  $95^\circ 36'$ , c) 10:6 AM,  $144^\circ 43'$
6. Encontrar la hora aparente local y el acimut del Sol, por la tarde, en
- la latitud  $40^\circ 42'$  cuando la altitud del Sol es  $28^\circ 26'$  y su declinación es  $-8^\circ 16'$ ,
  - la latitud  $42^\circ 45'$  cuando la altitud del Sol es  $38^\circ 36'$  y su declinación es  $+18^\circ 27'$ .
- Resp.* a) 2:42 PM,  $227^\circ 3'$ , b) 3:36 PM,  $259^\circ 15'$
7. Encontrar la hora aparente local y la amplitud de la salida y la puesta del Sol correspondientes al día en que la declinación del Sol es  $+20^\circ 32'$  en
- Acapulco (lat.  $16^\circ 49'$  N). *Resp.* 5:34 AM,  $68^\circ 30'$ ; 6:26 PM,  $291^\circ 30'$
  - Fairbanks (lat.  $64^\circ 51'$  N). *Resp.* 2:28 AM,  $34^\circ 23'$ ; 9:32 PM,  $325^\circ 37'$
  - Harrisburg (lat.  $40^\circ 16'$  N). *Resp.* 4:46 AM,  $62^\circ 38'$ ; 7:14 PM,  $297^\circ 22'$
8. Encontrar la duración del día más largo del año (dec.  $+23^\circ 28'$ ) en
- Acapulco, b) Fairbanks. *Resp.* a)  $13^{\text{h}} 0^{\text{m}}$ , b)  $21^{\text{h}} 0^{\text{m}}$
9. La declinación de una estrella es  $+7^\circ 24'$ , el ángulo de la hora es  $48^\circ 51'$  y la latitud del observador es  $64^\circ 9'$  N. Encontrar el acimut de la estrella. *Resp.*  $234^\circ 36'$
10. ¿Cuál es la latitud en el hemisferio norte si
- a las 8:56 AM la altitud del Sol es  $36^\circ 18'$  y su declinación es  $+14^\circ 35'?$
  - a las 3 PM la altitud del Sol es  $24^\circ 42'$  y su declinación es  $-12^\circ 28'?$
  - a las 9:15 AM la altitud del Sol es  $35^\circ 23'$  y su declinación es  $-10^\circ 48'?$
  - a las 2:10 PM la altitud del Sol es  $23^\circ 26'$  y su declinación es  $+14^\circ 30'?$
  - la puesta del Sol del día más largo del año ocurre a las 10 PM?
- Resp.* a)  $54^\circ 58'$  N, b)  $37^\circ 22'$  N, c)  $26^\circ 18'$  N, d)  $79^\circ 18'$  N, e)  $63^\circ 23'$  N

## INDICE

- Abscisa, 8
- Acimut de un cuerpo celeste, 195
- Adición, fórmulas de la, 73
- Agudo, funciones de un ángulo, 19
- Altitud de un cuerpo celeste, 195
- Amplitud de la sinusoide, 64
- Angulo, 1
  - agudo, función de un, 19
  - asociado, 54
  - cofinal, 9
  - complementario, funciones de un, 19
  - coterminal, 9
  - cuadrático, 9
  - de depresión, 23, 30
  - de elevación, 22, 23, 30
  - diedro, 144
  - dirigido, 1
  - duplo, funciones de un, 73
  - esférico, 145
  - medida de un, 1
    - grado, 1
    - mil, 2
    - radián, 2
  - negativo, 1
  - posición normal de un, 9
  - positivo, 1
  - triedro, 144
- Angulo mitad, fórmulas, 73
  - en un triángulo esférico, 164
  - en un triángulo plano, 101
- Antilogaritmo, 42
- Ares, de un sector circular, 113
  - de un segmento circular, 113
  - de un triángulo esférico, 151
  - de un triángulo plano, 108
- Argumento de un número complejo, 135
  
- Características de los logaritmos comunes, 41
- Cenit, 195
- Cifras significativas, 27
- Circunferencia, circunscrita, radio de una, 108
  - de la hora, 195
  - inscrita, radio de una, 108
  - máxima, 147
  - menor, 147
  - unitaria, 61
  - vertical, 195
- Circunferencia máxima de una esfera, 145
- Circunferencia máxima, navegación por una, 186
- Circunscrita, radio de la circunferencia, 108
- Cofunción, 19
  
- Cologaritmo, 43
- Complementario, funciones de un ángulo, 19
- Componentes de un vector, 34
- Composición de curvas sinusoidales, 64
- Conjugado de un número complejo, 133
- Coordenadas rectangulares, 8
- Cosecante, definición de la, 9, 19
  - gráfica de la, 63
  - periodo de la, 63
  - representación de la, 61
- Coseno, definición del, 9, 19
  - gráfica del, 63
  - periodo del, 63
  - representación del, 61
- Coterminal, ángulos, 9, 54
- Cuadrantes, ley de los, 152
  
- Declinación, 195
- Delambre, analogías de, 165
- De Moivre, teorema de, 136
- "Departure", 184
- Depresión, ángulo de, 23, 30
- Diedro, ángulo, 144
- Distancia polar, 195
- Duplo, fórmulas del ángulo, 73
  
- Ecuaciones, de funciones trigonométricas, 124
  - de funciones trigonométricas inversas, 130
  - sistemas de, 129
- Ecuador, celeste, 194
  - terrestre, 147
- Ecuatorial, sistema, 195
- Elevación, ángulo de, 22, 23, 30
- Errores en los resultados obtenidos, 27
- Escala numérica, 8
- Esfera celeste, 194
- Esférico, ángulo, 145
  - esférico, triángulo, 145
    - área de un, 145
    - isósceles, 154, 160
    - oblicuángulo, 164, 176
    - rectángulo, 153
    - triángulo polar de un, 146
- Exactitud en los resultados obtenidos, 135
- Exceso esférico, 146
  
- Funciones periódicas, 63
- Funciones trigonométricas,
  - de ángulos especiales, 20, 22
  - de la diferencia de dos ángulos, 73
  - de la suma de dos ángulos, 73

## Funciones trigonométricas (Cont.)

- de un ángulo agudo, 19
- de un ángulo complementario, 19
- de un ángulo cualquiera, 9
- de un ángulo negativo, 54
- del ángulo duplo, 73
- del ángulo mitad, 73
- gráficas de las, 63
- relaciones fundamentales entre las, 67
- representaciones de las, 61
- signos de las, 10
- variaciones de las, 62

## Funciones trigonométricas inversas, 117

- ecuaciones que contienen, 130
- gráficas de las, 118
- valores generales de las, 119
- valores principales de las, 117

## Gauss, analogías de, 165

## Grado, 1

## Gráficas de las funciones trigonométricas, 63

- de las funciones trigonométricas inversas, 118

## Greenwich, meridiano de, 147

## Hora, ángulo de la, 195

- circunferencia de la, 195

## Horizonte, 195

## Identidades trigonométricas, 67

## Imaginaria, unidad, 133

## Inscrita, radio de la circunferencia, 108

## Isósceles, triángulos esféricos, 154

## Isósceles, triángulos planos, 29

## Latitud, 147, 196

## Ley de las tangentes, 100

## Ley de los cosenos,

- en los triángulos esféricos, 160
- en los triángulos planos, 89

## Ley de los cuadrantes,

- en los triángulos esféricos rectángulos, 152

## Ley de los senos,

- en los triángulos esféricos, 164
- en los triángulos planos, 87

## Logaritmos, 41

## Longitud, 147

## Longitud de un arco, 2

## Mantisa, 41

## Meridiano,

- celeste, 195
- principal, 147
- terrestre, 147

## Meridiano cero, 194

## Mil, 2

## Milla náutica, 147

## Minuto, 1

## Módulo de un número complejo, 135

## Mollweide, fórmulas de, 87

## Nadir, 195

## Navegación,

- a lo largo de un paralelo, 184

## Navegación (Cont.)

- en un plano, 185
- por latitud media, 185
- por una circunferencia máxima, 186

## Negativo, ángulo, funciones trigonométricas de un, 54

## Neper, analogías de, 165

## Neper, reglas de, 152

## Números complejos, 133

- forma polar de los, 135
- módulo de los, 135
- potencias y raíces de los, 136
- representación gráfica de los, 134

## Oblicuángulo, triángulo esférico, 164

## Oblicuángulo, triángulo plano, 87

## Ordenada, 8

## Origen, 8

## Paralelo de latitud, 147

## Paralelogramo, ley del, para la suma de vectores, 33, 134

## Periódicas, funciones, 63

## Pitagóricas, relaciones, 67

## Plano, navegación en un, 185

## Polar, triángulo, 146

## Polos,

- celestes, 194
- terrestres, 147

## Potencias de un número complejo, 136

## Proyección, fórmulas de la, 88

## Radián, 2

## Radio, de una circunferencia circunscrita, 108

- de una circunferencia inscrita, 108

## Radio vector de un punto, 9

## Raíces de números complejos, 136

## Rectangulares, coordenadas, 8

## Rectángulos, triángulos esféricos, 152

- solución de los, 153

## Rectángulos, triángulos planos,

- solución de los, 25, 49

## Reducciones de ángulos al primer cuadrante, 54

## Regla de los cuadrantes, 152

## Resolución de vectores, 34

## Resultante de dos vectores, 33

## Rumbo, 148

## Secante, definición de la, 9, 19

- gráfica de la, 63
- periodo de la, 63
- representación de la, 61

## Segundo, 1

## Semisenverso, fórmulas, 176

## Seno, definición del, 9, 19

- gráfica del, 63
- periodo del, 63
- representación, 61

## Senos, ley de los,

- en triángulos esféricos, 164
- en triángulos planos, 87

## Sinusoides, composición de, 64

## Suma de vectores, 33

- Sustracción, fórmulas de la, 73
- Tangente, definición de la, 9, 19  
gráfica de la, 63  
periodo de la, 63  
representación de la, 61
- Tangentes, ley de las, 100
- Triángulo astronómico, 195
- Triángulo esférico, 145  
área de un, 151  
isósceles, 154, 160  
oblicuángulo, 164, 176  
rectángulo, 152  
triángulo polar de un, 146
- Triángulo plano,  
área de un, 108  
oblicuángulo, 87, 100  
rectángulo, 25, 49
- Triedro, ángulo, 144
- Trigonómicas, ecuaciones, 124
- Trigonómicas, funciones,  
de ángulos especiales, 20, 22  
de la diferencia de dos ángulos, 73  
de la suma de dos ángulos, 73
- Trigonómicas, funciones (Cont.)  
de un ángulo agudo, 19  
de un ángulo complementario, 19  
de un ángulo cualquiera, 9  
de un ángulo negativo, 54  
del ángulo duplo, 73  
del ángulo mitad, 73  
gráficas de las, 63  
relaciones fundamentales entre las, 67  
representación de las, 61  
signos de las, 10  
variaciones de las, 62
- Trigonómicas, identidades, 67
- Valor absoluto de un número complejo, 135
- Valores generales de las funciones inversas, 119
- Variaciones de las funciones, 62
- Vectores, 32
- Velocidad respecto a la Tierra, 35
- Velocidad respecto al aire, 35
- Vértice, de un ángulo diedro, 144  
de un ángulo plano, 1  
de un ángulo triedro, 144
- Viento, vector del, 35



### SCHAUM – MATEMATICAS/ESTADISTICA

- Algebra elemental
- Algebra elemental moderna
- Algebra lineal
- Algebra superior
- Analisis de Fourier
- Analisis numerico
- Analisis vectorial
- Calculo diferencial e integral
- Calculo superior
- Ecuaciones diferenciales
- Ecuaciones diferenciales modernas
- Geometria descriptiva
- Geometria diferencial
- Geometria plana
- Geometria proyectiva
- Manual de formulas matematicas
- Matematicas aplicadas a la ciencia y a la tecnologia
- Matematicas financieras
- Matematicas finitas
- Matematicas superiores para ingenieros y cientificos
- Matrices
- Teoria de conjuntos y temas afines
- Teoria de grupos
- Topologia
- Transformadas de Laplace
- Trigonometria
- Variables complejas
- Variables reales
- Estadistica
- Estadistica aplicada a la administracion
- Probabilidad
- Probabilidad y estadistica

schaum-mcgraw-hill  
 schaum-mcgraw-hill  
 schaum-mcgraw-hill  
 schaum-mcgraw-hill  
 schaum-mcgraw-hill  
 schaum-mcgraw-  
 schaum-mcgraw-

